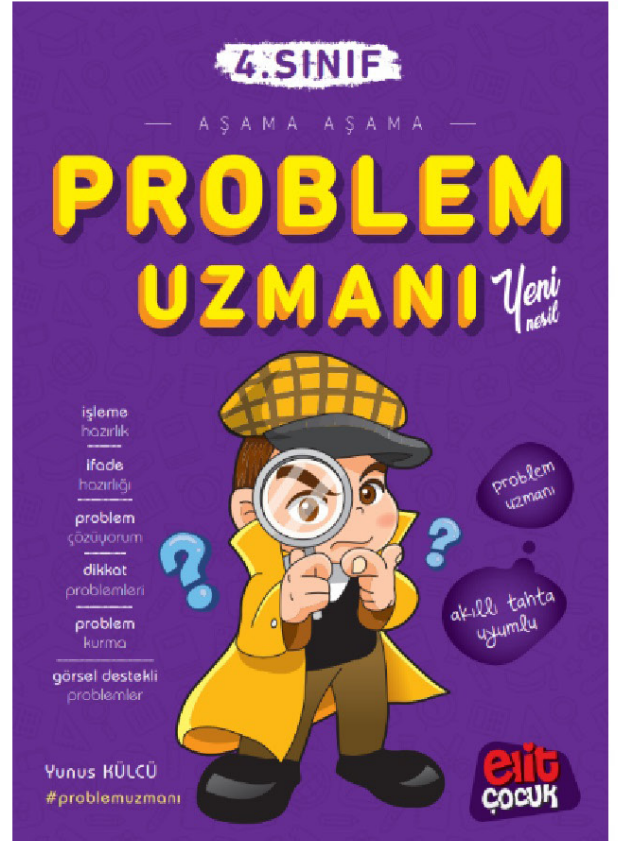
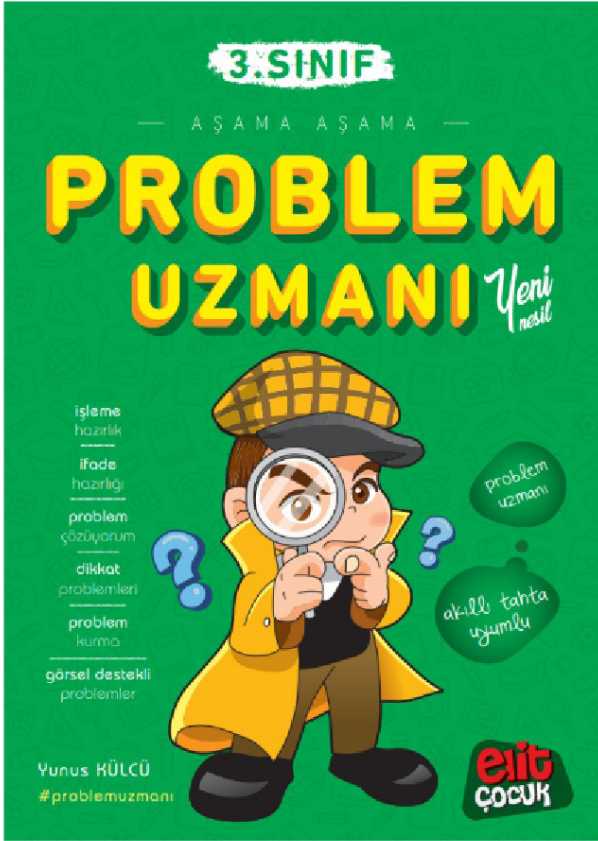



# 3.SINIF 1.DÖNEM GENEL TEKRAR ÇALIŞMASI 48 SAYFA

elitogretmen.com



# Haydi Başlayalım!



☞ Çocukları kardan adama ulaştıralım ve eğlenceye başlayalım.



⇒ Abaküslerde verilen sayıları, sayıların okunuşlarını ve basamak değerlerini yazarak tabloyu dolduralım.



264: iki yüz altmış dört

Yüzler basamağı: 200

Onlar basamağı: 60

Birler basamağı: 4



:

Onlar basamağı: .....

Yüzler basamağı: .....

Birler basamağı: .....



:

Birler basamağı: .....

Yüzler basamağı: .....

Onlar basamağı: .....



:

Onlar basamağı: .....

Yüzler basamağı: .....

Birler basamağı: .....



:

Yüzler basamağı: .....

Birler basamağı: .....

Onlar basamağı: .....



:

Yüzler basamağı: .....

Onlar basamağı: .....

Birler basamağı: .....

⇒ Aşağıdaki sayıları sembol kullanarak küçükten büyüğe sıralayalım.

➤ 219, 197, 183, 221, 188

➤

➤ 756, 734, 741, 719, 746

➤

➤ 442, 439, 448, 437, 426

➤

➤ 398, 379, 373, 384, 392

➤

⇒ Aşağıdaki sayıları sembol kullanarak büyükten küçüğe sıralayalım.

➤ 198, 156, 163, 147, 169

➤

➤ 542, 519, 502, 527, 533

➤

➤ 603, 634, 592, 599, 612

➤

➤ 956, 931, 948, 953, 936

➤

# FEN BİLİMLERİ

⇒ Emre, ailesiyle birlikte, tatilde dedesini ziyarete gidecek. Aşağıdaki ifadelerden doğru olanların başındaki harfleri kullanarak Emre'nin dedesinin oturduğu şehri bulalım. (Harfler karışık olarak verilmiştir.)

- D** Dünya düzdür ve evler, ağaçlar, denizler düz bir zeminin üzerinde durur.
- A** Dünya'nın şekli küreye benzemektedir.
- H** Macellan Dünya'nın çevresini gemileriyle dolaşarak Dünya'nın yuvarlak olduğunu kanıtlayan ilk denizcidir.
- U** Yukarı atılan bir nesnenin yere düşmesi Dünya'nın şekli nedeniyle.
- Ü** Dünya küre şeklinde olduğu için bir noktadan yola çıkıp hep aynı yönde seyahat ettiğimizde yine aynı yere varırız.
- T** Yer kabuğu deniz tabanları dahil tüm gezegeni kaplar.
- O** Dünya'nın Güneş etrafında döndüğünü ve yuvarlak olduğunu ileri süren ilk kişi Biruni'dir.
- A** Yer kabuğu Dünya'nın en dıştaki ince katmanıdır.
- Z** Dünya'nın en sıcak katmanı mantodur.
- Y** Çekirdek katmanı, iç ve dış olmak üzere iki kısımdan oluşur.
- K** Eski zamanlarda bazı insanlar, Dünya'nın öküzün boynuzları arasında olduğuna inanırdı.

Dedemin yaşadığı il:

--	--	--	--	--	--	--	--	--	--





# HAYAT BİLGİSİ

⇒ Aşağıdaki öğrencilerden güçlendirilmesi gereken yönlerinden bahsedenlerin ellerinde tuttıkları renkli kağıtlarda yazan harfleri kullanarak şifreyi çözelim.



Bisiklete binmeyi çok istiyorum ama bir türlü beceremiyorum.

Çok güzel resim yapabiliyorum ve şarkı söyleyebiliyorum.



Matematikte çok başarılıyım ve matematik işlemlerini kolaylıkla yapabiliyorum.



Müziğe karşı çok ilgiliyim ama hiçbir enstrüman çalamıyorum.



Dikkatim çok dağınık. Başladığım işlerin çoğu yarım kalıyor.

Futbol oynamakta çok başarılıyım. Büyüyünce futbolcu olmayı düşünüyorum.



İngilizce dersinde başarılı değilim. Onun için sınıftaki bir arkadaşımın yardım alıyorum.



Ne kadar istesem de yaptığım plana uyamıyorum. Hep ihmal ediyorum.

Şifre:

⇒ Aşağıdaki soruları yazarak cevaplayalım.

👉 21'den başlayıp ileriye üçer ritmik sayma yaparken 7. söylediğimiz sayı kaçtır?



👉 24'ten başlayıp ileriye altışar ritmik sayma yaparken 5. söylediğimiz sayı kaçtır?



👉 35'ten başlayıp ileriye yedişer ritmik sayma yaparken 6. söylediğimiz sayı kaçtır?



👉 72'den başlayıp geriye sekizer ritmik sayma yaparken 6. söylediğimiz sayı kaçtır?



👉 27'den başlayıp ileriye dokuzar ritmik sayma yaparken 5. söylediğimiz sayı kaçtır?



👉 63'ten başlayıp geriye yedişer ritmik sayma yaparken 7. söylediğimiz sayı kaçtır?



👉 16'dan başlayıp ileriye sekizer ritmik sayma yaparken 5. söylediğimiz sayı kaçtır?



👉 66'dan başlayıp geriye altışar ritmik sayma yaparken 8. söylediğimiz sayı kaçtır?



⇒ Aşağıdaki örüntüleri kurallarına uygun olarak üçer adım ilerletelim.

1 5 9 13

3 9 7 13

24 33 42 51

2 5 11 23

92 84 76 68

3 5 9 17

⇒ Aşağıdaki örüntülerde kuralı bozan sayıları bulalım ve yerine doğrularını yazalım.

56 - 49 - 43 - 35 - 28 - 21

14 - 18 - 17 - 21 - 19 - 24

155 - 165 - 185 - 215 - 265

71 - 68 - 65 - 61 - 59 - 56

17 - 21 - 25 - 29 - 33 - 36

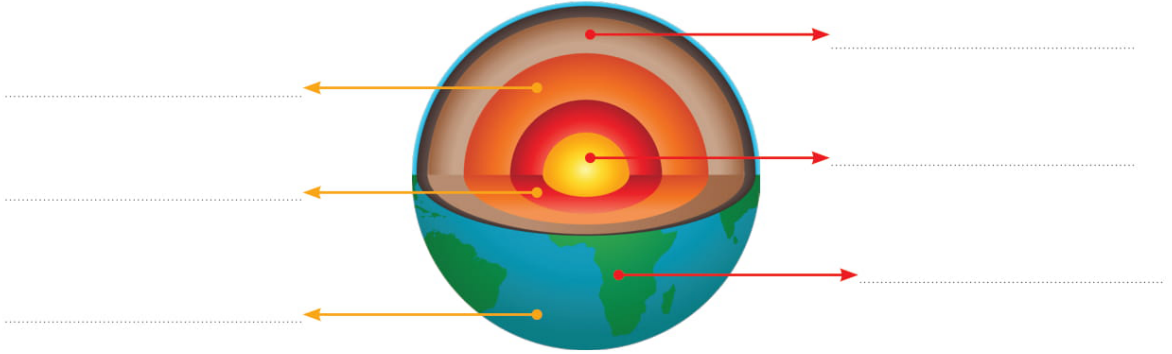
3 - 8 - 18 - 23 - 28 - 38

# FEN BİLİMLERİ

⇒ Aşağıda verilenlerden kara katmanında yer alanlara "K", su katmanında yer alanlara "S" yazalım.

Ağrı Dağı	Akdeniz	Bafra Ovası	Van Gölü
Uzungöl	Kızılırmak	Hint Okyanusu	Asya Kitası

⇒ Aşağıdaki model üzerine Dünya'nın katmanlarını yazalım.



⇒ Aşağıdaki noktalı yerleri uygun ifadelerle dolduralım.

kara	Uzaydan	baskın	ince	atmosfer
------	---------	--------	------	----------

- ⇒ Kara katmanı; okyanusların dibinde ....., dağlık bölümlerde kalındır.
- ⇒ Dünya kutuplardan ....., ortası şişkin bir küreye benzemektedir.
- ⇒ ..... çekilen fotoğraflar Dünya'nın küre şeklinde olduğunu kanıtlamaktadır.
- ⇒ Karınca, at, kedi ve köpek gibi canlılar Dünya'nın ..... katmanında yer alır.
- ⇒ Taş küre, su küre ve ..... Dünya'nın gözlemlenebilen katmanlarıdır.



⇒ Aşağıdaki kelimeler alfabetik olarak sıralanmış ancak biri sıralamayı bozmuştur. Sıralamayı bozan kelimenin olduğu kutuyu boyayalım.

1. lavabo

2. leğen

3. leylek

4. lor

5. lezzet

1. ayakkabı

2. biberon

3. bebek

4. ceviz

5. çamaşır

1. fare

2. fayton

3. fesleğen

4. ferah

5. forma

1. hikaye

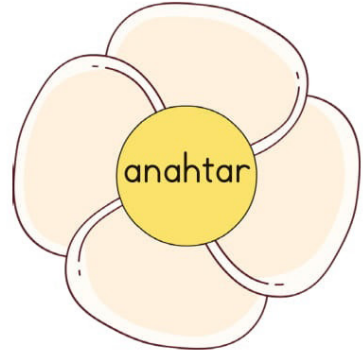
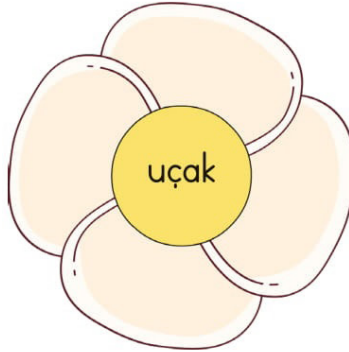
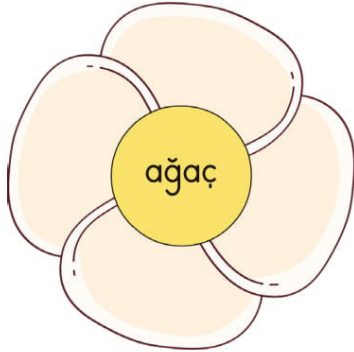
2. mahalle

3. keman

4. okul

5. perde

⇒ Çiçeklerin yapraklarına, çiçeklerin ortalarında yazan kelimeleri çağrıştıran dörder kelime yazalım.



⇒ Aşağıdaki kelimelerden tek başına anlamı olanları boyayalım.



# HAYAT BİLGİSİ

⇒ Aşağıdaki davranışlardan arkadaşlık bağlarını güçlendirenlere ✓ işareti, arkadaşlarımızla ilişkilerimizi olumsuz etkileyenlere ✗ işareti koyalım.

Arkadaşımıza yalan söylemek	Arkadaşımızla alay etmek
İhtiyacı olduğunda arkadaşımızın yanında olmak	Okul araç ve gereçlerimizi arkadaşlarımızla paylaşmak
Oyun oynarken arkadaşımıza zarar vermek, onu incitmek	Başarılı olduğunda arkadaşımızı tebrik etmek
Arkadaşlarımıza kaba davranmak	Arkadaşımızın sırrını başka bir arkadaşımıza söylemek
Arkadaşımızın mutluluğunu da, üzüntüsünü de paylaşmak	Tarafsız davranıp, haklı olan arkadaşımızın yanında olmak



⇒ Ağacın yapraklarında yazılı olan ifadelerden arkadaşlarımızda bulunmasını istediklerimizi boyayalım.

⇒ Aşağıdaki toplama ve çıkarma işlemlerini yapalım. Boş kutulara "<", ">" ve "=" işaretlerinden uygun olanını koyalım.

$$98 + 43 \quad \square \quad 121 - 55$$

$$164 + 77 \quad \square \quad 320 - 79$$

$$418 - 249 \quad \square \quad 108 + 65$$

$$525 + 78 \quad \square \quad 826 - 337$$

$$395 - 187 \quad \square \quad 109 + 99$$

$$727 - 246 \quad \square \quad 279 + 324$$

$$572 \quad \square \quad 703 - 245$$

$$391 + 149 \quad \square \quad 540$$

$$612 - 373 \quad \square \quad 208 + 98$$

$$804 \quad \square \quad 247 + 519$$

$$143 - 95 \quad \square \quad 75 - 27$$

$$492 + 179 \quad \square \quad 607$$

⇒ Aşağıdaki problemlerin önce tahmini, sonra da gerçek sonuçlarını bulalım. Bulduğumuz sonuçları karşılaştıralım.

1. Bir okuldaki 1. sınıf öğrencilerinin sayısı 47, 2. sınıf öğrencilerinin sayısı 52, 3. sınıf öğrencilerinin sayısı 71, 4. sınıf öğrencilerinin sayısı da 68'dir. Okuldaki toplam öğrenci sayısı kaçtır?


2. Tahsin kumbarasındaki 274 liranın 98 lirasını harcadı. Geriye kaç lirası kaldı?


3. Rukiye mağazadan 179 TL'ye mont, 36 TL'ye kazak, 22 TL'ye de çorap almıştır. Rukiye satıcıya kaç TL ödeme yapmıştır?


# FEN BİLİMLERİ

⇒ Aşağıdaki noktalı yerlere duyu organlarından uygun olanları yazalım.

- ..... , çevremizdeki varlıkları görmemizi sağlayan duyu organımızdır.
- ..... , işitme görevi dışında dengemizi de sağlayan duyu organıdır.
- ..... , gözlerimiz kapalı olsa da yediğimiz yiyeceklerin ne olduğunu algılamamızı sağlar.
- ..... , koku alma ve solunum organımızdır.
- ..... , vücudumuzun dışını tamamen kaplayan ve vücudumuzu dış etkilere karşı koruyan organımızdır.

⇒ Aşağıdaki durumlarda kullandığımız duyu organlarını sembolle gösterelim.

Göz	Kulak	Burun	Dil	Deri
●	▲	■	★	♥
Balonun rengini öğrenmek için <input type="text"/>	Çorbanın kokusunu almak için <input type="text"/>	Film seyretmek için <input type="text"/>	Dondurmanın çeşidini anlamak için <input type="text"/>	
Yoldan geçen arabanın sesini duymak için <input type="text"/>	Bardaktaki suyun sıcaklığını öğrenmek için <input type="text"/>	Portakalın pürüzlerini anlamak için <input type="text"/>	Biberin tatlı mı acı mı olduğunu anlamak için <input type="text"/>	

⇒ Duyu organlarımızın sağlığını korumak için yapmamız gerekenlerle ilgili birer cümle yazalım.

Deri sağlığı	<input type="text"/>
Göz sağlığı	<input type="text"/>
Burun sağlığı	<input type="text"/>
Dil sağlığı	<input type="text"/>
Kulak sağlığı	<input type="text"/>

⇒ Aşağıdaki deyimleri anlamlarıyla eşleştirelim.

① burun kıvrırmak

gereğinde, bir konuya yeniden dönebilme imkânı bırakmak

② eli kalem tutmak

bir şeye aşırı ilgi göstermek, önemle bakıp korumak

③ gözü gibi sakınmak

dikkate almamak, göz önünde tutmamak

④ açık kapı bırakmak

önem vermemek, küçümsemek, beğenmemek

⑤ kulak arkası etmek

yazı yazmayı bilmek

⇒ Aşağıda karışık olarak verilen atasözlerini düzenleyerek yazalım.

⇒ sesi / gelir / hoş / davulun / uzaktan

⇒ söyleyeni / kovarlar / doğru / köyden / dokuz

⇒ kara / belli / olur / dost / günde

⇒ çeker / akılsız / ayaklar / başın / cezasını

⇒ bir / uçuran / deveyi / yardan / ottur / tutam

# HAYAT BİLGİSİ

⇒ Aşağıdaki ifadelerden doğru olanların başına "D", yanlış olanların başına "Y" yazalım.

Okulla ilgili istek ve dileklerimizi uygun bir dille kağıda yazarak dilek kutusuna atabiliriz.

Okulda sadece okuma ve yazma öğrenebiliriz.

Okulumuzu temiz tutarak daha az temizlik malzemesi kullanılmasını sağlayabiliriz.

Dersleri daha iyi takip edebilmek için aydınlık olsa da ışıkları sürekli açık bırakmalıyız.

Okul tuvaletlerini temiz kullanmalı, musluğu açık bırakmamalıyız.

Kroki çizerek okulumuzun yerini tarif edebiliriz.

⇒ Aşağıdaki mesleklerin isimlerini yazalım ve meslekleri yaptıkları işlerle eşleştirelim.



Sebze ve meyveler üretir, hayvan yetiştiririm.

Restoranlarda çalışırım ve lezzetli yemekler yaparım.



Hırsızları yakalar, insanların güvende olmasını sağlarım.

Müşterilerin siparişlerini alırım ve yiyeceklerini servis ederim.



İnsanları yanan binalardan kurtarırım ve yangınları söndürürüm.

İnsanların faydalanması için yollar, köprüler, binalar, otomobiller yaparım.



⇒ Aşağıdaki toplama işlemlerinde verilmeyen toplananları ya da rakamları bulalım.

$$\begin{array}{r} 78 \\ + \quad \quad \\ \hline 206 \end{array}$$

$$\begin{array}{r} 109 \\ + \quad \quad \\ \hline 174 \end{array}$$

$$\begin{array}{r} 188 \\ + \quad \quad \\ \hline 347 \end{array}$$

$$\begin{array}{r} \quad \quad \\ + 254 \\ \hline 513 \end{array}$$

$$\begin{array}{r} \quad \quad \\ + 405 \\ \hline 892 \end{array}$$

$$\begin{array}{r} 2 \star 8 \\ + 17 \blacksquare \\ \hline 432 \end{array}$$

$$\begin{array}{r} 34 \blacksquare \\ + \star 8 \blacksquare \\ \hline 720 \end{array}$$

$$\begin{array}{r} 3 \circ 7 \\ + \star 5 \blacksquare \\ \hline 643 \end{array}$$

$$\begin{array}{r} 5 \star 4 \\ + 23 \blacksquare \\ \hline 802 \end{array}$$

$$\begin{array}{r} 2 \circ 8 \\ + \blacktriangle 89 \\ \hline 597 \end{array}$$

⇒ Aşağıdaki problemleri çözelim.

1. Bekir, Van'dan Ankara'ya 3 günde gitmiştir. 1. gün 256 km, 2. gün ilk günden 85 km daha fazla, 3. gün de 2. gün gittiğinden 52 km daha az yol gitmiştir. Buna göre Bekir toplam kaç km yol gitmiştir?


2. Aslı ve Hülya, fındık toplama yarışı yapıyorlardı. Aslı'nın sepetinde 124, Hülya'nın sepetinde 97 fındık vardı. Aslı sepetine 77, Hülya da 98 fındık daha koyduğunda, ikisinin topladıkları fındıkların farkı kaç olur?


3. Bir bahçede 76 portakal ağacı, portakal ağaçlarından 73 fazla nar ağacı vardır. Bahçede toplam 310 ağaç olduğuna göre, bahçedeki diğer ağaçların sayısı kaçtır?


4. Ali kumbarasına 96 lira daha koyarsa, kumbarasında 610 lirası olacaktı. Kumbarasındaki 128 lirayı harcadığına göre, Ali'nin kumbarasında kaç lirası kalmıştır?


# FEN BİLİMLERİ

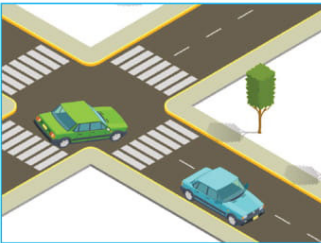
⇒ Aşağıdaki resimde numarayla gösterilen varlıklardan kendiliğinden hareket edebilenlerin ve edemeyenlerin numaralarını ilgili yerlere yazalım.



Kendiliğinden Hareket Edebilenler

Kendiliğinden Hareket Edemeyenler

⇒ Resimlerdeki hareket çeşitlerini altlarına yazalım. (Hızlanma, yavaşlama, dönme, sallanma, yön değiştirme)





⇒ Aşağıdaki kelimeleri eş anlamlılarıyla eşleştirerek şifreyi çözelim.

I	adale		kafa
K	uyarı		duru
N	itina		özen
A	berrak		sorun
S	baş		kas
D	mesele		ikaz

Şifre:

--	--	--	--	--	--

⇒ Aşağıdaki cümlelerdeki altı çizili kelimelerin eş anlamlılarını noktalı yerlere yazalım.

- ⇒ Kitaptaki kelimelerin anlamlarını öğrenmek için sözlüğe baktı. (.....)
- ⇒ Cemil Öğretmen'in yeni görev yeri belli olmuş. (.....)
- ⇒ Bütün sorularının yanıtı o kitaptaydı. (.....)
- ⇒ 29 Ekim Cumhuriyet Bayramı için düzenlenen merasim de Gülcihan da görev aldı. (.....)

⇒ Aşağıdaki resimde zıt anlamlı olan kelimelerin bulunduğu pencereleri aynı renge boyayalım.



# HAYAT BİLGİSİ

⇒ Büyüklerimizin zamanından günümüze bir çok şey değişikliğe uğramış, bayram kutlamaları, kına geceleri gibi bazı şeyler ise değişmeden günümüze kadar gelmiştir. Aşağıdaki kutucuklara aile büyüklerimizin yaşadıkları dönemle, günümüz yaşamı arasındaki benzerlikleri ve farkları yazalım.

Benzerlikler

☞

☞

☞

☞

Farklılıklar

☞

☞

☞

☞

⇒ Aşağıdaki kavramları bulmacada bulalım ve boyayalım. Kalan harfleri sırasıyla yazarak şifreyi çözelim.

BAYRAM ZİYARET KOMŞU DAYANIŞMA AİLE

KROKİ ADRES OYUNCAK PAYLAŞMA ÇOCUKLUK


KÖREBE SAKLAMBAÇ BEŞTAŞ DAKTİLO

K	Ç	O	C	U	K	L	U	K	O	K	Ö	R	E	B	E	Z
B	A	İ	L	E	M	Ş	O	Y	U	N	C	A	K	U	A	İ
A	K	P	A	Y	L	A	Ş	M	A	O	M	Ş	R	U	D	Y
Y	N	U	N	D	A	K	T	İ	L	O	K	Ü	O	L	R	A
R	Ü	N	B	E	Ş	T	A	Ş	E	M	U	H	K	T	E	R
A	A	S	A	K	L	A	M	B	A	Ç	Ç	T	İ	I	S	E
M	D	A	Y	A	N	I	Ş	M	A	R	K	O	M	Ş	U	T

ŞİFRE:

# 1. HAFTA DEĞERLENDİRME TESTİ

1.



Yukarıda modellenmiş olan sayı hangisinde doğru olarak çözümlenmiştir?

- A) 3 yüzlük + 2 onluk + 6 birlik  
B) 4 yüzlük + 3 onluk + 5 birlik  
C) 4 yüzlük + 3 onluk + 6 birlik

2. Aşağıdakilerden hangisi altışar ritmik saymadır?

- A) 24 - 28 - 32 - 36 - 40  
B) 36 - 42 - 48 - 54 - 60  
C) 28 - 35 - 42 - 49 - 56

3.



Yukarıdaki sayı örüntüsünün kuralına göre "?" olan yere hangisi gelmelidir?

- A) 37      B) 38      C) 39

4. → 3 onluk + 5 yüzlük + 2 birlik

→ 2 yüzlük + 9 onluk

Yukarıda çözümlenmiş olarak verilen sayıların toplamı kaçtır?

- A) 381      B) 561      C) 822

5.

$$\begin{array}{r} \bullet 27 \\ + 2\blacktriangle 8 \\ \hline 615 \end{array}$$

Yandaki toplama işlemine göre  $\blacktriangle \times \bullet$  işleminin sonucu aşağıdakilerden hangisidir?

- A) 22      B) 24      C) 28

6.

Nilgün'ün 114 lirası vardı. Nilgün'e, annesi 78 lira, babası da 85 lira verdi. Nilgün'ün 300 lirası olması için kaç TL'ye daha ihtiyacı vardır?

- A) 25      B) 24      C) 23

7. Aşağıda verilen bilgilerden hangisi yanlıştır?

- A) Dünya gezegeninin en sıcak katmanı iç çekirdektir.
- B) Dünya'nın en dıştaki ince ve kayalıklardan oluşan katmanı yer kabuğudur.
- C) Sıcaklığı nedeniyle yarı sıvı halde bulunan ve iç çekirdeğin hemen üstünde bulunan katman mantodur.

8. Aşağıda verilen yerlerden hangisi Dünya'nın su katmanını oluştur-  
maz?

- A) Okyanuslar
- B) Vadiler
- C) Yer altı suları

9. Aşağıdakilerden hangisi burnumuzun görevlerinden biri değildir?

- A) Soluduğumuz havanın nemlenmesini sağlamak
- B) Vücudumuzun dengede olmasını sağlamak
- C) Çevremizdeki varlıkların kokusunu almamızı sağlamak

10.I. uzak - yakın

II. önce - sonra

III. güzel - şirin

Numaralandırılmış sözcük ikililerinden hangileri zıt anlamlıdır?

A) I ve II

B) I ve III

C) II ve III

11. Aşağıdaki atasözlerinden hangisi **tutumluluk** ile ilgili değildir?

A) Aza kanaat etmeyen çoğu hiç bulamaz.

B) Yarım hekim candan, yarım hoca dinden eder.

C) Damlaya damlaya göl olur.

12. Aşağıdaki sözcüklerden hangisi satır sonuna sığmadığında yanlış olarak bölünmüştür?

A) bakıcı-  
lar

B) aç-  
ıklama

C) iste-  
mişler

13. Aşağıdakilerden hangisinde özel isimlerin yazımında hata yapılmıştır?

- A) Berna, Hatice'yi Alemlı sokağın başında bekliyormuş.
- B) Emel Öğretmen bu yıl 3. sınıfları okutacak.
- C) Yarın Ankara Valiliği'ne gitmesi gerekiyor.

14. Aşağıdakilerden hangisi "çağrı" sözcüğünün eş anlamlısıyla kurulmuş bir cümledir?

- A) Başkasına zarar verirsen mutlu olamazsın.
- B) Hayvanat bahçesindeki yaşlı fil geçen kış ölmüş.
- C) Onu bu akşam yemeğe davet ettiğini unutmuş.

15. Aşağıdaki sözcüklerden hangisi sözlükte "genç" kelimesinden sonra gelir?

- A) fare
- B) ceylan
- C) heyelan

16. Aşağıdakilerden hangisi iyi bir arkadaşın özelliği değildir?

- A) Verdiği sözü tutması
- B) Doğru sözlü olması
- C) Kıskançlık yapması


17. Aşağıdakilerden hangisi hastanede çalışan görevlilerden biri değildir?

- A) Mübaşir
- B) Hasta bakıcı
- C) Hemşire

18. Aşağıdakilerden hangisi evimizde kullandığımız teknolojik ürünlerden biri değildir?

- A) Elektrik süpürgesi
- B) Röntgen cihazı
- C) Televizyon








**AŐAĐIDAKİ RESMİ İSTEDİĐİMİZ RENKLERE BOYAYALIM.**



## BİRAZ DA EĞLENELİM

### Haydi tren çizelim!

☞ Aşağıdaki çizim aşamalarını inceleyelim. Çerçevenin içine yandaki treni çizmeye çalışalım.



# Sudoku Çözelim

Aşağıdaki tablolardaki her satırı, her sütunu ve her kutucuğu 1'den 9'a kadar olan sayıları tek bir defa kullanarak dolduralım.

1		6		7	8		3	
	5	7	3	4	9		6	2
2	9	3	6		5			7
			8		1	6		4
4	6	1				2	8	9
5	8			6	4	3		
7	3	4	1	9	6	5		8
6	1	8	7		2	4	9	3
				8			1	



3		2	9	6	4	8	5	1
9		4	8	1	5		7	
		1	3	7	2		9	6
	4		1		9		2	8
1		9		4	6			5
5	2		7		3		1	4
2		8	6		1	5	4	7
4	1			3		2		
		5			7	1		2

		18.B	17.A	16.C	15.C	14.C	13.A	12.B	11.B
10.A	9.B	8.B	7.C	6.C	5.B	4.C	3.A	2.B	1.B

1. Hafta Değerlendirme Testi Cevap Anahtarı



# İKİ RESİM ARASINDAKİ 10 FARKI BULALIM



⇒ Aşağıdaki şekil grafiğini çetele tablosu şeklinde gösterelim.

Şekil Grafiği: Nesrin'in Kitapları

Kitaplar	Kitap Sayısı
Masal	● ● ● ● ● ● ● ●
Ders	● ● ● ● ● ● ● ● ● ●
Şiir	● ● ●
Boyama	● ● ● ● ● ● ● ●
Etkinlik	● ● ● ● ●

Çetele Tablosu:

Kitaplar	Kitap Sayısı
Masal	
Ders	
Şiir	
Boyama	
Etkinlik	

**Not:** Her şekil 3 kitabı göstermektedir.

⇒ Aşağıdaki soruları yukarıdaki grafiğe göre cevaplayalım.

📌 Nesrin'in kitaplarının en azdan en çoğa doğru sıralaması nasıldır?

.....

📌 Nesrin'in ders kitaplarının sayısı, şiir kitaplarının sayısından kaç fazladır?

.....

📌 Nesrin'in masal ve boyama kitaplarının toplamı kaçtır?

.....

📌 Nesrin'in, şiir ve boyama kitaplarının sayısının eşit olması için, kaç tane daha şiir kitabı alması gerekir?

.....

📌 Nesrin'in toplam kaç kitabı vardır?

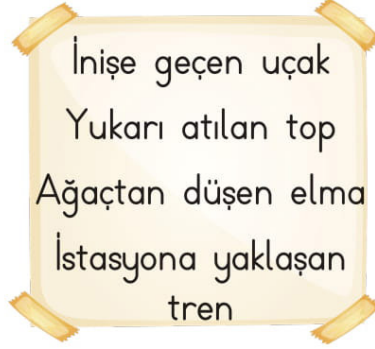
.....

📌 Nesrin etkinlik kitaplarının 13 tanesini, masal kitaplarının 8 tanesini, boyama kitaplarının da 15 tanesini kardeşine verdiğine göre, Nesrin'in kaç kitabı kalmıştır?

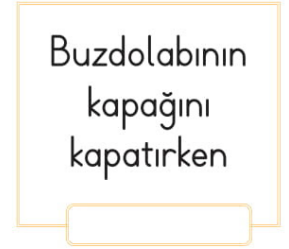
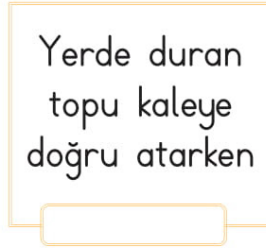
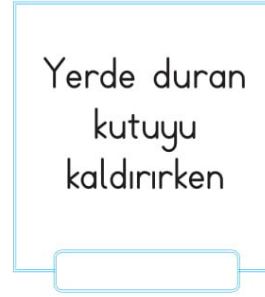
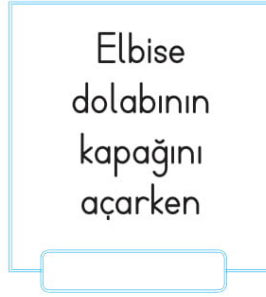
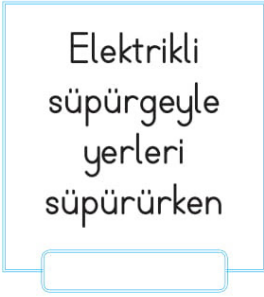
.....

# FEN BİLİMLERİ

⇒ Aşağıda verilen gruplarda farklı hareket eden varlıkları yuvarlak içine alalım.



⇒ Aşağıda verilen hareketleri yaparken itme ve çekme kuvvetlerinden hangisini kullandığımızı yazalım.



⇒ Aşağıdaki resimlerden hareketli cisimlerin verebileceği zararlara örnek olabilecekleri işaretleyelim.



⇒ Aşağıdaki atasözlerinde geçen zıt anlamlı kelimelerin altını çizelim.

⇒ Akıllı düşman, akılsız dosttan hayırlıdır.

⇒ Akşamın işini sabaha bırakma.

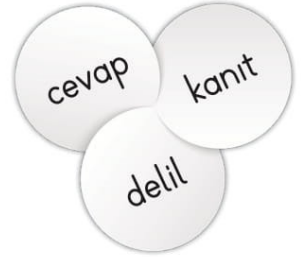
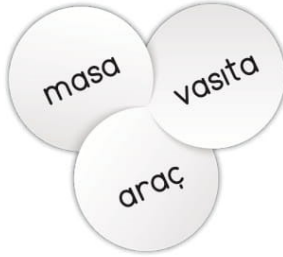
⇒ Aza kanaat etmeyen çoğu bulamaz.

⇒ Baca eğri de olsa dumanı doğru çıkar.

⇒ Tatlı su can azığı, acı söz baş kazığı.

⇒ Ak akçe kara gün içindir.

⇒ Aşağıdaki şekiller üzerinde yazılı olan üçer kelimedenden ikisi arasında bir anlam ilişkisi vardır. Diğerleriyle ilişkili olmayan kelimeyi boyayalım.



⇒ Aşağıdaki cümlelerde geçen eş sesli kelimelerin diğer anlamlarıyla birer cümle kuralım.

→ Tatile gitmek için yazı bekledik.

⇒ \_\_\_\_\_

→ Bisikletine bindi ve parka gitti.

⇒ \_\_\_\_\_

→ Yemekten sonra çay içtik.

⇒ \_\_\_\_\_

→ Kardeşi yeni aldığı kalemi kırmış.


⇒ \_\_\_\_\_

# HAYAT BİLGİSİ

☞ Aşağıda verilen görevlerden çocukların yapabileceklerini işaretleyelim. Diğer görevleri çoğunlukla kimlerin yerine getirdiğini yazalım.

Bozuk eşyaları tamir etmek	Odasını toplamak	Çamaşırları yıkamak	Yemek yapmak
Çiçekleri sulamak	Masasını düzenli tutmak	Ev temizliğine yardım etmek	Çöpleri atmak
Ekme almak	Faturaları ödemek	Giyisileri ütölemek	Ödev yapmak

☞ Aşağıda evimizde kullandığımız bazı teknolojik aletler verilmiştir. Aletlerin isimlerini ve hangi amaçla kullanıldığını yazalım.

# MATEMATİK

⇒ Aşağıdaki çarpma işlemlerini yapalım. Sonuçlarına göre harfleri yazarak bilmecenin cevabını bulalım.

$$\begin{array}{r} \text{M} \quad 22 \\ \times \quad 18 \\ \hline \end{array}$$

$$\begin{array}{r} \text{O} \quad 53 \\ \times \quad 14 \\ \hline \end{array}$$

$$\begin{array}{r} \text{T} \quad 25 \\ \times \quad 12 \\ \hline \end{array}$$

$$\begin{array}{r} \text{L} \quad 33 \\ \times \quad 15 \\ \hline \end{array}$$

$$\begin{array}{r} \text{N} \quad 46 \\ \times \quad 21 \\ \hline \end{array}$$

$$\begin{array}{r} \text{S} \quad 174 \\ \times \quad 2 \\ \hline \end{array}$$

$$\begin{array}{r} \text{A} \quad 258 \\ \times \quad 3 \\ \hline \end{array}$$

$$\begin{array}{r} \text{G} \quad 167 \\ \times \quad 4 \\ \hline \end{array}$$

$$\begin{array}{r} \text{Y} \quad 239 \\ \times \quad 3 \\ \hline \end{array}$$

$$\begin{array}{r} \text{Z} \quad 135 \\ \times \quad 6 \\ \hline \end{array}$$



Evi sırtında, ayağı karnında.  
İzi yıldız, gözleri boynuz.

348	774	495	717	774	966	668	742	810

⇒ Aşağıdaki bölme işlemlerini yapalım. Kalanlı bölmelerin olduğu kutuları boyayalım.

$$\begin{array}{r} 38 \overline{) 2} \\ \underline{\quad} \\ \end{array}$$

$$\begin{array}{r} 51 \overline{) 3} \\ \underline{\quad} \\ \end{array}$$

$$\begin{array}{r} 62 \overline{) 4} \\ \underline{\quad} \\ \end{array}$$

$$\begin{array}{r} 38 \overline{) 4} \\ \underline{\quad} \\ \end{array}$$

$$\begin{array}{r} 71 \overline{) 5} \\ \underline{\quad} \\ \end{array}$$

$$\begin{array}{r} 66 \overline{) 3} \\ \underline{\quad} \\ \end{array}$$

$$\begin{array}{r} 74 \overline{) 7} \\ \underline{\quad} \\ \end{array}$$

$$\begin{array}{r} 80 \overline{) 5} \\ \underline{\quad} \\ \end{array}$$

$$\begin{array}{r} 91 \overline{) 2} \\ \underline{\quad} \\ \end{array}$$

$$\begin{array}{r} 75 \overline{) 3} \\ \underline{\quad} \\ \end{array}$$

$$\begin{array}{r} 84 \overline{) 7} \\ \underline{\quad} \\ \end{array}$$

$$\begin{array}{r} 92 \overline{) 4} \\ \underline{\quad} \\ \end{array}$$

$$\begin{array}{r} 50 \overline{) 3} \\ \underline{\quad} \\ \end{array}$$

$$\begin{array}{r} 49 \overline{) 5} \\ \underline{\quad} \\ \end{array}$$

$$\begin{array}{r} 89 \overline{) 9} \\ \underline{\quad} \\ \end{array}$$

# FEN BİLİMLERİ

⇒ Maddelerin kendilerine özgü özellikleri vardır. Maddelerin özelliklerini duyu organlarımızla ayırt edebiliriz. Aşağıda verilenlerden maddeyi niteleyen özelliklerin olduğu şekilleri boyayalım.



⇒ Aşağıda verilen özelliklerden yumuşak maddelere ait olanların başına "Y", sert maddelere ait olanların başına "S" yazalım.

- Çizilmesi ve ezilmesi zordur.
- Kolaylıkla sıkılıp, ezilebilir.
- Pamuk, oyun hamuru, kumaş bu maddelere örnektir.
- Sağlam olması gereken eşyaların yapımında kullanılır.
- Şekillerinin değıştirilmesi zordur.
- Bazıları sıkılıp ezildikten sonra eski şekline döner.

⇒ Aşağıdaki varlıklardan sert ve pürüzlü olanları yuvarlak içine alalım.



⇒ Aşağıda verilenlerden cümle olanları işaretleyelim. Cümle olmayanları anlamlı olacak şekilde tamamlayalım.

Çocuklar bahçede top oynuyorlardı
Kimin ebe olacağına karar vermek
Ben fıkrayı bitirdiğimde herkes
Rüyasında dedesini görmeyi umarak uykuya daldı
Parkta oynarken

⇒ Aşağıda karışık olan verilen kelimelerle anlamlı cümleler yazalım. Kullanmamız gereken kelimeleri örnekteki gibi işaretleyelim.

bilmeceyi	herkese	Ali	sordu	<del>kitapla</del>	ailedeki
-----------	---------	-----	-------	--------------------	----------

⇒ Ali, bilmeceyi ailedeki herkese sordu.

gününde	kolye	doğum	dere	aldı	annesine
---------	-------	-------	------	------	----------

⇒

ağacın	güzel	için	uzanmış	dinlenmek	altına
--------	-------	------	---------	-----------	--------

⇒

yarın	en	ders	matematikti	Sevim'in	sevdiği
-------	----	------	-------------	----------	---------

⇒

⇒ Aşağıdaki cümleleri anlamlı olacak şekilde tamamlayalım.

⇒ İleride hangi mesleği seçeceğime .....

⇒ Veysel artık daha çok .....

⇒ Çocuk annesiyle pazardan dönerken .....

⇒ Tomar, tavşanı ormanın içine .....



# HAYAT BİLGİSİ

⇒ Aşağıdaki çocukların kaynakların etkili ve verimli kullanılmasını sağlamak için yaptıkları davranışların hangi kaynağın tasarrufunu sağladığını yazalım.



Dişlerimi fırçalarken suyu kapalı tutarım. Ağızımı çalkalarken de suyu az kullanırım. ( )



Evde gereksiz yere açık olan lambaları kapatırım, uyurken de hiç ışık açmam. ( )



Buzdolabının kapağını gerekmedikçe açmam. Açtığı zaman da uzun süre açık tutmam. ( )



Elimi yıkarken ve banyo yaparken temizlik malzemelerini yeterli miktarda kullanırım. ( )



Kıyafetlerimi daha sonra başkalarının da kullanabilmesi için özenli kullanırım. ( )



Tabağıma yiyebileceğim kadar yiyecek koyar, yemek için aldığı ekmekleri bitiririm. ( )

⇒ Aşağıdaki kağıda günlük plan yapmanın sağlayacağı 3 fayda yazalım.

1.	
2.	
3.	

⇒ Aşağıdaki problemleri çözelim.

1. 36'dan başlayıp ileriye üçer ritmik sayarken 5. söylediğimiz sayı ile 64'ten başlayıp geriye dörder ritmik sayarken 7. söylediğimiz sayının toplamı kaçtır?


2. Öğrenciler, sınıfta bulunan 17 sıranın 9'unda ikişerli, kalanında üçerli olarak oturmaktadır. Buna göre sınıftaki öğrenci sayısı kaçtır?


3. Üç kardeş sepetteki 96 cevizi aralarında eşit olarak paylaştılar. Kardeşlerden her biri günde sekiz ceviz yiyerek, cevizleri kaç günde bitirebilir?


4. Aslı, yeni aldığı kitabı günde 8 sayfa okuyarak 12 günde bitirmiştir. Eğer Aslı günde 4 sayfa okusaydı, kitabı kaç günde bitirebilirdi?






5. Serkan'ın 104 lirası vardır. Serkan tanesi 8 liradan 3 kutu boya kalem, tanesi 7 liradan 5 tane kalem almıştır. Kalan parasıyla tanesi 9 lira olan kalemliklerden kaç tane alabilir?


6. Hatice, kendisi ve 8 misafirinin her biri için altışar kurabiye hazırlamıştır. Hatice'nin herkese on üçer kurabiye verebilmesi için en az kaç kurabiye daha pişirmesi gerekir?


# FEN BİLİMLERİ

⇒ Aşağıda maddelerin altındaki yuvarlaklara, maddenin özelliğini gösteren simgeyi çizelim.

pürüzlü ▲ pürüzsüz ■ kırılğan ● esnek ♥ sert ☆ yumuşak ◆



⇒ Aşağıdaki ifadelerden doğru olanları takip ederek çıkıştaki kelimeyi bulalım.

Kimyasal içeriği olan temizlik maddelerini koklamak sağlığımıza zarar verebilir.

D

Y

Sert maddelerin şekillerini elimizle kolayca değiştirebiliriz.

Bütün yumuşak maddeler, üzerine uygulanan kuvvet kalktığında eski şekline döner.

D

Y

D

Y

Büyük bir madde için ayırt edici değildir.

Cam bardak hem serttir, hem de kırılğandır.

Bazı pürüzlü maddeleri pürüzsüz hale getirebilmek mümkündür.

Yumuşak olan bütün maddeler pürüzlüdür.

D

Y

D

Y

D

Y

D

Y

kağıt

bakır tel

oyun hamuru

lastik

tahta masa

plastik sandalye

seramik vazo

ayna

⇒ Aşağıda verilen görevleri sembol kullanarak noktalama işaretleriyle eşleştirelim.

→ Bazı kısaltmaların sonuna konur.

Ünlem  
işareti

→ Ard arda gelen eş görevli sözcüklerin arasına konur.

★

→ Soru anlamı taşıyan cümlelerin sonuna konur.

Virgül

→ Korku, şaşkınlık, üzüntü gibi duygu bildiren cümlelerin sonuna konur.

■

→ Hitap ve seslenme ifadelerinden sonra gelir.

Nokta

→ Sıralı cümleleri ayırmak için kullanılır.

Soru  
işareti

→ Tarihlerde gün, ay ve yılı ayırmak için kullanılır.

⇒ Aşağıdaki cümlelerden sonuna doğru noktalama işareti konulanların başındaki harfleri kullanarak çocukların gittiği parkın ismini bulalım.

M 1. İşte şimdi yandık?

S 7. Yanına oturabilir miyim.

G 2. Uzun mu uzun bir dersti.

M 8. Okuldaki ilk günün nasıl geçti?

A 3. Yemeklerin tadına baktın mı!

E 9. Ah, ne yaptım!

Ü 4. Sessiz olabilir misiniz?

Z 10. Başarısı herkesi şaşırttı!

L 5. Aman dikkat!

C 11. Nereye doğru gidiyorsun?

T 6. Çocuğun akıllı mı yaramaz mı olduğuna karar veremedim?

E 12. Hoca, bu şikayet üzerine hemen oğlunun yanına gitti.



○ ○ ○ ○ ○ ○ ○ PARKI



# HAYAT BİLGİSİ

⇒ Aşağıda verilen ifadelerden doğru olanların başındaki harfleri kullanarak bilmecenin cevabını bulalım, sonra da Ceren'in kullanması gereken yolu bularak ona yardım edelim.

- Y** Kişisel bakımımızı su yerine ıslak mendile yapmalıyız.
- G** Kişisel bakımımızı yaparken kaynakları tasarruflu kullanmalıyız.
- I** Diş macunu, sabun, şampuan gibi temizlik malzemelerini gereğinden fazla kullanmak daha temiz olmamızı sağlar.
- Ü** Kişisel temizliğimizi sağlamak için tırnaklarımızı düzenli olarak kesmeli, dişlerimizi fırçalamalı ve banyo yapmalıyız.
- N** Ambalajlı ürünler satın alırken son kullanma tarihlerine ve içeriklerine dikkat etmeliyiz.
- L** Satın aldığımız ürün bozuk çıktığında iade edemeyeceğimiz için, ürün alırken dikkatli olmalıyız.
- D** Sadece reklamı olan ürünleri satın almalıyız.
- E** Yiyeceklerin temizliği kadar, onları satın aldığımız yerin temizliği de önemlidir.
- Ş** Şekli ve rengi bozulmuş, kötü kokan yiyecekleri satın almamalıyız.



**A**  
**B**  
**C**



**Bilmece:**

Gökte durur paslanmaz,  
suya düşer ıslanmaz.

--	--	--	--	--

⇒ Aşağıdaki işlemleri yapalım. İşlemleri yapmaya parantez içinden başlayalım.

$$(15 \times 2) \div 5 = \dots$$

$$(72 \div 9) \div 6 = \dots$$

$$(14 \times 3) \div (3 \times 2) = \dots$$

$$(12 \times 6) \div 8 = \dots$$

$$(48 \div 6) \times 14 = \dots$$

$$(20 \times 8) \div (2 \times 5) = \dots$$

$$(137 - 57) \div 10 = \dots$$

$$(87 + 8) \div 5 = \dots$$

$$(27 \times 3) \div (3 \times 3) = \dots$$

⇒ Aşağıdaki bulutların üzerinde yazılı olan işlemlerden sonuçları aynı olanları eşleştirelim ya da aynı renge boyayalım.

$$96 \div 2 = \dots$$

$$9 \times 3 = \dots$$

$$80 \div 5 = \dots$$

$$3 \times 4 = \dots$$

$$81 \div 3 = \dots$$

$$6 \times 8 = \dots$$

$$84 \div 7 = \dots$$

$$8 \times 2 = \dots$$

⇒ Aşağıdaki soruları işlem yaparak çözelim.

1. Bölünen 3, bölümün 31, kalanın 2 olduğu bir bölme işleminde bölünen kaçtır?


5. Bir bölme işleminde bölen 6 ise kalan sayının alabileceği değerlerin toplamı kaçtır?


9. Kalanlı bir bölme işleminde; bölen 5, bölüm 16'dır. Bu işlemde bölünen en fazla kaç olur?


2. 36 sayısının 9 katı kaçtır?


6. 32 sayısının 3 katının yarısı kaçtır?


10. 43'ün 27 eksikliğinin 7 katının çeyreği kaçtır?



# FEN BİLİMLERİ

⇒ Tabloda verilenlerin maddenin hangi haline örnek olduğunu işaretleyerek gösterelim.

Madde	kati	sıvı	gaz
Kolonya			
Buhar			
Hava			
Tahta			
Bal			

Madde	kati	sıvı	gaz
Şeker			
Soğan			
Benzin			
Tuğla			
Oksijen			

⇒ Resimlerden faydalanalım ve öğrencilerin düşündükleri maddeleri bularak kutucuklara yazalım. Koyu renkli kutulardaki harfleri kullanarak gizli kelimeyi bulalım.




Benim düşündüğüm madde sert ama kırılğan değil. Kokusu da yok.



Benim düşündüğüm madde esnek ve yumuşak. Çok belirgin bir kokusu yok.



Benim düşündüğüm madde sert ve kırılğan. Çeşitli renklerde de olabilir.



Benim düşündüğüm madde suyun gaz hali.



Benim düşündüğüm madde sıvı halindedir. Kokusu da güzeldir.




Gizli kelime:



⇒ Aşağıdaki cümlelerde büyük harflerin kullanımıyla ilgili yanlışlık yapılan kelimelerin altını çizelim.

- ★ yazarın en çok "kuyruksuz sıpa" isimli kitabını sevdim.
- ★ Yarım saatin sonunda kırkpınar Caddesi'ne ulaştı.
- ★ Akşam olunca Selimin babası Necip'lere geldi.
- ★ Kemal öğretmen bu yıl emekli olacağını söyledi.
- ★ Bursadaki akrabalarını ziyaret ettikten sonra çanakkaleye gitti.
- ★ Duydukları ömer Bey'i çok duygulandırmıştı.
- ★ Cumhuriyet bayramında görev alan bütün öğrencilerine hediye verdi.

⇒ Aşağıdaki sözcüklerden yazımı doğru olanın bulunduğu parçayı boyayalım..



⇒ Aşağıdaki yanlış yazılmış kelimelerin doğrularını karşlarına yazalım.

traş → _____	süpriz → _____	filim → _____
yanlız → _____	kırvat → _____	bir çok → _____
meyva → _____	ahçı → _____	antreman → _____
sovan → _____	pilaj → _____	fiat → _____
iyne → _____	atelye → _____	ünvan → _____



# HAYAT BİLGİSİ

⇒ Aşağıda verilen sebze ve meyvelerden kış mevsiminde yetişenleri işaretleyelim. İşaretlediğimiz yiyeceklerin isimlerini bulmacada bulalım. Kalan harflerle oluşan şifreyi alttaki kutucuklara yazalım.



		M	P	M	A	N	D	A	L	İ	N	A	B
		I	O	E	Y	V	H	E	A	V	P	E	R
L	S	S	R	E	N	B	A	Z	R	E	I	L	O
A	E	P	T	R	A	İ	V	M	M	E	R	V	K
H	S	A	A	İ	R	M	U	İ	U	N	A	D	O
A	E	N	K	T	Ü	K	Ç	E	T	T	S	E	L
N	L	A	A	K	E	S	T	A	N	E	A	İ	İ
A	M	K	L	K	A	R	N	A	B	A	H	A	R

--	--	--	--	--	--	--	--	--	--	--	--	--	--

--	--	--	--	--	--	--	--	--	--	--	--	--	--

⇒ Aşağıya sebze ve meyveleri mevsiminde tüketmenin önemiyle ilgili üç cümle yazalım.


## 2. HAFTA DEĞERLENDİRME TESTİ

elitogretmen.com

1. ▲  $75 + 118 = 197$

■  $69 + 234 = 303$

●  $347 + 93 = 450$

★  $178 + 165 = 343$

Yukarıdaki toplama işlemlerinden hangilerinin sonucu doğrudur?

- A) ▲ - ●                      B) ■ - ★  
C) ● - ★

2.  $(48 - 19) + 25 = \blacklozenge$

$(71 - 43) + 95 = \bullet$

Yukarıdaki işlemlere göre  $\blacklozenge + \bullet$  kaçtır?

- A) 177                      B) 181                      C) 185

3. ☆  $73 + 18 = \dots\dots\dots$

☆  $144 - 36 = \dots\dots\dots$

☆  $13 \times 4 = \dots\dots\dots$

☆  $35 \times 7 = \dots\dots\dots$

☆  $45 \div 5 = \dots\dots\dots$

Yukarıdaki işlemlerden kaç tanesi tek sayıdır?

- A) 2                      B) 3                      C) 4

4.

$$\begin{array}{r} 218 \\ \times 3 \\ \hline \end{array}$$

Yandaki çarpma işleminde 1. çarpanın onlar basamağı 2 arttırılır, birler basamağı 2 azaltılırsa sonuç nasıl değişir?

- A) 42 artar.  
B) 54 artar.  
C) 38 azalır.

5. Aşağıdaki toplama işlemlerinden hangisinin tahmini sonucu 410'dur?

- A)  $286 + 68 = \dots\dots\dots$   
B)  $224 + 192 = \dots\dots\dots$   
C)  $187 + 251 = \dots\dots\dots$

6. Üç sayının toplamı 609'dur. Büyük sayı 347, küçük sayı 124'tür. Buna göre diğer sayı kaçtır?


- A) 138  
B) 136  
C) 134

7.  $(34 \times 8) + (13 \times 9)$

Yukarıdaki işlemin sonucu aşağıdakilerden hangisidir?

- A) 291      B) 386      C) 389

8. Bir bakkalda günde 9 koli yumurta satılmaktadır. Bir kolide 30 yumurta vardır. Bakkal bugün 183 yumurta satmıştır. Kaç yumurta daha satılırsa, yumurtaların hepsi satılmış olur?

- A) 85      B) 86      C) 87

9. 

$\begin{array}{r} 71 \overline{)9} \\ \underline{\phantom{00}} \\ \phantom{00} \end{array}$	Yandaki bölme işleminde kalan sayının 7 katı aşağıdakilerden hangisidir?
---	--

- A) 63      B) 56      C) 42

10. Aşağıdakilerden hangisi karbonhidratlar ile ilgili yanlış bir bilgidir?

- A) Daha çok meyvelerde bulunur.  
B) Vücudun enerji kazanması için gereklidir.  
C) Patates, karbonhidrat, pirinç gibi besinler karbonhidrat bakımından zengindir.

11. Aşağıdaki eşleştirmelerden hangisi yanlıştır?

- A) Karbonhidrat → düzenleyici  
B) Protein → yapıcı-onarıcı  
C) Yağ → enerji verici

12. Aşağıdakilerden hangisinin hacmi diğerlerinden farklı şekilde ölçülür?

- A) taş  
B) meyve suyu  
C) portakal

13. "Odasını temiz tutmayı bir türlü beceremiyordu."

Verilen cümledeki altı çizili kelimenin zıt anlamlısı aşağıdakilerden hangisidir?

- A) Kalemalarının hepsini masaya koydu.
- B) Kirli çamaşırları makineye yerleştirdi.
- C) Gözlerindeki rahatsızlık nedeniyle gözlük kullanmaya başladı.

14. ders / çalıştı / Serpil / gün / boyu

Yukarıdaki kelimelerin hepsini kullanarak aşağıdaki cümlelerden hangisini kurarsak anlamlı ve kurallı bir cümle olur?

- A) Ders çalıştı Serpil.
- B) Serpil gün boyu çalıştı.
- C) Serpil gün boyu ders çalıştı.

15. Aşağıdakilerden hangisi bir atasözüdür?

- A) Göz boyamak
- B) Dilinden düşürmemek
- C) Ağaç yaş iken eğilir.

16.

I. Doğa İlkokulu

II. Şifa hastanesi

III. Ramazan bayramı

Verilen isimlerden hangisi/hangilerinde yazım yanlışı yapılmıştır?

- A) Yalnız I
- B) I ve II
- C) II ve III

17. Aşağıdaki cümlelerden hangisinde göz kelimesi farklı anlamda kullanılmıştır?

- A) Çekmecenin gözündeki bütün kitapları çıkardı.
- B) Geçirdiği hastalıktan sonra gözleri görmez oldu.
- C) Gözüyle görmeden olanlara inanmadı.

18. Aşağıdakilerden hangisinde "mi" yanlış yazılmıştır?

- A) Konuşmaya başladımı susmak bilmiyor.
- B) Sen de bizimle gelir misin?
- C) Dersler bugün mü yarın mı başlıyor?

19.



Kutucuklardaki sözcükler eş anlamlarıyla eşleştirildiğinde hangisi dışarıda kalır?

- A) hür
- B) kabiliyet
- C) galibiyet




20. Aşağıdaki cümlelerden hangisinin sonuna soru işareti getirilmelidir?

- A) Tatlı mı tatlı bir bebektir
- B) Sözlerime hiç inanmadı
- C) Bugün okula neden geç kaldın

21. Bir ürün satın alırken aşağıdakilerden hangisine dikkat etmemize gerek yoktur?

- A) Son kullanma tarihine
- B) Paketinin şekline
- C) Ürünün tazeliğine

22. Aşağıdakilerden hangisi bir kişisel bakım eşyası değildir?

- A) 
- B) 
- C) 

23. Aşağıdaki davranışlardan hangisi komşuluk bağlarımızı kuvvetlendirecek bir davranış değildir?

- A) Gece geç saatlerde gürültü yapmak
- B) Dışarıda karşılaştığımız zaman selamlaşmak
- C) İhtiyaçları olduğunda yanlarında olmak

## Resimdeki Eksik Parçaları Bulalım

Resimdeki eksik parçaları bularak altlarındaki harfleri boş yerlere yazalım.  
Kullanmadıklarımızı işaretleyelim.



A



B



C



Ç



D



E



F



G



Ğ



H



I



İ



J



K



L

# Sudoku Çözelim

Aşağıdaki tablolardaki her satırı, her sütunu ve her kutucuğu 1'den 9'a kadar olan sayıları tek bir defa kullanarak dolduralım.

8	3	7	9	4	1	2	6	
	2	6	3	7	5	8		4
			2	8	6		7	
5	7	2	1		3	6	4	
	9			6	7	1	5	2
					4		3	9
7	6		4				2	1
	1		6		2	3		7
	5	3	7	1	8	4	9	



			5	9	3	2		
3		7	2	8	4	6	1	9
4	9	2	6	1		5	8	3
	7		1		8		9	2
1	8				6	3		5
2	3	4			5		6	8
9		3	7				2	
			3	6	2	9	5	1
		1	8	4		7		6

	13.B	14.C	15.C	16.C	17.A	18.A	19.C	20.C	21.B	22.C	23.A	
	1.B	2.A	3.B	4.B	5.B	6.A	7.C	8.C	9.B	10.A	11.A	12.B

2. Hafta Değerlendirme Testi Cevap Anahtarı

