

elitogretmen.com

1.SINIF
— AŞAMA AŞAMA —
PROBLEM UZMANI Yeni nesil

işleme hazırık
ifade hazırık
problem çözüyorum
dikkat problemleri
problem kurma
görsel destekli problemler

Problem uzmanı
akıllı tahta uyumlu

Yunus HÜLCÜ
#problemuzmani

elit çocuk

2.SINIF
— AŞAMA AŞAMA —
PROBLEM UZMANI Yeni nesil

işleme hazırık
ifade hazırık
problem çözüyorum
dikkat problemleri
problem kurma
görsel destekli problemler

Problem uzmanı
akıllı tahta uyumlu

Yunus HÜLCÜ
#problemuzmani

elit çocuk

3.SINIF
— AŞAMA AŞAMA —
PROBLEM UZMANI Yeni nesil

işleme hazırık
ifade hazırık
problem çözüyorum
dikkat problemleri
problem kurma
görsel destekli problemler

Problem uzmanı
akıllı tahta uyumlu

Yunus HÜLCÜ
#problemuzmani

elit çocuk

4.SINIF
— AŞAMA AŞAMA —
PROBLEM UZMANI Yeni nesil


işleme hazırık
ifade hazırık
problem çözüyorum
dikkat problemleri
problem kurma
görsel destekli problemler

Problem uzmanı
akıllı tahta uyumlu

Yunus HÜLCÜ
#problemuzmani

elit çocuk

İki resim arasındaki 7 farkı bulalım.



➤ Aşağıdaki toplama işlemlerinde boş kutulara verilmeyen toplanan kadar daire çizelim.

Toplanan	Verilmeyen Toplanan	Toplam	Verilmeyen Toplanan	Toplanan	Toplam
	<input type="text"/>		<input type="text"/>		
	<input type="text"/>			<input type="text"/>	
	<input type="text"/>		<input type="text"/>		
	<input type="text"/>			<input type="text"/>	

➤ Şapkaların üzerindeki toplama ve çıkarma işlemlerini zihinden yapalım. Bulduğumuz sonuçlara göre şapkaları boyayalım.

$\begin{array}{r} 3 \\ + 2 \\ \hline \end{array}$	$\begin{array}{r} 7 \\ + 7 \\ \hline \end{array}$	$\begin{array}{r} 6 \\ + 5 \\ \hline \end{array}$	$\begin{array}{r} 8 \\ - 4 \\ \hline \end{array}$	$\begin{array}{r} 9 \\ + 2 \\ \hline \end{array}$	$\begin{array}{r} 11 \\ - 2 \\ \hline \end{array}$
$\begin{array}{r} 10 \\ - 5 \\ \hline \end{array}$	$\begin{array}{r} 16 \\ - 12 \\ \hline \end{array}$	$\begin{array}{r} 4 \\ + 1 \\ \hline \end{array}$	$\begin{array}{r} 15 \\ - 4 \\ \hline \end{array}$	$\begin{array}{r} 9 \\ + 9 \\ \hline \end{array}$	$\begin{array}{r} 20 \\ - 2 \\ \hline \end{array}$

18

11

5

14

4

9

⇒ Aşağıdaki problemleri çözelim.



Cengiz Ceren

Cengiz'in yaşı Ceren'in yaşından 6 fazladır. Ceren 7 yaşında olduğuna göre Cengiz kaç yaşındadır?



1.poşet

2.poşet

Her iki poşette de aynı sayıda misket olması için 2. poşete kaç misket koyulmalıdır?

⇒ Ömer'in 9 kalem vardı. Babası bir miktar daha kalem verince, Ömer'in 14 kalem oldu. Babası, Ömer'e kaç kalem verdi?



Ahmet ve Eren basketbol oynuyorlardı. Ahmet 12, Eren 7 basket attı. İkisinin attığı basket sayısının aynı olması için Eren kaç basket daha atmalıdır?

➤ Aşağıdaki kelimelerin zıt anlamlılarını bulmacada bularak boyyalım. Kalan harflerle oluşan şifreyi aşağıya yazalım.

- | | |
|----------|----------|
| ➔ Yanlış | ➔ Temiz |
| ➔ Güzel | ➔ Uzun |
| ➔ İleri | ➔ Yaşlı |
| ➔ Soğuk | ➔ Pahalı |
| ➔ Alçak | ➔ Kolay |
| ➔ Yakın | ➔ Eski |

G	D	Y	Ü	K	S	E	K
Ö	O	R	G	U	Z	A	K
Ü	Ğ	K	U	G	R	A	G
S	R	L	L	E	A	R	E
I	U	Ç	İ	R	K	İ	N
C	I	N	A	İ	İ	U	Ç
A	U	C	U	Z	R	Z	Y
K	I	S	A	A	L	O	L
I	Y	E	N	İ	İ	R	M

Şifre:

➤ Yemek yerken yapılması yanlış olan davranışların başına ☹ çizelim.

- Yemeğimizi ayakta yemeliyiz.
- Yemek yerken konuşmamalıyız.
- Yediklerimizi üstümüze dökmemeliyiz.
- Peçete kullanmamalıyız.
- Yemeğe dua ile başlamalıyız.

➤ Aşağıdaki çocuklardan yemek yerken yanlış davranan çocuğu işaretleyelim.





MATEMATİK

Bütün ve Yarım



Tabaklardaki meyvelerden bütün olanlarına "B", yarım olanlarına "Y" yazalım.



Aşağıda verilen bütünlerin kaç tane yarım ettiğini çizerek gösterelim. Görselleri anlatan ifadeleri boşluklara yazalım.



Aşağıda verilen yarımaların kaç tane bütün ettiğini çizerek gösterelim. Görselleri anlatan ifadeleri boşluklara yazalım.



Metne uygun bir başlık yazalım.

Nisan ayı gelmişti. Hava ısınmaya başlamış, ağaçlar çiçek açmış, kuşlar da cıvıldıyordu.

Bu güzel günlerden birinde annem beni ve kardeşlerimi erkenden uyandırdı. Fırından sıcak poğaça kokusu geliyordu. Annem ve babam erkenden uyanmış, dışarıda kahvaltı yapmamız için gerekli her şeyi hazırlamışlardı.

Hepimiz hızlıca hazırlanarak bir piknik alanına gittik. Neşeyle kahvaltımızı yaptık. Sonra da dolaşmaya çıktık. Dolaşırken gördüklerimiz bizi hiç mutlu etmemişti. Ormanda ilerledikçe içimizdeki neşe sönüyordu. Bu güzel ormanın her yeri çöp içindeydi. Daha önce piknik yapanlar çöplerini toplamadan gitmişlerdi.

Bizim mutsuz olduğumuzu gören babam, elimize birer poşet tutuşturdu. Hep birlikte çöpleri toplamaya başladık. Akşam eve döndüğümüzde yorulmuştuk ama hepimizin yüzü gülüyordu. Çevremizi temizleyerek çok güzel bir iş başarmıştık.

➡ Aşağıdaki soruları yukarıdaki metne göre cevaplayalım.

➡ Çocuğun anne ve babası neden hazırlık yapmışlar?



➡ Çocuk ve ailesinin içindeki neşe neden sönüyormuş?



➡ Babaları çocuklarına neden poşet vermiş?



MATEMATİK

Saatleri Öğrenelim

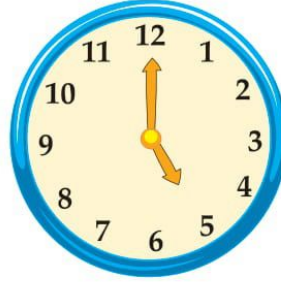
➤ Saatlerin kaç gösterdiğini altlarına yazalım.



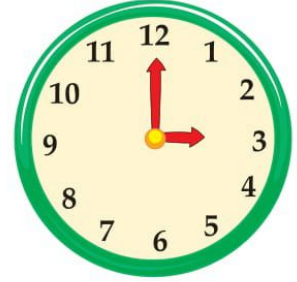
Saat: 10 . 00



Saat: . .



Saat: . .



Saat: . .



Saat: . .



Saat: . .



Saat: . .



Saat: . .


➤ Saatlerin akrep ve yelkovanlarını çizelim.




Saat: 08.00




Saat: 06.00




Saat: 11.00




Saat: 04.00




Saat: 05.30



Saat: 02.30



Saat: 09.30



Saat: 12.30

➤ Aşağıdaki bilmeceleri cevaplarıyla eşleştirelim.

Yer altında yuvası var,
fırça gibi dikenli var.



Hanım içerde,
saçı dışarıda.



Ay varken uçar,
gün varken kaçar.



Bir küçük fıçık,
içi dolu turşucuk.



Daldan dala atlarım,
kuyruğumdan sarkarım.



➤ Aşağıdaki davranışlardan sağlığınıza zarar verebilecek olanları boyayalım.

Merdivenlerden
koşarak
inmek

Ders
çalışmak

Trafik
kurallarına
uymak

Pencereden
aşağı
sarmak

Elektrik
prizleriyle
oynamak

Odamızı
temizlemek

Ateşle
oynamak

Islak
zeminde
yürümek

Yılın aylarını numaralandırarak sıralayalım.

Mart

Eylül

Şubat

1 Ocak

Kasım

Ağustos

Haziran

Ekim

Temmuz

Nisan

Aralık

Mayıs

Haftanın günlerini sırasıyla yazalım.

1. Pazartesi 2. _____ 3. _____ 4. _____

5. _____ 6. _____ 7. _____

Cümlelerdeki boşlukları yandaki takvim yaprağına göre dolduralım.

Takvim _____ yılına aittir.

Takvimde gösterilen ay _____ ayıdır.

Ocak ayı _____ gündür.

Ocak ayı _____ günü ile başlamakta-
dır.

Ocak ayında _____ perşembe günü vardır.

Ayın son günü _____ günüdür.

OCAK 2020						
Pa	Sa	Ça	Pe	Cu	Ct	Pz
		1	2	3	4	5
6	7	8	9	10	11	12
13	14	15	16	17	18	19
20	21	22	23	24	25	26
27	28	29	30	31		

Özel isimlerin yazılı olduğu bulutları boyayalım.

Nalan

Tepsi

Fare

Edirne

Matara

Özlem

Aşçı

İzmir

Cümlelerin sonuna nokta veya soru işaretinden uygun olanını koyalım.

- ☆ Bugün nereye gideceğiz
- ☆ Temiz kıyafetler giymelisin
- ☆ Tahtaya yazdıklarımı anladınız mı
- ☆ Bu soruyu birlikte çözelim
- ☆ Sana masal anlatmamı ister misin

Aşağıdaki cümlelerden doğru olanların başındaki heceleri yazarak şifreyi çözelim.

CA Ülkemizin adı Türkiye Cumhuriyeti'dir.

TÜR Ülkemizin başkenti Bursa'dır.

NİM Bayrağımızın rengi kırmızı ve beyazdır.

Kİ Bayrağımızda bir hilal ve üç yıldız vardır.

ÜL İstiklal Marşı'nı Mehmet Akif Ersoy yazmıştır.

KEM Bayrağımız bağımsızlığımızın sembolüdür.

YE Bayrağımız üçgen şeklindedir.

ŞİFRE:

DEĞERLENDİRME TESTİ

1. Aşağıdaki toplama işlemlerinden hangisinde verilen toplanan 10'dan büyüktür?

A) $7 + \dots = 13$

B) $9 + \dots = 16$

C) $\dots + 8 = 19$

2. Aşağıdaki işlemlerden hangisinin sonucu yanlıştır?

A)
$$\begin{array}{r} 7 \\ + 6 \\ \hline 13 \end{array}$$

B)
$$\begin{array}{r} 16 \\ - 9 \\ \hline 8 \end{array}$$

C)
$$\begin{array}{r} 14 \\ - 5 \\ \hline 9 \end{array}$$

3. Ağaçtaki kuşlardan 7 tanesi uçunca ağaçta 5 kuş kaldı. Başlangıçta ağaçta kaç kuş vardı?

A) 8

B) 12

C) 14

4. Aşağıdaki ifadelerden hangisi yanlıştır?

A) 5 bütün 8 yarım eder.

B) 6 yarım 3 bütün eder.

C) 1 elmayı iki eşit parçaya böldüğümüzde yarım parçalar elde ederiz.

5. → Yılın ilk ayı _____ aydır.

→ Bir yılda _____ ay vardır.

→ Bir haftada _____ gün vardır.

Yukarıdaki boşluklara aşağıdakilerden hangisi yazılırsa yanlıştır?

A) yedi

B) dört

C) ocak

6. Aşağıdakilerden hangisinde verilen kelime ikilisi zıt anlamlıdır?

- A) güzel - tatlı
- B) yeşil - beyaz
- C) zayıf - şişman

7. Aşağıdaki cümlelerden hangisinde özel isim yanlış yazılmıştır?

- A) Tatilde Kars'a gideceğiz.
- B) Kardeşim Ayla dün iki yaşına girdi.
- C) Büyük halam ankarada oturuyor.

8. Aşağıdaki cümlelerden hangisinin sonuna nokta koyulmalıdır?

- A) Ekmek de alalım
- B) Saat kaçta gelirsiniz
- C) Hangi renk kalemi istersin

9. Yemek yerken hangisini yapmamız yanlış olur?

- A) Ağızımızda yemek varken konuşmamak
- B) Ağızımızın kenarını üstümüze silmek
- C) Çatal, kaşık, bıçak kullanmak

10. Aşağıdakilerden hangisi tehlikeli bir davranıştır?

- A) Ellerimizi sabunla yıkamak
- B) Telefon kullanmak
- C) Çakmak, kibrit ve ateşle oynamak

Okuduğumuz kitaba göre hikaye haritasını tamamlayalım. Hikayenin konusunu ve ana fikrini yazalım.

Kitabın Adı

Karakterler


Hikayenin Geçtiği Yer

Hikayenin Geçtiği Zaman

Hikayede Geçen Olay

Hikayenin Konusu

Hikayenin Ana Fikri



Okuduğumuz kitapla ilgili 3 soru yazalım ve cevaplayalım.

1. _____ ?

2. _____ ?

3. _____ ?

1.C 2.B 3.B 4.A 5.B 6.C 7.C 8.A 9.B 10.C

Değerlendirme Testi Cevap Anahtarı

Sudoku Çözelim

Tablolardaki her satırı, her sütunu ve her kutucuğu 1'den 4'e kadar olan sayıları tek bir defa kullanarak dolduralım.

4		1	
	3		
1		3	



3			
			1
4		1	
	2		



			1
	1	3	
4			2