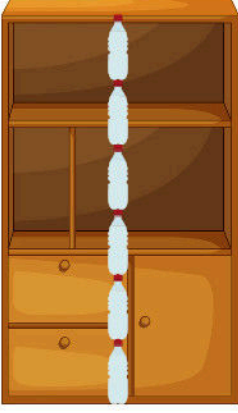


## Uzunluk Ölçme (Uzunlukları Ölçelim - 1)

1. Noktalı yerleri görselleri inceleyerek dolduralım.



Dolabın boyu .....  
şişe uzunluğundadır.




Dolabın eni ..... şişe  
uzunluğundadır.




Koltuğun boyu .....  
kalem uzunluğundadır.



Koltuğun eni .....  
kalem uzunluğundadır.



Çantanın boyu .....  
küp uzunluğundadır.



Çantanın eni .....  
küp uzunluğundadır.

2. Aşağıdakilerden hangilerini karışla ölçebiliriz? İşaretleyelim.



3. Diş fırçasının uzunluğunu hangi ölçme aracıyla ölçebiliriz? İşaretleyelim.

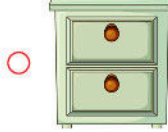
 Adım

 Parmak

 Kulaç

 Ayak

4. Hangilerini parmakla ölçmemiz daha uygun olur? İşaretleyelim.



5. Çantamızın boyunun uzunluğunu hangi ölçme aracıyla ölçebiliriz? İşaretleyelim.


 Karış

 Parmak

 Kulaç

 Adım

6. Aşağıdaki soruları verilen bilgilere göre cevaplayalım.



Yandaki halının boyunu; **İşıl 13 adım**,  
**Emre 15 adım**, **Sevim 16 adım**  
ölçmüştür.

a. Çocuklardan hangisinin adımı en uzundur? .....

b. Çocuklardan hangisinin adımı en kısadır? .....

c. Çocukların halının boyunu farklı ölçmelerinin nedeni nedir? .....

## Uzunluk Ölçme (Uzunlukları Ölçelim - 2)

1. Aşağıda verilen uzunlukları uygun ölçme araçlarıyla eşleştirelim.

Buzdolabının boyu •

Çantamızın boyu •

Silgimizin boyu •

Koltuğun uzunluğu •

Okul bahçesinin boyu •

Yazı tahtasının uzunluğu •



2. Aşağıda verilen uzunlukları tahmin edelim. Ölçümleri yapalım. Sonuçları yazalım.

Kitabımın boyu ..... parmak kadardır.

Sıramın uzunluğu ..... karış kadardır.

Kalemliğimin uzunluğu ..... parmak kadardır.

Öğretmen masasının genişliği ..... ayak kadardır.

Yazı tahtasının genişliği ..... kulaç kadardır.

Sınıfın uzunluğu ..... adım kadardır.

