






































## Paralarımız - 2

1. Aşağıdaki noktalı yerleri ürünlerin fiyatlarına göre dolduralım.

				
75 KR	5 TL	1 TL	25 KR	20 KR
				
80 KR	4 TL	2 TL	3 TL	50 KR




 +  + 	.....	 +  +  + 	.....
 +  +  + 	.....	 +  +  + 	.....
 +  + 	.....	 +  + 	.....
 +  + 	.....	 +  + 	.....

2. Aşağıdaki ürünlerin fiyatlarını inceleyelim. Verilen cümlelerdeki boşlukları ürünlerin fiyatlarına göre dolduralım.



- En pahalı ayakkabının fiyatı ..... TL'dir.
- Spor ayakkabının fiyatı, kahverengi ayakkabıdan ..... TL pahalıdır.
- En ucuz ürünün fiyatı ..... TL'dir.
- Pembe ayakkabı, bebek ayakkabısından ..... TL ucuzdur.
- Terliğin fiyatı, ..... fiyatından 60 TL ucuzdur.
- Gri ayakkabı ile ..... fiyatları aynıdır.

3. Ayça cebindeki paralarla her sıradaki üründen en az üç tanesini almak istiyor. Ayça'nın hangi ürünleri alabileceğini işaretleyerek gösterelim.



4. Aşağıdaki ürünleri, fiyatlarıyla aynı miktarda olan paralarla eşleştirelim.





7.



Yukarıdaki oyuncakların tamamını almak isteyen Sefa, ne kadar para ödemelidir?


8. 4 tane 25 kr ve 6 tane 100 kr kaç TL eder?


9.



Kitabın fiyatı, defterin fiyatının 2 katından 5 TL fazladır. Buna göre, kitap kaç TL'dir?


10. 5 tane 10 kr, 3 tane 50 kr, 12 tane 1 TL kaç lira eder?


Aşağıdaki soruları menüye göre cevaplayalım.



11. Ceren mercimek çorbası, mantarlı makarna ve su almıştır. Kaç TL ödemesi gerekir?


12. Kaan, çoban salata ve domatesli makarna yemiştir, bir de ayran içmiştir. Kaç TL ödemesi gerekir?


13. Özlem önce ezogelin çorbası içmiş, ardından da domatesli makarna ve cacık yemiştir. Kaç TL ödemesi gerekir?


## Paralarımız İle İlgili Problemler - 2

Aşağıdaki soruları görsele göre cevaplayalım.



1. Ürünler arasında en pahalı olanı ile en ucuz olanı arasındaki fark kaç TL'dir?


2. Nalan 50 TL'si ile en fazla kaç tane ürün alabilir?


3. Ayla, bir ceket ve terlik alıp satıcıya 90 TL vermiştir. Kaç TL para üstü almalıdır?


4.



Satıcıya yukarıdaki kadar para veren Nureddin hangi ürünü almıştır? .....

5. Akın babasına hediye etmek için çanta, cüzdan ve atkı almıştır. Satıcıya kaç TL ödemelidir?


6. Hakan'ın 63 TL'si vardır. Valiz alabilmek için Hakan'ın kaç TL'ye daha ihtiyacı vardır?


7. Nurgül 80 TL'si ile bir elbise ve terlik almıştır. Satıcı, para üstü olarak 5 TL vermiştir. Eksik para üstü verdiğini farkeden satıcı, Nurgül'e kaç TL daha vermeli-dir?


8. İklim, tanesi 25 kr olan sakızlardan 4 tane, tanesi 50 kr olan dondurmalarından da 2 tane almıştır. İklim'in kaç lira ödemesi gerekir?


9. Aylin 3 kilo hamsi alarak, satıcıya 15 TL verdi. Buna göre, 1 kilo hamsi kaç liradır?


10. Hasan'ın cebinde en büyük maddeni paradan 7 tane, en küçük kağıt paradan da 4 tane vardır. Hasan'ın cebinde toplam kaç TL vardır?


11. Ekin'in 44 TL'si var. Arzu'nun parası Ekin'in parasından 18 TL azdır. Ekin ve Arzu'nun paraları toplamı kaçtır?


12.



İnci'nin kumbarasında yukarıdaki kadar para vardır. İnci parasının yarısıyla kitap alırsa, geriye kaç TL'si kalır?


13. 5 kutu sakız 20 TL'dir. Bir kutu sakız kaç TL'dir?


14. Cengiz kasiyere 60 TL vermiştir. Para üstü olarak 7 TL aldığına göre, Cengiz kaç liralık alışveriş yapmıştır?


15. Saniye 20 TL'si ile tanesi 2 TL olan çikolatalardan kaç tane alabilir?


### Öğrendiklerimizi Pekiştirelim - 5

1. En büyük madeni paramız kaç TL'dir?

- A. 1 B. 5 C. 10



Yukarıdaki paralarla aşağıdaki oyuncaklardan hangisini alamayız?



3.



Ayşe'nin cüzdanında kaç TL'si vardır?

- A. 6 B. 4 C. 2

4.



Polat'ın 57 TL'si vardır. Yukarıdaki kalemi alabilmesi için kaç TL daha biriktirmesi gerekir?

- A. 8 B. 18 C. 23

Hakim Yayıncılık

5. Vildan kermeste 13 TL'ye bir dilim pasta, 5 TL'ye içecek, 25 TL'ye de kırmızı bir çanta almıştır. Vildan kaç TL harcamıştır?

- A. 38 B. 40 C. 43

6. Emre tanesi 3 TL olan keklerden 7 tane, tanesi 5 TL olan keklerden 6 tane almıştır. Emre kaç TL ödeme yapmalıdır?

- A. 41 B. 51 C. 65

7. Vedat, 4 arkadaşıyla beraber sinemaya gidecektir. Bir sinema bileti 9 TL olduğuna göre, kaç TL ödemeleri gerekir?

- A. 32      B. 36      C. 45

8. Bir ekmek 1 TL, bir sakız 25 kr'dir. 4 ekmek ve iki sakız alırsam ne kadar ödemem gerekir?

- A. 4 TL 50 kr  
B. 5 TL  
C. 5 TL 25 kr

9. 100 kr kaç TL eder?

- A. 2      B. 1      C. 10

10. Aşağıdakilerden hangisini değeri en küçük olan kağıt paramızla alabiliriz?



11. Ahmet tanesi 3 TL olan keklerden 10 tane, Tanesi 6 TL olan keklerden 5 tane almıştır. Ahmet Kaç TL ödeme yapmalıdır?



Aşağıdaki soruları görsele göre cevaplayalım.



12. Esin dilimi 12 TL olan kekten 2 dilim, 6 TL olan kekten 3 dilim almıştır. Kaç TL ödemelidir?

- A. 24      B. 30      C. 42

13. Tanesi 8 TL ve 3 TL olan keklerden 5'er tane aldım. Pastacıya 60 TL verdim. Kaç TL para üstü almam gerekir?

- A. 5      B. 8      C. 10



## Ünite Değerlendirme - 2

1.



Yukarıdaki meyve ile ilgili aşağıdakilerden hangisi doğrudur?

- A. Bir karpuzun 4 eşit parçasından biridir.
- B. Aynı parçadan 5 tane daha olursa bütün karpuz elde ederiz.
- C. Aynı parçadan 3 tane daha olursa yarım karpuz elde ederiz.

2. 12 yarım ve 8 çeyrek limon kaç bütün limon eder?

- A. 20
- B. 12
- C. 8

3. Esra kağıda bir kare çizmiş ve yarısını boyamıştır. Aşağıdakilerden hangisi Esra'nın çizdiği kare olabilir?



4. Zeynep sabah 7:00'da uyanıyor. Uyandıktan 45 dakika sonra okulda oluyor. Zeynep'in okula vardığı saat hangisinde verilmiştir?

A.



B.



C.



5. Azra ve Rukiye 3 buçuk saat sonra buluşacaklardır. Saat şimdi 13:00 olduğuna göre, Azra ve Rukiye kaçta buluşacaklardır?

A.




B.



C.



Aşağıdaki 3 soruyu görsele göre cevaplayalım.



6. 2 silgi ve bir cetvel alırsam ne kadar ödemem gerekir?

- A. 2 TL 20 kr
- B. 2 TL 80 kr
- C. 3 TL

7. Ferit, 4 açacak ve 2 fırça alıp satıcıya 10 TL vermiştir. Kaç TL para üstü almalıdır?

- A. 6
- B. 7
- C. 8

8. Kalem silgiden kaç kuruş fazladır?

- A. 40
- B. 50
- C. 60

9. Mart ayı hangi mevsimdedir?

- A. Kış
- B. Yaz
- C. İlkbahar

10. Aşağıdakilerden hangisi yılın 5. ayıdır?

- A. Mayıs
- B. Haziran
- C. Temmuz

11. Haftada 7 TL biriktiren Samet, bir ayda kaç TL biriktirmiş olur?

- A. 14
- B. 28
- C. 32

12. Hamza, her cumartesi-pazar gitar kursuna gidiyor. Hamza bir ayda kaç gün gitar kursuna gider?

- A. 4
- B. 6
- C. 8