


Tartma - 1

1. Aşağıda verilenlerden kilogramla satın aldıklarımızı işaretleyelim.



2. Aşağıdakilerden ağırlık ölçmek için kullandıklarımızı işaretleyelim.



3. Aşağıdaki ürünlerin kütlelerini altlarına yazalım. Kütlelerine göre büyükten küçüğe doğru sıralayalım.



4. Aşağıdaki meyveleri kütlelerine göre küçükten büyüğe doğru sıralayalım.



	-		-		-		-		-	
--	---	--	---	--	---	--	---	--	---	--

5. Aşağıdaki soruları görsele göre cevaplayalım. Noktalı yerleri uygun sayılarla dolduralım. Kütleleri küçükten büyüğe doğru sıralayalım.



	-		-		-	
--	---	--	---	--	---	--

a. Kavun karpuzdan 13 kilogram hafif olduğuna göre, kavun kaç kilogramdır?

--	--	--	--	--	--	--	--	--	--	--	--	--	--	--	--	--	--	--	--

c. Balkabağı, karpuzdan 10 kilogram ağır olduğuna göre, balkabağı kaç kilogramdır?

--	--	--	--	--	--	--	--	--	--	--	--	--	--	--	--	--	--	--	--

b. Elmaların kilogramı, kavun ve karpuzun toplam kilosuna kadardır. Elmalar kaç kilogramdır?

--	--	--	--	--	--	--	--	--	--	--	--	--	--	--	--	--	--	--	--

ç. En ağır ve en hafif olan yiyeceklerin farkı kaçtır?

--	--	--	--	--	--	--	--	--	--	--	--	--	--	--	--	--	--	--	--

Tartma - 2

1. Aşağıdaki soruları görsele göre cevaplayalım. Kütleleri büyükten küçüğe doğru sıralayalım.



	—		—		—		—	
--	---	--	---	--	---	--	---	--

a. Zeki ile Nesrin'in kütlelerinin farkı kaçtır?

c. Sevgi'nin kütlesi kaç kilogram daha artarsa Giray'in kütlesi ile aynı olur?

b. Hangi çocukların kütlelerinin toplamı 62 kilogramdır?

ç. Sevgi, Leman ve Nesrin'in kütlelerinin toplamı kaç kilogramdır?

2. Terazilerde verilen toplam kütleleri kullanarak, terazilerin üstündeki ürünlerin ağırlıklarını bulalım.



Karpuz = ___ Kg



Kavun = ___ Kg



Ananas = ___ Kg



Un = ___ Kg

Öğrendiklerimizi Pekiştirelim - 7

1. Aşağıdakilerden hangisinin ağırlığını kilogram ile ölçeriz?


- A. Süt
B. Yağ
C. Şeker

2. Bir çuvalı 6 kilogram olan mercimekten 4 çuval aldık. Kış boyu 18 kilogramını tükettik. Geriye kaç kg mercimek kaldı?

- A. 8
B. 6
C. 4

3. Nureddin 63 kilogramdır. Bilek güreşi müsabakalarına katılabilmesi için 50 kg olması gerekmektedir. Nureddin'in kütlesi kaç kilogram azalmalıdır?

- A. 10
B. 12
C. 13

4.  Aşağıdakilerden hangisi yandaki hayvanın ağırlığı olabilir?

- A. 7
B. 23
C. 36

5. Annem komşularıyla beraber aşure malzemesi almak için alışverişe çıktı. Annem 4 kg buğday, Emine Teyze 12 kg nohut, Fatma Teyze de 9 kg kuru fasulye aldı. Üçünün aldığı bakliyatlar toplam kaç kg'dır?

- A. 25
B. 26
C. 29

6. Giray'ın kütlesi 48 kg'dır. Gül'ün kütlesi, Giray'ın kütlesinden 19 kg az olduğuna göre, Giray ve Gül'ün kütleleri toplamı kaç kg'dır?

- A. 77
B. 67
C. 64

7. Yarım kilogram muz 4 TL olduğuna göre, 5 kg muz kaç TL eder?

- A. 35
B. 40
C. 45

8.



Yukarıda 3 çocuğun kütleleri verilmiştir. Buna göre aşağıdakilerden hangisi doğrudur?

- A. Nail'in kütlesi, Sude'den 20 kg fazladır.
- B. Kütlesi az olan çocuk Selma'dır.
- C. Selma'nın kütlesi, Nail'den 13 kg azdır.

9. Aşağıdaki varlıklardan hangisi diğerlerine göre daha ağırdır?




10. Bir köylü pazara götürdüğü 98 kg domatesin 56 kilogramını sattı. 13 kilogramını da çürük olduğu için attı. Geriye kaç kg domates kaldı?

- A. 32
- B. 29
- C. 23


11.



22 kg



27 kg



? kg

Manav pazartesi günü toplam 81 kg meyve aldı. Aldığı meyvelerden kaç kilogramı portakaldır ?

- A. 27
- B. 32
- C. 35

12. Babam 9 kasa çilek getirdi. Bir kasa çilek 5 kg olduğuna göre, çileklerin kütlesi toplam kaç kg'dır?

- A. 36
- B. 40
- C. 45

13. Kardeşim 8 kg'dır. Ben ise onun kütlesinin 4 katından 6 fazlayım. Benim kütlem kaç kilogramdır?

- A. 24
- B. 32
- C. 38

Ünite Değerlendirme - 3

1., 2. ve 3. soruları sıklık tablosuna göre cevaplayalım.

Tablo: Hayvanların uzunlukları

Hayvanlar	Uzunlukları
Civciv	13 cm
Kedi	34 cm
Köpek	71 cm
Kuzu	83 cm

1. Hayvanlardan en uzununu ile en kısası arasındaki fark kaçtır?

A. 60 B. 63 C. 70


2. Kedi ile civcivin boylarının toplamı kaçtır?

A. 45 B. 47 C. 49

3. Köpek kediden kaç santimetre uzundur?

A. 37 B. 35 C. 33

4. Aşağıdaki hayvanlardan hangisinin gerçek kütlesi daha fazladır?



5. Günde 48 metre yol yürüyen birisi 2 günde kaç metre yol yürür?

A. 86 B. 92 C. 96

6. Benim kalemim 18 cm'dir. Arkadaşımın kalemi benim kalemimden 9 cm kısadır. İkimizin kalemimizi uç uca koyarsak boyları kaç cm olur?

A. 23 B. 25 C. 27

7. Selim 18 metre daha yürürse 43 metre yürümüş olacak. Selim başta kaç metre yürümüştür?

A. 27 B. 25 C. 35

8., 9. ve 10. soruları çantaların kütlelerine göre cevaplayalım.



8. Çantaların kütlelerinin hafiften ağıra doğru sıralaması aşağıdakilerden hangisinde verilmiştir?



9. Çantaların ağırlıkları toplamı kaç kg'dır?

A. 63 B. 53 C. 73

10. Mavi çanta, yeşil çantadan kaç kg ağırdır?

A. 25 B. 200 C. 15

11., 12., 13. ve 14. soruları nesne grafiğine göre cevaplayalım.

Tablo: 2. Sınıftaki Öğrenciler

Sınıf	Kızlar	Erkekler
2/A		
2/B		
2/C		

Not: Her nesne 3 öğrenciyi gösterir.

11. 2/A sınıfının mevcudu kaçtır?

A. 14 B. 18 C. 21

12. En çok öğrenci hangi sınıftadır?

A. 2/A B. 2/B C. 2/C

13. 2. sınıflarda toplam kaç öğrenci vardır?

A. 50 B. 55 C. 57

14. 2. sınıflardaki kız öğrenci sayısı erkek öğrenci sayısından kaç fazladır?

A. 3 B. 6 C. 9