

Ad-Soyad: _____

No: _____

Hayat Bilgisi Çalışma Kağıdı

İstek ve İhtiyaçlarımızı Karşılarken



1. Aşağıdaki cümleleri verilen kelimelerden uygun olanları ile dolduralım. Kelimelerin altlarındaki harfleri kullanarak bilmecenin cevabını bulalım.

isteklerimiz

M

harçlık

A

biriktir

T

para

L

birbirine

K

tutumlu

R

barınma

B

ihtiyaçlarını

U

aile

E

ısrarcı

S

1. Beslenme, _____ ve giyinme bir insanın en temel ihtiyaçlarındandır.
2. İhtiyaç ve isteklerimizi karşılamak için kullandığımız araca _____ denir.
3. Ailemizin _____ ve isteklerini aile bütçemize göre belirlemeliyiz.
4. Özel eşyalarımızı özenli kullanarak _____ bütçesine katkıda bulunmuş oluruz.
5. Biriktirdiğimiz paraları ailemize sorarak, _____ için kullanabiliriz.
6. Aile büyüklerimiz, bazı ihtiyaçlarımızı karşılamamız için bize _____ verirler.
7. Harçlığımızı harcarken _____ olmalıyız.
8. Harçlığımızla ihtiyaçlarımızı karşıladıktan sonra, kalanını _____meliyiz.
9. Bazı isteklerimiz aile bütçemizi aşabilir. Bu isteklerimizin gerçekleşmesi için ailemize _____ olmamalıyız.
10. İstek ve ihtiyaçlarımızın farkında olmalı, _____ karıştırmamalıyız.



Ağız var, gözü yok

Küçük kutu, çok tutumlu.

10

3

5

1

6

7

6

2. Aşağıdakilerden bir öğrenci için ihtiyaç olanlarını işaretleyelim.



Ben İşıl. 3. sınıfa gidiyorum. Bir öğrenci olarak hangilerinin ihtiyaç, hangilerinin istek olduğuna karar vermekte zorlanıyorum. Bana yardımcı olur musun?

<input type="radio"/>	<input type="radio"/>	<input type="radio"/>	<input type="radio"/>
<input type="radio"/>	<input type="radio"/>	<input type="radio"/>	<input type="radio"/>
<input type="radio"/>	<input type="radio"/>	<input type="radio"/>	<input type="radio"/>
<input type="radio"/>	<input type="radio"/>	<input type="radio"/>	<input type="radio"/>
<input type="radio"/>	<input type="radio"/>	<input type="radio"/>	<input type="radio"/>

3. Osman, 3 aydır biriktirdiği paralarla kendisi için bir şeyler alacaktır. Osman'ın kumbarasından çıkan 44 TL ile alabileceği ürünlerin kutucuklarını boyayalım.



110 TL




35 TL



25 TL



59 TL



85 TL



38 TL



3 TL



39 TL



4 TL



16 TL

Ad-Soyad: _____

No: _____

Hayat Bilgisi Çalışma Kağıdı

Öğrendiklerimizi Pekiştirelim - 4



1. Aşağıdaki teknolojik aletlerden hangisini evimizde kullanmayız?

A)



B)



C)



2.



Yukarıdaki aletleri hangi alanda kullanırsınız?

A) Pişirme

B) Isınma

C) Temizlik

3. Aşağıdaki aletlerden hangisini ısınma alanında kullanırsınız?

A) Süpürge

B) Televizyon

C) Kombi

4. Aşağıdaki ifadelerden hangisi doğrudur?

A) Bulaşıkları makine yerine elde yıkayarak daha fazla su tüketmiş oluruz.

B) Elektrikli süpürge yerine çalı süpürgesi kullanıp hem elekt- rikten hem de zamandan ta- sarruf ederiz.

C) Çamaşır makinesini sıkıştırarak doldurup çalıştırırsak, daha az suyla daha fazla temizlik ya- parız.

5. Günlük ya da haftalık işlerimizi planlayacağımız zaman, planımız- da hangisinin olması gerekmez?

A) İşlerin öncelik sırasının belirlen- mesi

B) İşlerin ne zaman yapılacağı

C) Yapılacak işlerden en çok han- gisinin sevildiği

6. ★ Başarımızı arttırmak için plan yapmalıyız.

▲ Haftasonları ödev yapmamalıyız.

■ Sabahları erken kalkmak için akşamları erken yatmalıyız.

● Planlı yaşamamanın başarımıza etkisi yoktur.

Yukarıdaki ifadelerden hangileri doğrudur?

A) ★ ve ■

B) ▲ ve ■

C) ★ ve ●

7. "Harçlığımı ihtiyaçlarım için kullanırım. Harcamadığım kısmını da biriktiririm. Biriktirdiğim paralarla aileme danışarak, istediğim şeyleri alırım."

Aşağıdakilerden hangisinin bu sözleri söyleyen kişinin özelliği olduğu söylenebilir?

A) Çok para harcamaktadır.

B) Tutumlu biridir.

C) Derslerinde başarılıdır.

8. Sevim 3. sınıfa giden bir öğrencidir. Aşağıdakilerden hangisi Sevim'in okul ihtiyaçlarından biri değildir?



9. Aşağıdakilerden hangisi ekmek israfını önlemek için yapılması gerekenlerden biri değildir?

A) Ekmeği sadece ihtiyacımız kadar almak.

B) Fazla ekmek alıp kuşlara vermek.

C) Ekmeği tüketemediğimiz zaman dolabımızın buzluk kısmında saklamak.

10. Bir günlük planda aşağıdakilerden hangisine daha fazla vakit ayrılmalıdır?

A) Ders çalışma

B) Beslenme

C) Uyuma

Ad-Soyad: _____

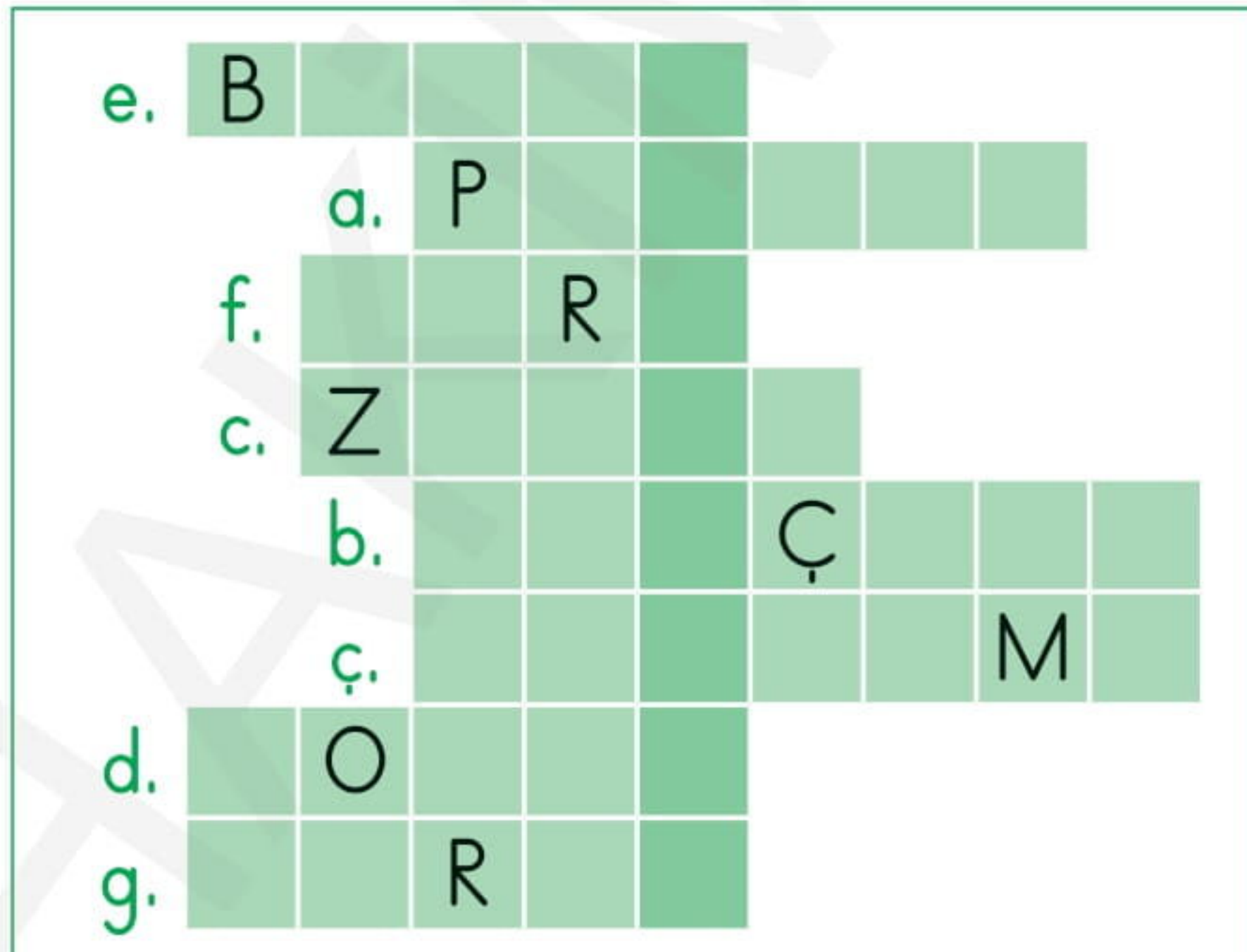
No: _____

Hayat Bilgisi Çalışma Kağıdı

Ünite Değerlendirme - Etkinlik



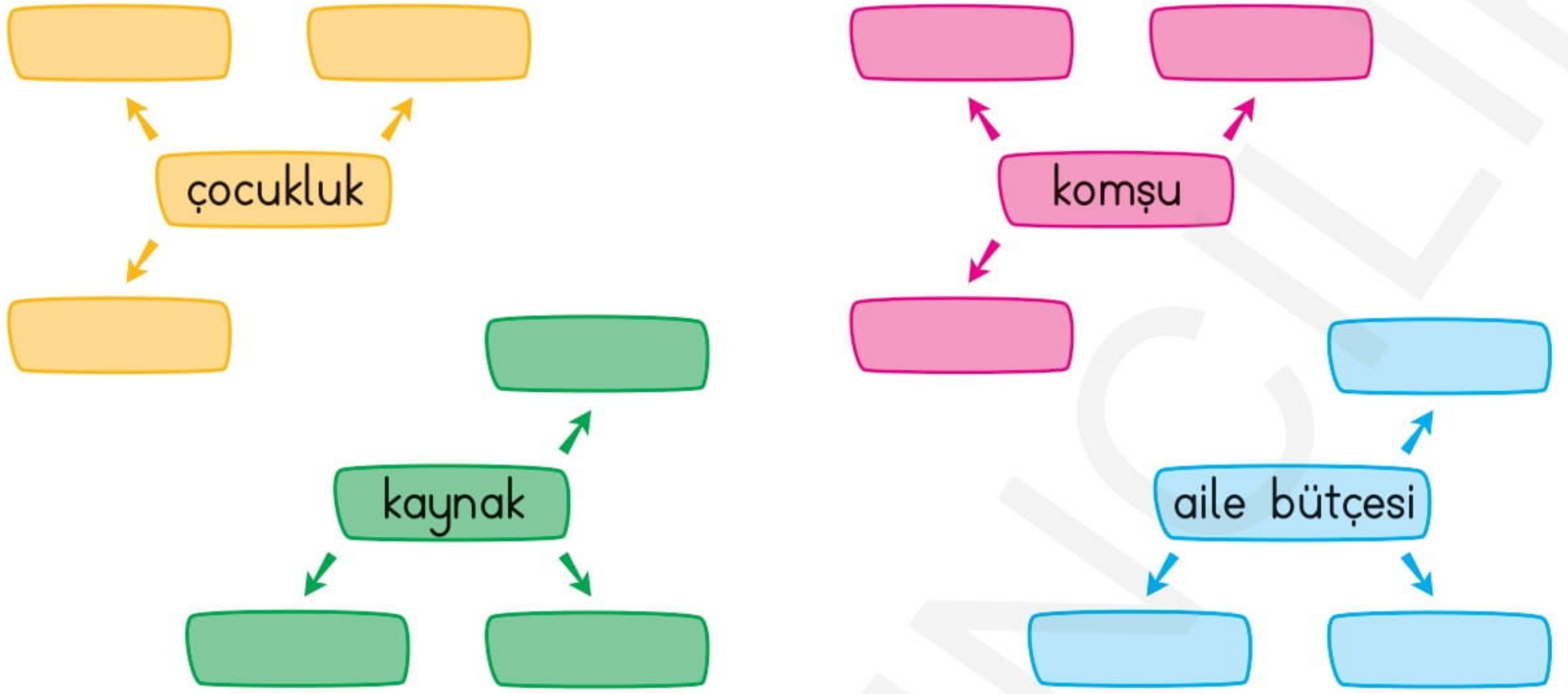
1. Aşağıdaki boşlukları uygun kelimelerle dolduralım. Bulduğumuz kelimeleri bulmacaya yazarak gizli kelimeyi bulalım.
 - a. Başarılı olmak için _____ yaşamalıyız.
 - b. Kendi ihtiyaçlarımızı karşılamamız için aile büyüklerimiz bize _____ verir.
 - c. Hangi işimize ne kadar _____ harcayacağımızı belirleyip, planımızı ona göre hazırlamalıyız.
 - ç. Beslenme, _____ ve giyinme en temel ihtiyaçlarımızdır.
 - d. _____ komşunun külüne muhtaçtır.
 - e. _____ ekmeklerimizi çöpe atmamalı, farklı yemeklerde kullanmalıyız.
 - f. Günlük planımız içinde, oyun oynama, _____ çalışma, kitap okuma, uyuma, beslenme, dinlenme gibi işlerimiz olmalıdır.
 - g. Elektrik, su, para, giyecek, yiyecek ve ekmek gibi kaynakları verimli kullanılmalı, _____ etmemeliyiz.



Parayı ya da tüketilecek herhangi bir şeyi dikkatli kullanma, idareli harcama



2. Aşağıdaki kutucuklara, verilen kelimelerin bize çağrıştırdığı kelimeleri yazalım.



3. Aşağıda verilen cümlelerden bazıları doğru bazıları yanlıştır. Burak'ın olduğu cümleden başlayarak, doğru ifadeleri takip edelim. Burak'ın arkadaşına hangi hediyeyi aldığını bulalım.



Dedemizden, bizim çocukluğumuza kadar sadece oyunlar değişmiştir.

D

Y

Sofra hazırlama, evdeki tozları alma, yerleri silme gibi işleri kendimiz yapabiliriz.

D

Y

Krokiler bize istediğimiz yeri bulmakta fayda sağlar.

D

Y

Kendi evimizde her istediğimizi yapmakta özgürüz.

D

Y

Ailemiz ve arkadaşlarımızla birlikte geçireceğimiz zamanı da planlamalıyız.

D

Y

İstek ve ihtiyaçlarımızı karşılarken aile bütçemizi korumalıyız.

D

Y

Telefonu başka insanlarla iletişim kurmak için kullanırız.

D

Y



Ad-Soyad: _____

No: _____



Hayat Bilgisi Çalışma Kağıdı

Ünite Değerlendirme - 2

1. Anneanesi, Eren'e çocukluğunda oynadığı oyunları anlatmaktadır. Buna göre, aşağıdakilerden hangisi anneanesinin ifadelerinden biri olamaz?

- A) Annemizin yaptığı bez bebeklerle evcilik oynardık.
- B) Körebe oynarken hep düşerdim.
- C) Evde olduğum zamanlarda tabletimdeki oyunları oynardım.

2. Saniye, öğretmenin verdiği ödev için, dedesinin geçmişte oynadığı oyunları, giydiği kıyafetleri, kullandığı eşyaları araştıracaktır.

Saniye ödevini yaparken aşağıdakilerden hangisinden faydalanmalıdır?

- A) İnternetten
- B) Dedesinin çocukluk fotoğraflarından
- C) Ansiklopedilerden

3. ▲ Hasta olduklarında komşuları mızı ziyaret etmek.

- ◆ Komşularımıza karşı güler yüzlü olmak
- Evimizdeki çöpleri pencereden aşağıya atmak
- ★ Komşularımızın ziline basıp kaçmak

Yukarıdaki davranışlardan hangileri komşularımızla ilişkilerimizi güçlendirir?

- A) ▲ ve ◆
- B) ▲ ve ●
- C) ◆ ve ★

4. Aşağıdakilerden hangisi evimizin etrafında bulunabilecek binalardan biri değildir?

- A) Okul
- B) Hastane
- C) Nükleer santral

5. Aşağıdakilerden hangisi evde kendi başımıza yapabileceğimiz işlerden değildir?

- A) Evdeki elektrikli aletlerin tamirini yapmak
- B) Kardeşimizle ilgilenmek
- C) Sofrayı hazırlarken ve kaldırırken anne ve babamıza yardım etmek

6. Aşağıdakilerden hangisi evdeki kaynakları özenli kullanan birinin davranışıdır?

- A) Bayat ekmekleri çöpe atmak
- B) Tabağımıza yiyebileceğimizden daha fazla yiyecek koymak
- C) Bayatlayan ekmeklerimizi kurutarak başka yemeklerde kullanmak

7. Aşağıdakilerden hangisini yaptığımızda tasarruf etmiş olmayız?

- A) Çamaşırlarımızı makine yerine elimizde yıkayarak
- B) Gereksiz yanan lambaları kapatarak
- C) Diş fırçalarken suyu kapalı tutarak

8. Aşağıdaki çocuklardan hangisinin zamanını verimli kullandığını söyleyemeyiz?

A)



Yapacağım işleri öncelik sırasına koyarak, haftalık planımı yapıyorum.

B)



Ben günlük ve haftalık plan yaparak, tüm işlerim için vakit ayırabiliyorum.

C)



Plan hazırlayarak vakit harcamıyorum. Derslerimi istediğim zaman yapıyorum.

9. Aşağıdakilerden hangisi bir öğrencinin zorunlu ihtiyaçlarından değildir?

- A) Bisiklet
- B) Kalem
- C) Defter