

Ad-Soyad: _____

No: _____



1. Aşağıda verilen yerlerden çocukların oyun oynaması için güvenli olanlarını işaretleyelim.

- Evimizin bahçesi
- Engebeli, taşlı yerler
- Okul bahçesi
- Boş binalar
- Yol kenarları
- Parklar

2. Güvenli bir sürüş için paten, kaykay ve bisiklet kullanırken hangilerini kullanmamız gereklidir? Yuvarlak içine alalım.



3. Güvenli bir oyun alanında olması gereken özellikleri işaretleyelim.

- Tehlikeli olabilecek tel, direk, kesilmiş sopalar olmamalıdır.
- Çocuklar düştüğünde yaralanmayacakları yumuşak zeminli alanlar olmalıdır.
- Bu alanlara sadece çocuklar girebilmelidir.
- Hasarlı oyuncaklar, yaralanmaya sebep olmadan tamir edilmelidir.
- Çocukların takılabileceği engeller olmamalıdır.
- Az araba geçmelidir.
- Kapılarında güvenlik görevlileri bulunmalıdır.
- Bisiklet yollarının, yürüyüş yollarının ve rampaların kenarında mutlaka korkuluklar bulunmalıdır.
- Eve yakın olmalıdır.

4. Aşağıdaki cümleleri uygun ifadelerle tamamlayalım.

tehlikeye

giyinmeliyiz

merdiveni

güvenlik

dizlik









dirseklik

bozuk

araç

top

kırık

-  Oyuncakları kullanmadan önce ya da olup olmadıklarını kontrol etmeliyiz.
-  Bisiklet, paten ya da kaykay gibi araçları trafiğinin olmadığı yerlerde sürmeliyiz.
-  Bisiklet, scooter, kaykay, paten ve kızak gibi motorsuz taşıtları kullanmadan önce önlemleri almalıyız.
-  Kask,, ve eldiven takmak; bisiklet, paten ya da kaykaya binerken alabileceğimiz güvenlik önlemlerindedir.
-  Oynayacağımız oyuna ve iklim koşullarına uygun, vücut hareketlerini engellemeyecek şekilde
-  Oyun oynarken kendimizin ve başkalarının güvenliğini atmamalıyız.
-  olan oyuncaklara tırmanırken dikkatli olmalı, acele etmemeliyiz.
-  Oyun sırasında güvenli olmayan yerlere kaçan gibi oyuncaklarımızın peşinden koşmamalıyız.

5. Oyun oynarken gerekli **güvenlik tedbirlerini almış** olan çocukların olduğu kutucukları işaretleyelim.



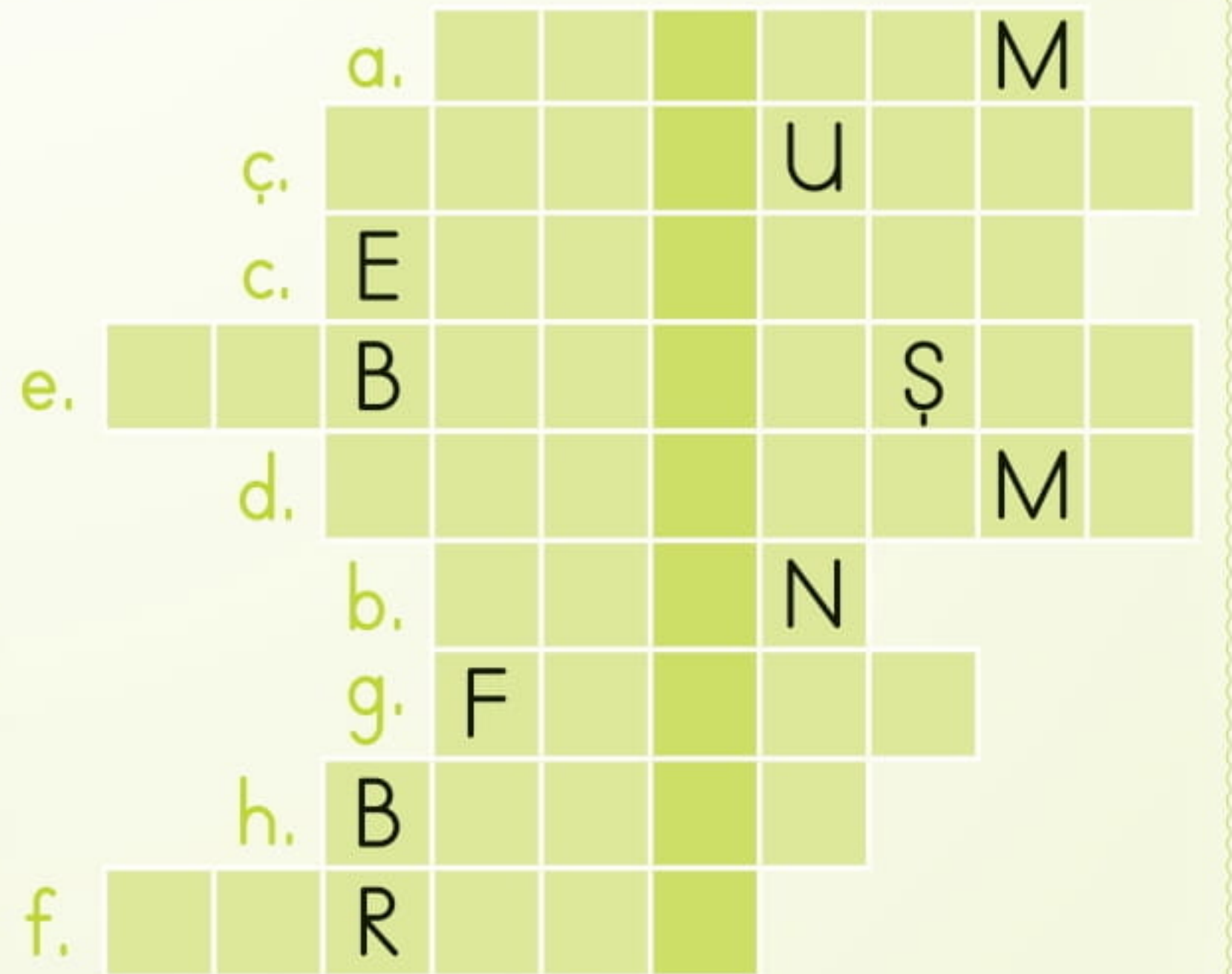
Ad-Soyad: _____

No: _____

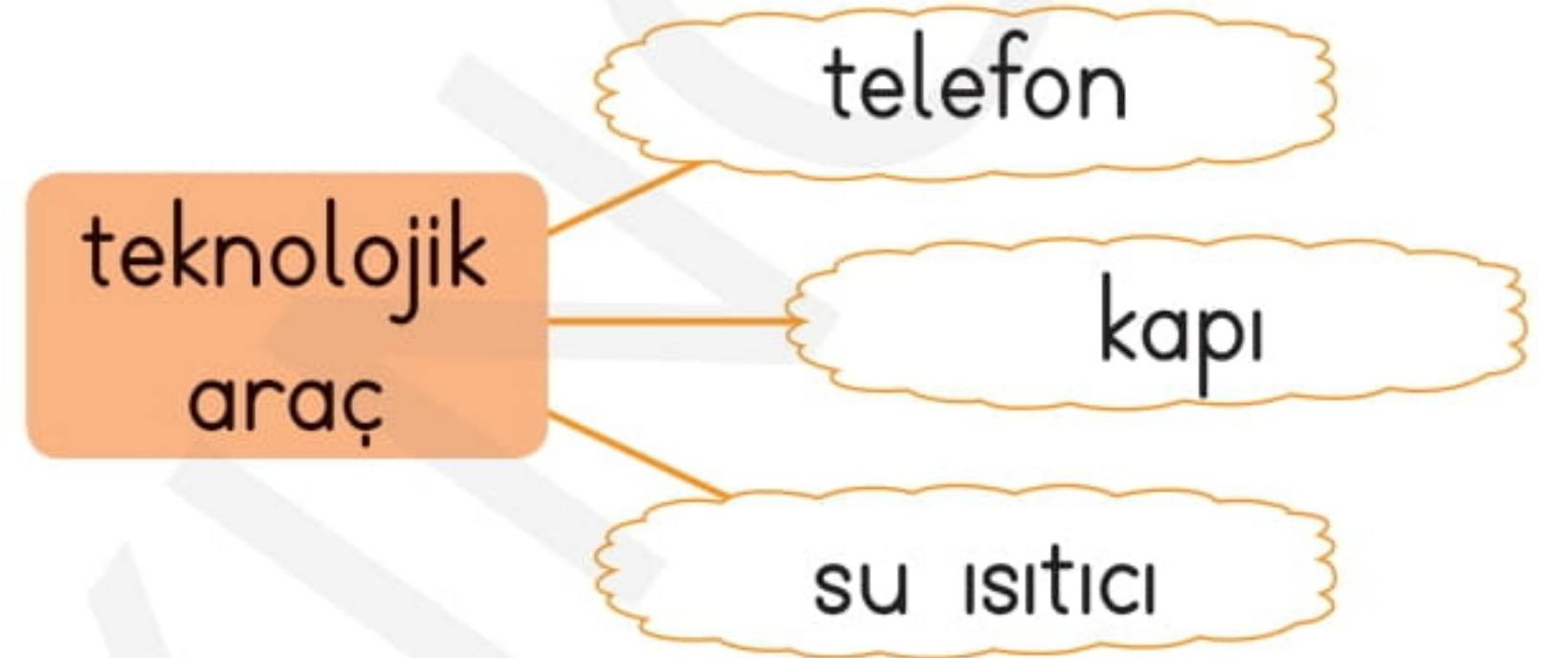
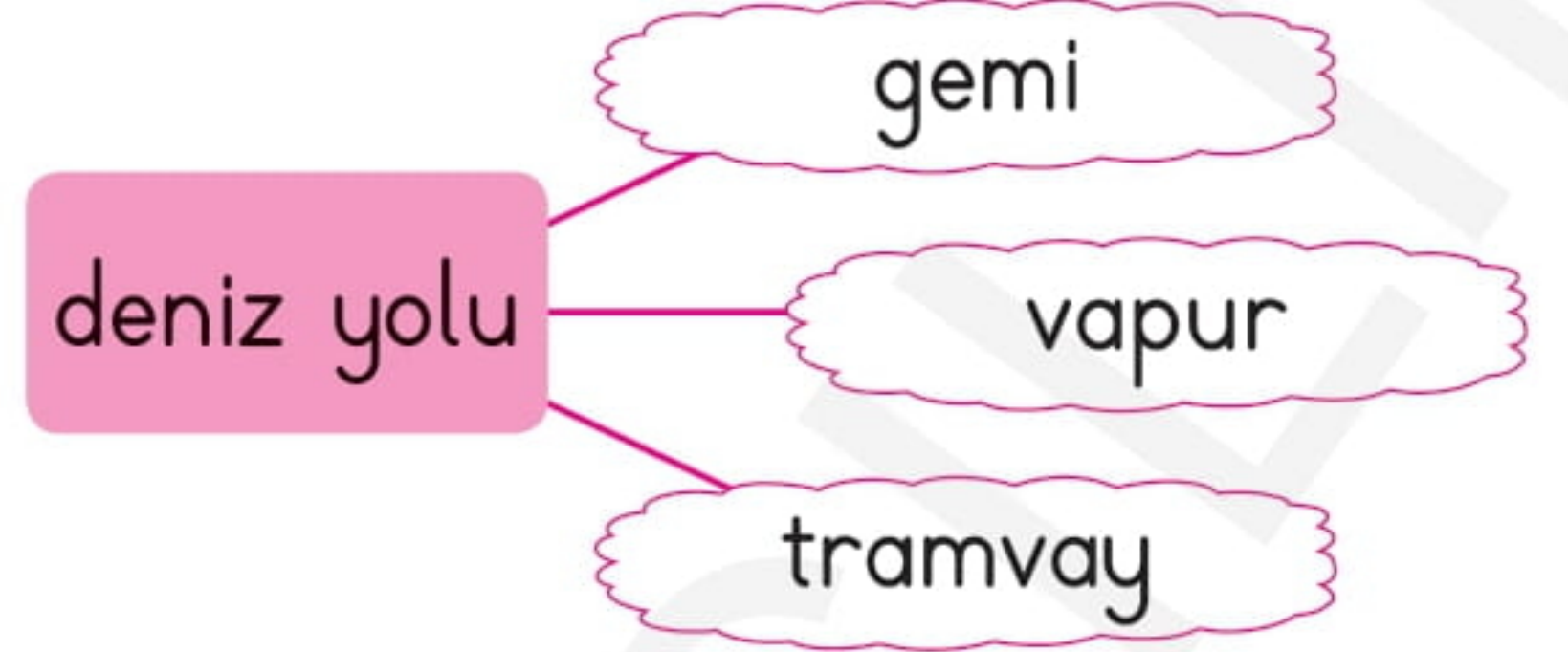
1. Aşağıdaki boşlukları uygun kelimelerle dolduralım. Bulduğumuz kelimeleri bulmacaya yazarak anlamı verilen kavramı bulalım.

- a. Kamyonlar kara yolunda giden araçlarıdır.
- b. Evimizin bahçesi, parklar, okul bahçeleri oynayabileceğimiz güvenli alanlardır.
- c. Okul servisinde güvenli bir yolculuk yapmak için kemeri takmalıyız.
- ç. Özel aracımızla yaparken arka koltuğa oturmalıyız.
- d. Kırsal alanlarda trafik kazası, hırsızlık, kavga gibi durumlarda aramız gereken acil durumu numarası 156-..... dır.
- e. Televizyon, gerçekleşen olayları görerek ve duyarak öğrendiğimiz bir araçtır.
- f. Tek başımıza acil bir durumla karşılaştığımızda, büyüklerimize haber vermeli, yakın çevremizdeki tanıdıklarımızdan istemeliyiz.
- g., ocak gibi ateş veren araçları, büyüklerimizin yardımı olmadan kullanmamalıyız.
- h. Teknolojik aletleri çalıştırırken fişlerinin hasarsız olmasına dikkat etmeli, olan aletleri çalıştırmamalıyız.


Toplumun tamamının veya belli kesimlerinin normal hayat ve faaliyetlerini durduran veya kesintiye uğratan ve acil müdahaleyi gerektiren olaylar





2. Aşağıdaki kavramların ilişkili olduğu kelimeler etraflarına yazılmıştır. İlgili olmayan kelimeleri bulup boyayalım ya da işaretleyelim.





3. Aşağıda verilen cümlelerden bazıları doğru, bazıları yanlıştır. Hediye kutusunun olduğu cümleden başlayarak, okları takip edelim. Hediyeğin hangi çocuğun olduğunu bulalım.


 Araçlarda seyahat ederken elimizi ve kolumuzu camdan çıkarmamalıyız.


 Servisle yolculuk yaparken ayakta durmamız gerekir.

 Toplu taşıma araçlarında yiyecek tüketebiliriz.

 Tanımadığım biri yiyecek verdiğinde almam.

 Yol kenarlarında oyun oynamak tehlikelidir.

 Canımız sıkıldığında acil durum numaralarını arayıp sohbet edebiliriz.

 Telefon haberleşme için kullanılan bir teknolojik alettir.

1. Aşağıdakilerden hangisi bir demir yolu taşıtıdır?

- A) Tramvay
- B) Kamyon
- C) Uçak

2. Otobüs, dolmuş, tren gibi toplu taşıma araçlarına binip inerken aşağıdakilerden hangisine dikkat etmemiz gerekir?

- A) Taşıtların arka kapısından binmeliyiz.
- B) Taşıta hareket halindeyken binmemeli, durmadan inmemeliyiz.
- C) Taşıtlara ilk olarak binmek için sıranın başına geçmeliyiz.

3. Servisle okula giden bir öğrencinin aşağıdakilerden hangisini yapması yanlış olur?

- A) Emniyet kemerini takması
- B) Servis hareket ederken ayakta dolaşması
- C) Camları kapalı tutması

4. Selim, Amasya'dan Çorum'da oturan babaannesini ziyarete gidiyordu. Yolda bir trafik kazası olduğunu gördü. Ailesiyle birlikte yardım etmek için durdular. Selim'in yaralılara yardımcı olmak için hangi acil durum numarasını araması gerekir?

- A) 110
- B) 112
- C) 183

5. Kask, dizlik ve dirseklik gibi koruyucu eşyaları aşağıdaki araçlardan hangisini kullanırken takmamıza gerek yoktur?

- A) Bisiklet
- B) Araba
- C) Paten

6. Aşağıdaki çocuklardan hangisi oyun aracını kullanırken güvenlik önlemi almamıştır?



7. ■ Bozuk olanları çalıştırmamak
▲ Eldiven kullanarak çalıştırmak
★ Islak elle dokunmamak
● Kablo ve fişleri hasarlı olan aletleri kullanmamak

Yukarıdakilerden hangileri elektrikli ev aletlerini kullanırken dikkat etmemiz gereken hususlardandır?




- A) ▲, ●, ★
B) ▲, ■
C) ●, ■, ★

8. Bir hırsızlık olayı olduğunda hangi acil durum numarasını aramamız gerekir?

- A) 155 B) 112 C) 110

9. ➔ Polis İmdat 122
➔ AFAD 110
➔ İtfaiye 155

Yukarıdaki acil durum numaraları eşleştirildiğinde hangi şekil oluşur?

- A)  B) 
C) 



Yukarıda hangi ulaşım yolu taşıtı yoktur?

- A) Hava yolu
B) Kara yolu
C) Demir yolu

11. Deprem, sel, heyelan gibi doğal afetlerde hangi acil durum numarasını aramamız gerekir?

- A) 122 B) 155 C) 183

12. ➔ Hastalara, yaşlılara, engellilere, gazilere ve hamilelere yer vermeliyiz.

➔ Boş yer varsa oturmalı, yoksa sıkıca tutunmalıyız.

➔ Biniş ve iniş kapılarının önünde durmamalıyız.

Yukarıdaki kurallara hangi ulaşım araçlarına bindiğimizde uymamız gerekir?

- A) Uçaklar
B) Toplu taşıma araçları
C) Özel araçlarımız