

Ad-Soyad: _____

No: _____

Hayat Bilgisi Çalışma Kağıdı

Oyun Alanlarındaki Araçların Güvenli Kullanımı



1. Aşağıdaki noktalı yerlere, çocukların oyun oynaması için güvenli olan alanlardan bazılarını yazalım.

1. _____

2. _____

3. _____

4. _____

2. Aşağıdaki noktalı yerlere, oyun araçlarını kullanırken almamız gereken güvenlik önlemlerinden bazılarını yazalım.

1. _____

2. _____

3. _____

4. _____

3. Oyun oynarken gerekli güvenlik tedbirlerini almış olan çocukların olduğu kutucukları işaretleyelim.



4. Aşağıdaki çocukların anlattıklarını okuyalım. Oyun alanlarındaki araçları dikkatli kullananları işaretleyelim.



Kaydıraftan kaymayı çok seviyorum ama bazen de düşüyorum. Bunun için gittiğim oyun alanının zemininin yumuşak olmasına dikkat ediyorum.



Bisiklete binmek için güvenli oyun alanlarına gidiyorum. Buralar güvenli olduğu için, bisiklete binerken kask ya da dizlik takmıyorum.



Patenle kaymak için annemle birlikte evimizin yanındaki parka gidiyoruz. Paten kayarken; kaskımı, dizliğimi ve dirsekligimi takıyorum.



Kardeşimle birlikte parkta top oynarken, hangimizin daha hızlı koştuğunu anlamak için topumuzu uzaklara atarak yakalamaya çalışıyoruz. Topumuz yola kaçarsa hızlıca alıp geliyorum.



Park evimize uzak olduğu için evimizin önündeki caddede bisiklete biniyorum.

5. Aşağıdaki soruları cevaplayalım.

Oyun oynamak için nereleri tercih edersiniz?

Oyun oynadığınız yerin güvenli olması sizin için önemli midir?

Parklardaki oyun araçlarından hangilerini kullanmayı seversiniz?

Paten, bisiklet gibi araçları kullanırken hangi güvenlik önlemlerini alırsınız?

Ad-Soyad: _____


No: _____

Hayat Bilgisi Çalışma Kağıdı

Ünite Değerlendirme - Etkinlik



1. Aşağıdaki boşlukları uygun kelimelerle dolduralım. Bulduğumuz kelimeleri bulmacaya yazarak gizli kelimeyi bulalım.

a.  Yandaki trafik işaretinin anlamı demiryolu geçidi dir.

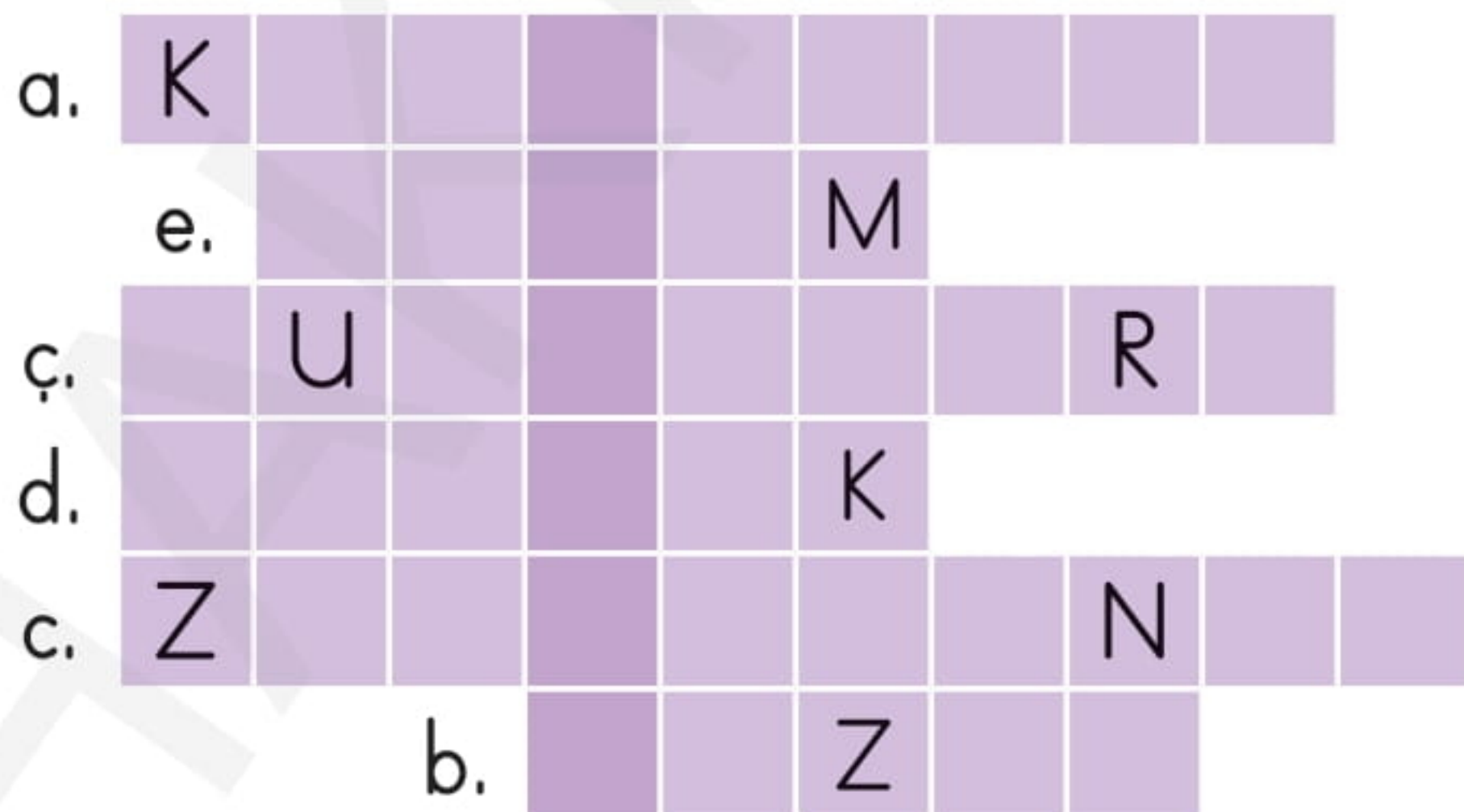
b. Bisiklet, kaykay, paten, gibi oyun araçlarını kullanırken kask takmalı, uygun kıyafetler giymeli ve yavaş gitmeliyiz.

c. Kesik, yaralanma, boğulma, ve yanma gibi kazaların gerçekleşmesini önlemek için evimizde ve okulda gerekli tedbirleri almalıyız.

ç. Trafik hem yayaların hem de sürücülerin uyması gereken kurallardır. Bu kurallara uymadığımızda, hem kendi hayatımızı hem de başkalarının hayatını tehlikeye atmış oluruz.

d. polisinin olduğu yerler, güvenli geçiş yerlerindedir.

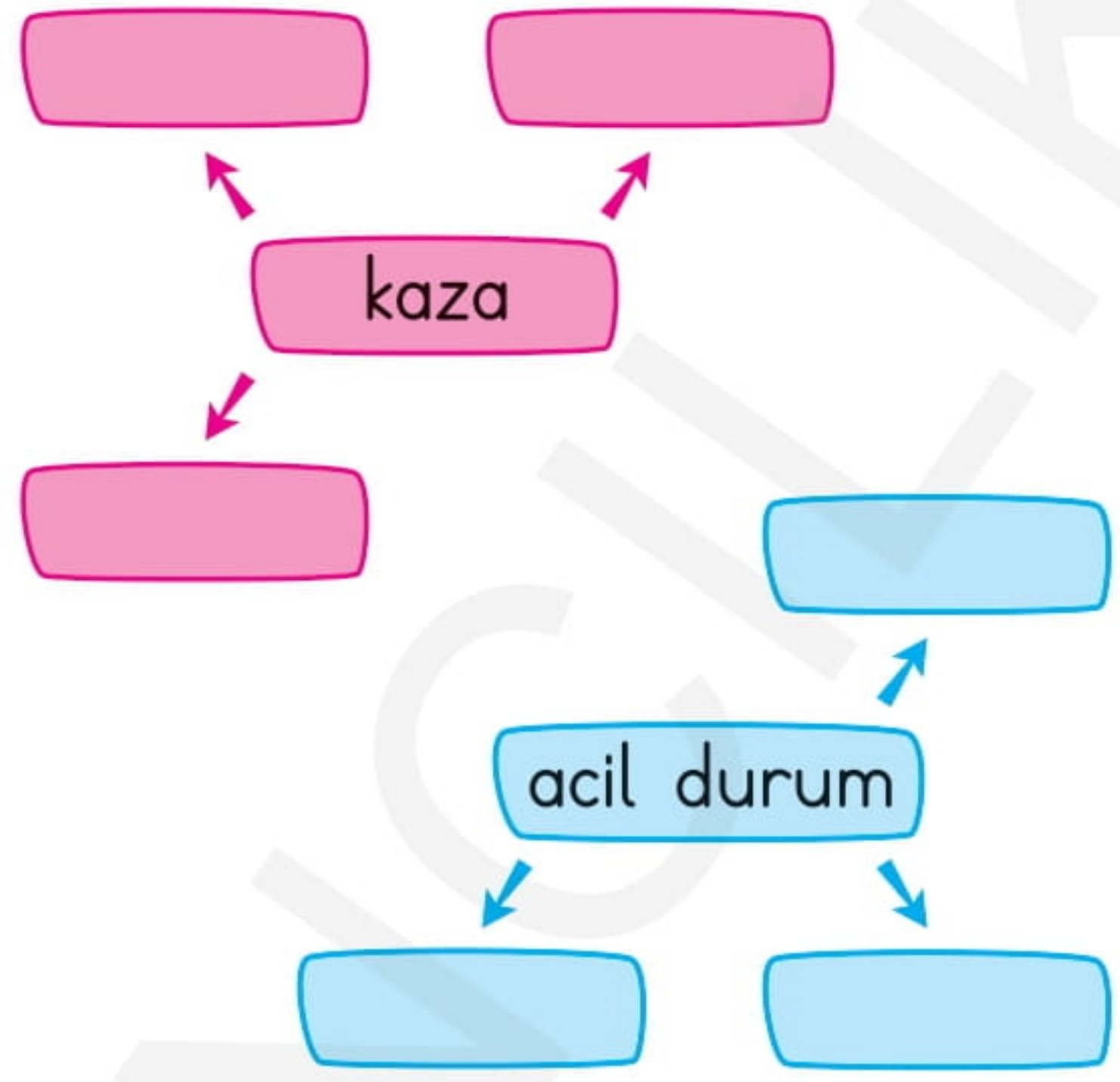
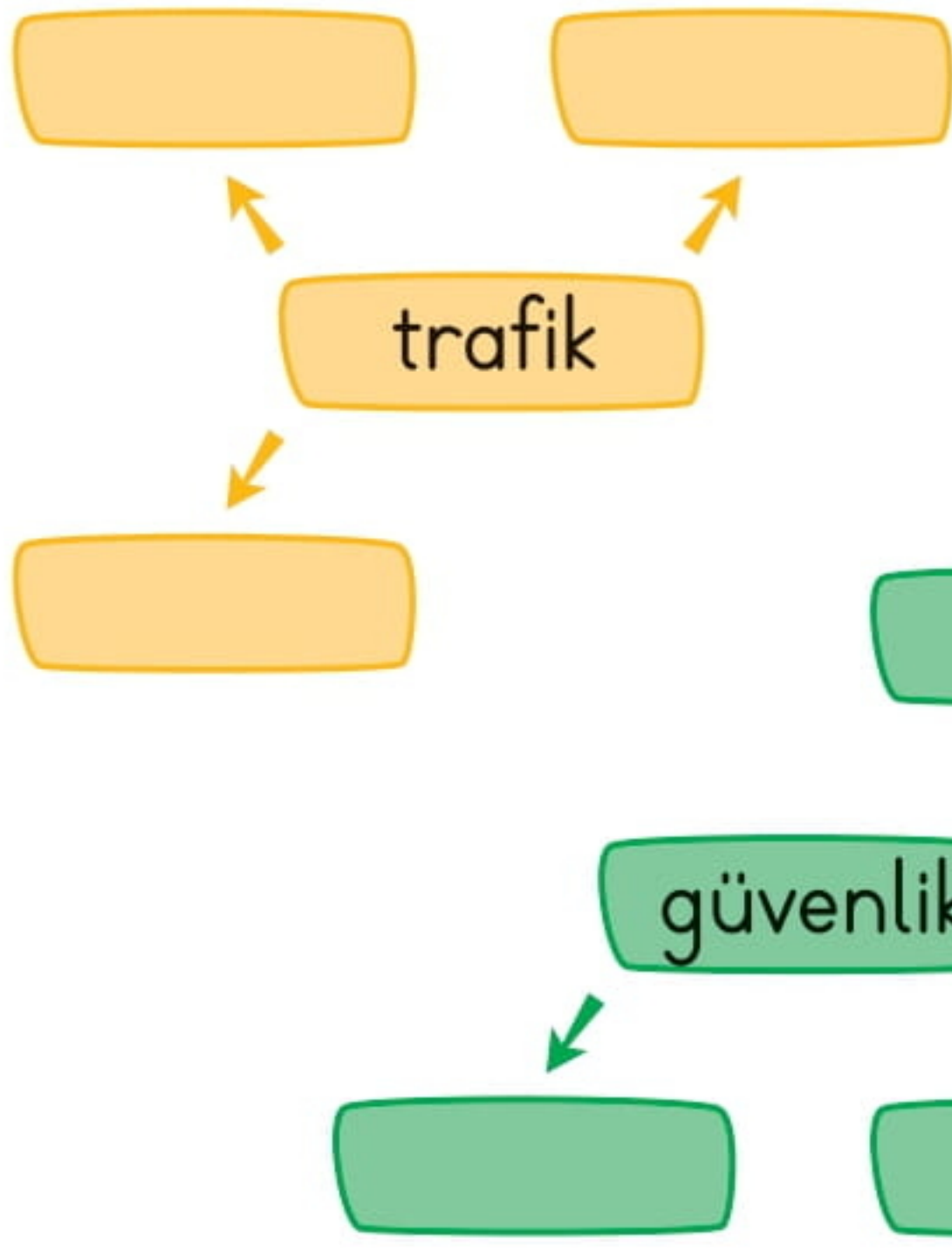
e. Herhangi bir acil da kendisine ulaşılacak bir yakınımızın iletişim bilgilerini, her zaman yanımızda bulundurmalıyız.



Ulaşım yollarının yayalarca ve her türlü taşıtlarca kullanılması.



2. Aşağıdaki kutucuklara, verilen kelimelerin bize çağrıştırdığı kelimeleri yazalım.



3. Aşağıda verilen cümlelerden bazıları doğru bazıları yanlıştır. Burak'ın olduğu cümleden başlayarak, doğru ifadeleri takip edelim. Burak'ın güvenli geçiş yerlerini kullanarak hangi arkadaşıyla buluşmaya gittiğini bulalım.



Karşıdan karşıya geçişlerde, en güvenli yerler kavşaklardır.

D

Y

Trafik kurallarına uymalı, uymayanları uyarmalıyız.

D

Y

Tehlikede olduğumuzu düşündüğümüzde, aile büyüklerimizden ve öğretmenimizden yardım istemeliyiz.

D

Y

Bisiklete binerken, kask, dizlik ve dirseklik takmamız gerekmez.

D

Y

Tanımadığımız kişilere adresimizi verebiliriz.

D

Y

Araç trafiğine açık caddelerde ve sokaklarda oyun oynamak tehlikelidir.

D

Y

Güvenli oyun alanlarının dışına kaçan top gibi oyuncaklarımızın peşinden koşmamalıyız.

D

Y



Ad-Soyad: _____

No: _____

Hayat Bilgisi Çalışma Kağıdı

Ünite Değerlendirme - 4



1.



Yukarıdaki trafik levhası ne anlatmaktadır?

- A) Yaya geçidine geldiğimizi
- B) Yakınlarda bir üst geçit olduğunu
- C) Bisiklet geçebileceğini

2. 1.



a. Mecburi yaya yolu

2.



b. Kontrolsüz kavşak

3.



c. Bisiklet giremez

Yukarıdaki trafik levhaları ve anlamları hangisinde doğru eşleştirilmiştir?

- A) 1-b, 2-c, 3-a
- B) 1-c, 2-a, 3-b
- C) 1-a, 2-c, 3-b

3. Aşağıdakilerden hangisi bir kazaya neden olabilir?

- A) Kırmızı ışıkta durmak.
- B) Hareket halindeki arabanın arkasında beklemek.
- C) Yaya kaldırımından yürümek

4. Aşağıda verilen bilgilerden hangisi doğrudur?

- A) Trafik işaretleri ve levhaları olmasaydı, trafik daha düzenli olurdu.
- B) Bir yere giderken yolun güvenli olması değil, kısa olması önemlidir.
- C) Yaya kaldırımının taşıtlara uzak tarafından yürümek daha güvenlidir.

5. Aşağıdakilerden hangisi güvenli oyun alanlarındandır?

- A) Araç park yerleri
- B) Okul bahçeleri
- C) Trafiğe açık yollar

6. Aşağıdaki durumlardan hangisi yangına sebep olabilir?

- A) Ocağı açık unutup evden çıkmak.
- B) Zeminin ıslak olduğu yerlerde koşmak
- C) Kesici aletlerle oynamak

7. ★ Yanıcı maddeleri ve ilaçları kolay ulaşılamayacak yerlerde saklamak.

- Deterjanları mutfak dolabının alt kısmına koymak.
- ◆ Elektrik prizlerine koruyucu kapaklar takmak
- ▲ Bıçak, makas gibi kesici aletleri ortalıkta bırakmak

Yukarıdakilerden hangileri evde oluşabilecek kazaları önlemek için alınabilecek tedbirlerden olabilir?

- A) ▲, ★
- B) ◆, ●
- C) ◆, ★

8. Bir hırsızlık olayında hangi acil durum numarasını aramalıyız?

- A) 155
- B) 110
- C) 112

9. Can, kibritle oynarken, elindeki yanan kibrit yere düştü ve halı alev aldı.

Yukarıdaki durumda Can'ın aşağıdakilerden hangisini yapması doğru olur?

- A) Hemen kapının arkasına saklanmak ve sessizce beklemek
- B) Koşarak annesine veya babasına haber vermek
- C) Yangını söndürmeye çalışmak

10. Aşağıdaki olaylardan hangisi zehirlenmeye neden olabilir?

- A) Vildan, annesinin odasında gördüğü pembe renkli ilaçları şeker zannederek birkaç tane yedi.
- B) Bekir, mutfak çekmecesindeki en büyük bıçağı alarak, domates kesmek istedi.
- C) Giray servise yetişmek için, merdivenlerden koşarak inmeye başladı.

11. 110 hangi kurumun acil durum numarasıdır?

- A) Jandarma
- B) Acil servis
- C) İtfaiye