

Ad-Soyad: \_\_\_\_\_

No: \_\_\_\_\_

# Sosyal Bilgiler Çalışma Kağıdı

45

## İsraf Etmeyelim



1. Aşağıdaki cümlelerde noktalı yerleri verilen ifadelerden uygun olanıyla dolduralım.

bilinçlendirmek

tükenebilir

doğal

tasarruf

israf

ihtiyaçlarımıza

- ⇒ Paranın, kaynakların, emeğin, zamanın boş yere harcanmasına ..... denir.
- ⇒ Çevremizdeki kaynaklar sınırlıdır, zamanla .....
- ⇒ Harcamalarımızı yaparken ..... öncelik vermeliyiz.
- ⇒ Harcamalarımızdan artan paraları biriktirerek, ..... yapabiliriz.
- ⇒ ..... kaynakların tükenmesi dünyamızı bekleyen en önemli tehlikelerden biridir.
- ⇒ Milli Eğitim Bakanlığı, belediyeler veya sivil toplum kuruluşları israfa karşı insanları ..... için afişler hazırlayıp, yarışmalar düzenlemektedir.

2. Aşağıdakilerden hangilerini yaparak kaynaklarımızı tasarruflu kullanmış olacağımızı işaretleyerek gösterelim.

- Varsa bozuk musluklarımızı tamir etmek
- Duş ve banyo sürelerini kısa tutmak
- Elimizi çok kirlenmedikçe yıkamamak
- Fazla ekmek alıp kurutarak saklamak
- Çamaşırlarımızı ve bulaşıklarımızı elimizde yıkamak
- Okul kıyafetlerimizi ayda bir yıkamak
- Elektronik eşya kullanımını azaltmak
- Banyo yaparken ısınana kadar akan suyu kaplarda biriktirip, bu suyu ev temizliğinde kullanmak
- Temizlik ve banyo için suyu dışarıdaki çeşmelerden taşıyarak getirmek



3. Aşağıdaki davranışları hangi kaynağın tasarruflu kullanımıyla ilgili olduğunu eşleştirerek gösterelim.

Suyumuzu ısıtmak için güneş enerjisini kullanmalıyız.

Buzdolabının kapağını ihtiyacımız olmadığında açmamalıyız.

Gereksiz yere kıyafet almamalıyız.

Ekmek

Kullandığımız kağıtları geri dönüşüm kutularına atmalıyız.

Sifona oyun olsun diye basarak gereksiz yere kullanmamalıyız.

Su

Dişlerimizi fırçalarken suyu kapalı tutmalıyız.

Bayatlayan ekmeklerimizi tost yaparak değerlendirmeliyiz.

Elektrik

Pişirdiğimiz yemekleri bozulmaması için buzdolabında saklamalıyız.

Tabağımıza yiyebileceğimiz kadar yemek koymalıyız.

Kağıt

Televizyon seyretmeye yeterince vakit ayırmalıyız.

Ayakkabılarımızı özenli kullanmalı ve temiz saklamalıyız.

Giysi

Kullandığımız kağıtların iki tarafını da doldurmalıyız.

Buzdolabımızı fırının yanına koymamalıyız.

Evimizdeki ısı kaybını önlemek için yalıtım yaptırmalıyız.

Tablet, telefon, bilgisayar gibi araçları kullanırken belli saatler ayırmalıyız.

Zaman

Kıyafetlerimizi bizden sonra başkasının da kullanacağını düşünerek özenli kullanmalıyız.

4. Evimizde alacağımız hangi önlemlerin kaynaklarımızdan tasarruf sağlayacağını aşağıya yazalım.

👁️	.....
👁️	.....
👁️	.....



1. Paketli bir gıda maddesi satın alırken aşağıdakilerden hangisine dikkat etmemiz sağlığımızla ilgilidir?

- A) Son kullanma tarihine
- B) Paketinin büyüklüğüne
- C) Fiyatına
- D) Nerede üretildiğine

2. Bir ürün satın alırken aşağıdakilerden hangisinin yapılması yanlış olur?

- A) Reklamı olan bütün ürünleri almak
- B) Ürünün paketinin sağlamlığını kontrol etmek
- C) Son kullanma tarihi geçmemiş ürünleri almak
- D) Hem kaliteli hem de ucuz ürünleri tercih etmek

3. Aşağıda verilen ürünlerden hangisinin garanti belgesi olur?



4. Televizyon, buzdolabı, süpürge, telefon gibi dayanıklı tüketim mallarını satın alırken garanti belgesi istemeliyiz. Aşağıdakilerden hangisi için garanti belgesine ihtiyacımız yoktur?

- A) Ürünün iadesini sağlamak
- B) Ürünün nasıl çalıştığını öğrenmek
- C) Ürünün değişimini sağlamak
- D) Bozulduğu zaman ürünün tamirini sağlamak

5. Aşağıdaki ifadelerden hangisi bilinçli bir tüketiciye ait olamaz?

A) Alışverişe çıkmadan önce ihtiyaçlarımı belirleyip liste yaparım.

B) İndirim kampanyasındaki ürünleri ihtiyacım olmasa da alırım.

C) Alışveriş sonrasında fiş ya da faturaya bakarak ürünlerin fiyatlarını kontrol ederim.

D) Ambalajı hasar görmüş ürünleri gördüğümde görevlileri uyarırım.



6. Bütçe hazırlarken aşağıdakilerden hangisine dikkat etmemiz gerekir?

- A) Gelirlerimizin giderlerimizden az olmasına
- B) Borçlanmamız gerekse de isteklerimizin hepsini karşılamasına
- C) Öncelikli ihtiyaçlarımızı içermesine
- D) Geriye para kalmamasına

7. Aşağıdakilerden hangisi kendi bütçemizi hazırlamanın sağladığı faydalardan biri olamaz?

- A) Masraflarımızı azaltırız.
- B) Para biriktirmeye başlarız.
- C) Her gördüğümüzü alabiliriz.
- D) Kaynakları daha bilinçli kullanmaya başlarız.

8. Ekmek israfının önlenmesi için öncelikli olarak aşağıdakilerden hangisinin yapılması gerekir?

- A) Bayatlayan ekmekleri kurutarak çorbalarda kullanmak.
- B) Kurumaya başlayan ekmekleri tost yaparak tüketmek
- C) Artan ekmekleri sokak hayvanlarına vermek
- D) Tüketebileceğimiz kadar ekmek almak

9.



Aşağıdakilerden hangisi yukarıdaki afişe uygun bir slogan değildir?

- A) "Su hayyattır. Hayatımızı boşa akıtmayalım."
- B) "Damlaya damlaya çöl olmasın."
- C) "Tasarruflu kullan. Dünya susuz kalmasın."
- D) "Yaşam için bol su için."

10. Kıyafetlerimi temiz kullanır, yıpratmaya çalışırım.

Hale yukarıdaki gibi davranarak hangi kaynağı verimli kullanmıştır?

- A) Elektrik
- B) Su
- C) Besin
- D) Giysi

11. Aşağıdakilerden hangisi suyun bilinçsizce tüketilmesinin sonuçlarından biri olabilir?

- A) Daha fazla ağacın kesilmesi
- B) Suda yaşayan canlıların azalması ve yok olması
- C) Elektronik eşyalarımızın çalışmaması
- D) Havadaki karbondioksit miktarının artması

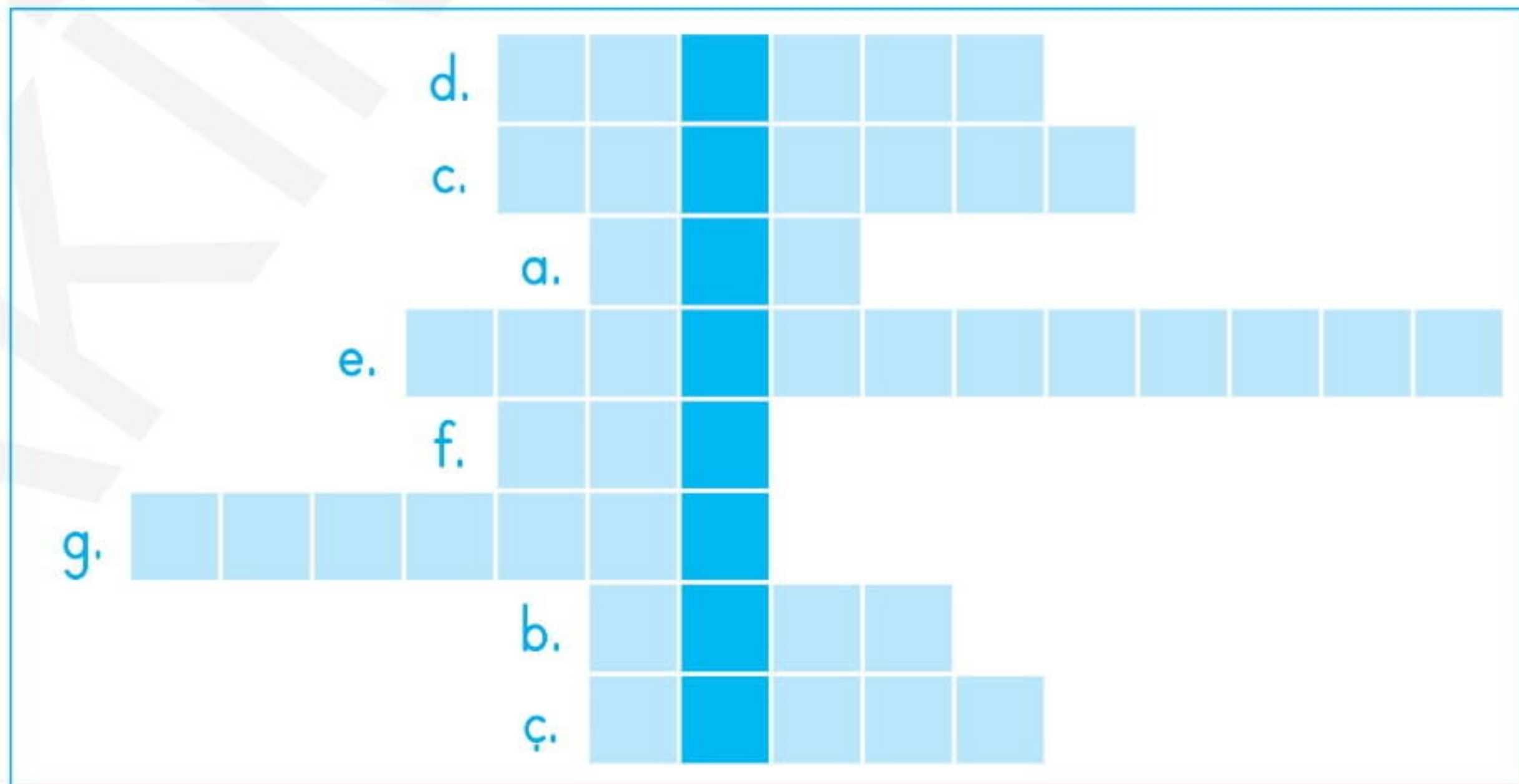




1. Aşağıdaki boşlukları uygun kelimelerle dolduralım. Bulduğumuz kelimeleri bulmacaya yazarak noktalı yere gelmesi gereken kelimeyi bulalım.
- Satın aldığımız paketli ürünleri üretim ve \_\_\_\_\_ tüketim tarihlerine dikkat etmeliyiz.
  - Bir ailenin gelir ve giderlerinin olduğu listeye \_\_\_\_\_ bütçesi denilir.
  - Üretilen mal ve hizmetlerin insanlar tarafından kullanılmasına \_\_\_\_\_ denir.
  - Dünyanın çeşitli yerlerinde açlık ve yetersiz beslenme nedeniyle birçok çocuk hayatını kaybetmekteyken, ülkemizde her gün yaklaşık 5 milyon \_\_\_\_\_ çöpe atılmaktadır.
  - İnsanların ihtiyacı olan malların ve hizmetlerin meydana getirilmesine \_\_\_\_\_ denir.
  - Ürünlerin standartlarını belirlemek amacıyla kurulan kurum Türk \_\_\_\_\_ Enstitüsü'dür.
  - \_\_\_\_\_ işareti, bir ürünün veya hizmetin belirlenen ihtiyaçları karşıladığını gösterir.
  - Mal ve hizmetlerin tüketiciye ulaştırılması için yapılan ekonomik etkinliklere de \_\_\_\_\_ denir.

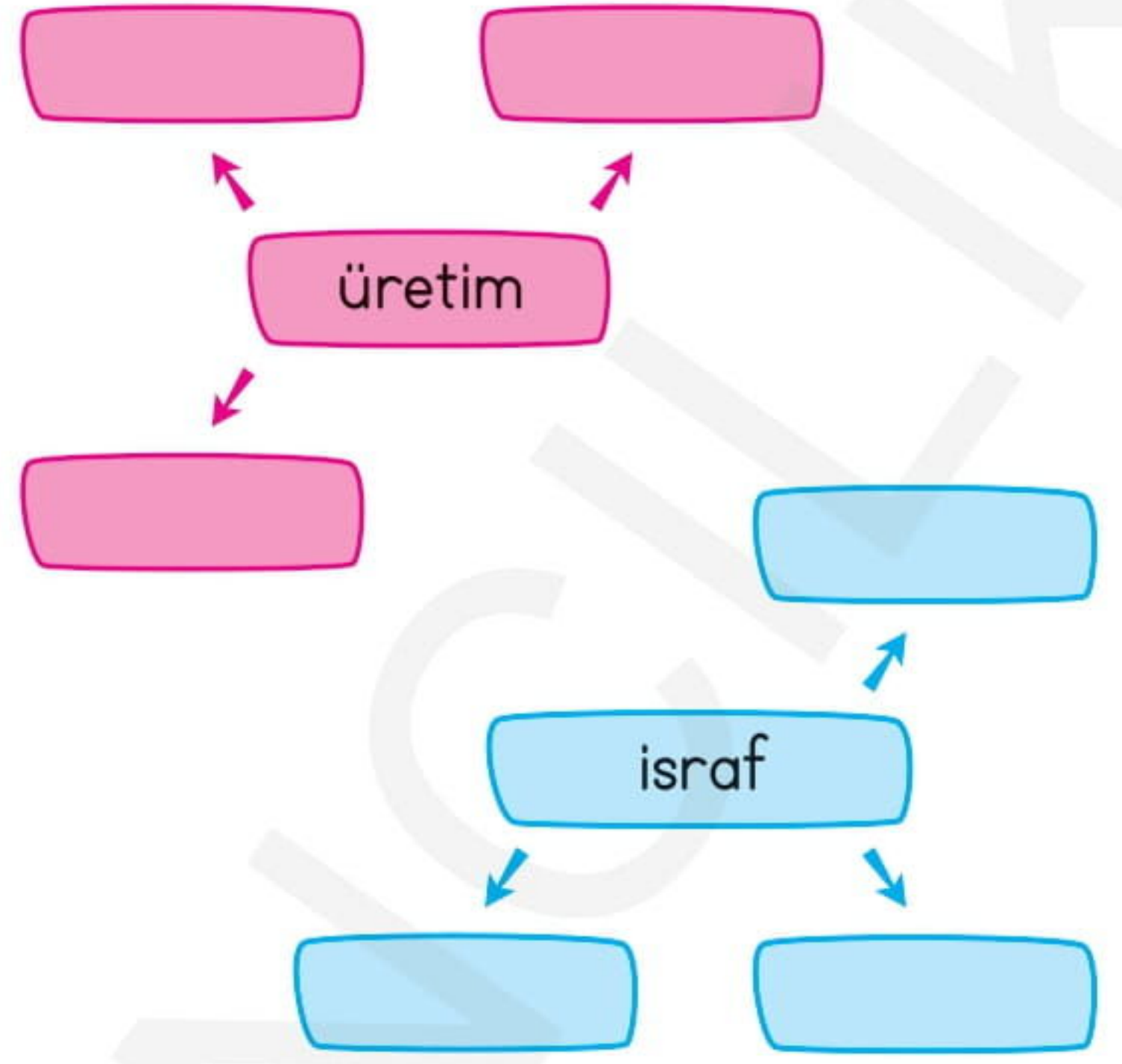
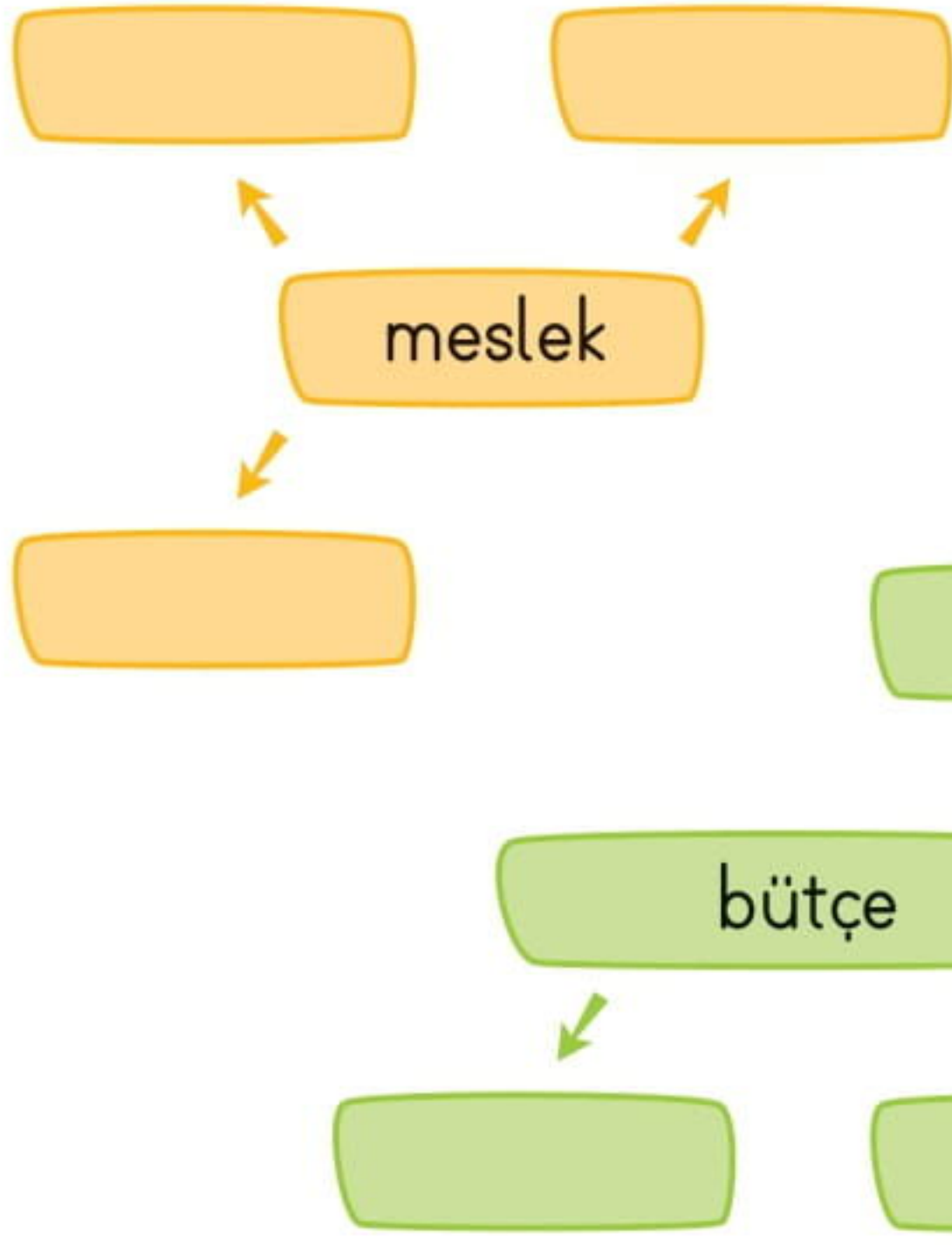


İnsan ihtiyaçlarının karşılanması için sürdürülen işlere \_\_\_\_\_ faaliyet denir.





2. Aşağıdaki kutucuklara, verilen kelimelerin bize çağrıştırdığı kelimeleri yazalım.



3. Aşağıda verilen cümlelerden bazıları doğru bazıları yanlıştır. Kübra'nın olduğu cümleden başlayarak, doğru ifadeleri takip edelim. Kübra'nın sosyal bilgiler dersi için hangi kaynağın israf edilmemesi için afiş hazırladığını bulalım.



İsteklerimiz karşılanmazsa yaşamsal faaliyetlerimizi yerine getiremeyiz.

D

Y

Tarım, hayvancılık, madencilik birer ekonomik faaliyettir.

D

Y

Bilinçli bir tüketici alışverişe çıkmadan önce alacaklarını belirten bir liste hazırlar.

D

Y

Paketlerin üzerinde gıda ürünlerinin içerikleri belirtilmez.

D

Y

Barkod numarası 868 ve 869 ile başlayan ürünler Türkiye'de üretilmiştir.

D

Y

Garanti belgesi sadece elektronik araç gereçler için düzenlenir.

D

Y

Yiyeceğimizden fazla besin almak ya da ihtiyacımız olmadığı halde kıyafet almak israftır.

D

Y

Elektrik

Doğal gaz

Zaman

Su

Kağıt

Ekmek

Giyisi

Besin



1. Aşağıda verilenlerden hangisi insanın varlığını sürdürebilmesi için gerekli olan ihtiyaçlarından değildir?

- A) Beslenmek                      B) Barınmak  
C) Giyinmek                        D) Eğlenmek





2. İnsanların yaşamlarını sürdürebilmeleri için sahip olması gereken temel ihtiyaçlarının yanında bir de sosyal ve kültürel ihtiyaçları vardır. Aşağıdakilerden hangisi bu sosyal ve kültürel ihtiyaçlardan biri değildir?

- A) Eğitim almak  
B) Seyahat etmek  
C) Su içmek  
D) Oyun oynamak

3. İstek ve ihtiyaçlarla ilgili aşağıda verilen bilgilerden hangisi doğrudur?

- A) Temel ihtiyaçlar kişiden kişiye farklılık gösterir.  
B) İsteklerimiz karşılanmadığında yaşamsal faaliyetlerimizi sürdüremeyiz.  
C) Bütün isteklerimizi yerine getirmemiz mümkün olmayabilir.  
D) Bize küçük gelen kıyafetlerimiz yerine yenisinin alınması istektir.

4. Aşağıdakilerden hangisinde tüketimden bahsedilmektedir?

- A)  Ekmek yaptığımız un buğdaydan üretilir.
- B)  Tarlalardan toplanan buğdaylar, öğütülüp un yapılmak üzere fabrikalara götürülür.
- C)  Kahvaltıda ve diğer öğünlerde yemeklerimizin yanında ekme yeriz.
- D)  Fırıncılar satın aldıkları unlarla ekme yaparlar.

5. Aşağıdakilerden hangisinde bir ürünün üretim aşaması gösterilmemektedir?

- A)  B) 
- C)  D) 



6. Aşağıdaki meslek sahiplerinden hangisi sağlık alanında hizmet verir?

- A) Polis
- B) Veteriner
- C) Öğretmen
- D) Mühendis

7. Aşağıdakilerden hangisi tarım alanında çalışan meslek sahiplerinden biri değildir?

- A) Ziraat mühendisi
- B) Çiftçi
- C) Gıda mühendisi
- D) Maden mühendisi

8. I. Annemizin maaşı

II. Babamızın maaşı

III. Aldığımız harçlıklar

IV. Elektrik, su faturaları

Yukarıda verilenlerden hangileri aile bütçesinin gelir kısmında bulunur?

- A) I ve II
- B) I, II ve III
- C) Yalnız III
- D) III ve IV

9. Aşağıdaki işaretlerden hangisi ürünün üretim ya da ithal edilme izninin olduğunu gösterir?



10.



Satın aldığımız bir üründe yukarıdaki işaretin olması aşağıdakilerden hangisini ifade eder?

- A) Ürünün ne zaman üretildiğini
- B) Ürünün sağlığa uygun üretildiğini ve güvenle tüketilebilir olduğunu
- C) Ürün paketinin geri dönüştürülebilir olduğunu
- D) Ürünün Avrupa Birliği'nin koyduğu standartlara uyduğunu

11. I. Dayanıklı tüketim malları için düzenlenir.

II. Ürünün belirli bir süre içinde bozulması halinde, ücretsiz tamirini ya da değişimini sağlar.

Yukarıda verilen özellikler aşağıdakilerden hangisine aittir?

- A) Kullanım kılavuzu
- B) Garanti belgesi
- C) Fiş ya da fatura
- D) Ürün etiketi