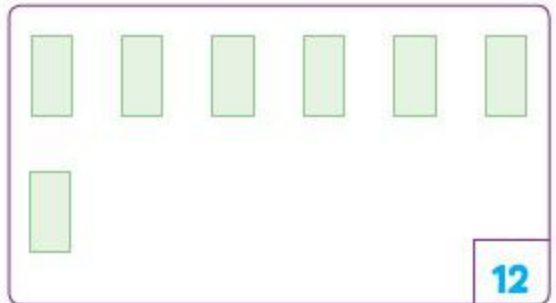


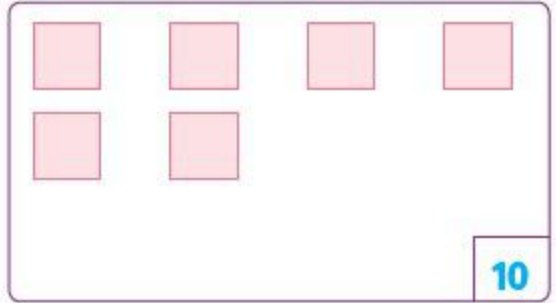



- Aşağıdaki görselleri kutucuklardaki sayıya ulaşınca kadar çizip tamamlayalım.



- Aşağıdaki toplama işlemlerinde verilmeyen sayıyı bulalım. Bulduğumuz sayı kadar boncuk çizip boyayalım.

$$\begin{array}{r} 8 \\ + \boxed{4} \\ \hline 12 \end{array}$$

$$\begin{array}{r} \square \\ + 5 \\ \hline 11 \end{array}$$

$$\begin{array}{r} 10 \\ + \square \\ \hline 16 \end{array}$$

$$\begin{array}{r} \square \\ + 7 \\ \hline 15 \end{array}$$

$$\begin{array}{r} 9 \\ + \square \\ \hline 16 \end{array}$$

$$\begin{array}{r} \square \\ + 8 \\ \hline 13 \end{array}$$

- Aşağıdaki toplama işlemlerinde verilmeyen sayıyı bulalım. Bulduğumuz sayı kadar boncuk çizip boyayalım.

$$\begin{array}{r} 7 \\ + \square \\ \hline 10 \end{array}$$
$$\begin{array}{r} \square \\ + 6 \\ \hline 11 \end{array}$$
$$\begin{array}{r} 2 \\ + \square \\ \hline 9 \end{array}$$
$$\begin{array}{r} \square \\ + 7 \\ \hline 16 \end{array}$$
$$\begin{array}{r} 4 \\ + \square \\ \hline 12 \end{array}$$
$$\begin{array}{r} \square \\ + 5 \\ \hline 14 \end{array}$$

- Problemleri dikkatli okuyup anladıktan sonra çözelim.

1. Otobüste 9 yolcu vardı. Durakta 6 yolcu daha bindi.

Otobüste toplam kaç yolcu oldu?

**Çözüm:**



2. Arı Viki sabah 12 çiçeğe kondu. Öğleden sonra da 7 çiçeğe konarak bal topladı.

Arı Viki bugün toplam kaç çiçeğe konmuştur?

**Çözüm:**



3. Dedem dün ağaçtan 8 elma kopardı. Dedem bugün de 7 elma kopardı.

Dedem iki günde toplam kaç tane elma kopardı?

**Çözüm:**



4. Parktaki salıncakta sabah 8 çocuk, akşam da 11 çocuk sallanmıştır.

Salıncakta bugün toplam kaç çocuk sallanmıştır?

**Çözüm:**



- Problemleri dikkatli okuyup anladıktan sonra çözelim.

1. Bugün yakıt istasyonundan 7 otomobil, 4 minibüs, 6 motosiklet yakıt almıştır. Bugün benzinlikten 4 tekerlekli kaç taşıt yakıt almıştır?



**Çözüm:**

2. Ağaçta 5 kuş vardı. Daha sonra 9 kuş daha kondu. Ağaçta toplam kaç kuş olmuştur?



**Çözüm:**

3. Ayşe teyzenin bahçesinde dün 6 gül açmış. Bugün de 11 gül açmış. Ayşe teyzenin bahçesinde iki günde toplam kaç tane gül açmıştır?



**Çözüm:**

4. Efe, salı günü 5 problem, perşembe günü 7 problem, pazar günü de 4 problem çözdü. Efe ismi P harfiyle başlayan günlerde toplam kaç problem çözmüştür?



**Çözüm:**

- Aşağıdaki tabloya göre konumları verilen sayılarla toplama işlemlerini yapalım.

	a	b	c	d
★	0	1	2	3
●	4	5	6	7
▲	8	9	10	11
■	12	13	14	15

→ ●d + ▲a = .....

→ ■a + ★b = .....

→ ▲b + ●c = .....

→ ★d + ■a = .....