


### Paralarımız - 1


1. Aşağıdaki madeni paraların isimlerini altlarına yazalım.



2. Cümlelerdeki noktalı yerleri doğru ifadelerle tamamlayalım.

- 1 TL, ..... tane 5 kuruşa eşittir.
- 1 TL, ..... tane 10 kuruşa eşittir.
- 1 TL, ..... tane 25 kuruşa eşittir.
- 1 TL, ..... tane 50 kuruşa eşittir.
- 50 kr, ..... tane 25 kuruşa eşittir.
- 50 kr, ..... tane 10 kuruşa eşittir.

3. Aşağıdaki cüzdanlardan içlerinde toplam 1 TL olanlarını işaretleyelim.





4. Aşağıdaki kağıt paraların isimlerini altlarına yazalım.













5. Kutulardaki paraların miktarlarını altlarına yazalım.
































## Paralarımız - 2

1. Aşağıdaki noktalı yerleri ürünlerin fiyatlarına göre dolduralım.

				
75 KR	5 TL	1 TL	25 KR	20 KR
				
80 KR	4 TL	2 TL	3 TL	50 KR

 +  + 	.....	 +  +  + 	.....
 +  +  + 	.....	 +  +  + 	.....
 +  + 	.....	 +  + 	.....
 +  + 	.....	 +  + 	.....

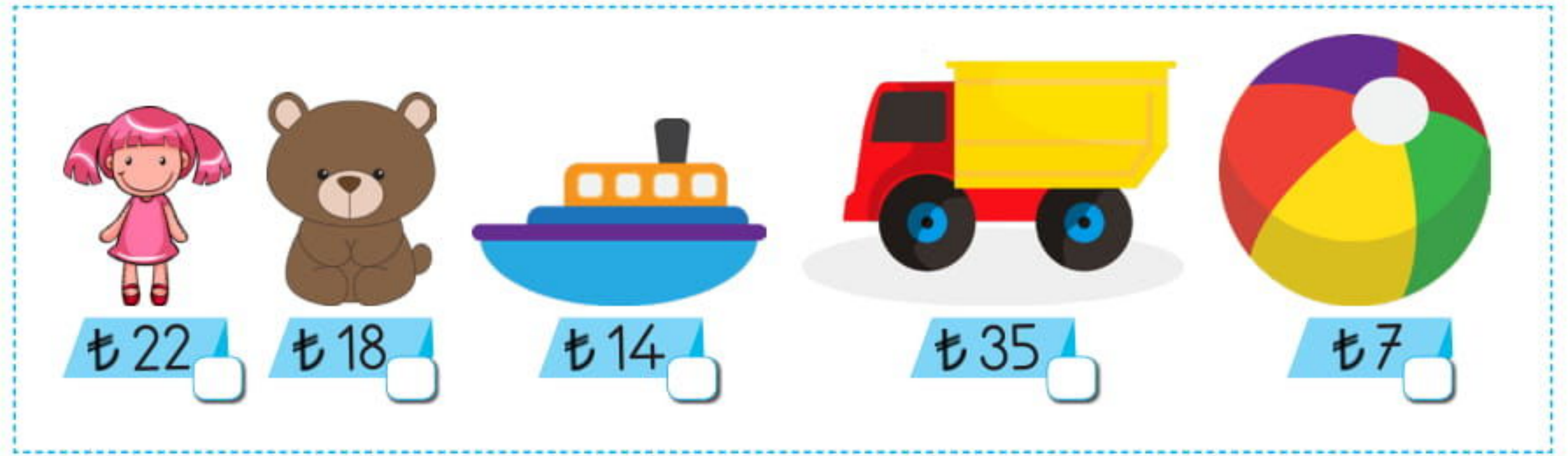

2. Aşağıdaki ürünlerin fiyatlarını inceleyelim. Verilen cümlelerdeki boşlukları ürünlerin fiyatlarına göre dolduralım.



- En pahalı ayakkabının fiyatı ..... TL'dir.
- Spor ayakkabının fiyatı, kahverengi ayakkabıdan ..... TL pahalıdır.
- En ucuz ürünün fiyatı ..... TL'dir.
- Pembe ayakkabı, bebek ayakkabısından ..... TL ucuzdur.
- Terliğin fiyatı, ..... fiyatından 60 TL ucuzdur.
- Gri ayakkabı ile ..... fiyatları aynıdır.



3. Ayça cebindeki paralarla her sıradaki üründen en az üç tanesini almak istiyor. Ayça'nın hangi ürünleri alabileceğini işaretleyerek gösterelim.



4. Aşağıdaki ürünleri, fiyatlarıyla aynı miktarda olan paralarla eşleştirelim.

