

- Aşağıdaki soruları zihinden çözelim. Bulduğumuz sayının rengine göre sorunun çiçeğini boyayalım.



12 elmanın 6 fazlası kaç elmadır?



7 ceviz, 4 ceviz daha kaç ceviz eder?



10 boncuk 3 boncuk daha kaç boncuk eder?



2 ineğin toplam kaç ayağı vardır?



Oya 7 yaşındadır. 3 yıl sonra kaç yaşında olacak?



10 kalemim var 5 kalem daha alırsam kaç kalemim olur?

11

8

18

15

13

10

- Aşağıdaki problemleri zihinden çözüp cevabını yazalım.

1.

Annem sağlığı için dün 8 bardak, bugün 9 bardak su içti. Annem toplam kaç bardak su içmiştir?

17

2.

Bahçemizdeki ağaca önce 3, sonra 6 kuş kondu. Ağaçta toplam kaç kuş oldu?

3.

Zeynep'in 6 balonu var. Annesi 5 balon daha verdi. Zeynep'in toplam kaç balonu oldu?

4.

Simitçi sabah 12 simit, öğleden sonra 4 simit sattı. Simitçi bugün toplam kaç simit sattı?

5.

Tabaktaki 5 eriği abim, 3 eriği ben yedim. Tabakta toplam kaç tane erik vardı?

**6.**

Kümesimizde 7 tavuk, 4 ördek var. Kümesimizde toplam kaç hayvan vardır?

.....

**7.**

Doruk maçın ilk yarısında 4 gol, ikinci yarısında 5 gol attı. Doruk maçta toplam kaç gol attı?

.....

**8.**

Kahvaltıda 8 tane ceviz, 5 tane badem yedim. Kahvaltıda toplam kaç tane kuru yemiş yedim?

.....

**9.**

Balkonumuzda 6 tane siyah, 3 tane beyaz güvercin besliyoruz. Toplam kaç güvercinimiz var?

.....

**10.**

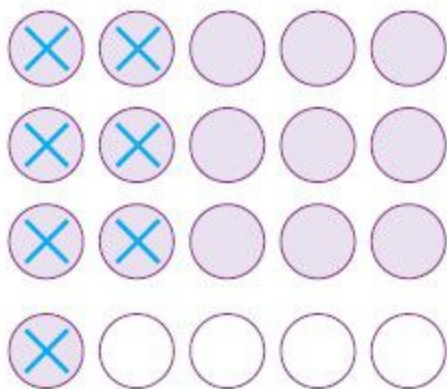
Ayşe 5 yaşında, Mehmet 8 yaşında, Yasemin 9 yaşındadır. Kızların yaşları toplamı kaçtır?

.....

- Önce problemi okuyalım. Sonra verilen bilgilere göre kutucukları boyayıp işaretleyelim. Daha sonra da problemi çözelim.

1.

Annemin 16 saksı çiçeği var. Su vermeyi unuttuğu için 7 tanesi solmuş. Annemin kaç çiçeği kalmıştır?




**Çözüm:**

$$\begin{array}{r} 16 \\ - 7 \\ \hline 9 \text{ çiçek} \end{array}$$

2.


Minibüste 18 koltuk var. Minibüste 9 yolcu olduğuna göre kaç tane koltuk boş kalır?



**Çözüm:**

**3.**


Ceren, 14 sayfalık kitabın 7 sayfasını okudu. Ceren'in okuması gereken kaç sayfası kalmıştır?



**Çözüm:**

**4.**


Sınıfımızda 15 öğrenci vardır. Öğrencilerin 6 tanesi kız öğrenci olduğuna göre kaç tanesi erkek öğrencidir?



**Çözüm:**

**5.**

Otoparkta 19 araba var. 8 tanesi otoparktan ayrıldı. Geriye kaç araba kalmıştır?



**Çözüm:**

- Tolga parka gitmek istiyor. Parka giden yolu bulmak için aşağıdaki yönergeleri okuyup uygun sayıların kutucuğunu boyayarak yolu gösterelim.



1. satır	1	5	14	7	0	2	10	3
2. satır	4	18	3	20	1	6	7	11
3. satır	17	10	9	3	14	5	16	4
4. satır	20	13	1	14	8	9	3	2
5. satır	8	0	18	11	3	15	12	7
6. satır	4	2	7	9	13	3	1	16
7. satır	11	3	0	12	2	4	8	10
8. satır	7	16	1	4	15	19	9	13

- 1. satır:** 12 sayısının 2 eksiği.  
**2. satır:** 3 sayısının 4 fazlası  
**3. satır:** 10 sayısının 5 eksiği.  
**4. satır:** 6 sayısının 2 fazlası.  
**5. satır:** 12 sayısının 1 eksiği.  
**6. satır:** 8 sayısının 5 fazlası.  
**7. satır:** 7 sayısının 3 eksiği.  
**8. satır:** 5 sayısının 4 fazlası.

