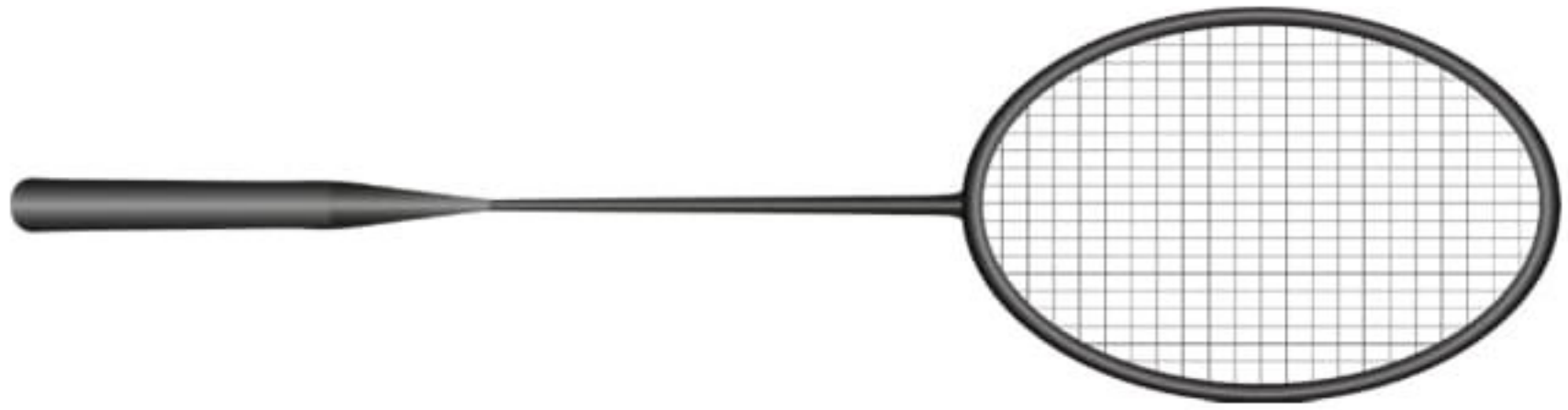








2. Aşağıdaki nesnelerin uzunluklarının kaç cm olduklarını tahmin edelim. Sonra cetvelle ölçerek gerçek uzunluklarını bulalım. Aralarındaki farkı yazarak tabloyu tamamlayalım.

	Tahmin	Ölçüm	Fark
			
			
			
			
			
			
			
			
			
			

Uzunluk Ölçme - 5

1. Ali her biri 4 santimetre olan oyuncak bloklarını kullanarak diğer oyuncaklarının uzunluklarını ölçüyor. Oyuncakların uzunluklarının kaç cm olduğunu altlarına yazalım.

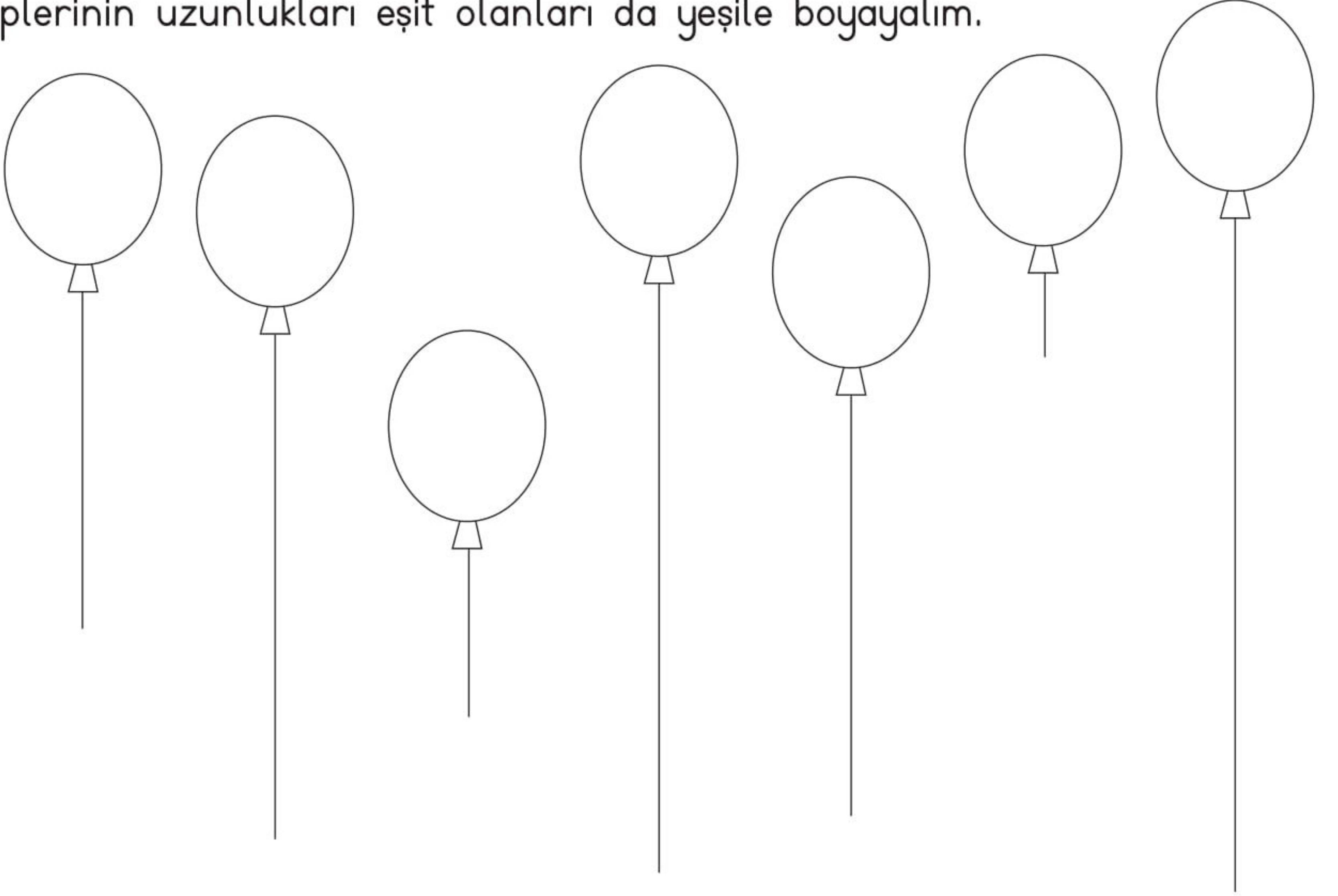
 $4 + 4 + 4 + 4 = 16 \text{ cm}$	
	
	

2. 10 cm uzunluğunda kağıt şeritler hazırlayalım. Aşağıdaki nesnelerin uzunluklarını bu kağıt şeritlerle ölçerek tabloyu dolduralım.

Nesne	Ölçüm
Kitap	
Masa	
Terlik	

Şerit	Ölçüm
Koltuk	
Çanta	
Pantolon	

3. Aşağıdaki balonların iplerini cetvel yardımı ile ölçelim ve sonuçları balonlara yazalım. İpi en uzun olan balonu kırmızıya, en kısa olanı maviye, iplerinin uzunlukları eşit olanları da yeşile boyayalım.



4. Aşağıdaki uçurtmalara üstlerinde yazan uzunlukta ipler çizelim.

