

Öğrendiklerimizi Pekiştirelim - 7

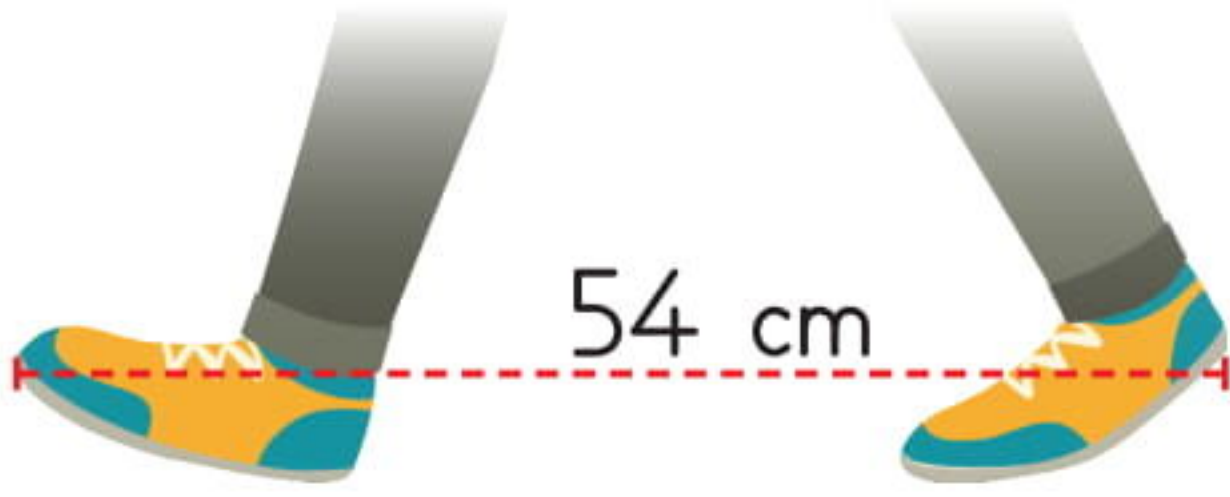
1. Aşağıdakilerden hangisi standart olmayan ölçme birimiyle yapılmış bir ölçümün sonucudur?

- A. 678 cm
- B. 174 km
- C. 28 adım

2. Ali kulaçla aşağıdakilerden hangisinin uzunluğunu ölçebilir?

- A. Kitabının
- B. Sınıftaki tahtanın
- C. Evden okula kadar yürüdüğü yolun


3.



Yukarıda, Alper'in bir adımının uzunluğu verilmiştir. Alper okulun koridorunu, 18 adım uzunluğunda ölçmüştür. Okulun koridorunun uzunluğu kaç m, kaç cm'dir?

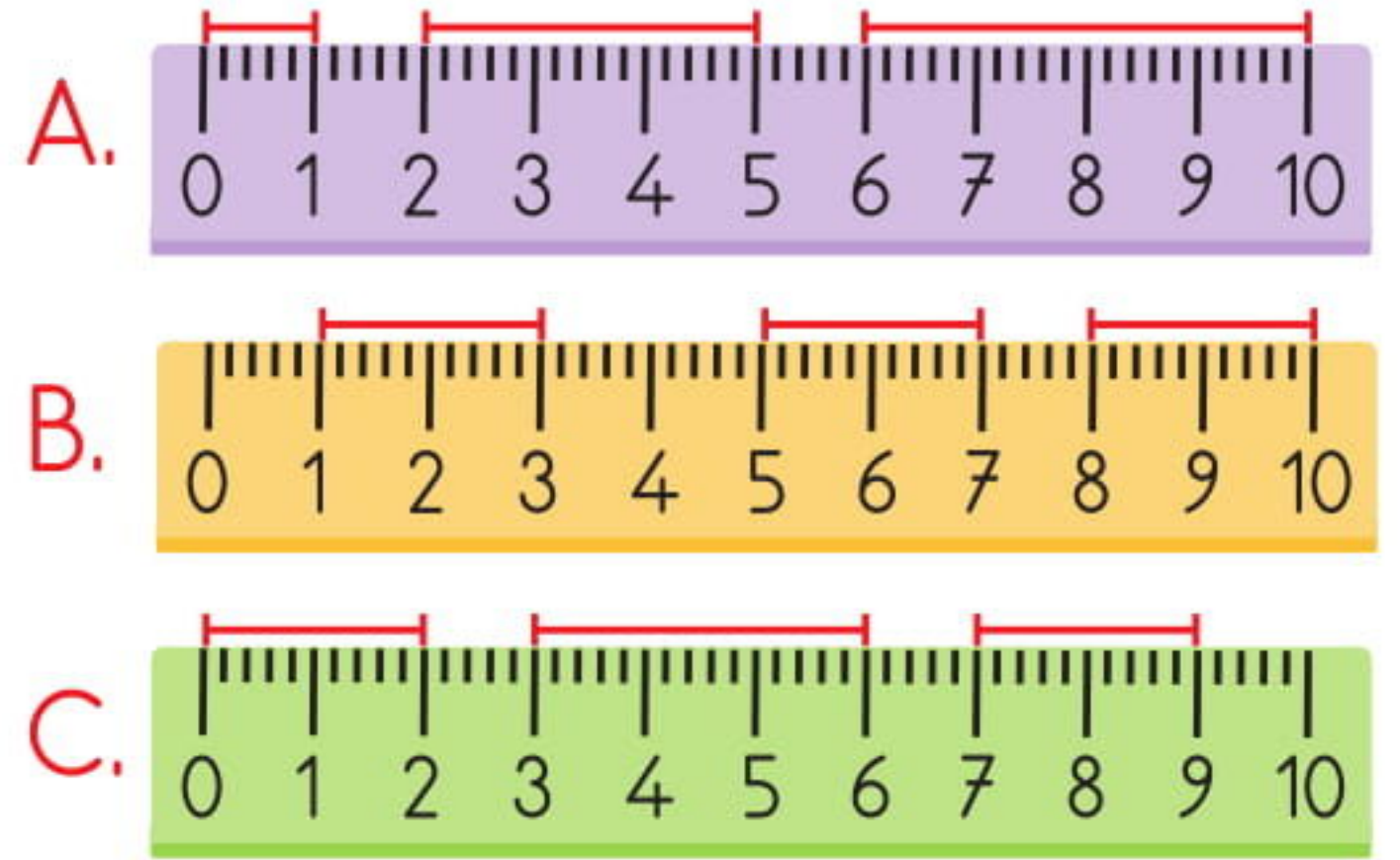
- A. 8 m 12 cm
- B. 9 m 22 cm
- C. 9 m 72 cm

4. 5 cm'lik bir doğru parçası çizmeye çalışan Betül'ün, hangi çizimi doğrudur?



Hakim Yayıncılık

5. Aşağıdaki cetvellerden hangisiyle çizilmiş doğru parçalarının uzunlukları toplamı 7 cm'dir?



6. Gezegenler arası uzaklık hesaplanırken hangi ölçüm birimi kullanılır?

- A. Santimetre
- B. Metre
- C. Kilometre



7. Bir ağaç yılda 8 cm uzamaktadır. Şimdi 181 cm uzunluğunda olan ağaç, 5 yıl sonra kaç m, kaç cm olur?

- A. 2 m 13 cm
B. 2 m 21 cm
C. 2 m 29 cm

8. Ufuk ve Uğur'un boylarının uzunluklarının toplamı 324 cm'dir. Ufuk, Uğur'dan 6 cm uzun olduğuna göre, Ufuk kaç cm boyundadır?

- A. 159 cm
B. 163 cm
C. 165 cm

9. 7 m uzunluğundaki bir kumaşın önce 276 cm'si, sonra da kalanının yarısı kullanılmıştır. Kalan kumaş kaç cm'dir?

- A. 212 cm
B. 242 cm
C. 252 cm

10. Ev ile bakkalın arası 327 m'dir. Serkan, bakkaldan iki ekmek alıp eve döndüğünde toplam kaç m yol yürümüş olur?

- A. 548 m
B. 623 m
C. 654 m

11.



Ayşe'nin boyu buzdolabından 29 cm kısadır. Buna göre, Ayşe kaç cm uzunluğundadır?

- A. 148 cm
B. 168 cm
C. 188 cm

12. 3 m uzunluğunda ipe 40 cm ve 114 cm uzunluğunda ipler eklenmiştir. İplerin uzunluğu 5 m'den kaç cm kısadır?

- A. 35 cm
B. 42 cm
C. 46 cm