

Öğrendiklerimizi Pekiştirelim - 8

1. Aşağıdakilerden hangisi standart olmayan ölçme birimidir?



2. Aşağıdakilerden hangisi ile yapılan ölçümler her zaman aynı sonucu verir?



3.



Yukarıdaki tahtanın uzunluğunu aşağıdakilerden hangisi ile ölçmeyiz?



4. Kitabımın uzunluğu 6 açacak boyundadır. Bir açacak 4 cm olduğuna göre kitabımın boyu kaç cm'dir?

A. 20

B. 24

C. 32

5. Aşağıdakilerden hangisinin uzunluğunu santimetre ile ifade ederiz?

A. Cep telefonu

B. Araba

C. Ağaç

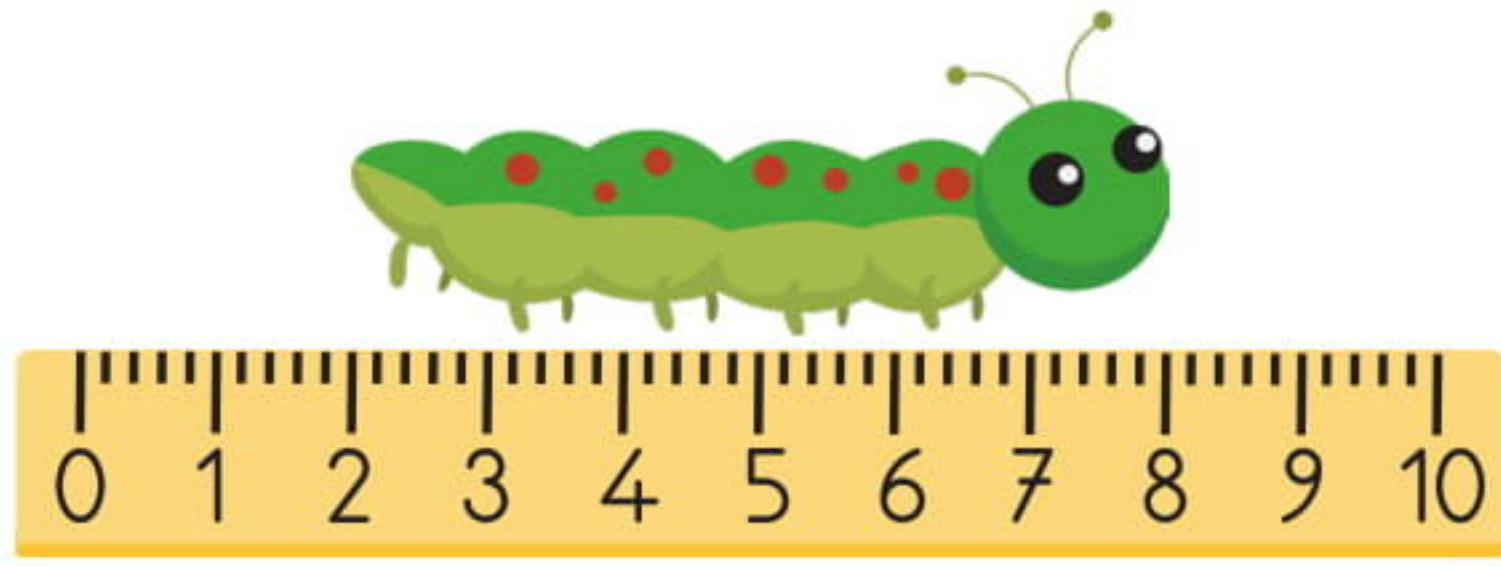
6. Mehmet defterine 23 cm ve 18 cm uzunluğunda iki çubuk çizmiştir. Üçüncü çubuğun uzunluğunun diğer çubukların arasında bir uzunluk olması için, çubuğun uzunluğu aşağıdakilerden hangisi olmalıdır?

A. 16

B. 21

C. 24

7.



Yukarıdaki tırtılın uzunluğu kaç cm'dir?

A. 6 B. 7 C. 8

8.



Aşağıdakilerden hangisi yandaki tavuğun gerçek boyu olabilir?

A. 3 m B. 27 cm C. 31 m

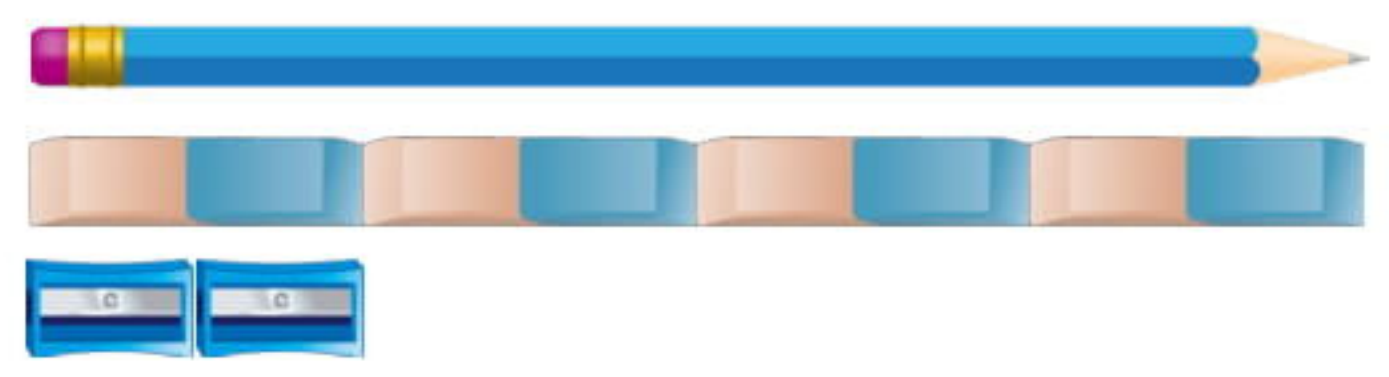
9. Erdem'in bir karışı 10 cm'dir. Erdem'in kaç karışı 1 metre eder?

A. 10 B. 8 C. 6

10. Bir terzi 20 metre kumaşın yarısı ile bir takım elbise, 4 metresi ile de bir manto dikmiştir. Geriye kaç metre kumaş kalmıştır?

A. 12 B. 9 C. 6

11.



Yukarıdaki kalemin uzunluğu kaç kalemtraş boyundadır?


A. 10 B. 8 C. 6

12. Apartmanımızın boyu 16 metredir. Bir katın yüksekliği 4 metre olduğuna göre, apartmanımız kaç katlıdır?

A. 5 B. 3 C. 4

13.



Kamyon  işareti olan yere varabilmek için kaç metre gitmelidir?

A. 72 B. 80 C. 81