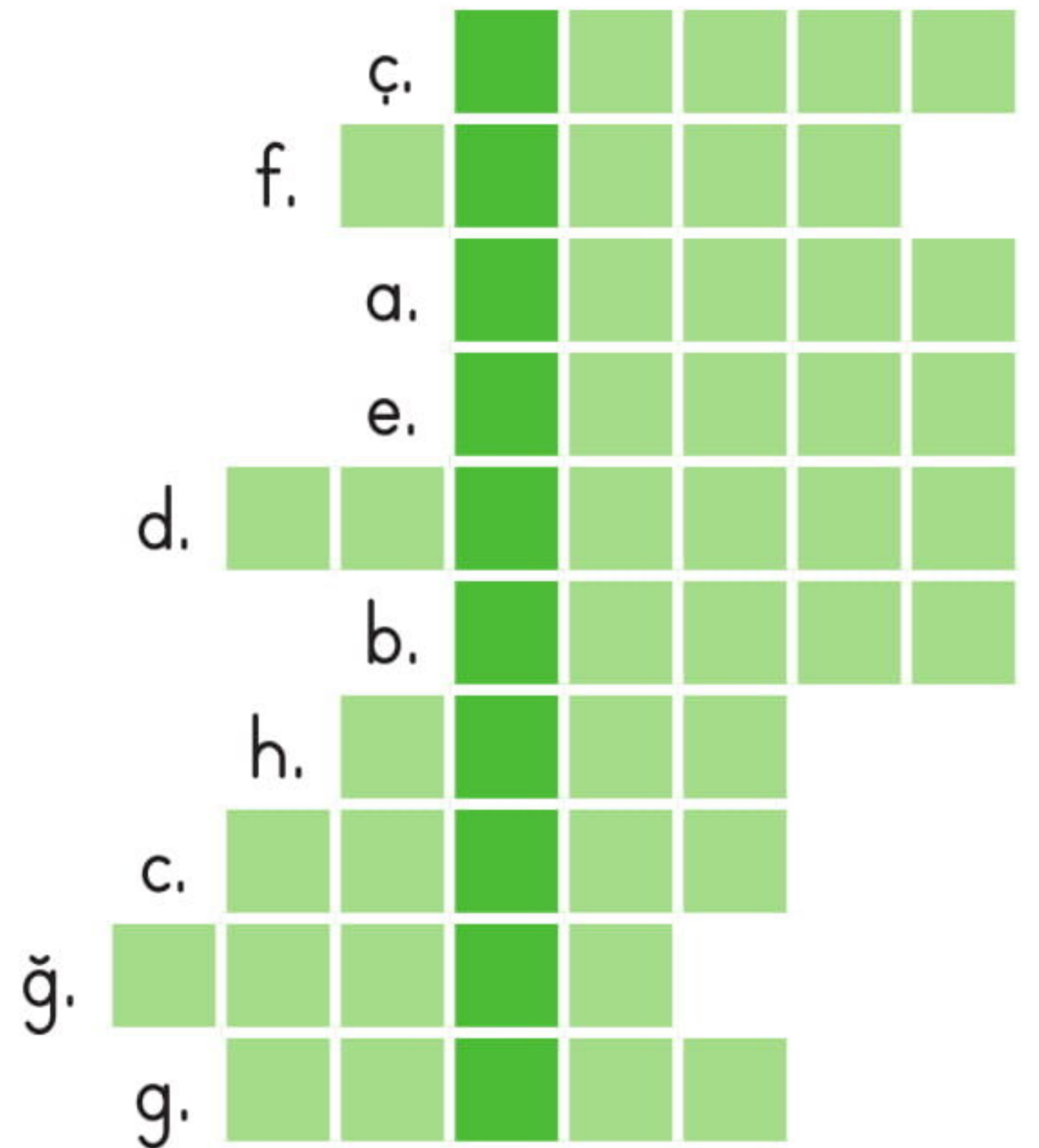


Ünite Değerlendirme - Etkinlik

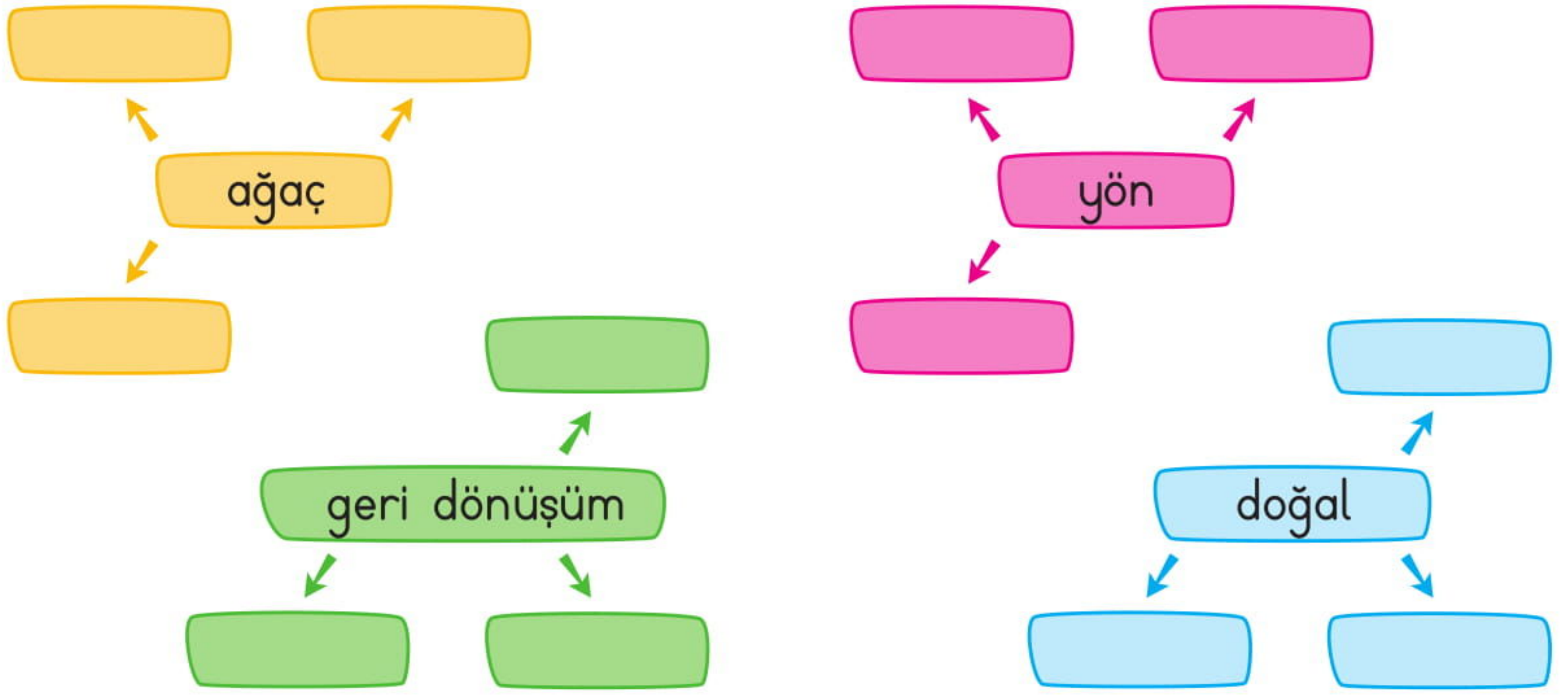
1. Aşağıdaki boşlukları uygun kelimelerle dolduralım. Bulduğumuz kelimeleri bulmacaya yazarak bilmece nin cevabını bulalım.
- a. Elma, armut, portakal ve mandalina gibiler ağaçta yetişirler.
- b. Yönümüzü bulmada kullandığımız doğal yöntemlerden biri de yıldızını gözlemlemektir.
- c. Güney,, doğu ve batı ana yönlerdendir.
- ç. İnsan etkisi olmadan, kendiliğinden oluşan çevreye çevre denir.
- d. yuvalarının ağzı güneyi, toprağın yığıldığı kısım da kuzeyi gösterir.

Hakim Yayıncılık

- e. Doğal çevreyi bozmak da, korumak daların elindedir.
- f. Havuzlar, evler, okullar, hastaneler, yollar yapayde bulunan yapılardandır.
- g. ÇEVKO, TEMA ve gibi sivil toplum kuruluşları çevrenin korunması için çalışırlar.
- ğ. Plastik, cam,, metal malzemeleri ayrıştırarak atmalı, geri dönüşüme katkıda bulunmalıyız.
- h. Çevre kirliliği, su ve toprağın kirlenmesi sonucunda oluşur.



2. Aşağıdaki kutucuklara, verilen kelimelerin bize çağrıştırdığı kelimeleri yazalım.



3. Aşağıda verilen cümlelerden bazıları doğru bazıları yanlıştır. Burak'ın olduğu cümleden başlayarak, doğru ifadeleri takip edelim. Burak'ın topladığı atıkları geri dönüşüm kutularından hangisine koyacağını bulalım.



Doğal çevre insanların etkisiyle oluşmuştur.

D

Y

Meyve ve sebzelerin hepsi aynı şekilde büyürler.

D

Y

Zarar gören ormanların yerine, fidanlar dikerek çevrenin korunmasına katkıda bulunabiliriz.

D

Y

Çevre kirliliğinin en büyük nedeni, insanların doğal çevreye verdiği zarardır.

D

Y

Doğayla ilgilenen sivil toplum kuruluşları, çevre sorunlarının çözümü için çalışırlar.

D

Y

Ağaç ve taşların yosun tutmuş tarafları güneyi gösterir.

D

Y

Kullanılmış plastik malzemeleri geri dönüştürerek, çevrenin kirlenmesine engel olabiliriz.

D

Y




Ünite Değerlendirme - 6

1. Aşağıdakilerden hangisi bitkilerin faydalarındandır?

- A. Toprağı verimsizleştirilmesi
- B. Yaşam alanlarını daraltması
- C. Havayı temizlemesi

2. Aşağıdaki hayvanlardan hangisinin hem etinden hem de sütünden faydalanırız?


A.



B.



C.



3. Aşağıdaki hayvanlardan hangisinin beslenmemize katkısı yoktur?

A.



B.




C.



4. Aşağıdaki sebzelerden hangisi diğerlerinden farklı yerde yetişmektedir?

- A. Patates
- B. Mısır
- C. Soğan

5.



Yukarıdaki meyvelerden kaç tanesi ağaçta yetişir?

- A. 3
- B. 4
- C. 5

6. Aşağıdakilerden hangisi bitkilerin büyümesi için zorunlu olan unsurlardan değildir?

- A. Hava
- B. Su
- C. Gübre

7. Aşağıdakilerden hangisi doğal çevrede bulunan unsurlardan değildir?

- A. Göl
- B. Orman
- C. Fabrika

8. Aşağıdakilerden hangisi doğal çevrenin bozulmasına neden olmaz?

- A. Plansız şehirleşme
- B. Ağaç dikme
- C. Orman yangınları

9. ▲ Atık maddeleri geri dönüştürme

- ★ Ağaçlık alanları arttırma
- Toprağa aşırı gübreleme yapma
- Fabrikaları yerleşim alanlarının dışına yapma

Yukarıdakilerden hangileri çevrenin korunması için alınabilecek önlemlerdendir?

- A. ▲ - ● - ★
- B. ▲ - ★ - ■
- C. ■ - ★ - ●

10. Aşağıdakilerden hangisi yapay çevreye örnek olarak gösterilebilir?



11. Aşağıdakilerden hangisi insanların çevreye yaptıkları olumsuz etkilerden değildir?

- A. Orman yangınları
- B. Ağaçlandırma çalışmaları
- C. Ağaçların kesilmesi

12. Aşağıdakilerden hangisi hayvanların neslinin tükenmesine neden olmaz?

- A. Doğal çevrenin bozulması
- B. Bitki örtüsünün korunması
- C. Su, hava ve toprağın kirletilmesi