

Ad-Soyad: \_\_\_\_\_

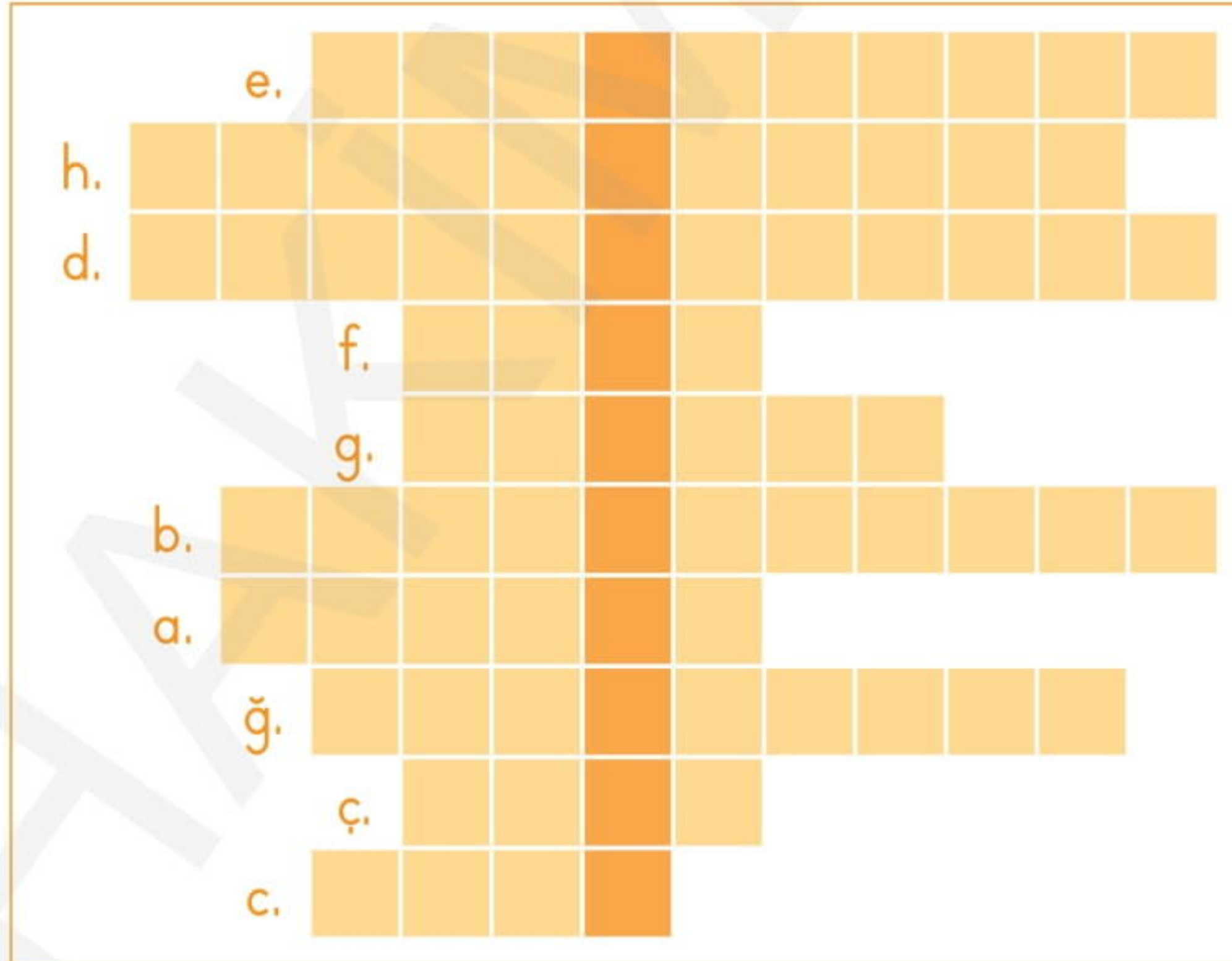
No: \_\_\_\_\_

# Sosyal Bilgiler Çalışma Kağıdı

60

## Ünite Değerlendirme - Etkinlik

- Aşağıdaki boşlukları uygun kelimelerle dolduralım. Bulduğumuz kelimeleri bulmacaya yazarak noktalı yere gelmesi gereken ifadeyi bulalım.
  - \_\_\_\_\_ kara sınırimızın en uzun olduğu ve en fazla sınır kapımızın bulunduğu komşumuzdur.
  - \_\_\_\_\_ ülkemizin batısında yer alan iki komşu ülkeden biridir. Kapıkule ve Hamzabeyli aramızdaki sınır kapılarından biridir.
  - Başkenti Tahran olan doğu komşumuz \_\_\_\_\_'dir
  - Ticari ilişkilerimizin Habur sınır kapısından yapıldığı güney komşumuz \_\_\_\_\_'tir.
  - \_\_\_\_\_ başkenti Aşkabat olan Türk Cumhuriyeti'dir.
  - \_\_\_\_\_ başkenti Astana olan Türk Cumhuriyeti'dir.
  - Türkiye, \_\_\_\_\_ Cumhuriyetleri ve diğer ülkelerde yaşayan Türklerle ilişkilerini yürütmek amacıyla TİKA gibi kurumlar oluşturmuştur.
  - Kuzey \_\_\_\_\_ Türk Cumhuriyeti ülkemizde "Yavru Vatan" olarak adlandırılır.
  - \_\_\_\_\_ doğu komşumuzdur ve başkenti Tifliştir.
  - \_\_\_\_\_ başkenti Bişkek olan Türk Cumhuriyeti'dir.

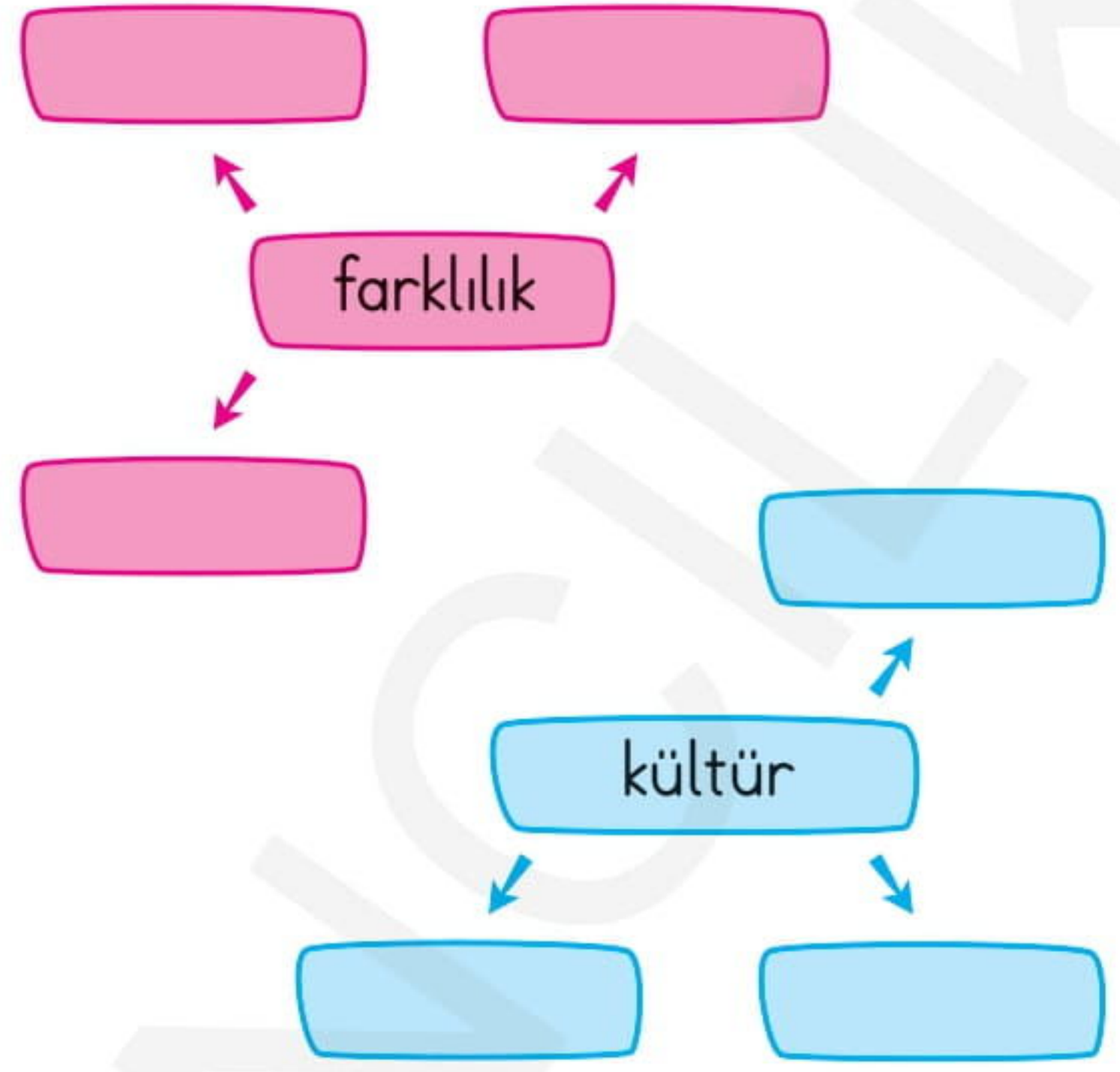
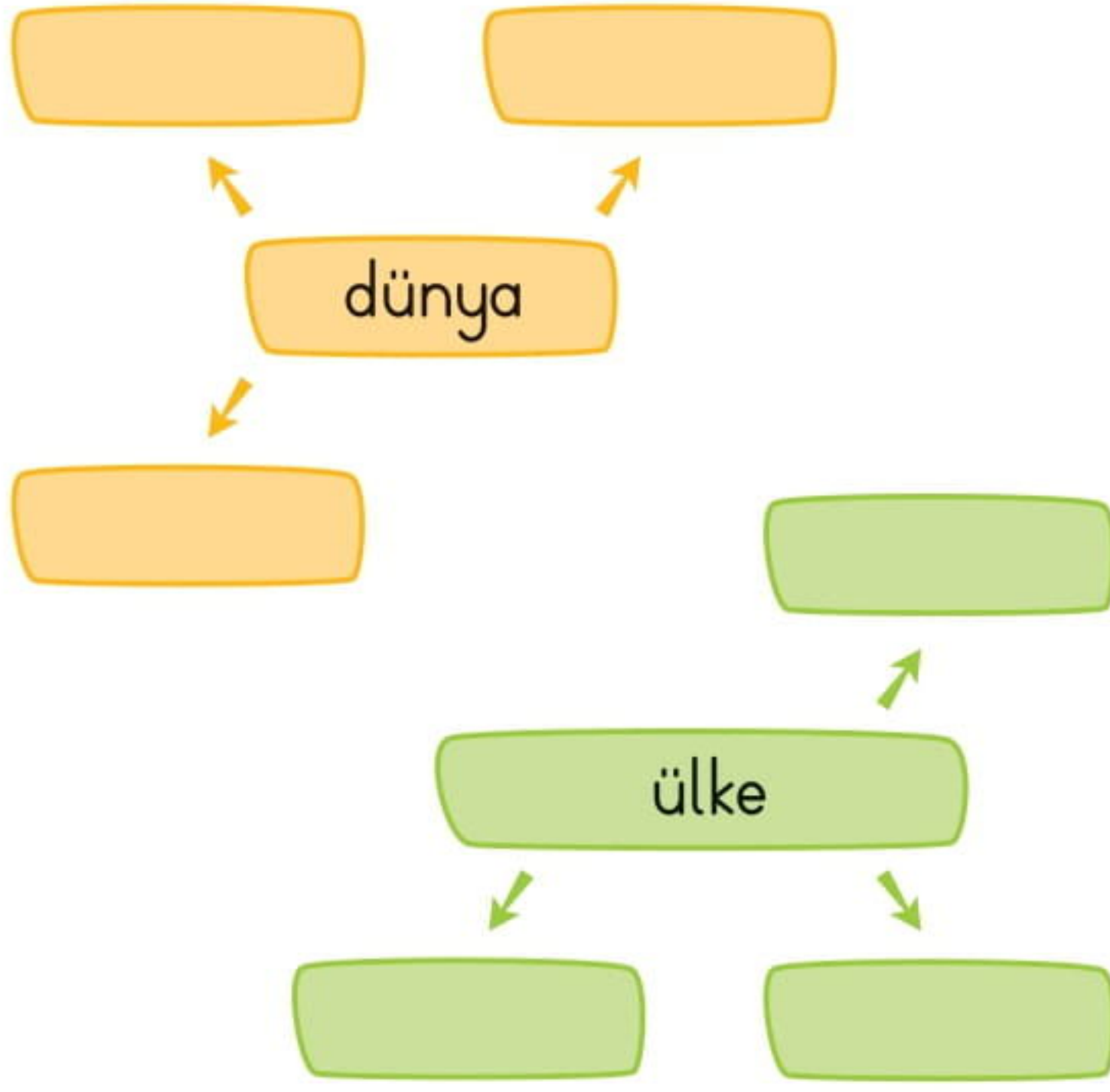


Türkiye ve hangi ülke birbirlerini "iki devlet bir millet" olarak ifade etmektedir?





2. Aşağıdaki kutucuklara, verilen kelimelerin bize çağrıştırdığı kelimeleri yazalım.



3. Aşağıda verilen cümlelerden bazıları doğru bazıları yanlıştır. Kübra'nın olduğu cümleden başlayarak, doğru ifadeleri takip edelim. Kübra'nın Sosyal Bilgiler dersinde hangi ülkeyi araştırdığını bulalım.



Yunanistan Türkiye'nin komşu ülkelerinden biridir.

D

Y

Türkiye'nin doğu komşularından olan Nahcivan ile aramızdaki sınır kapısı Sarp sınır kapısıdır.

D

Y

Sovyet Birliği'nden ayrılarak bağımsızlıklarını kazanan Türk Cumhuriyetleri Asya kıtasında bulunmaktadır.

D

Y

Azerbaycan'ın başkenti Tahran'dır.

D

Y

Türkiye, Kırgızistan'dan pamuk ve ipek ithal etmektedir.

D

Y

Yiyecek çeşitleri ülkeden ülkeye farklılık gösterir.

D

Y

Suriye ile aramızda diğer komşu ülkelere göre daha fazla sınır kapısı vardır.

D

Y

İran

Yunanistan

Irak

Türkmenistan

KKTC

Fransa

Pakistan

Bosna Hersek



Ad-Soyad: \_\_\_\_\_

No: \_\_\_\_\_

# Sosyal Bilgiler Çalışma Kağıdı

61

## Ünite Değerlendirme - 7

1. Aşağıdakilerden hangisi bir kıta değil-dir?

- A) Afrika  
B) Antartika  
C) Avrupa  
D) Avusturya

2. Aşağıdakilerden hangisi farklı ülkelerde yaşayan insanlar arasındaki benzerliklerden biridir?

- A) Bayramları  
B) Dilleri  
C) Beslenme ihtiyacı  
D) Geleneksel kıyafetleri

3. Aşağıdaki ülkelerden hangisi ülkemizin güney komşularından biridir?

- A) Gürcistan  
B) Bulgaristan  
C) Irak  
D) Yunanistan

4. Aşağıdaki ülkelerden hangisi ile sınırimız yoktur?

- A) Ermenistan  
B) İran  
C) Azerbaycan  
D) Suriye

5. I. Başkenti Atina'dır.

II. Batıdaki sınır komşumuzdur.

III. İpsala ve Pazarkule aramızdaki sınır kapılarıdır.

Yukarıda bahsedilen komşumuz olan ülke aşağıdakilerden hangisidir?

- A) Nahcivan  
B) Yunanistan  
C) Azerbaycan  
D) Bulgaristan

6. Aşağıdaki ülke ve sınır kapısı eşleştirmelerinden hangisi yanlıştır?

- A) Suriye → Çobanbey  
B) Irak → Ceylanpınar  
C) Gürcistan → Sarp  
D) İran → Gürbulak

7. Aşağıdaki bayramlardan hangisi tüm İslâm ülkelerinde kutlanır?

- A) Kurban Bayramı  
B) Cumhuriyet Bayramı  
C) Nevruz Bayramı  
D) Cadılar Bayramı



8. Asya'da bulunan Türk Cumhuriyetleri hangi yıl bağımsızlıklarını kazanmıştır?

- A) 1989                      B) 1990  
C) 1991                      D) 1992

9. Aşağıdakilerden hangisi Türk Cumhuriyetleri'nden biri değildir?

- A) Türkmenistan              B) Gürcistan  
C) Azerbaycan                D) Kazakistan

10. Soydaş ve akraba coğrafyasındaki gençlerimizin ortak tarih, dil, kültür, gelenek ve değerlerin yeni nesillere aktarılmasını sağlayacak çalışmalarını destekleyen kurum aşağıdakilerden hangisidir?

- A) Türk İşbirliği ve Koordinasyon Ajansı Başkanlığı  
B) Yunus Emre Enstitüsü  
C) Yurtdışı Türkler ve Akraba Topluluklar Başkanlığı  
D) Türk Konseyi

11. Aşağıdaki bilgilerden hangisi yanlıştır?

- A) Ülkelerin mutfak kültürleri birbirinden farklıdır.  
B) Ülkelerin geleneksel kıyafetleri birbirinden farklılık gösterir.  
C) Tüm ülkelerde yaşayan insanların barınma ihtiyacı vardır.  
D) Tüm ülkelerde kutlanan bayramlar aynıdır.





12. Aşağıdaki ülke ve başkent eşleştirmelerinden hangisi doğrudur ?

- A) Azerbaycan → Tiflis  
B) Türkmenistan → Bişkek  
C) Kazakistan → Astana  
D) Kırgızistan → Aşkabat

13. Aşağıdaki ülkelerden hangisi doğu sınırımızda bulunmaktadır?

- A) Yunanistan  
B) Irak  
C) Suriye  
D) Nahcivan

14. Aşağıdaki öğrencilerden hangisi yanlış bir bilgi vermiştir?

- A)  Bulgaristan Avrupa kıtasında bulunan bir ülkedir.
- B)  Ülkemiz Asya ve Avrupa kıtaları üzerindedir.
- C)  Türkmenistan Asya kıtasındadır.
- D)  İran ve Irak Avrupa kıtasında bulunan ülkelerdir.