

## 2. SINIF ÇALIŞMA YAPRAKLARIMIZ

*Yeni Nesil Beceri Temelli*


*Derse Yardımcı*  
*Kazanım Odaklı*

**34**  
**HAFTA**  
Bol bol test  
Bol bol etkinlik



**TÜRKÇE:** Hece Bilgisi**MATEMATİK:** Onluk ve Birliklerine Ayırma, Basamak Değeri**HAYAT BİLGİSİ:** Bireysel Farklılıklarımız, Okula Hazırlanıyoruz**TÜRKÇE** Hece Bilgisi

1 Görselleri verilen varlıkların adlarını hecelerine ayırarak yazalım.



2 Aşağıdaki tabloda verilen heceleri kullanarak yeni sözcükler yazalım.

Ek-	⇒ Ekran
	⇒
	⇒
	⇒

Ta-	⇒
	⇒
	⇒
	⇒

Kar-	⇒
	⇒
	⇒
	⇒

Tek-	⇒
	⇒
	⇒
	⇒

3 Aşağıdaki tabloyu istenen bilgilere göre dolduralım.

Sözcük	Harf Sayısı	Hece Sayısı	Ünlü Harf Sayısı
yayıncılık			
çözümleme			
etkinlikler			
geliyormuş			
basamağında			
etkinliklerin			

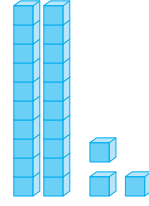
4 Aşağıdaki sözcüklerden hangisi hecelerine doğru ayrılmıştır?

- A) tel - e - fon
- B) sat - ıl - ık
- C) ka - za - nım

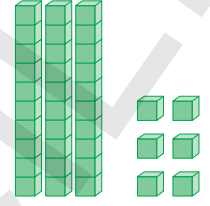
5 Aşağıdaki sözcüklerden hangisi satır sonuna sığmadığında bölünmez?

- A) dörtlük
- B) bayrak
- C) sert


6 Aşağıdaki bloklarla modellenmiş sayıları örnekteki gibi yazalım.



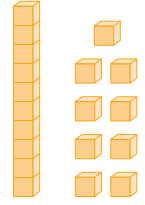
2 onluk	3 birlik
23	
yirmi üç	




..... onluk	..... birlik
.....	
.....	



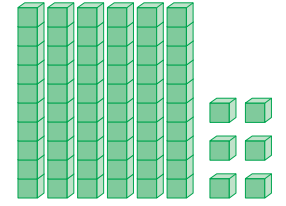
..... onluk	..... birlik
.....	
.....	




..... onluk	..... birlik
.....	
.....	




..... onluk	..... birlik
.....	
.....	



..... onluk	..... birlik
.....	
.....	



..... onluk	..... birlik
.....	
.....	



..... onluk	..... birlik
.....	
.....	

Hakim Yayıncılık

- 7 Aşağıdaki tabaklardaki kek sayılarını tahmin edelim. Sonra da sayarak gerçek sonucu bulalım.



Tahminim:

Gerçek sayı:



Tahminim:

Gerçek sayı:



Tahminim:

Gerçek sayı:



Tahminim:

Gerçek sayı:

- 8 Verilen sayıların basamak adlarını ve değerlerini yazalım.

15	Basamak Adı	Basamak Değeri
└─┬─┐	..... basamağı	.....
└─┬─┐	..... basamağı	.....

72	Basamak Adı	Basamak Değeri
└─┬─┐	..... basamağı	.....
└─┬─┐	..... basamağı	.....

28	Basamak Adı	Basamak Değeri
└─┬─┐	..... basamağı	.....
└─┬─┐	..... basamağı	.....

69	Basamak Adı	Basamak Değeri
└─┬─┐	..... basamağı	.....
└─┬─┐	..... basamağı	.....

58	Basamak Adı	Basamak Değeri
└─┬─┐	..... basamağı	.....
└─┬─┐	..... basamağı	.....

33	Basamak Adı	Basamak Değeri
└─┬─┐	..... basamağı	.....
└─┬─┐	..... basamağı	.....

94	Basamak Adı	Basamak Değeri
└─┬─┐	..... basamağı	.....
└─┬─┐	..... basamağı	.....

- 9 Bireysel farklılıklara saygı duyan bir kişinin davranışlarına uygun olan ifadeleri işaretleyelim.
- Fikirleri kendisine uymayan kişilerle arkadaşlık yapmaz.
  - Fiziksel özellikleri farklı olan kişilerle alay etmez.
  - Fiziksel özelliklerindeki farklılıklar arkadaşlıklarını etkilemez.
  - Aynı şeylerden hoşlanmadığı kişilerle yakın olmaz.
  - Fiziksel farklılıkları olan kişileri olduğu gibi kabul eder.
  - Bireysel farklılıklara saygı duyar.
  - Sağlık sorunları olan kişilerden uzak durur.

- 10 Okulda günlük ders programına göre dersler yapılır. Ders programında günlere göre yapılacak dersler sıralanmıştır. Her öğrenci, çantasını ders programına göre hazırlamalı, gereksiz araç gereçleri çantasına koymamalıdır. O gün için götürmesi gereken çalışma, proje, etkinlik ve ödevi varsa yanına almalıdır.

Yukarıda verilen bilgiye göre aşağıdaki çocuklardan hangisinin davranışı doğrudur?

A)



Çantama her gün tüm ders kitaplarımı koyarım.

B)



Çantamı ders programına göre hazırlar, gereksiz eşyaları çantama koymam.

C)



Çantamın ağır olmaması için ders kitaplarımı evde bırakırım. Arkadaşlarımdan kitaplarını kullanırım.

## 2. SINIF ÇALIŞMA YAPRAKLARIMIZ

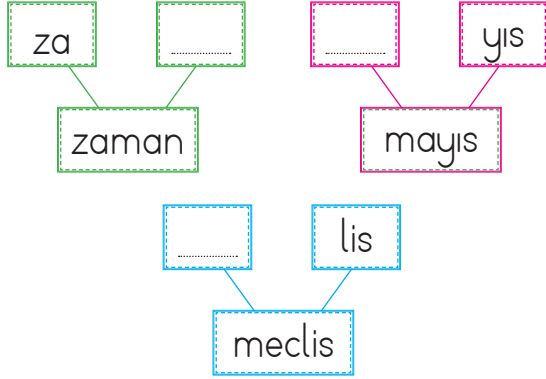
*Yeni Nesil Beceri Temelli*

*Derse Yardımcı*  
*Kazanım Odaklı*

**34**  
**HAFTA**  
Bol bol test  
Bol bol etkinlik



1



Yukarıdaki tabloda sözcükler oluşturulurken verilmeyen heceler hangi seçenekte verilmiştir?

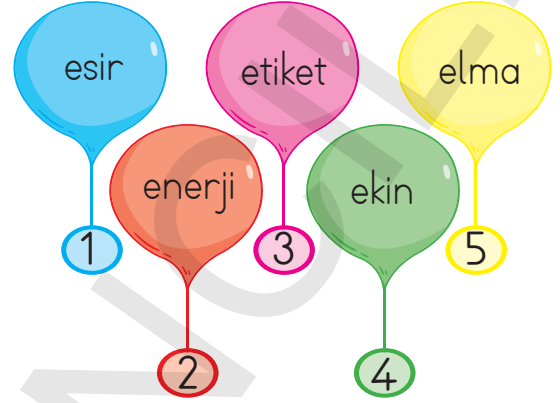
- A) -an, may, me
- B) -man, ma, mec
- C) -man, mas, mes

2

Aşağıdaki sözcüklerden hangisi hecelerine ayrılırken yanlışlık yapılmıştır?

- A) tra-fik
- B) kurt-ul-uş
- C) söy-le-dik-le-ri

3



Yukarıdaki sözcükler sözlük sırasına göre sıralandığında hangisi 2. sırada olur?

- A) 5
- B) 3
- C) 2

4

Aşağıdaki sözcüklerden hangisi diğerlerine göre daha fazla heceden oluşmaktadır?

- A) cumhuriyetimiz
- B) çocukluğunda
- C) yurdumuzun

5 Aşağıdaki sözcüklerden hangisinde **-ma** hecesi vardır?

- A) yamak
- B) macera
- C) mantar

6 "Minik, annesi ve kardeşleriyle kocaman bir gölde yaşıyormuş."

Yukarıdaki cümle kaç heceden oluşmuştur?

- A) 23
- B) 21
- C) 19

7

rak	be	kuş	ram
yaz	bay	ma	bek

Tablodaki heceleri kullanarak aşağıdaki sözcüklerden hangisini yazamayız?

- A) bayram
- B) beyaz
- C) matrak

8



Saksıdaki çiçek sayısı için aşağıdakilerden hangisi söylenemez?

- A) Bir desteden 3 eksiktir.
- B) Saksıya 5 çiçek daha konulursa, saksıda bir düzine çiçek olur.
- C) Saksıdaki çiçek sayısı 6 birliktir.

9



Yukarıdaki kalemlerin bir düzinesi alındığında geriye kalan kalem sayısı kaç onluk kaç birlik olur?

- A) 1 onluk 1 birlik
- B) 1 onluk 5 birlik
- C) 1 onluk 7 birlik



10



Bu sayı 3 desteden 3 eksiktir.

Bekir'in söylediği sayı hangi abaküste gösterilmiştir?

A)




B)



C)



11



Aşağıdaki çocuklardan hangisi kuşların sayısını yanlış ifade etmiştir?

A)



Dalda bir desteden 4 fazla kuş vardır.

B)




Daldaki kuş sayısı 1 onluk ve 4 birliktir.

C)



Daldaki kuş sayısı 2 düzineden 9 eksiktir.

12



Yukarıda bloklarla modellenen sayı için aşağıdakilerden hangisi yanlıştır?

A)

Onlar basamağındaki sayı 8'dir.

B)


Birler basamağındaki sayının basamak değeri 4'tür.

C)

Sayıda 4 onluk vardır.

13 Halil, uzun boylu biraz da şişman bir çocuktur. Saçları açık kahverengi ve kıvrıktır. Gözleri de kahverengidir.

Yukarıda özellikleri verilen çocuk aşağıdakilerden hangisi olabilir?



14 Ayşe düzenli bir öğrencidir. Okula her zaman hazırlıklı gider.

Aşağıdakilerden hangisi Ayşe'nin davranışlarından biri olamaz?

- A) Günlük derslerini ve çalışma saatlerini gösteren bir programı vardır.
- B) Okuldan geldikten sonra biraz dinlenip öğretmenin verdiği ödevleri yapar.
- C) Çantasına, ders programına dikkat etmeden her şeyi koyar.

15	⇒ Arkadaşlarımızdan bazıları uzun, bazıları kısa boyludur.
	⇒ Birbirimizin farklılıklarına saygı duymalıyız.
	⇒ Aynı sınıftaki arkadaşlarımızla aynı şeylerden hoşlanırsınız.
	⇒ İlgi ve yeteneklerimizin farklı olması normaldir.

Yukarıdaki ifadelerden doğru olanların başına "D", yanlış olanların başına "Y" yazıldığında seçeneklerden hangisi oluşur?

A)	D	B)	Y	C)	D
	D		D		D
	Y		Y		Y
	Y		D		D

16 Günlük ders programına dikkat etmeden tüm araç gereçleri çantamıza doldurmamız neden yanlıştır?

- A) Ağır çanta taşımamız sağlığınıza zarar verir.
- B) Araç gereçlerimizi sınıfta kaybedebiliriz.
- C) Arkadaşlarımız kıskanabilir.