

3.SINIF ÇALIŞMA YAPRAKLARIMIZ

Yeni Nesil Beceri Temelli

Derse Yardımcı

Kazanım Odaklı

34

HAFTA

*Bol bol test
Bol bol etkinlik*



SALINCAK SIRASI

Emre ve Mert oyun oynamak için parka gittiler. Kaydırdaktan kayıp tahterevalliye bindikten sonra, salıncağa binmek istediler.

Parktaki salıncaklardan sadece bir tanesi boştu. Emre, arkadaşına sırayla binmeyi teklif etti. Salıncağa önce Emre bindi ve beş dakika sallandıktan sonra salıncağı Mert'e verdi. Mert de beş dakika sallandı ama salıncaktan inemedi.

Emre, Mert'e sıranın kendisine geldiğini söyledi ama Mert, duymamış gibi yaparak sallanmaya devam etti. Mert'in adil olmayan bu davranışı Emre'yi üzdü. Arkadaşının yanından uzaklaşarak eve döndü.

1. Emre ve Mert nereye gitmişler?

.....

2. Çocuklar parkta ne yapmışlar?

.....

3. Salıncağa binmek için çocuklar ne yapmaya karar vermişler?

.....

4. Mert'in hangi davranışı, Emre'ye göre, adil değilmiş?

.....

5. Okuduğumuz metnin konusu nedir?

.....

6. Hikayenin sonrasında sizce ne olmuştur?

.....

7. Aşağıdaki alfabetik sıralamalardaki eksik harfleri yazalım.

..... - n - - ö - p -

..... - ş - t - - ü -

a - b - - ç - -

g - - h - - - j

e - f - - - h -

m - - o - - p -

t - u - - v - -

Hakim Yayıncılık

8. Tablodaki boşlukları istenen bilgilere göre dolduralım.

	Kalın ünlüler	İnce ünlüler
dürüst		
kalabalık		
aktivite		
bilgisayar		
sürahi		
tamirhane		
ferahlık		
misafir		
emniyet		

9. Tabloda verilen harflerle başlayan kelimeler yazarak tabloyu dolduralım.

Harf	İsim	Şehir	Hayvan	Bitki
B				
E				
K				
N				
S				
O				
T				

10. Aşağıdaki ifadeleri okuyalım. Doğru olanlar için "D", yanlış olanlar için "Y" kutusunu boyayalım.

⇒ Her insanın farklı özellikleri, ilgi alanları ve yetenekleri vardır.	D	Y
⇒ Güçlü yönlerimizi keşfedersek daha başarılı oluruz.	D	Y
⇒ Başarılı olmayan kişilerin daha çok takdir edilmesi gerekir.	D	Y
⇒ Gücsüz yönlerimiz ön plana çıkarıldığında daha mutlu ve başarılı oluruz.	D	Y
⇒ Okuldaki bütün öğrenciler tüm derslerde başarılı olmalıdır.	D	Y
⇒ Sorumluluk sahibi olmak, arkadaşlarımızla yaptığımız çalışmalarda iş birliği yapmak güçlü yönlerimizdendir.	D	Y
⇒ Diğer arkadaşlarımızda olmayan özelliklere sahip olmamız bizi üstün kılar.	D	Y
⇒ Güçlü olmayan yönlerimizi geliştiremeyiz.	D	Y

11. Aşağıda Akın'ın bazı özellikleri verilmiştir. Verilen bilgilere göre, Akın'ın ilgi alanlarını, güçlü yönlerini ve güçlendirilmesi gereken yönlerini yazalım.



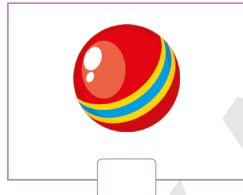

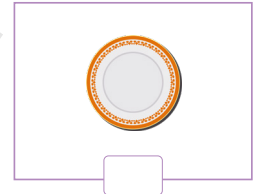
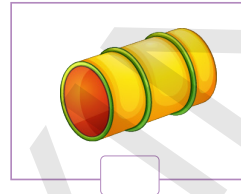
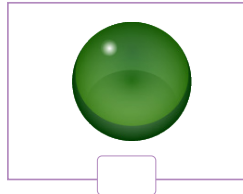
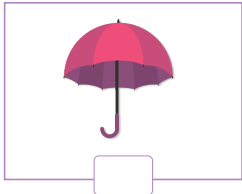
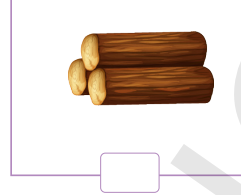


Akın, araştırma yapmayı çok sever. Deneyle yapılarak yeni bilgiler öğrenir, keşifler yapar. Planlı çalıştığı için derslerinde ve günlük hayatında da başarılıdır. Çalışırken dikkatini yaptığı işe verir ama dağınıktır. Bazen deney araçlarını bulmakta zorluk çeker. Kendi başına çalışmayı sever. İş birliği yapmanın zaman kaybı olduğunu düşünür.

	İlgi alanı	Güçlü yönleri	Güçlendirilmesi gereken yönleri
Akın'ın Özellikleri			

12.



Fen bilimleri dersinde dünyanın şekliyle ilgili bir ödev hazırlayacağım. Evde bulduğum malzemelerden hangilerini ödevim için kullanabilirim? İşaretleyerek bana yardım eder misin?



13. Aşağıda verilen metindeki boşlukları uygun ifadelerle dolduralım. Soruları cevaplayalım.

Dünya

bilim

küre

fotoğraflar

üstten



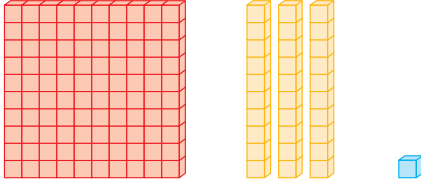
Günümüzde ve teknolojinin gelişmesiyle, uzaya gönderilen araçlar sayesinde 'nın fotoğrafı çekilmiştir. Uzaydan çekilen bu Dünya'nın şeklini net olarak göstermektedir. Dünya; alttan ve hafif basık, ortasından şişkin bir şeklindedir.

Günümüzde Dünya'nın şeklinin nasıl olduğu hangi araçlar kullanılarak bulunmuştur?

Çekilen fotoğraflara göre Dünya'nın şekli nasıldır?


Adı-Soyadı: Numarası: Sınıfı:

1. Aşağıda bloklarla modellenmiş sayıların yazılışlarını ve okunuşlarını noktalı yerlere yazalım.



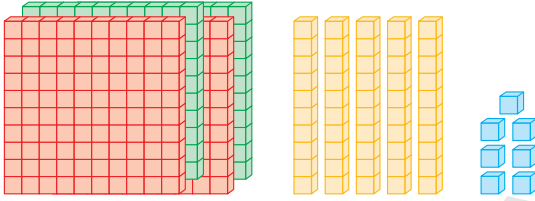
Sayı: _____

Okunuşu: _____




Sayı: _____

Okunuşu: _____



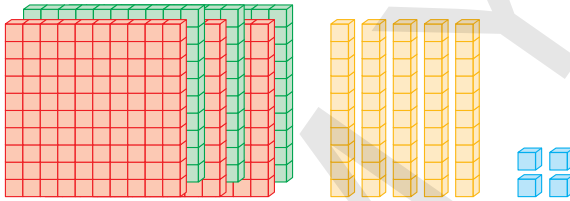
Sayı: _____

Okunuşu: _____



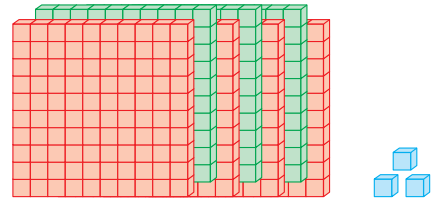
Sayı: _____

Okunuşu: _____



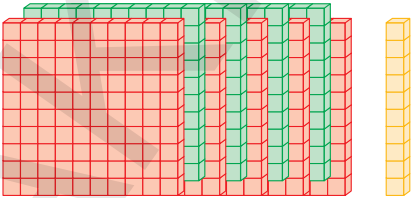
Sayı: _____

Okunuşu: _____



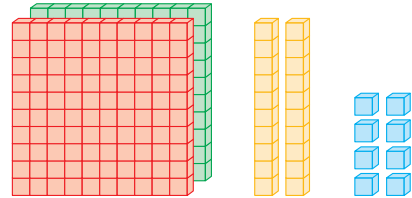
Sayı: _____

Okunuşu: _____



Sayı: _____

Okunuşu: _____



Sayı: _____

Okunuşu: _____

2. Aşağıdaki ritmik saymaların kaçarlı yapıldığını bulalım. Eksik olan sayıları yazalım.


⇒	882	881			878	877		875
⇒	214	224	234			264		
⇒	339			342	343	344		
⇒			285	385			685	785
⇒	616	615	614					
⇒	549	539					489	479
⇒	197	297	397					
⇒						608	708	808
⇒			166	176		196		

3. Cemil 698 sayısından başlayarak ileriye birer ritmik sayma yapmıştır. Hakan da Cemil'in 9. sırada söylediği sayıdan başlayarak geriye yüzer ritmik sayma yapmıştır. Hakan'ın 5. sırada söylediği sayı kaçtır?

- A) 205
- B) 306
- C) 403



4. Ceylan ve Belma'nın sıralarındaki kağıtların üzerinde 3 basamaklı sayılar yazmaktadır. Ceylan yazılı olan sayıyı, rakamların birer fazlasını söyleyerek, Belma ise birer eksikliğini söyleyerek okumuşlardır.



Çocukların okudukları sayılar hangisinde verilmiştir?

- A) Ceylan: Yedi yüz on altı / Belma: Dört yüz sekiz
B) Ceylan: Dokuz yüz otuz altı / Belma: İki yüz altı
C) Ceylan: Dokuz yüz otuz dört / Belma: Üç yüz yirmi altı

5.



Fatih yukarıdaki kartlarda yazılı sayıları kullanarak yazılabilecek en büyük üç basamaklı sayıyı bulmuştur. Bulduğu sayıdan başlayarak geriye onar ritmik sayma yapan Fatih'in 6. sırada söylediği sayının okunuşu hangisinde verilmiştir?

- A) Sekiz yüz on bir
B) Sekiz yüz iki
C) Yedi yüz doksan beş



6. Sude aşağıdaki tahtada yazılı sözcüklerden sadece ince ünlülerden oluşanları bulup defterine yazacaktır.

1. telefon	5. katılımcı	9. bilgisayar	13. terbiye
2. makarna	6. perşembe	10. beceri	14. alfabe
3. papağan	7. matematik	11. nefes	15. çerçeve
4. nöbet	8. konferans	12. güneş	16. uyarı

Sude'nin defterine yazması gereken sözcük sayısı kaçtır?

A) 5

B) 7

C) 9

7.



İyi bir gözlemciyimdir. Gördüğüm şeyleri rahatlıkla taklit edebilirim. Tiyatroyu severim. Derslerdeki canlandırma çalışmalarında çoğu zaman görev alırım. Planlı çalıştığım için derslerimde ve günlük hayatımda da başarılıyım. Arkadaşlarımla başarısızlıkları beni çok sinirlendirir. Hata yapan arkadaşlarıma bazen kınacı sözler söyleyebilirim.

Ayla'nın sözlerine göre aşağıdaki ifadelerden hangisi yanlıştır?

A) Ayla tiyatroya ilgi duymaktadır.

B) İyi bir gözlemci olması ve planlı bir şekilde çalışması Ayla'nın güçlü yönlerindedir.

C) Arkadaşlarının başarısızlıkları Ayla'nın başarısını artırmaktadır.

- 1 ▲ Alfabede "R"den sonra gelen harf hangisidir?
- Alfabede "K"den önce gelen harf hangisidir?
- ★ Alfabede 18. sıradaki harf hangisidir?

Yukarıdaki soruların cevabı olan harfler hangisinde doğru verilmiştir?

	▲	●	★
A) M	G	Ö	
B) S	J	O	
C) P	L	P	

- 2 hayat harita hayal
- ★ ● ◆

Yukarıdaki sözcüklerin alfabetik sıralaması aşağıdakilerden hangisidir?

- A) ●-★-◆
- B) ★-●-◆
- C) ●-◆-★

- 3 Aşağıdaki bilgilerden hangisi doğru değildir?

- A) Alfabemizdeki ünlü harfler a, e, ı, i, o, ö, u, ü'dür.
- B) Alfabemizde T harfi Y harfinden önce gelir.
- C) Alfabemizde ünlü harfle başlayan sözcük yoktur.

4

masal

E

martı

D

maket

A

makarna

V

Yukarıdaki sözcükleri alfabetik olarak sıralarsak aşağıdaki sözcüklerden hangisini elde ederiz?

- A) VEDA B) ADVE
- C) VADE

- 5 Aşağıdaki sözcüklerden hangisinin tamamı kalın ünlülerden oluşmuştur?

- A) kurabiye
- B) kalabalık
- C) ilkokul

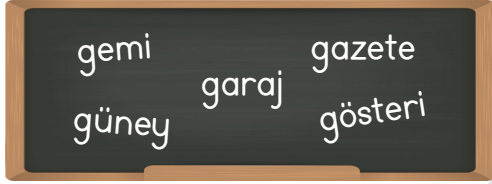
6

telefon

Yukarıdaki kelime ile ilgili aşağıda verilen bilgilerden hangisi doğrudur?

- A) Sekiz harften oluşmuştur.
- B) Bütün ünlü harfleri incedir.
- C) Sözlükte "tencere" sözcüğünden önce gelir.

7



Yukarıdaki sözcükler alfabetik olarak sıralandığında hangisi 3. sırada gelir?

- A) gösteri
- B) güney
- C) gemi

8

Aşağıdakilerden hangisinde güçlendirilmesi gereken bir yönden bahsedilmiştir?

- A) Çok iyi basketbol oynayabiliyorum.
- B) Arkadaşım Mustafa iyi bir satranç oyuncusudur.
- C) Resim çizmekte pek de başarılı değilim.

9



Merhaba ben Metin. Hareketli biriyim. Basketbol oynamayı çok severim. Sınıfta yerimde duramam. Bu özelliğim yüzünden bazen öğretmenim beni uyarır.

Yukarıda anlattıklarına göre aşağıdakilerden hangisi Metin'in güçlendirilmesi gereken yönüdür?

- A) Yerinde duramaması
- B) Basketbol oynamayı sevmesi
- C) Hareketli biri olması

10

Aşağıda verilen ifadelerden hangisi doğrudur?

- A) Başarılı olduğumuz işlerde daha fazla çalışmamıza gerek yoktur.
- B) Güçlü olmadığımız yönlerimizi çalışarak geliştirebiliriz.
- C) Güçlü olmayan yönlerimizi geliştirmemiz gerekmez.

2

11



Üç yüz
on üç




İki yüz
otuz yedi




Beş yüz kırk

Yukarıdaki öğrencilerin okunuşunu söylediği sayılardan hangisi yanlış modellenmiştir?


A)



B)



C)



12

⇒ 804 803 802 801 800 ●

⇒ 324 323 322 321 320 ▲

⇒ 185 186 187 188 189 ■

Yukarıda yapılan ritmik saymalarda sembollerin yerine hangi sayılar yazılmalıdır?

- | | | | |
|----|-----|-----|-----|
| | ● | ▲ | ■ |
| A) | 700 | 310 | 190 |
| B) | 790 | 309 | 199 |
| C) | 799 | 319 | 190 |

13



Abaküste gösterilen sayı aşağıdakilerden hangisidir?

- A) 481 B) 591 C) 572

14

5 yüzlük + 8 onluk + 3 birlik

Yukarıda çözümlenmiş sayı aşağıdakilerden hangisidir?

- A) 385
B) 583
C) 853

15 912 sayısı için aşağıdakilerden hangisi doğrudur?

- A) Birler basamağındaki sayı birdir.
- B) Yüzler basamağındaki sayının basamak değeri 200'dür.
- C) Onlar basamağındaki sayının basamak değeri 10'dur.




16  278 288 298 ? 318

 831 731 ? 531 431

Yukarıdaki ritmik sayılarda "?" ile gösterilen yerlere hangi sayı gelemez?

- A) 308
- B) 328
- C) 631

17 Aşağıdaki varlıklardan hangisinin şekli Dünya'nın şekline benzemektedir?

- A) 
- B) 
- C) 

18 Dünya ile ilgili aşağıdaki görüşlerden hangisi doğrudur?

- A) Dünya, düz bir tepsi gibidir.
- B) Dünya, bir öküzün boynuzları üstündedir.
- C) Dünya, ortasından hafif şişkin bir küre şeklindedir.

19 Bir denizci ve kaşif olan Macellan Dünya'nın yuvarlak olduğunu ispat etmek için aşağıdakilerden hangisini yapmıştır?

- A) Uzaydan Dünya'nın fotoğrafını çekmiştir.
- B) Gemisi ile çıktığı yolculukta hep aynı yöne giderek başladığı noktaya varmıştır.
- C) İcat ettiği teleskopla gökyüzünü incelemiştir.

20 Aşağıdakilerden hangisinde Dünya'yı oluşturan katmanlar dıştan içe, doğru olarak sıralanmıştır?

- A) İç çekirdek → dış çekirdek → manto → yer kabuğu
- B) Manto → yer kabuğu → dış çekirdek → iç çekirdek
- C) Yer kabuğu → manto → dış çekirdek → iç çekirdek