

Ad-Soyad:

No:

Türkçe Çalışma Kağıdı

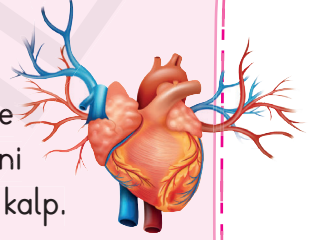
Okuma Anlama - Sözcükler ve Çağrışımları

01

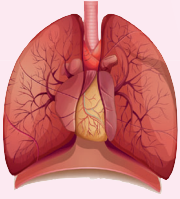
Hiç Durmadan Çalışan Organ: Kalbimiz

Hiç düşündünüz mü? Acaba hangi organımız olmasa yaşayamayız?

Gerçi bütün organlarımızın ayrı görevleri ve yaşamımızı sürdürmede mutlaka gerekli oldukları alanlar var. Ama bir organımız var ki o işlevini yapmadığında tüm hayat ve tüm organlar durur. Evet doğru bildiniz. O kalp.



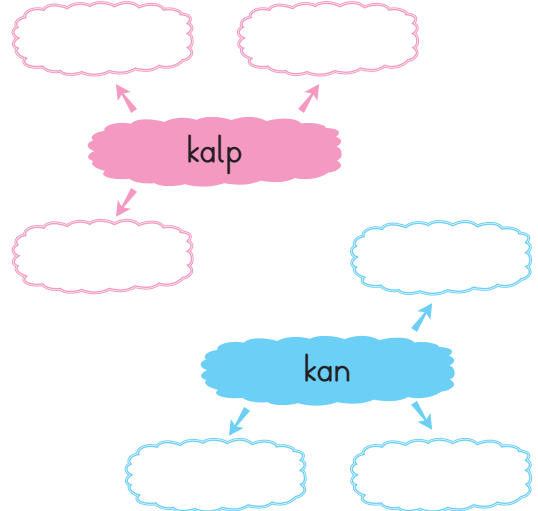
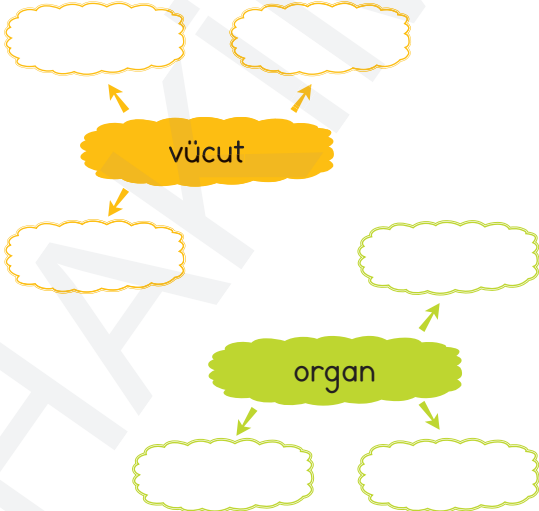
Kalp vücudumuzun sol üst tarafında, tüm vücuda kan pompalayan organımızdır. Dört odacıklıdır. Kalbimizin sol tarafında temiz kan -yani bol oksijenli kan-, sağ tarafında ise kirli kan -yani karbondioksit miktarı çok olan kan- bulunur. Kirli kan ve temiz kan asla birbirine karışmaz. Her insanın kalbi yaklaşık kendi yumruğu büyüklüğündedir. Kalp durmadan, dinlenmeden insan yaşamı boyunca atar, durur.



Kalp ve akciğer arasında sıkı dostluk vardır. Çünkü kalp kirli kanı akciğerlere gönderir. Alveol denilen üzüm salkımına benzeyen yapılara sahip olan akciğerler solunum sisteminin en önemli organlarıdır. Alveoller sayesinde oksijen ve karbondioksit gazı yer değiştirir. Yani kirli kan alveollerde temizlenip damarlar yoluyla kalbe döner.

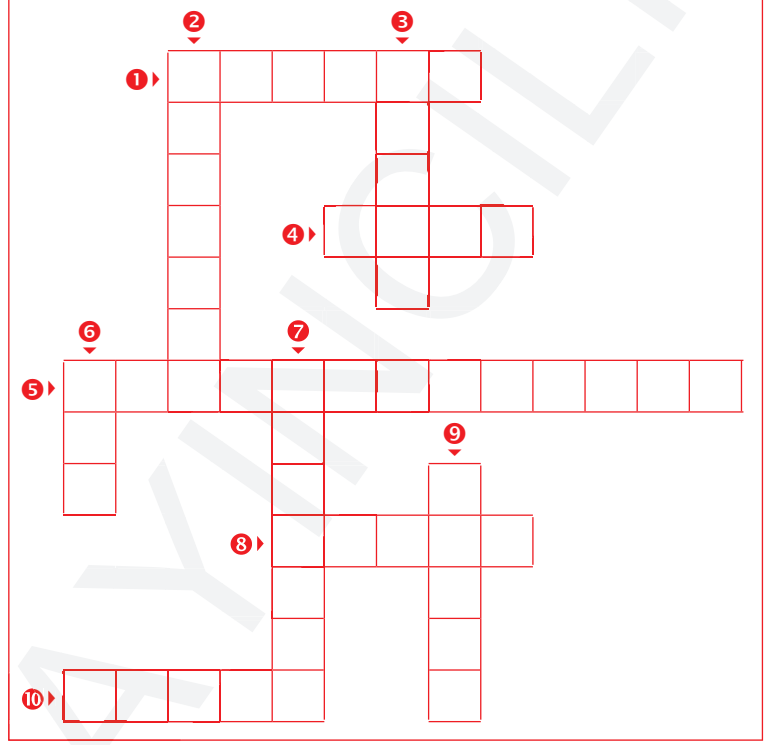
Peki, kalp kanın damarlarda dolaşmasını nasıl sağlıyor dersiniz? Kalbimiz kaslı bir yapıya sahiptir. Bu kaslar kasılıp gevşeyerek kanın damarlarda ilerlemesini sağlar. Biz de hayata bu kaslar sayesinde tutunuruz.

1. Aşağıdaki sözcüklerin çağrıştırdığı üçer sözcük yazalım.



2. Aşağıdaki bulmacayı metindeki sözcüklerden yararlanarak çözelim.

1. Üzüm salkımına benzeyen akciğerlerde bulunan yapı.
2. Solunum organlarımızdan en önemlisi.
3. Dokulardan oluşan özel görevleri olan yapılar.
4. Damarlar aracılığıyla kan pompalayan organ.
5. Bir karbon iki oksijen atomundan oluşan bileşik.
6. Kemikleri saran hareketi sağlayan yapı.
7. Yeryüzünde canlıların yaşaması için gerekli olan gaz.
8. İş görme yetisi, görev, fonksiyon.
9. Kirli sözcüğünün zıttı.
10. Tüm sözcüğünün eş anlamlısı



3. Aşağıdaki soruları metne göre cevaplayalım.

- a. Hangi organımız olmazsa yaşayamayız?

<input type="checkbox"/> Kalp	<input type="checkbox"/> Akciğerler
<input type="checkbox"/> Mide	<input type="checkbox"/> Beyin
- b. Kalp vücudun hangi tarafında bulunur?

<input type="checkbox"/> Sağ üst	<input type="checkbox"/> Sol üst
<input type="checkbox"/> Sağ alt	<input type="checkbox"/> Sol alt
- c. Kalbe gelen kirli kan ve temiz kana ne olmaz?

<input type="checkbox"/> Asla ayrılmazlar
<input type="checkbox"/> Asla birbirlerine yetişemezler.
<input type="checkbox"/> Asla birbirlerine karışmazlar.
<input type="checkbox"/> Asla akmazlar

- ç. Kalp ile hangi organın sıkı bir dostluğu vardır?

<input type="checkbox"/> Mide	<input type="checkbox"/> Karaciğer
<input type="checkbox"/> Akciğer	<input type="checkbox"/> Böbrek
- d. Alveol denilen yapı neye benzetilerek anlatılmıştır?

<input type="checkbox"/> Elma	<input type="checkbox"/> Üzüm
<input type="checkbox"/> Erik	<input type="checkbox"/> Kiraz
- e. Kalp kanın damarlarda gezinmesini hangi özelliğiyle sağlamaktadır?

<input type="checkbox"/> Kaslı olması
<input type="checkbox"/> Küçük olması
<input type="checkbox"/> Güçlü olması
<input type="checkbox"/> Çalışkan olması



Ad-Soyad:

No:

Türkçe Çalışma Kağıdı

Sözcükte Anlam - Eş ve Zıt Anımlı Sözcükler

08

1. Aşağıda verilen cümlelerde altı çizilmiş olarak verilen sözcüklerin eş anlamlılarını kullanarak yeni cümleler yazalım.

⇒ İnşaatın bitmesi için işçiler tüm güçleriyle çalışıyorlardı.

⇒ Yaylalara çıkabilmek için bir rehbere ihtiyacımız varmış.

⇒ Doktor Hanım hiçbir şeyim olmadığını söyledi.

⇒ Herkesin düşüncesine saygılı olmamız gerekiyor.

⇒ Maksadım seni küstürmek değildi.

⇒ Annem yemek yapma işinde çok beceriklidir.

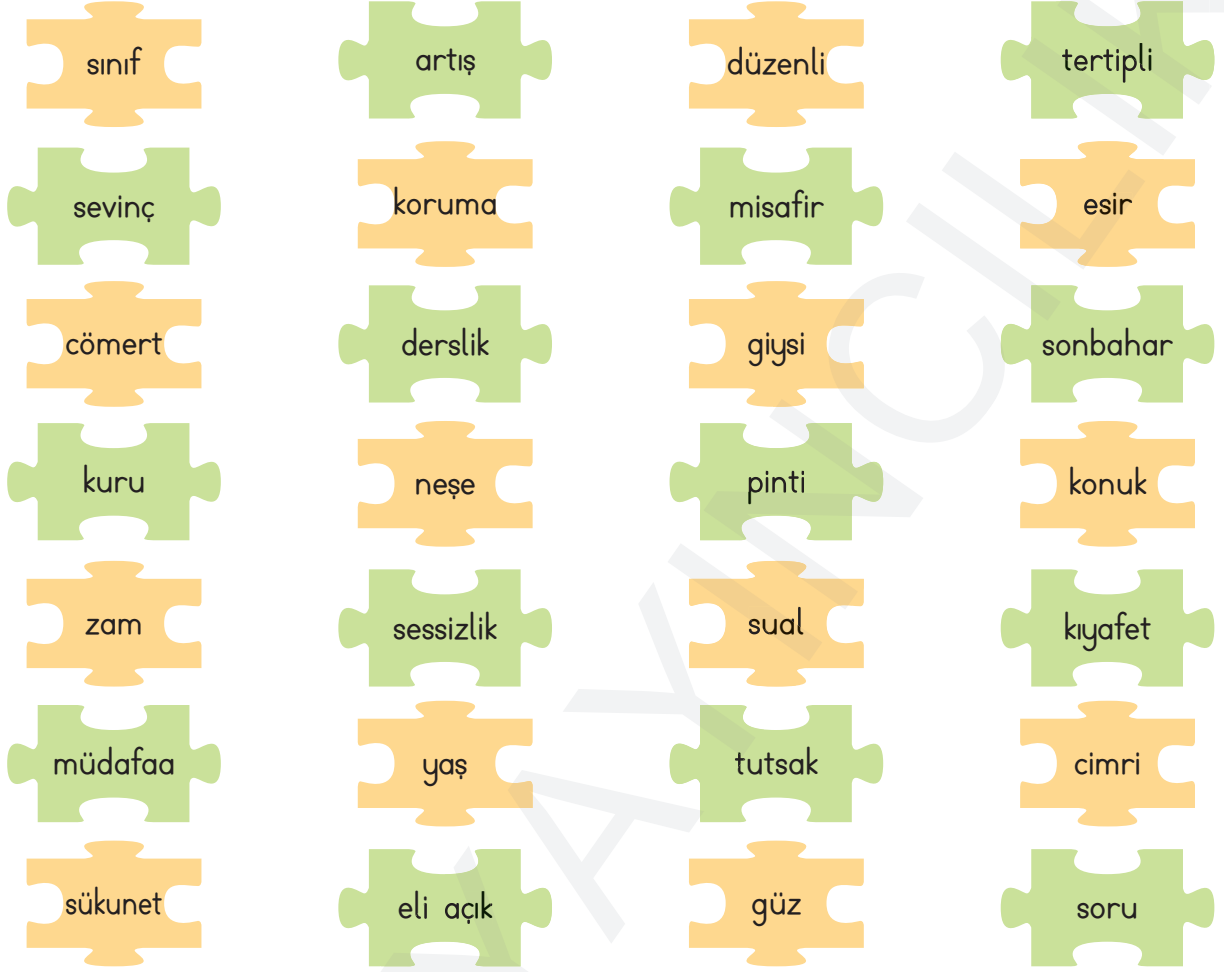
⇒ Bu önerimi ciddiye almanızı bekliyorum.

⇒ "Hakikati konuşmaktan korkmayınız." (Mustafa Kemal Atatürk)

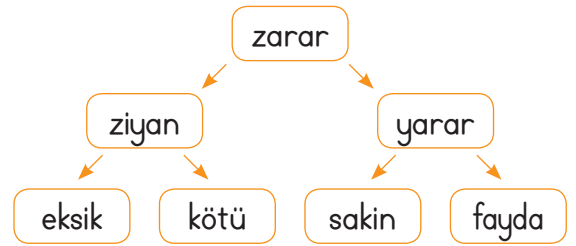
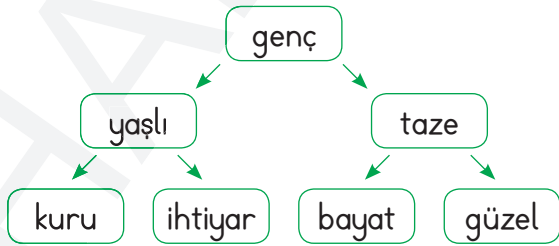
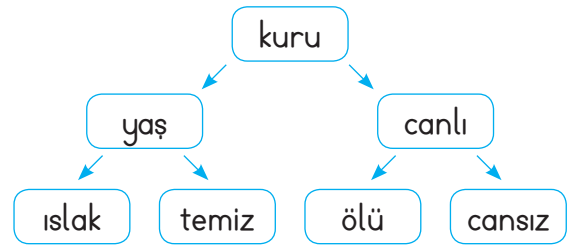
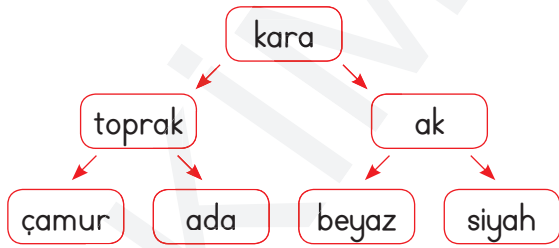
⇒ Araba kullanırken karşıma birdenbire bir geyik çıktı.

⇒ Caner hem çalışkan hem de ağırbaşlı bir öğrencidir.

2. Aşağıdaki kelimelerin eş anlamlılarını bularak yapbozları tamamlayalım.



3. Aşağıdaki kutucuklarda verilen kelimelerin önce zıt anlamlılarını bulalım. Zıt anlam-lısını bulduğumuz kelimenin de eş anlamlısını bularak ulaştığımız sözcüğü boyayalım.



Ad-Soyad:.....

No:.....

Türkçe Çalışma Kağıdı

Sözcükte Anlam - Eş Sesli Sözcükler

09

1. Aşağıda anlamlarından biri verilen eş sesli kelimeleri bulmacada bulalım ve renkli kalemlerle boyayalım. Kelimelerin diğer anlamlarını da noktalı yerlere yazalım.

👉 Yüzde oluşan siyah küçük kısımlar

👉

👉 Bir nesnenin içinin boş olma durumunun zıddı

👉

👉 Üzüm yetiştirilen yer

👉

👉 Dereden daha büyük su akıntısı

👉

👉 10 sayısının 10 katı olan sayı

👉

👉 10 sayısının 100 katı olan sayı

👉

👉 Ev, aile anlamına gelen sözcük

👉

👉 Mevsimlerden en sıcak olan

👉

👉 Eti yenilebilen bir hayvan

👉

👉 Gülme işi

👉

👉 Beyaz renginin tersi













👉

👉 Tatil günlerinden bir tanesi

👉

R	E	G	Y	R	P	Y	Ü	B	A	Ğ	S
G	D	O	L	U	Ğ	U	L	D	Z	T	D
E	P	I	S	O	K	Y	A	Z	Ü	P	F
F	G	Ü	L	A	D	Ğ	F	S	U	L	G
R	E	I	D	V	F	Ü	P	A	Z	A	R
Y	S	K	B	E	N	O	E	J	D	Ş	O
U	Z	L	J	L	Ş	U	E	Ü	K	A	Z
Y	Ü	Z	P	Ö	L	M	Ş	Ğ	F	S	R
P	U	P	S	Ç	O	C	A	K	S	D	E
İ	K	Ğ	A	B	S	N	İ	K	A	R	A
L	B	İ	N	H	A	G	İ	A	K	Y	P
O	L	Ü	Z	N	V	U	Ç	A	Y	Ö	Ğ

2. Aşağıda verilen eş sesli kelimelerin farklı anlamlarıyla birer cümle kuralım.

kaz	 
aç	 
boz	 
ak	 
bağ	 
saç	 

3. Aşağıda verilen kelimelerden eş sesli olanları bularak boyayalım.

geç	eski	aralık	yazık	dev	yat
dere	at	kaba	yol	neşe	bak
ekmek	var	dal	zor	çek	kır
al	düş	mor	gül	dilek	dik

Ad-Soyad:.....

No:.....

Türkçe Çalışma Kağıdı

15

Söz Grubunda Anlam - Deyimler

KISA BİLGİ

Deyimler; en az iki sözcükten oluşur. Genellikle gerçek anlamının dışında kullanılan sözcüklerden oluşur.

⇒ Deyimi oluşturan sözcüklerin yeri değiştirilemez.

⇒ İçine kurt düşmek → doğru Kurt içine düşmek → yanlış

⇒ Deyimi oluşturan sözcüklerin yerine başka sözcük yazılamaz.

⇒ İğne ile kuyu kazmak → doğru Çivi ile kuyu kazmak → yanlış

1. Aşağıda verilen deyimleri anlamları ile eşleştirelim.

1. İğne ipliğe dönmek

Bir işe yaramak, yararlı olmak.

2. İçtikleri su ayrı gitmemek

Geçimini bir başkasından sağlamak

3. Makbule geçmek

Ev ve aile düzenini bozmak.

4. Soluk aldirmamak

Bir kişi ya da varlıkta kusur bulunduğunu kabul etmemek

5. Sirtından geçinmek

Bir işi beklenen koşul gerçekleşinceye kadar bekletmek.

6. Tıpış tıpış gitmek

Birini dinlendirmeden çalıştırmak.

7. Toz kondurmamak

Çok zayıflamış olmak.

8. Yuvasını bozmak

İstemediği halde gitmek zorunda olmak.

9. Bacası tütmez olmak

Çok samimi olmak.

10. Askıya almak

Ailesi, yuvası dağılmak.

2. Aşağıda anlamlarıyla birlikte verilen deyimleri anlamlarına uygun şekilde birer cümlede kullanalım.

➤ Hâlden anlamak (Bir kimsenin durumunu bilip ona göre davranmak)



➤ Saman altından su yürütmek (Yaptığını kimseye belli etmeden ortalığı karıştırmak.)



➤ El üstünde tutulmak (Birilerinden çok sevgi saygı görmek)



➤ Bağına taş basmak (Kimseye sıkıntısını söylemeden her türlü sıkıntıya katlanmak)



➤ Aklını başına almak (Daha önceki davranışları bırakıp akıllıca hareket etmek)



➤ Gözü yememek (Bir işi yapmak gücünü kendinde bulamamak)



➤ Toz olmak (Ortadan kaybolmak)



➤ Yakışık almamak (Uygun düşmemek)



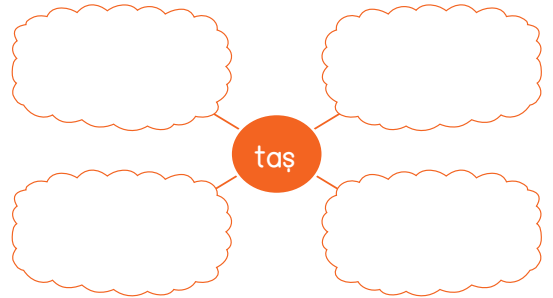
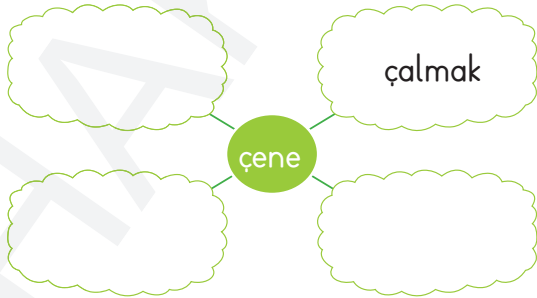
➤ İleri gitmek (Sözde ve davranışta ölçüyü kaçırmak)



➤ İçi açılmak (Gönlü ferahlamak, iç sıkıntısı dağılmak)



3. Aşağıda verilen kelimelerle ilgili örnekteki gibi deyimler yazalım.



Ad-Soyad:.....

No:.....

Türkçe Çalışma Kağıdı

16

Söz Grubunda Anlam - Atasözleri

KISA BİLGİ

Atasözleri; uzun deneme ve gözlemlere dayanılarak söylenmiş ve halka mal olmuş, öğüt verici nitelikte sözlerdir.

- ⇒ Atasözleri kalıplaşmıştır, atasözünü oluşturan sözcüklerin **yeri değiştirilemez.**
- ✔ Söz **gümüşse** sükut **altındır.** ---> doğru
- ✔ Söz **altinsa** sükut **gümüştür.** ---> yanlış
- ⇒ Atasözünü oluşturan sözcüklerin yerine **başka sözcük yazılamaz.**
- ✔ Damlaya damlaya **göl** olur ---> doğru
- ✔ Damlaya damlaya **nehir** olur ---> yanlış

1. Aşağıda verilen atasözlerini konularına göre gruplandırarak, numaralarını ilgili yere yazalım.

1. Ayağını yorganına göre uzat.
2. Ağaç yaşken eğilir.
3. Çok söyleme arsız edersin, aç bırakma hırsız edersin.
4. Para ile imanın kimde olduğu bilinmez.
5. Sağlık varlıktan yeğdir.
6. Eşek bile düştüğü yere bir daha düşmez.
7. Ağacı kurt insanı dert yer.
8. Kalem kılıçtan üstündür.
9. Parayı veren düdüğü çalar.
10. Mum dibine ışık vermez.
11. Çok laf yalansız, çok mal haramsız olmaz.
12. Can boğazdan gelir.

Eğitim

Para

Sağlık

2. Aşağıda karışık olarak verilmiş atasözlerini düzelterek yazalım.

→ kılıç - ödünç - kavgada - verilmez



→ ettiği - kimsenin - kalmaz - yanına



→ değirmen - taşıma - su - ile - dönmez



→ söküğünü - terzi - kendi - dikemez



→ kürkçü - tilkinin - dönüp - yer - dolaşıp - dükkanıdır - geleceği



→ kork - suyun - sessiz - yere - bakanından - akanından - adamın



→ dayanma - ağaca - adama - dayanma - ölür - kurur



3. Aşağıdaki atasözleriyle anlamlarını eşleştirelim.

1. Kötü komşu insanı mal sahibi eder.

Kişi ne kadar çabalasa da iş olması gereken şekilde olur.

2. Ak koyunun kara kuzusu da olur.

İnsan vücudu için gerekli gıdaları almalıdır.

3. Gülü seven dikenine katlanır.

İnsan sevdiğinden gelen sıkıntılara katlanır.

4. Can boğazdan gelir.

Kötü komşu komşusuna bir şey vermediği için kişi ister istemez mal sahibi olur.

5. Mum dibine ışık vermez.

İyi ana babadan da kötü çocuk doğabilir.

6. Körle yatan şaşı kalkar.

Bir kişi, başkalarına yaptığı yardımı kendi yakınlarına yapmaz.

7. İş olacağına varır.

İnsan öfkelendiğinde ancak kendine zarar verebilir.

8. Keskin sirke küpüne zarar.

İnsan kiminle arkadaşlık ederse ona benzer.

Ad-Soyad:

No:

Matematik Çalışma Kağıdı

01

Doğal Sayıların Okunuşu ve Yazılışı - 1

1. Aşağıda verilen 4 basamaklı sayıların okunuşlarını örnekteki gibi yanlarına yazalım.

1 000	⇒	bin
1 010	⇒	
1 004	⇒	
2 019	⇒	
2 100	⇒	
3 510	⇒	
3 880	⇒	
4 023	⇒	
5 126	⇒	
6 041	⇒	

2. Aşağıda okunuşları verilen 4 basamaklı sayıları örnekteki gibi yanlarına yazalım.

Bin dört yüz	⇒	1 400
Bin altı yüz seksen	⇒	
İki bin üç yüz elli	⇒	
İki bin yedi yüz on dört	⇒	
Üç bin yirmi sekiz	⇒	
Dört bin beş yüz kırk	⇒	
Beş bin seksen dokuz	⇒	
Altı bin bir	⇒	
Altı bin dokuz yüz otuz	⇒	
Yedi bin iki yüz on yedi	⇒	

Hakim Yayıncılık

Haydi çözelim:

★ Tahtada yazılı olan 4 sayıdan bazılarının okunuşu yanlıştır. Ayla Öğretmen öğrencilerinden kaç numaralı sayıların okunuşunun yanlış yazıldığını bulmalarını istemiştir. Hangi öğrenci doğru cevabı vermiştir?

1. 1009 ⇒ Bin doksan
2. 13980 ⇒ On üç bin dokuz yüz seksen
3. 305012 ⇒ Otuz beş bin on iki
4. 924002 ⇒ Dokuz yüz yirmi dört bin iki

A)  1 ve 2


B)  1 ve 3

C)  2 ve 3

D)  3 ve 4

3. Abaküslerde gösterilen sayıları ve okunuşlarını örnekteki gibi yazalım.


a.




1 143

bin yüz kırk üç


b.



c.



ç.



d.



4. Aşağıdaki sayıların okunuşlarını bulalım. Sayıların başındaki harfleri, okunuşlarının yanındaki dairelere yazarak şifreyi çözelim.

M 3 265

dört bin
üç yüz

İ 9 090

üç bin altı
yüz yirmi beş

M 4 300

dokuz bin dokuz
yüz doksan dokuz

T 3 526

dört bin üç

T 9 999

üç bin iki yüz
altmış beş

K 4 030

dokuz bin
dokuz yüz

A 3 625

üç bin beş
yüz yirmi altı

A 9 900

dokuz bin
doksan

E 4 003

dört bin
otuz

Ad-Soyad:

No:

Matematik Çalışma Kağıdı

02

Doğal Sayıların Okunuşu ve Yazılışı - 2

1. Aşağıda verilen 5 basamaklı sayıların okunuşlarını altlarına yazalım.

32 000

26 780

14 033

50 436

66 302

3. Aşağıda verilen 6 basamaklı sayıların okunuşlarını altlarına yazalım.

100 000

230 000

344 200

637 320

896 109

2. Aşağıda okunuşları verilen 5 basamaklı sayıları altlarına yazalım.

On altı bin seksen sekiz

Yirmi yedi bin dört yüz on üç

Altmış sekiz bin dokuz yüz otuz iki

Elli dört bin dokuz yüz dört

4. Aşağıda okunuşları verilen 6 basamaklı sayıları altlarına yazalım.

İki yüz on yedi bin kırk sekiz

Üç yüz yedi bin beş yüz doksan üç

Yüz kırk sekiz bin sekiz yüz elli bir

Dokuz yüz elli iki bin yüz otuz dört

5. Aşağıda okunuşları verilen sayıları yanlarına yazalım.

Üç yüz kırk altı bin yedi yüz seksen dört



İki yüz yetmiş sekiz bin dokuz yüz yirmi yedi



Beş yüz bin dokuz yüz altmış sekiz



Dört yüz yetmiş altı bin sekiz yüz on dokuz



Dokuz yüz seksen sekiz bin sekiz yüz doksan dokuz



Seksen yedi bin altı yüz dört



Yetmiş dört bin üç yüz dokuz



Yirmi yedi bin dokuz yüz seksen altı



Beş yüz altmış altı bin dört yüz otuz iki



6. Aşağıdaki sayıları okunuşlarıyla eşleştirelim.

Sekiz yüz seksen bin sekiz yüz altmış

334 340

Dokuz yüz doksan dokuz bin dokuz yüz doksan

30 403

Üç bin dört yüz otuz

808 668

Üç yüz otuz dört bin üç yüz kırk

868 806

Dört yüz üç bin üç yüz kırk

355 505

Otuz bin dört yüz üç

999 990

Sekiz yüz sekiz bin altı yüz altmış sekiz

880 860

Sekiz yüz altmış sekiz bin sekiz yüz altı

403 340

Üç yüz elli beş bin beş yüz beş

3 430

Ad-Soyad:


No:

Fen Bilimleri Çalışma Kağıdı

01

Yer Kabuğunda Neler Var?

1. Aşağıda verilen, yer kabuğunun en üstünde bulunan, kayaların isimlerini altlarına yazalım.



2. Aşağıdaki tanımlarda boş bırakılan yerleri uygun ifadelerle dolduralım.

kayaç

taş

kaya

mineraller

yer kabuğu

lav

magma

toprak

maden

- ➔ Dünya'nın en dış kısmında bulunan, görünen kısmıdur.
- ➔ Yer yüzeyinin altında bulunan erimiş kayaç malzemesine denir.
- ➔ Volkanların çıkardığı sıcak ergimiş, akışkan malzemeye adı verilir.
- ➔ Canlılar dışında yer kabuğunu oluşturan maddelerdir.
- ➔ Bir veya birden fazla mineralin bir araya gelmesiyle oluşan kütleye denir.
- ➔lar büyük ve sert taş kütleleridir.
- ➔ Kayaların parçalanmış, küçülmüş hallerine denir.
- ➔; taşların ve organik maddelerin çeşitli şekillerde ufalanmasıyla meydana gelir.
- ➔ Yer kabuğunun farklı derinliklerinden çıkarılabilen ve ekonomik değeri olan kayalara denir.

3. Aşağıda verilen bilgilerden doğru olanlarına ✓, yanlış olanlarına ✗ işareti koyalım.

Yer kabuğunun kara tabakası kayalardan oluşur.

Kayalar farklı minerallerden oluşur.

Taşlar ekonomik değeri olan kayalardandır.

Taş, kaya ve toprakların farklı renklerde olmalarının sebebi içlerine boya maddesi karışmasıdır.

Altın, gümüş, bakır, bor, civa, demir gibi madenler, maden ocaklarından çıkarıldıktan sonra arındırılarak çeşitli alanlarda kullanılır.

Evimizde kullandığımız eşyalardan birçoğu kayalardan imal edilmiştir.

Kaya parçaları, taş ve toprak kayalardır.

Madenler yerden taş ve toprakla karışık olarak çıkarılır.

4. Aşağıdaki soruları cevaplayalım.

Yer kabuğunu oluşturan maddeler nelerdir?

☞

.....

Toprakların farklı renklerde olmasının sebebi nedir?

☞

.....

Maden ne demektir? Nerelerden çıkarılır?

☞

.....

.....

Ülkemizdeki önemli madenlere 5 tane örnek verebilir misiniz?

☞

.....

.....

Ad-Soyad:


No:

Fen Bilimleri Çalışma Kağıdı

Yer Kabuğunda Neler Var? - Madenler

02

1. Aşağıda verilen madenlerin isimlerini altlarına yazalım. Madenleri, kullandıkları alanların yazıldığı kutucuklarla eşleştirelim.






1. Paslanmaya dayanıklı değerli bir metaldir. Yatırım aracı olarak ve kuyumculuk yanında kaplama ve süsleme, elektrik elektronik, diş hekimliği alanlarında kullanılır.
2. Doğrudan yakıt olarak ya da demir çelik endüstrisinde ve kimya endüstrisinde kullanılan bir madendir.
3. Kolay işlenebilen ve iletkenliği yüksek bir madendir. Elektrik tellerinde, mutfak malzemelerinde, betonun ve bina kirişlerinin güçlendirilmesinde ve boya sanayisinde kullanılır.
4. İnsan yaşamının her alanında kullanılabilecek olan endüstriyel bir madendir. Nükleer alanda, jet, uçak ve roket yakıtı olarak, fotoğrafçılık, boya, tekstil, deterjan, sabun, cam ve kaplama sanayisi gibi bir çok alanda kullanılmaktadır.
5. Doğada nadir bulunur ve değerli bir elementtir. Fotoğraf endüstrisi, elektronik parçalar, bozuk para üretimi, süs eşyası ve takılar, alaşımlar ve dişçilik endüstrisinde kullanılır.
6. Genellikle bina inşaatlarında ve binaların iç dekorasyonunda, mezar taşlarında ve hediyelik eşya imalatında kullanılır.

2. Aşağıda verilen madenlerin isimlerini altlarına yazalım. Madenleri, kullandıkları alanların yazıldığı kutucuklarla eşleştirelim.



1. Ülkemiz bu maden bakımından oldukça zengindir. Düşük fiyatlıdır ve dayanıklılığı yüksektir. Otomotiv, gemi gövdesi yapımı, dayanıklı ev eşyalarının yapımı gibi birçok alanda kullanılır.
2. Normal şartlarda sıvı halde bulunan nadir metallardendir. Tıpta, eczacılıkta, fotoğrafçılıkta, termometre yapımında kullanılır.
3. Ülkemizde en çok çıkarılan madenlerden biridir. Madeni eşya kaplamacılığında ve çelik yapımında kullanılır.

3. Aşağıda verilen eşyalarla, yapımlarında kullanılan madenleri eşleştirelim.



Ad-Soyad:

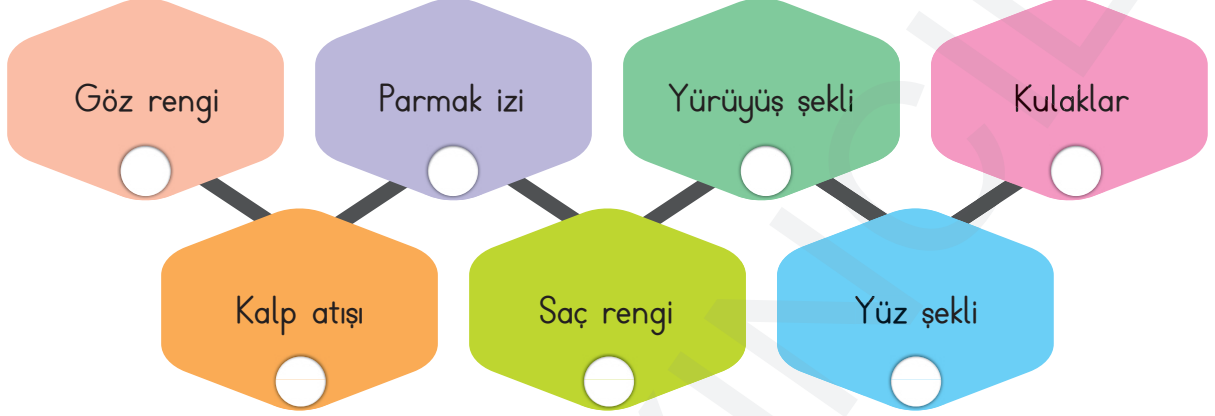
No:

Sosyal Bilgiler Çalışma Kağıdı

01

Herkesin Bir Kimliği Var - 1

1. Aşağıda verilen özelliklerden her bireyde farklı (kişiyeye özel) olanları işaretleyelim.



2. Aşağıdaki ifadelerden doğru olanlarına "D", yanlış olanlarına "Y" yazalım.

Dünya üzerinde yaşayan, daha önce yaşamış olan ve bundan sonra yaşayacak olan bütün insanlar birbirinden farklıdır.

Diğer insanlardan farklılık gösteren özelliklerimiz sadece parmak izimiz ve gözümüzdeki iris tabakasıdır.

Her bireyin resmi kimlik belgesi kendisine özeldir.

Kimlik belgemiz bizim hangi ülkenin vatandaşı olduğumuzu da gösterir.

Aynı ailede yaşayan bireylerin kimlik numaraları da aynıdır.

Kimlik belgesi kişinin kim olduğunu ispatlayan kanıt niteliğinde bir belgedir.

Okula kayıt olma, hastanedeki hizmetlerden faydalanma, yurt dışına seyahat etme gibi resmi ve özel kurumlarla yapacağımız işlemlerde kimlik belgemizi kullanmamız gerekir.

Ehliyet de resmî kimlik belgesi yerine kullanılabilecek belgelerden biridir.

Teknolojinin gelişmesiyle birlikte kimlik belgeleri de değişiklik göstermiştir.

3. Aşağıdaki bilgilerden nüfus cüzdanlarında bulunanları işaretleyelim.

T.C. Kimlik Numarası	İkametgah adresi	Doğum Yeri	Kan grubu
Doğduğu Hastane	Medeni Hâl	Uyruğu	Anne ve Baba adı
Kardeşlerin Adları	Kimliği veren makam	Kimliğin verilme nedeni	Doğum tarihi

4. Aşağıdaki nüfus cüzdanlarını inceleyelim. Nüfus cüzdanlarına göre verilen bilgilerden doğru olanları işaretleyelim.

<p>TÜRKİYE CUMHURİYETİ NÜFUS CÜZDANI</p> <p>Bu Cüzdana 15 yaşından itibaren fotoğraf yapıştırılır.</p> <p>SEKİT</p> <p>№10 №</p> <p>T.C. KİMLİK NO</p> <p>SOYADI</p> <p>ADI</p> <p>BABA ADI</p> <p>ANA ADI</p> <p>DOĞUM YERİ DOĞUM TARİHİ</p>	<table border="1"> <tr> <td>MEDENİ HÂLİ</td> <td>DİNİ</td> <td>KAN GRUBU</td> </tr> <tr> <td>İL</td> <td colspan="2">İLÇE</td> </tr> <tr> <td colspan="3">MAHALLE - KÖY</td> </tr> <tr> <td>CİLT NO.</td> <td>AİLE SIRA NO.</td> <td>SIRA NO.</td> </tr> <tr> <td>VERİLİŞ YERİ</td> <td colspan="2">VERİLİŞ NEDENİ</td> </tr> <tr> <td>KAYIT NO.</td> <td colspan="2">VERİLİŞ TARİHİ</td> </tr> <tr> <td colspan="3">ÖNCEKİ SOYADI</td> </tr> </table>	MEDENİ HÂLİ	DİNİ	KAN GRUBU	İL	İLÇE		MAHALLE - KÖY			CİLT NO.	AİLE SIRA NO.	SIRA NO.	VERİLİŞ YERİ	VERİLİŞ NEDENİ		KAYIT NO.	VERİLİŞ TARİHİ		ÖNCEKİ SOYADI			<p>TÜRKİYE CUMHURİYETİ NÜFUS CÜZDANI</p> <p>SEKİT</p> <p>T.C. KİMLİK NO</p> <p>SOYADI</p> <p>ADI</p> <p>BABA ADI</p> <p>ANA ADI</p> <p>DOĞUM YERİ DOĞUM TARİHİ</p>	<table border="1"> <tr> <td>MEDENİ HÂLİ</td> <td>DİNİ</td> <td>KAN GRUBU</td> </tr> <tr> <td>İL</td> <td colspan="2">İLÇE</td> </tr> <tr> <td colspan="3">MAHALLE - KÖY</td> </tr> <tr> <td>CİLT NO.</td> <td>AİLE SIRA NO.</td> <td>SIRA NO.</td> </tr> <tr> <td>VERİLİŞ YERİ</td> <td colspan="2">VERİLİŞ NEDENİ</td> </tr> <tr> <td>KAYIT NO.</td> <td colspan="2">VERİLİŞ TARİHİ</td> </tr> <tr> <td colspan="3">ÖNCEKİ SOYADI</td> </tr> </table>	MEDENİ HÂLİ	DİNİ	KAN GRUBU	İL	İLÇE		MAHALLE - KÖY			CİLT NO.	AİLE SIRA NO.	SIRA NO.	VERİLİŞ YERİ	VERİLİŞ NEDENİ		KAYIT NO.	VERİLİŞ TARİHİ		ÖNCEKİ SOYADI		
MEDENİ HÂLİ	DİNİ	KAN GRUBU																																											
İL	İLÇE																																												
MAHALLE - KÖY																																													
CİLT NO.	AİLE SIRA NO.	SIRA NO.																																											
VERİLİŞ YERİ	VERİLİŞ NEDENİ																																												
KAYIT NO.	VERİLİŞ TARİHİ																																												
ÖNCEKİ SOYADI																																													
MEDENİ HÂLİ	DİNİ	KAN GRUBU																																											
İL	İLÇE																																												
MAHALLE - KÖY																																													
CİLT NO.	AİLE SIRA NO.	SIRA NO.																																											
VERİLİŞ YERİ	VERİLİŞ NEDENİ																																												
KAYIT NO.	VERİLİŞ TARİHİ																																												
ÖNCEKİ SOYADI																																													

- Kadınların ve erkeklerin nüfus cüzdanları farklı renktedir.
- Nüfus cüzdanlarının arka yüzü okula başladıktan sonra doldurulur.
- Nüfus cüzdanlarında meslek, göz rengi, boy gibi bilgiler yoktur.
- Okula başlayan kişilerin nüfus cüzdanlarına resim eklemeleri gerekir.
- Aynı ailedeki kişilerin doğum yerlerinin de aynı olması gerekir.
- Nüfus cüzdanının verilmiş nedenine ait bilgi, cüzdanın arka yüzünde bulunur.
- Kadın ve erkeklere verilen nüfus cüzdanlarının sadece rengi değil, içerdiği bilgiler de farklıdır.
- Tüm ülkelerin kimlik kartları aynıdır.

Ad-Soyad:

No:

Sosyal Bilgiler Çalışma Kağıdı

02

Herkesin Bir Kimliği Var - 2

1. Aşağıda 2016 yılından itibaren verilmeye başlayan yeni kimlik kartlarının ön ve arka yüzüne ait örnekler vardır. Noktalı yerlere eski nüfus cüzdanlarında yazılı olan ancak yeni kimlik kartlarında yazılmayan bilgilerden bazılarını yazalım.



1.
2.
3.
4.

5.
6.
7.
8.

2. Aşağıdaki cümlelerde boş bırakılan yerleri verilen ifadelerle dolduralım.

2016

imza

kez

Nüfus

İngilizce

güvenli

- ➡ Ülkemizde nüfus cüzdanları ilk "Devlet-i Aliyye-i Osmaniyye Tezkiresi" adıyla düzenlenmiştir.
- ➡ Teknolojinin gelişimiyle birlikte, teknolojiyle uyumlu ve daha kimlik kartları üretilmiştir.
- ➡ Ülkemizde çipli kimlik kartlarının dağıtımına yılında başlanmıştır.
- ➡ Yeni kimlik kartları Müdürlüklerinden alınabilmektedir.
- ➡ Kimlik kartlarındaki bilgiler Türkçe ve olarak düzenlenmiştir.
- ➡ Yeni kimlik kartlarında, nüfus cüzdanlarından farklı olarak cinsiyet, geçerlilik tarihi, bölümü de yer almaktadır.

