

**4.SINIF ÇALIŞMA YAPRAKLARIMIZ**

*Yeni Nesil Beceri Temelli*

*Derse Yardımcı*

*Kazanım Odaklı*

**34**

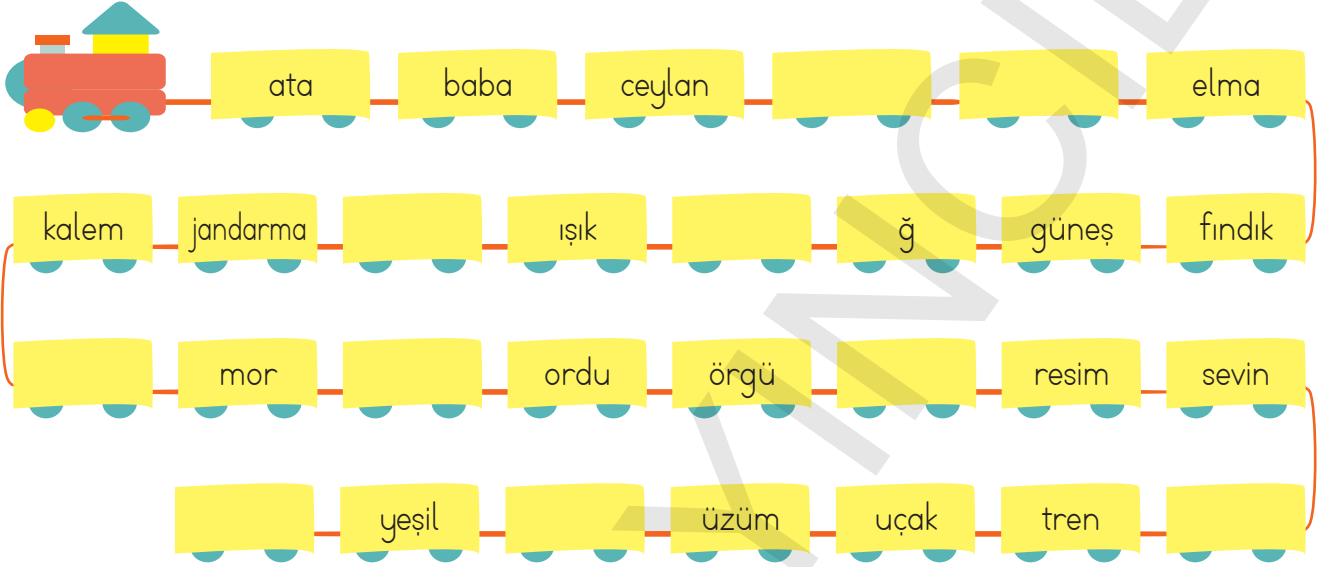
**HAFTA**

*Bol bol test  
Bol bol etkinlik*



Adı-Soyadı:..... Numarası:..... Sınıfı:.....

1. 29 vagonlu trenimizin bazı vagonlarına isim verilmemiş. İsim verilmemiş vagonları tamamlayalım.



2. Aşağıdaki kelimeleri sözlük sırasına göre sıralayalım.



3. Aşağıda verilen sözcüklerde bulunan ünlü ve ünsüz harfleri ilgili bölümlere yazalım.

	Ünlü harfler	Ünsüz Harfler
⇒ Şehitlik		
⇒ Şahit		
⇒ Pamukkale		
⇒ Pespembe		
⇒ Asker		
⇒ Padişah		
⇒ Öğrenci		
⇒ Sevimli		
⇒ Yalnızlık		
⇒ Tarihimiz		
⇒ Bukalemun		

	Ünlü harfler	Ünsüz Harfler
⇒ Bulmaca		
⇒ Şehirli		
⇒ Kitaplar		
⇒ Beraber		
⇒ Seyirci		
⇒ Alfabetik		
⇒ Çekidüzen		
⇒ Kötülük		
⇒ Bilet		
⇒ Şekilci		
⇒ Avustralya		

4. Aşağıda verilen kelimeleri ünlü harflerle tamamlayıp anlamlı kelimeler oluşturalım.

k...l...m	...d...m	y...z...k	s...m...n	t...r...k	k...pl...mb...ğ...
t...bl...	t...k...	m...s	t...l...f...n	g...zl...k	ş...ms...y...
s...zc...k	d...ş...m...n	s...lg...	p...ğ...ç...	k...y...	...ğ...r...nc...
k...pl...n	s...n...k	k...y...n	k...rm...z...	b...rd...	l...c...v...rt

5. Aşağıdaki cümlelerde boş bırakılan yerleri verilen ifadelerle dolduralım.

2016

imza

kez

Nüfus

İngilizce

güvenli

- Ülkemizde nüfus cüzdanları ilk ..... "Devlet-i Aliyye-i Osmaniyye Tezkiresi" adıyla düzenlenmiştir.
- Teknolojinin gelişimiyle birlikte, teknolojiyle uyumlu ve daha ..... kimlik kartları üretilmiştir.
- Ülkemizde çipli kimlik kartlarının dağıtımına ..... yılında başlanmıştır.
- Yeni kimlik kartları ..... Müdürlüklerinden alınabilmektedir.
- Kimlik kartlarındaki bilgiler Türkçe ve ..... olarak düzenlenmiştir.
- Yeni kimlik kartlarında, nüfus cüzdanlarından farklı olarak cinsiyet, geçerlilik tarihi, ..... bölümü de yer almaktadır.

6. Yeni kimlik kartları ile ilgili aşağıda verilen bilgilerden doğru olanlarına "✓" işareti, yanlış olanlarına "x" işareti koyalım.

Yeni kimlik kartlarında T.C. kimlik numarası bulunmamaktadır.

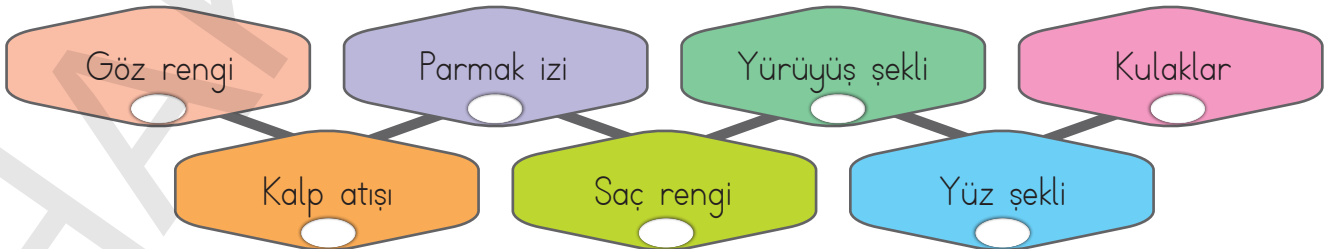
Yeni kimlik kartları kadınlar ve erkekler için aynı renktedir.

Alınan kimlik kartlarının 5 yılda bir değiştirilmesi gereklidir.


Kimlik kartlarında fotoğraf olması zorunlu değildir.

Kimlik kartlarının arkasındaki çipte nüfus kayıt bilgileri depolanmaktadır.

7. Aşağıda verilen özelliklerden her bireyde farklı (kişiyeye özel) olanları işaretleyelim.



8. Aşağıda verilen, yer kabuğunun en üstünde bulunan, kayaların isimlerini altlarına yazalım.



9. Aşağıda verilen bilgilerden doğru olanlarına ✓, yanlış olanlarına ✗ işareti koyalım.

Yer kabuğunun kara tabakası kayalardan oluşur.

Kayalar farklı minerallerden oluşur.

Taşlar ekonomik değeri olan kayalardandır.

Taş, kaya ve toprakların farklı renklerde olmalarının sebebi içlerine boya maddesi karışmasıdır.

Altın, gümüş, bakır, bor, civa, demir gibi madenler, maden ocaklarından çıkarıldıktan sonra arındırılarak çeşitli alanlarda kullanılır.

Evimizde kullandığımız eşyalardan birçoğu kayalardan imal edilmiştir.

Kaya parçaları, taş ve toprak kayalardır.

Madenler yerden taş ve toprakla karışık olarak çıkarılır.

Adı-Soyadı:..... Numarası:..... Sınıfı:.....

1. Aşağıdaki öğrencilerin söyledikleri sayıları okunuşlarıyla eşleştirelim. Bilmecenin cevabını bulalım.



1745



7054



3098



58001



32677



910628



109822



378261

Dokuz yüz on bin altı yüz yirmi sekiz

Otuz iki bin altı yüz yetmiş yedi

Bin yedi yüz kırk beş

Yüz dokuz bin sekiz yüz yirmi iki

Üç bin doksan sekiz

Üç yüz yetmiş sekiz bin iki yüz altmış bir



Elli sekiz bin bir

Yedi bin elli dört

**Bilmece:** Küçük mezar, dünyayı gezer.

**Cevap:**

2. Abaküslerdeki sayıları ve sayıların okunuşlarını noktalı yerlere yazalım.



3. Kutulardaki eksik sayıları yüzler ritmik sayma yaparak tamamlayalım.

6100	→	6200	→		→		→		→	
1039	→	1139	→		→		→		→	
3742	→		→	3942	→		→		→	
8900	→		→	9100	→		→		→	
	→	7805	→		→		→		→	
	→		→		→	2060	→	2160	→	
	→	5000	→		→		→		→	

4. Kutulardaki eksik sayıları biner ritmik sayma yaparak tamamlayalım.

2500	→	3500	→		→		→		→	
1097	→		→		→		→		→	
3401	→		→	5401	→		→		→	
	→		→		→	7290	→		→	
	→		→	2930	→		→		→	

5. Tahtada yazılı olan 4 sayıdan bazılarının okunuşu yanlıştır. Ayla Öğretmen öğrencilerinden kaç numaralı sayıların okunuşunun yanlış yazıldığını bulmalarını istemiştir.

1.	1009	⇒	Bin doksan
2.	13980	⇒	On üç bin dokuz yüz seksen
3.	305012	⇒	Otuz beş bin on iki
4.	924002	⇒	Dokuz yüz yirmi dört bin iki

Hangi öğrenci doğru cevabı vermiştir?



6. Ayla Öğretmen Yavuz'dan tahtada yazılı olan basamak değerlerine uygun sayılar yazmasını istemiştir. Yavuz'un yazdığı sayılardan 4 tanesi doğrudur.

Yüz binler basamağı 4, binler basamağı 0, onlar basamağı 7 olan sayılar yazalım.

1	470 576	5	740 472
2	704 213	6	40 875
3	420 179	7	440 078
4	407 974	8	480 671

Yavuz'un doğru yazdığı sayılar kaç numaralı kutularda verilmiştir?

A) 1, 2, 3 ve 4

B) 2, 4, 5 ve 6

C) 3, 4, 7 ve 8

D) 1, 3, 7 ve 8



7.



1



2



3



4



5



Esra yukarıdaki sözcükleri alfabetik olarak sıralamış ve üç tanesini cümle içinde kullanmıştır. Esra sıraladığı sözcüklerden 2. 4. ve 5. sırada gelenlerini cümle içinde kullanmıştır.

Buna göre aşağıdakilerden hangisi bu cümlelerden biri değildir?

- A) Kara bulutlar bir anda dağılmış, her yer ıslıl ıslıl olmuştu.
- B) Nezle olduğu için burnu akıp duruyordu.
- C) Bostandan topladığı patlıcanlarla güzel bir yemek hazırladı.
- D) Yerdeki buruşuk kağıt parçalarını alıp çöpe attı.

8.



Kayaç



Kaya



Taş



Toprak

Yer kabuğunun en üst katmanını oluşturan toprak, kaya ve taş parçalarına kayaç denir. Kayaçlar sıcaklık farkı, yağmur ve rüzgâr gibi etkenlerle aşınıp parçalanır ve kayalar oluşur. Kayaların ufalanmasıyla taşlar, taşların ufalanmasıyla toprak oluşur. Kayaçlar farklı minerallerden oluşur. Bu durum taş, kaya ve toprakların farklı renklerde olmasının nedenidir.

Yukarıda kayaçlarla ilgili verilen bilgiye göre aşağıdaki bilgilerden hangisi yanlıştır?

- A) Kayaçlar yer kabuğunun en üst katmanında bulunur.
- B) Kayalar kayaçların aşınıp parçalanmasıyla oluşur.
- C) Taş, kaya ve toprakların farklı renklerde olmasının nedeni güneş ışığıdır.
- D) Kayaçlar farklı minerallerden oluşur.

- TÜRKÇE** : Harf Bilgisi  
**SOSYAL BİLGİLER** : Herkesin Bir Kimliği Var  
**MATEMATİK** : 4, 5 ve 6 Basamaklı Sayılar  
**FEN BİLİMLERİ** : Yer Kabuğunun Yapısı

Ad:.....  
 Soyad:.....  
 Numara:..... Sınıf:.....

1



Yukarıdaki görsellerde verilen hayvanların hangisinin ismi sözlükte en sonda yer alır?

- A) Kaplan  
 B) Aslan  
 C) Papağan  
 D) Maymun

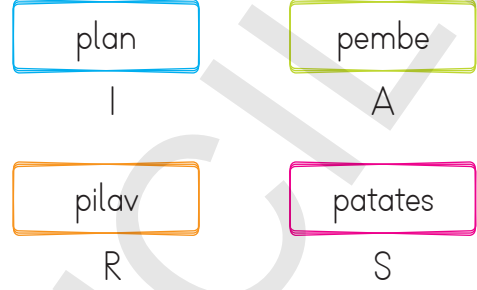
2

- Alfabemizde "m" harfi "l"den önce gelir.  
 Sözlük sıralamasında "pazar" sözcüğü "pembe" sözcüğünden önce gelir.  
 Sözlükte sözcük ararken ilk harfe göre değil son harfe göre sıralama yapılır

Yukarıdaki cümlelerdeki ifadeler doğru ve yanlış olarak işaretlenirse aşağıdaki seçeneklerin hangisi doğru olur?

- A) Y - D - D  
 B) Y - Y - D  
 C) Y - D - Y  
 D) Y - Y - Y


3



Yukarıdaki sözcükleri alfabetik olarak sıralarsak aşağıdaki sözcüklerden hangisini elde ederiz?

- A) ASIR  
 B) SARI  
 C) ASRI  
 D) SIRA

4



Yukarıdaki resmi verilen sebzelerden hangisinin isminde Türkçe sözcüklerin başında bulunamayacak bir harf vardır?

- A) ● B) ■ C) ★ D) ●

5

- 1 pembe 2 sarı
- 3 lacivert 4 turkuaz

Yukarıdaki renkler pembeden başlayarak alfabetik sıraya göre sıralanırken biri bu sıralamayı bozmuştur.

Sıralamayı bozan renk aşağıdakilerden hangisidir?

- A) Sarı B) Lacivert  
C) Turkuaz C) Pembe

6 Aşağıda verilen özelliklerden hangisi kişiye özeldir?

- A) Göz rengi B) Boy  
C) Parmak izi D) Kilo

7

- ★ Okula kayıt olmak için  
● Pasaport alabilmek için  
▲ Otobüse binmek için  
■ Hastanelerde sağlık hizmeti alabilmek için  
◆ Alışveriş yapmak için

Her insanın kendine ait bir resmi kimlik belgesi vardır. Yukarıdakilerden hangilerini yapmak için bu belgeye ihtiyacımız vardır?

- A) ★ - ● - ■  
B) ● - ▲ - ◆  
C) ★ - ▲ - ■  
D) ▲ - ◆

8

Aşağıdaki bilgilerden hangisi bir kimlik kartının kişiye ait olduğunu ispatlayan bilgilerden değildir?

- A) T.C. kimlik numarası  
B) İmza  
C) Uyrak bilgisi  
D) Kimliğe akıllı kart özelliği kazandıran elektronik çip

9

Yeni kimlik kartlarının arkasında bulunan çipli bölümde aşağıdaki bilgilerden hangisi depolanmamaktadır?

- A) Kişinin boyu  
B) Kişinin parmak izi  
C) Fotoğraf bilgisi  
D) Nüfus kayıt bilgileri

10

Aşağıda verilen bilgilerden hangisi yanlıştır?

- A) Her vatandaşın T.C. kimlik numarası birbirinden farklıdır.  
B) Okul kayıt işlemlerinde nüfus cüzdanı kullanmamız gerekir.  
C) Nüfus cüzdanları kadınlar ve erkekler için aynı renktedir.  
D) Nüfus cüzdanımızda anne ve babamızın ismi de bulunur.

11

6 3 7 9 4 0

Yukarıdaki sayılar kullanılarak yazılabilecek altı basamaklı en büyük doğal sayının okunuşu aşağıdakilerden hangisidir?

- A) Üç yüz kırk altı bin yedi yüz doksan dört
- B) Dokuz yüz dört bin altı yüz yetmiş üç
- C) Dokuz yüz yetmiş altı bin dört yüz otuz
- D) Yedi yüz dört bin dokuz yüz otuz altı

12

1 9 0 4 8

Ayşe kutucuklardaki tüm sayıları kullanarak aşağıdaki özellikleri sağlayan altı basamaklı en küçük çift sayıyı yazacaktır. Bu sayının onlar ve on binler basamağındaki sayı sıfır, yüz binler basamağındaki sayı da sekiz olacaktır.

Buna göre Ayşe'nin yazacağı sayının okunuşu aşağıdakilerden hangisidir?

- A) Seksen dokuz bin yüz dört
- B) Sekiz yüz dokuz bin yüz dört
- C) Sekiz yüz bir bin dokuz yüz dört
- D) Seksen bin yüz doksan dört

13

Binler basamağı	= 7
Yüzler basamağı	= 3
Birler basamağı	= 8
Onlar basamağı	= 0

Yukarıda basamak adları verilen sayıdan başlayarak geriye doğru yüzer sayarken, 7. sırada söylediğimiz sayı kaçtır?

- A) 6708
- B) 7830
- C) 6380
- D) 7380

14

32506

Yukarıdaki sayının okunuşu aşağıdakilerden hangisidir?

- A) Otuz beş bin iki yüz altmış
- B) Otuz iki bin altı yüz beş
- C) Otuz iki bin beş yüz altmış
- D) Otuz iki bin beş yüz altı

15

573690

Yukarıdaki sayı ile ilgili aşağıdakilerden hangisi yanlıştır?

- A) Onlar basamağındaki sayı dokuzdur.
- B) Yüzler basamağındaki rakam binler basamağındaki rakamdan 3 eksiktir.
- C) 7 sayısı on binler basamağındadır.
- D) Binler basamağındaki rakam ile onlar basamağındaki rakamın toplamı 12'dir.

16

Kayaçlarla ilgili aşağıda verilen bilgilerden hangisi doğrudur?

- A) Kayaçlar, Dünya'nın magma tabakasında bulunur.
- B) Kayaçlar zamanla parçalanıp toprağı oluşturur.
- C) Kayaçların hepsi aynı minerallerden oluşur.
- D) Kayaçların hepsi ekonomik değere sahiptir.

17

⇒ Dünya'nın dış kısmında bulunan ve görünen kısımdır.

⇒ Dünya'daki tüm canlılar bu katmanda yaşar.

Yukarıda bahsedilen katman aşağıdakilerden hangisidir?

- A) Yer Kabuğı
- B) Manto
- C) Dış çekirdek
- D) İç çekirdek

18

Yer kabuğunun en üst katmanını oluşturan toprak, kaya ve taş parçalarına ne ad verilir?

- A) Fosil
- B) Tortul
- C) Magma
- D) Kayaç

19

Çevremizdeki taş, kaya ve toprakların farklı renklerde olmasının nedeni aşağıdakilerden hangisidir?

- A) Kayaların rüzgarın etkisiyle ufalanması
- B) İnsanların doğal çevreye zarar vermesi
- C) Kayaçların içinde farklı mineraller bulunması
- D) Kayaçların üzerinde canlıların yaşaması