

2. SINIF ÇALIŞMA YAPRAKLARIMIZ

Yeni Nesil Beceri Temelli

Derse Yardımcı
Kazanım Odaklı

34
HAFTA
Bol bol test
Bol bol etkinlik



TÜRKÇE: Sözcük Bilgisi, Sözcüklerin Doğru Yazılışı, Zıt Anımlı Sözcükler**MATEMATİK:** Deste, Düzine, Basamak Değeri**HAYAT BİLGİSİ:** Okula Hazırlanıyoruz, Görüşlerim Değerlidir**TÜRKÇE** Sözcük Bilgisi, Sözcüklerin Doğru Yazılışı

- 1 Aşağıdaki cümlelerin kaç sözcükten oluştuğunu örnekteki gibi yanlarına yazalım. Anlamı olmayan sözcükleri yuvarlak içine alalım.

Cümle	Sözcük Sayısı
Ayşe ile Ömer sokak hayvanları için bahçeye yiyecek koydu.	9
Yemekten sonra ellerini yıkadı ve dişlerini fırçaladı.	
Hüsnü kardeşine göre daha düzenli bir çocuktur.	
Furkan da babası gibi iyi bir doktor olmak istiyordu.	
Sabaha kadar uğraştı ama projesini bitiremedi.	
Aldığı yeni oyuncaya rağmen Mehmet mutlu olmadı.	
Dışarıda hava çok soğuktan üstelik kar da yağıyordu.	

- 2 Aşağıdaki sözcüklerden yanlış yazılmış olanları bulalım ve doğrularını altlarına yazalım.

tespi

herkez

aferin

pattes

tırış

sovan

kiprik

eşofman

perşembe

eşki

kirema

matbaa

3 Aşağıda görsellerde gösterilen sözcüklerin zıt anlamlılarını yazalım.



ağlamak



mutlu



ıslak




sıcak



karanlık



sormak



sert



Hakim Yayıncılık

4 Aşağıdaki şekilleri bir desteye tamamlayalım.



5 Aşağıdaki şekilleri bir düziyeye tamamlayalım.



6 Tabloyu sayıların basamak değerlerine göre dolduralım.

Sayı	Onlar b.	Birler b.
82	80	2
15		
77		
53		
81		

7 Aşağıdaki sayıları, verilen değerlerle eşleştirelim.

73

Onlar basamağı: 5
Birler basamağı: 2

18

Onlar basamağı: 8
Birler basamağı: 1

52

Birler basamağı: 3
Onlar basamağı: 2

39

Onlar basamağı: 1
Birler basamağı: 8

81

Birler basamağı: 8
Onlar basamağı: 9

67

Birler basamağı: 3
Onlar basamağı: 7

25

Onlar basamağı: 6
Birler basamağı: 7

46

Onlar basamağı: 2
Birler basamağı: 5

23

Birler basamağı: 9
Onlar basamağı: 3

98

Onlar basamağı: 4
Birler basamağı: 6

8 Aşağıdaki sayılarda renkli yazılmış olan rakamların basamak adlarını ve değerlerini yazalım.

$14 = \dots = \dots$

$56 = \dots = \dots$

$29 = \dots = \dots$

$83 = \dots = \dots$

$29 = \dots = \dots$

$67 = \dots = \dots$

9 Birler basamağı = 8

Onlar basamağı = 6

Aşağıdakilerden hangisi yukarıda sayı değerleri verilen sayının basamak değerlerinden değildir?

A) 8 B) 80 C) 60

10 Sude'nin 3 düzine, Kerem'in 2 düzine şekeri vardır. Nermin'in şekerlerinin sayısı diğer ikisinin şekerlerinin onlar basamağındaki sayıların toplamı kadar olduğuna göre, Nermin'in kaç şekeri vardır?

A) 30 B) 40 C) 50

11 Aşağıda Talha'nın okulda salı günü işleyeceği dersler verilmiştir. Buna göre Talha'nın çantasına koyması gereken araç gereçleri yuvarlak içine alalım.

	1. ders	2. ders	3. ders	4. ders	5. ders	6. ders
Salı	Türkçe	Türkçe	Matematik	Matematik	Görsel San.	Fiziksel Etkinlik



12 2/D sınıfı öğrencileri sınıflarında uymaları gereken kuralları belirleyip kağıtlara yazdılar. Biz de boş olan kağıtlara kendi sınıfımızda uymamız gereken kuralları yazalım.



TÜRKÇE : Sözlük Sırası, Hece Bilgisi**MATEMATİK** : İleriye ve Geriye Ritmik Sayma**HAYAT BİLGİSİ**: Okula Hazırlanıyoruz, Görüşlerim Değerlidir

Ad:.....

Soyad:.....

Numara:..... Sınıf:.....

1



Görseli verilen aracın isminde aşağıdaki harflerden hangisi yoktur?

- A) n B) r C) i

2 Aşağıdaki sözcüklerden hangisinin hece sayısı diğerlerinden farklıdır?

- A) bilgisayar
B) öğretmen
C) çalışkan

3 Aşağıdaki sözcüklerden hangisinde dört harfli bir hece vardır?

- A) hoşgörü
B) cömert
C) başkan

4

çömlekçi

kurbağa

yoğurt

baklavacı

imkansız

Yukarıdaki şekilde üç heceli olan sözcükler boyandığında boyanmamış kaç kutu kalır?

- A) 1 B) 2 C) 3

5

Aşağıdaki hayvanlardan hangisinin ismi sözlükte diğerlerinden sonra gelir?

A)



B)



C)



6



Yukarıdaki sözcükler sözlük sırasına göre sıralandığında yıldızların renklerine göre dizilişi nasıl olur?

- A)
- B)
- C)

7

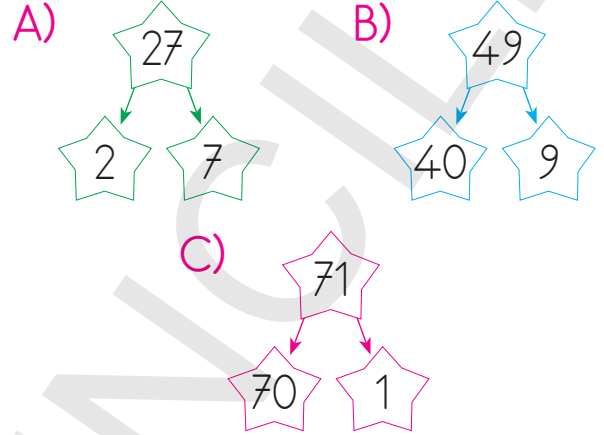
1.
2. çalışan
3. dernek
4.
5. hikâye

Yukarıdaki sözcükler alfabetik olarak sıralandığında noktalı yere hangi sözcük yazılamaz?

- A) balık
- B) çember
- C) garaj

8

Aşağıdaki sayılardan hangisinin basamak değerleri yanlış yazılmıştır?



9

6 birlik ve 9 onluktan oluşan sayının onlar basamağındaki sayının basamak değeri kaçtır?

- A) 60 B) 9 C) 90

10

Onlar Basamağı	Birler Basamağı
30	2

Tabloda basamak değerleri verilen sayı aşağıdakilerden hangisidir?


- A) 32 B) 33 C) 23

11

47 sayısının birler basamağındaki sayı "2" artırılırsa yeni sayı aşağıdakilerden hangisi olur?

- A) 27 B) 49 C) 67

12



Uzay aracı yıldızları ikişer ikişer sayarak dünyaya gidecektir. Ancak yıldızlardaki bazı sayılar eksiktir. Aşağıdakilerden hangisi bu eksik sayılardan biri değildir?

A) 26

B) 34

C) 38

13



33, _____, 12

Ayşe, 33'ten başlayıp 12'ye kadar (12 hariç) üçer ritmik sayma yaparken kaç sayı söylemiştir?

A) 4

B) 5

C) 7

14

12'den başlayıp ileriye dörder ritmik sayma yaparken aşağıdaki sayılardan hangisini söylemeyiz?

A) 20

B) 32

C) 38

15

90'dan geriye (90 hariç) beşer ritmik sayma yaparken 9. saymada söylediğimiz sayı aşağıdakilerden hangisidir?

A) 45

B) 50

C) 55

16

Aşağıdaki öğrencilerden hangisi dörder ritmik sayma yaparken hata yapmıştır?

A)



20-24-26-30-34

B)



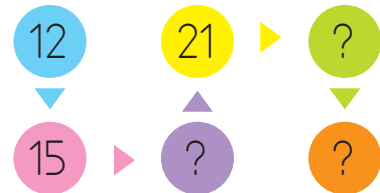
4 - 8 - 12 - 16 - 20

C)



32 - 28 - 24 - 20 - 16

17



Yukarıdaki ritmik saymada "?" olan yerlere hangi sayı yazılamaz?

A) 16

B) 24

C) 27

18

Salı
Hayat Bil.
Mat.
Mat.
Türkçe
Türkçe
Müzik

Akın'ın salı günü hangi araç gereci çantasına koyması gerekmez?

- A) Flüt
B) Cetvel
C) Fırça

19

2. sınıf öğrencisi olan Ayşe, çarşamba günkü ders programına bakarak çantasına sadece ders kitaplarını ve boyalarını koymuştur. Buna göre, aşağıdakilerden hangisi Ayşe'nin cuma günkü derslerinden biri değildir?

- A) Matematik
B) Müzik
C) Görsel Sanatlar

20

Aşağıdakilerden hangisi sınıfta uymamız gereken bir kural olamaz?

- A) Derse zamanında girip çıkmak
B) Ders sırasında sürekli ayakta beklemek
C) Sınıf eşyalarına zarar vermemek

21

Aşağıdakilerden hangisi doğru bir davranıştır?

A)



B)



C)



22

Oy birliğiyle belirlenen sınıf kurallarıyla ilgili aşağıdaki bilgilerden hangisi doğrudur?

- A) Kurallara sadece o kurallara oy verenler uymalıdır.
B) Sınıf başkanları kurallara uymak zorunda değildir.
C) Kurallara uymak bütün öğrencilerin görevidir.