

3.SINIF ÇALIŞMA YAPRAKLARIMIZ

Yeni Nesil Beceri Temelli

Derse Yardımcı

Kazanım Odaklı

34

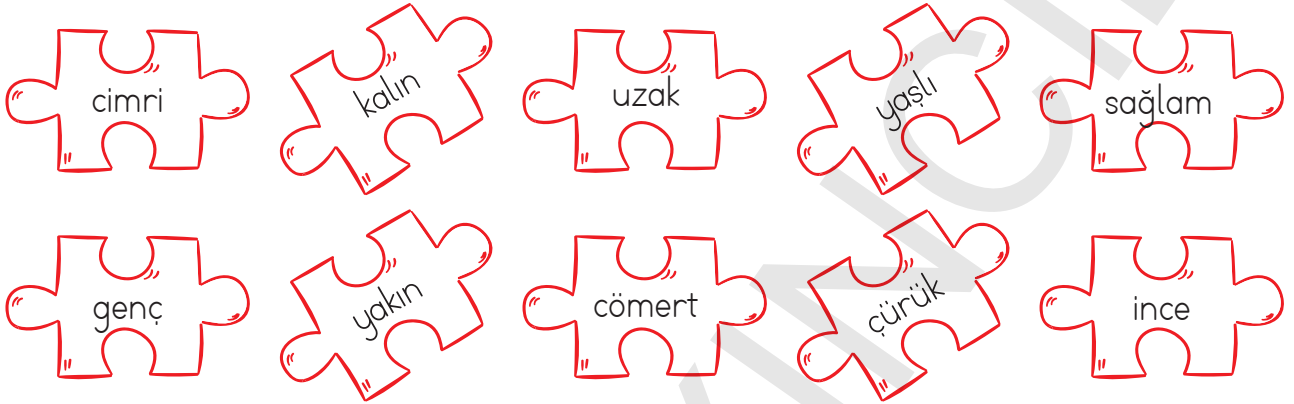
HAFTA

*Bol bol test
Bol bol etkinlik*

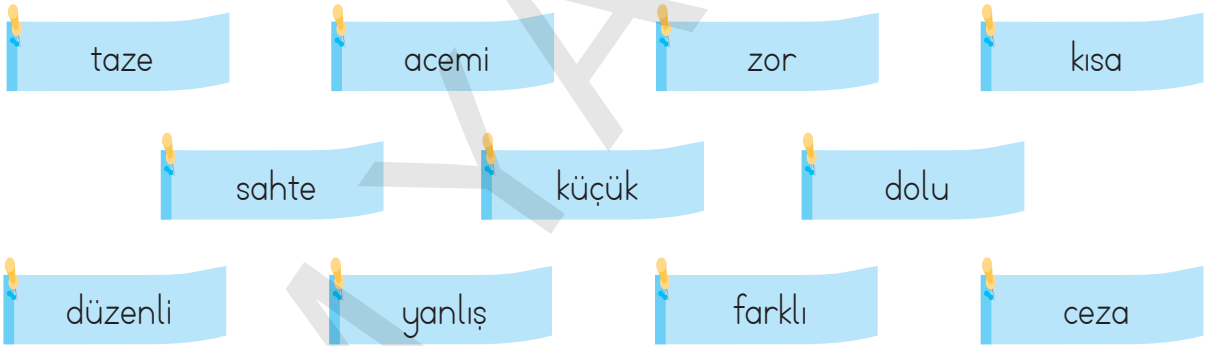


Adı-Soyadı:..... Numarası:..... Sınıfı:.....

1. Yapboz parçalarının üzerinde yazılı olan sözcüklerden zıt anlamlı olanları birbiriyle eşleştirelim.



2. Aşağıdaki sözcüklerin zıt anlamlılarını bulalım. Bulduğumuz sözcüklerden beş tanesiyle cümle kuralım.



.....



.....



.....



.....



.....

3. Aşağıdaki cümlelerde geçen altı çizili kelimelerin zıt anlamlılarını boş kutulara yazalım.

☆ Yeni aldığı spor arabası çok hızlı gidebiliyormuş. _____

☆ Misafirleri için çok zengin bir sofraya hazırladı. _____

☆ Çirkin ördek yavrusu ailesinden uzakta bir gölde yaşıyordu. _____

☆ Evimizin sol tarafına yüksek bir bina yapacaklarmış. _____

☆ Akşam saatlerinde hava iyice soğuk oluyor. _____

☆ Yemekten sonra ellerimi yıkayıp, dişlerimi fırçaladım. _____

4. Atasözlerinde bulunan zıt anlamlı sözcüklerin altlarını çizelim.

» Alçak yerde yatma sel alır, yüksek yerde yatma yel alır.

» Baca eğri de olsa dumanı doğru çıkar.

» Kötülük her kişinin kârı, iyilik er kişinin kârı.

» Doluya koydum almadı, boşa koydum dolmadı.

» Boşa koysan dolmaz, doluya koysan almaz.

» Gençliğin kıymeti ihtiyarlıkta bilinir.

» Eski dost düşman olmaz, yenisinden vefa gelmez.

5. Mavi kutulardaki sözcüklerin zıt anlamlılarını, yeşil kutudaki sözcüklerin de eş anlamlılarını bulup yazalım.

ince	→	
hür	→	
adale	→	
usta	→	
bellek	→	

cesur	→	
etki	→	
sağlam	→	
hısım	→	
geçmiş	→	

kabiliyet	→	
kuru	→	
lisan	→	
olanak	→	
kalabalık	→	

6. Sosyal, eğitsel ve kültürel açıdan yapılan birçok etkinlik okullarda kulüpler çatısı altında yapılmaktadır. Aşağıdakilerden hangileri bu etkinliklerin bize ve topluma sağladığı katkılardan olabilir? İşaretleyelim.

- Toplum ve çevre sorunlarının çözümüne katkıda bulunur.
- Öğrenciler zamanlarını boşa harcamış olur.
- Öğrencilere iş bölümü yapmayı öğretir.
- Öğrencilere görev ve sorumluluk bilinci aşılar.
- Yaşlı ve bakıma muhtaç insanlara yardımcı olunmasını teşvik eder.
- Öğrencilerin olumsuz davranışlara yönelmesine neden olur.
- Öğrencilerin, planlı ve düzenli çalışmayı öğrenmesini sağlar.
- Öğrencilerin kendine olan güveni azalır.

7. Aşağıda öğrencilerin farklı etkinliklerde bulunmalarını sağlamak amacıyla kurulan öğrenci kulüplerinden bazılarının isimleri verilmiştir. Yanlarında verilen resimlerle, kulüpleri eşleştirelim.



1 Müzik Kulübü

İzcilik Kulübü 5



2 Resim Kulübü

Satranç Kulübü 6



3 Tiyatro Kulübü

Spor Kulübü 7

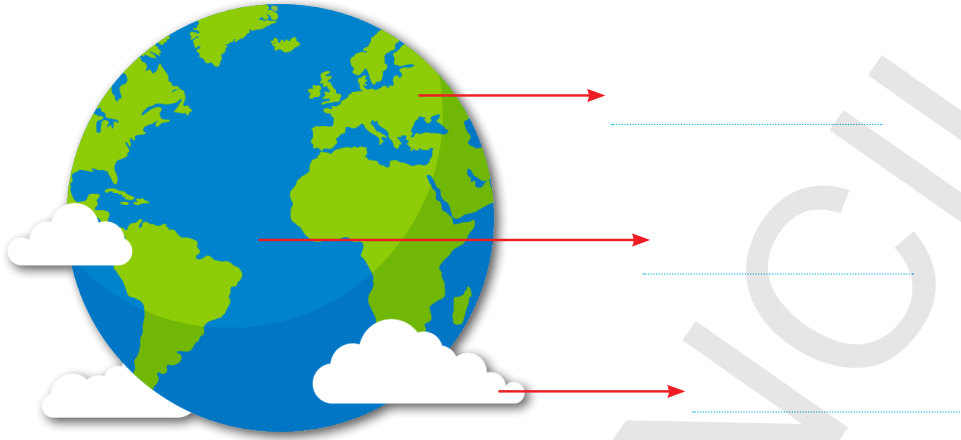


4 Engellilerle Da-
yanışma Kulübü

Çevre Koruma
Kulübü 8



8. Aşağıdaki Dünya resmi üzerinde okla gösterilen yerlere Dünya'yı oluşturan katmanları yazalım.



9. Aşağıda verilen cümlelerdeki boşlukları uygun ifadelerle dolduralım.

sıcaklığı rüzgar temas hissedebiliriz

atmosfer oksijen uzay hava

- ➔ Dünya'yı çepeçevre saran ve gazlardan oluşan tabakaya katmanı denir. Hava katmanı olarak da adlandırılır.
- ➔ Hava katmanında yağmur, kar, dolu,, fırtına gibi hava olayları meydana gelir.
- ➔ Hava katmanının canlıların yaşaması için elverişlidir.
- ➔ Canlıların solunum yapmasını sağlayan bu katmandadır.
- ➔ Hava katmanını, su ve kara katmanı gibi göremeyiz ancak Yalpazeyi yüzümüze salladığımızda ya da rüzgarlı bir havada pencereyi açtığımızda yüzümüze vuran şey havadır.
- ➔ Alt noktada kara ve su ile, en dış noktada da uzay ile eder. Hava katmanının bittiği yerde başlar.

Adı-Soyadı:..... Numarası:..... Sınıfı:.....

1. Aşağıdaki ritmik saymaların kaçarlı yapıldığını bulalım. Eksik saymaları tamamlayalım.

7	14	21					
9	18	27					
8	16	24					
6	12	18					
32	40						
42	48						
28	35						

2.



Yukarıdaki ritmik saymada boş bırakılan yerlere gelmesi gereken sayıları hangi öğrenci doğru bilmiştir?

A)



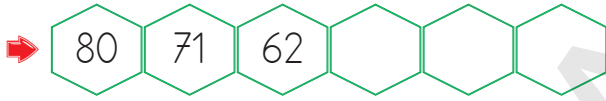
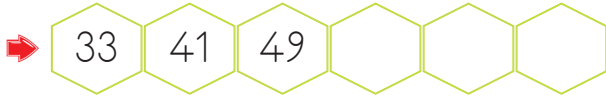
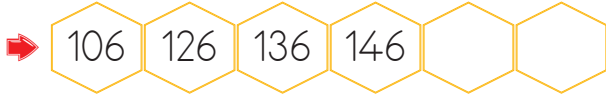
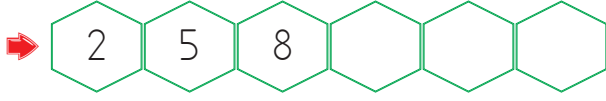
B)



C)



3. Aşağıdaki sayı örüntülerini ikişer ya da üçer adım genişletelim.



Hakim Yayıncılık

4. Seda Öğretmenin tahtaya yazdığı kurallara uygun örüntüler oluşturalım.

1. İlk adımı 5 olan dokuzar artan örüntü

2. 3. adımı 11 olan ikişer artan örüntü

3. Son adımı 40 olan yedişer azalan örüntü

4. İlk adımı 63 olan 2 artan 1 azalan örüntü



1. 5 14

2.

3.

4.

5.

78, 74, , , ,

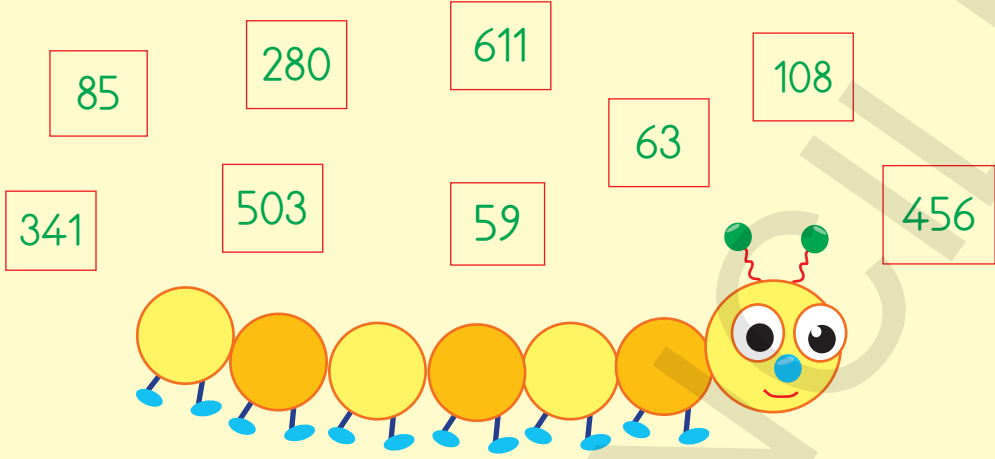
Dörder azalarak devam eden yukarıdaki örüntünün 7. adımındaki sayı kaçtır?

A) 58

B) 54

C) 50

6.




Kutucuklarda yazılı sayılardan çift olanlar tırtılın boğumlarına yazıldığında, kaç boğum boş kalır?

A) 2

B) 3

C) 4

7.



Ömer Öğretmen'in tahtaya yazdığı örüntüde boşluklara gelmesi gereken sayıları hangi öğrenci doğru söylemiştir?

A) Kemal

B) Aslı

C) Cemil

8. Demet bir tablo oluşturmuş ve tabloya bazı sözcükler ve bu sözcüklerin eş anlamlılarını yazmıştır.

1 çaba ⇒ gayret

4 yetenek ⇒ gürültü

2 vazife ⇒ görev

5 mısra ⇒ şiir

3 dilek ⇒ istek

6 seviye ⇒ düzey

Demet kaç numaralı sözcüklerin eş anlamlısını yanlış yazmıştır?

A) 1 ve 3

B) 2 ve 6

C) 4 ve 5

9.



1



2



3



4

Yukarıda verilen görsellerle ilgili aşağıdaki bilgilerden hangisi yanlıştır?

A) 1 numaralı resim Dünya'nın su katmanına örnektir.

B) 3 numaralı resim Dünya'nın hem kara, hem su hem de hava katmanına örnektir.

C) 2 ve 4 numaralı resimler Dünya'nın kara katmanına örnektir.

1 Aşağıdakilerden hangisinde verilen sözcük ikilileri zıt anlamlıdır?

- A) güzel - yeni
- B) cömert - eli açık
- C) dost - düşman

2 Hangi seçenekteki altı çizili sözcükler arasında farklı bir anlam ilişkisi vardır?

- A) Yasemin uzak bir şehirdeki yakın akrabasını ziyarete gitti.
- B) Arabayı bir ileri, bir geri sürerek park etmeye çalıştı.
- C) Küçük kedi, minik fareyi akşama kadar kovaladı.

3 Aşağıdaki cümlelerden hangisinde "yanlış" kelimesinin zıt anlamlısı kullanılmıştır?

- A) Yazısı çok eğri büğrü olduğu için okunmuyordu.
- B) Sınavda üç yanlış bir doğruyu götürüyormuş.
- C) Sabah yağın dolu sonrasında ekinler hasar gördü.

4 I. Hızla giden arabayı durdurmak için frene bastı.
II. Yanakları elbisesinin kırmızısı gibi al al oldu.
III. Güneş her sabah doğudan doğup, her akşam batıdan batar.
IV. Kitaplığın üst rafına ince, alt rafına kalın kitapları dizdi.

Yukarıdaki cümlelerden hangilerinde karşıt (zıt) anlamlı sözcükler bir arada kullanılmıştır?

- A) I ve II
- B) II ve III
- C) III ve IV

5 I. Her sabah erkenden kalkarım.
II. Baharda hava ısınır, kuzular me-
ler, çiçekler açar.
III. Bu çanta senin çok ağır.

Hangi cümledeki altı çizili sözcüğün zıt anlamlısı yoktur?

- A) I
- B) II
- C) III

6

kuru

dolu

boş

soru

basit

yaş

kapalı

açık

zor

Yukarıdaki kelimeler zıt anlamlılarıyla eşleştirildiğinde hangisi açıkta kalır?

- A) dolu B) soru
C) zor

7

"Meyveler ağacın yüksekteki dallarında olduğu için toplayamadım."

Cümlede geçen altı çizili kelimenin zıt anlamlısı aşağıdakilerden hangisidir?

- A) alçak B) düşük
C) aşağı

8

- ▲ Okuma yazmayı öğretmek
- Yeni bilgiler edindirmek
- Zamanlarını boşa harcamak
- ★ Hayata hazır olmayı sağlamak

Yukarıdakilerden hangileri okulun öğrencilere sağladığı katkılardandır?

- A) ▲ - ■ - ★
B) ■ - ★ - ●
C) ▲ - ■ - ●

9

Aşağıdakilerden hangisi sosyal ve eğitsel etkinliklerin amaçlarından biri olamaz?


- A) Öğrencilerin sorumluluk bilincini geliştirmek
B) Öğrencilerin para kazanmalarını sağlamak
C) Öğrencileri iş birliği yapmaya teşvik etmek

10

Atatürk İlkokulunda bugün eğitsel etkinlik olarak deprem tatbikatı yapıldı. Öğrenciler deprem öncesinde, sırasında ve sonrasında nasıl davranmalarını gerektiğini öğrendiler.

Aşağıdakilerden hangisi yukarıdaki etkinliğin öğrencilere kazandırmayı amaçladığı faydalardan değildir?

- A) Öğrencilerin arkadaşlarıyla keyifli vakit geçirmelerini sağlamak.
B) Öğrencileri depreme karşı bilinçlendirmek.
C) Öğrencilerin deprem sırasında nasıl davranmaları gerektiğini öğretmek.



Yukarıdaki ritmik saymada ▲ ve ● sembollerinin yerine hangi sayılar gelmelidir?

A) ▲ = 52, ● = 84

B) ▲ = 56, ● = 83

C) ▲ = 54, ● = 90

12 Aşağıdakilerden hangisi bir ritmik sayma değildir?

A) 18 - 21 - 24 - 27 - 30

B) 18 - 24 - 30 - 36 - 42

C) 18 - 20 - 23 - 25 - 28

15



Yukarıdaki ritmik saymada boş bırakılan yerlere hangi sayı gelirse yanlış olur?

A) 42

B) 47

C) 49

13



Yukarıda verilen ritmik saymada hangi sayı yanlış yazılmıştır?

A) 45

B) 53

C) 63

16



Yukarıdaki örüntünün 6. adımı hangisidir?

A) 11

B) 13

C) 14

14

40'tan başlayıp sekizer ritmik sayma yaparken 5. sırada hangi sayıyı söyleriz?

A) 72

B) 88

C) 96

17



Yukarıdaki örüntüde "?" olan yere hangisi gelmelidir?

A) 13

B) 14

C) 15

18

13	16	19	22	25	28
----	----	----	----	----	----

Aşağıdakilerden hangisi yukarıdaki örüntünün kuralı ile aynıdır?

- A) 8 - 10 - 12 - 14 - 16
 B) 11 - 14 - 17 - 20 - 23
 C) 15 - 21 - 27 - 33 - 39

19



Yukarıdaki örüntüde ? olan yere kaç yazılmalıdır?

- A) 16 B) 18 C) 20

20

Hava katmanının bittiği yerde başlar.

Yukarıdaki cümlede noktalı yere hangisi gelmelidir?

- A) oksijen
 B) uzay
 C) gezegen

21

Dünya yüzeyinde suların kapladığı alan, karaların kapladığı alandan fazladır.

Balıklar, Dünya'nın kara katmanında yaşarlar.

Haritalarda Dünya üzerindeki karaları göstermek için mavi renk kullanılır.

Yukarıdaki ifadelerden doğru olanların başına "D", yanlış olanların başına "Y" yazıldığında hangi seçenek doğru olur?

- A)

D
Y
Y

 B)

Y
D
Y

 C)

Y
Y
D

22

Hava katmanı ile ilgili aşağıdakilerden hangisi yanlış bir bilgidir?

- A) Canlıların solunum yaptığı oksijen hava katmanında bulunur.
 B) Hava katmanı uzayı da içine alır.
 C) Yağmur, kar, rüzgar gibi hava olayları hava katmanında gerçekleşir.

23

İnsanların ve diğer birçok canlının üzerinde yaşadığı yer Dünya'nın hangi katmanındadır?

- A) Kara katmanı
 B) Su katmanı
 C) Hava katmanı