

Ad-Soyad:

No:



TEŞEKKÜR

Karagöz : Kolay gelsin Karagöz'üm.

Hacivat : Kolayı başına gelsin.

Karagöz : Kola niye benim başıma geliyormuş?

Hacivat : Öyle demedim Karagöz'üm. Senin işlerin de iyi olsun, dedim.

Karagöz : Senin de başın iyi olmuş, Hacivat.

Hacivat : Saçlarımı kestirdim onu mu diyorsun Karagöz'üm?

Karagöz : Evet, saatler olsun Hacı Cavcav.

Hacivat : Öyle denmez Karagöz'üm. "Sihhatler olsun" denir.

Karagöz : Özür dilerim, Hacı Cavcav. Ben buraya niye gelmişim, şimdi hatırladım. Sana "Afiyet olsun!" demeye geldim.

Hacivat : Ama ben yemek yemiyorum ki Karagöz'üm. Yemek yiyene afiyet olsun denir.

Karagöz : Aman Hacı Cavcav sen bende akıl mı bıraktın. "Ellerine sağlık!" diyecektim. Dün ben hastayken getirdiğin çorba çok lezzetliydi. Onun için teşekkür edecektim. Zahmet etmişsin.

Hacivat : Zahmet olur mu Karagöz'üm, dostlar bugünler içindir. Afiyet olsun.



Aşağıdaki soruları metne göre cevaplayalım.

1. Karagöz Hacivat'a niye gelmiş?

.....

2. Hacivat, hastayken Karagöz'e ne götürmüştü?

.....

3. Karagöz, Hacivat'a niçin "Saatler olsun" diyor?

4. "Saatler olsun" yerine Karagöz, saçını kestirdiği zaman Hacivat'a ne demelidir?

5. Cümlelerdeki noktalı yerlere verilen ifadelerden uygun olanını yazalım.

Başın sağ olsun

İyi geceler

Kolay gelsin

Özür dilerim

Güle güle

Ellerine sağlık

- ▶ Ayşe yemeğini bitirdikten sonra annesine "....." dedi.
- ▶ Okulumuzu temizleyen Sabri amcaya "....." dedim.
- ▶ Yatmadan önce annem ve babamı öperek onlara "....." dedim.
- ▶ Yanlışlıkla ayağına çantamı düşürdüğüm arkadaşşıma "....." dedim.
- ▶ Annem beni okula gönderirken "....." dedi.
- ▶ Yakın arkadaşım Erdem'in dedesi ölünce hep beraber "....." dedik.

6. Görsellerdeki kişilere söylememiz gereken nezaket ifadelerini altlarına yazalım.



Ad-Soyad:

No:

KISA BİLGİ

Bir duyguyu, düşünceyi, istek ya da haberi bildirmeye yarayan sözcük ya da sözcükler dizisine cümle (tümce) denir. Cümleler tek bir sözcükten oluşabileceği gibi birden fazla sözcükten de meydana gelebilir.

➡ Aldı. (Cümle)

➡ Babam pazardan elma ve portakal aldı. (Cümle)

1. Aşağıdaki ifadelerden cümle olanların başına ✓ işareti, cümle olmayanların başına ✗ işareti koyalım. Cümle olmayanları anlamlı birer cümle olacak şekilde tamamlayalım.

Derse başlamak için zilin

Yemeğe geç kaldım

Topladığı bütün kalemleri masasındaki

Kar yağdığı anda hemen bahçeye çıktık

Yatmadan önce ödevini bitirdi

Babasının hediye ettiği maket evi yaparken

Ayşe de geldi

Konuşurken telefonu elinden düşürdü

Annesi doğum gününde kızına

2. Aşağıda karışık olarak verilen sözcüklerle anlamlı ve kurallı cümleler yazalım.

→ kucağına köpeği aldı Feride yavru

→ gitti dün dedesiyle kitapçıya Selim

→ içeri sınıfın çalarak girdi kapısını

→ bir olgun yaşına çocuğu göre

→ çok çalışıyordu Necmi artık ders

3. Aşağıdaki her bir sütundan birer sözcük seçerek, örnekteki gibi, anlamlı ve kurallı cümleler oluşturalım.

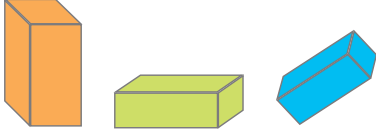
Bahçeden	kediyi	gül	gittik.
Yavru	ördek	köyüne	götürdü.
Tatilde	kırmızı	veterinere	koydu.
Yeşil	masanın	gölde	topladım.
Kitaplarını	dedemin	üzerine	yüzüyordu.

Ad-Soyad:

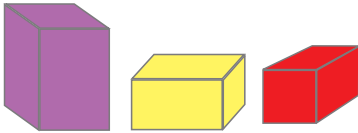
No:

Geometrik Cisimler - 2

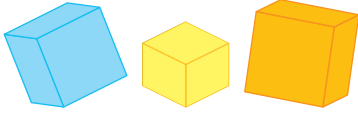
1. Aşağıda büyüklükleri ve yönleri farklı olan geometrik cisimlerin isimlerini ve özelliklerini yazalım.



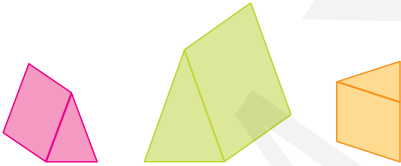
..... prizmanın;
 köşesi ve yüzü vardır.
 Bütün yüzleri
 Karşılıklı yüzleri



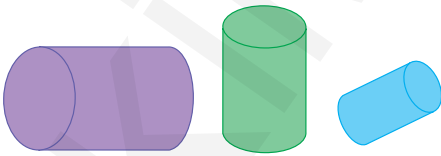
..... prizmanın;
 köşesi ve yüzü vardır.
 Karşılıklı yüzlerinden iki tanesi
 diğerleri



..... ;
 köşesi ve yüzü vardır.
 Bütün yüzleri



..... prizmanın;
 köşesi ve yüzü vardır.
 Karşılıklı yüzlerinden iki tanesi
 diğerleri

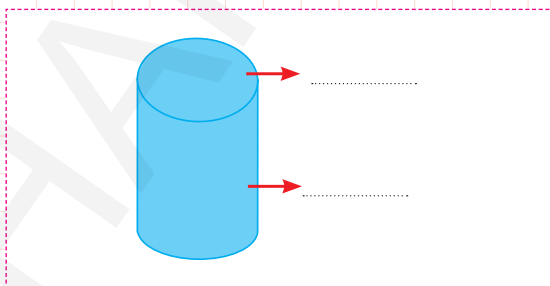
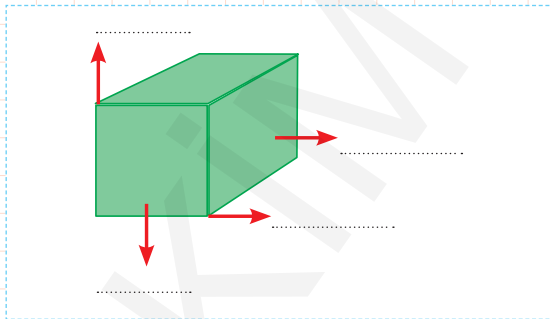
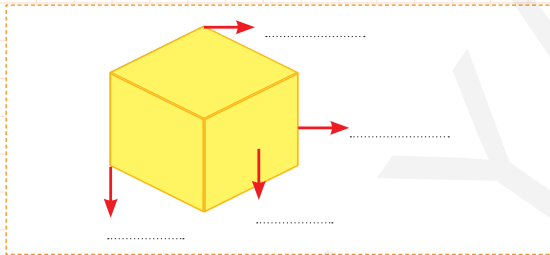
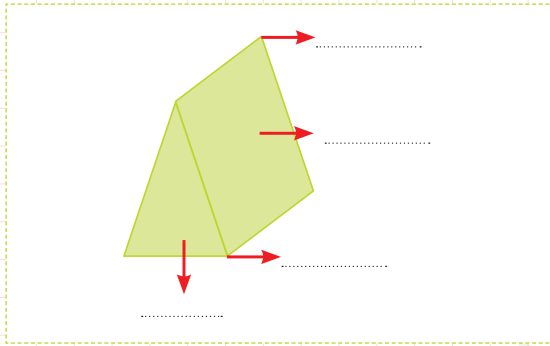
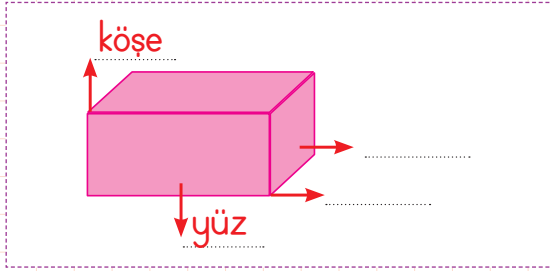


..... ;
 yüzü vardır.
 yoktur.
 Karşılıklı yüzlerinden iki tanesi

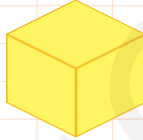

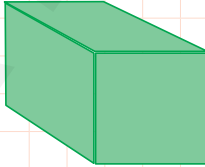


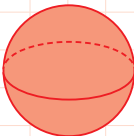


..... ;
 yüzü vardır.
 yoktur.
 Her yönden görünümü

2. Aşağıdaki geometrik cisimlerin okla gösterilen kısımlarının ne olduğunu örnekteki gibi yazalım.



3. Aşağıdaki tabloya geometrik cisimlerin yüz ve köşe sayılarını yazalım.


Geometrik cisim	Yüz	Köşe
		
		
		
		
		
		

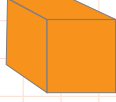
Ad-Soyad:

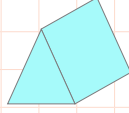
No:

Geometrik Cisimler - 3

1. Altı tane eş kareden oluşan geometrik cismin altındaki kutucuğu işaretleyelim.



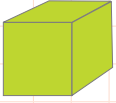


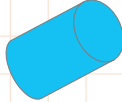


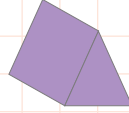


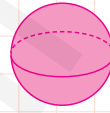


2. 8 köşesi olan geometrik cisimlerin altındaki kutucuğu işaretleyelim.



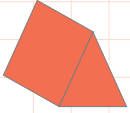


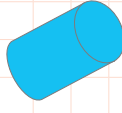




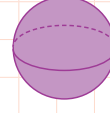


3. 5 yüzü olan geometrik cismin altındaki kutucuğu işaretleyelim.





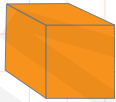







4. Köşesi olmayan geometrik cisimlerin altındaki kutucuğu işaretleyelim.






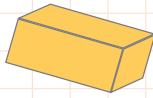


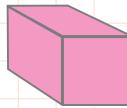


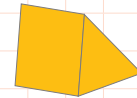


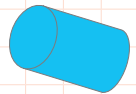
5. Çiziminde  kullanılan geometrik cisimlerin altındaki kutucuğu işaretleyelim.











6. Yandaki şeklin çiziminde kullanılan geometrik şekillerin altındaki kutucuğu işaretleyelim.



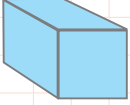


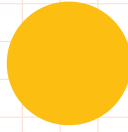






7. Yandaki şeklin çiziminde kullanılan geometrik şekillerin altındaki kutucuğu işaretleyelim.



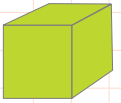


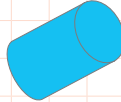




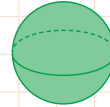


8. Köşe ve yüz sayısı aynı olan geometrik cisimlerin altındaki kutucuğu işaretleyelim.



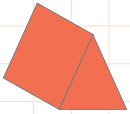


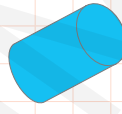


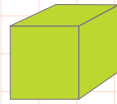


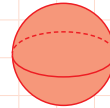


9. 2 yüzü olan geometrik cismin altındaki kutucuğu işaretleyelim.



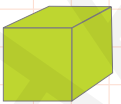


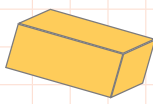


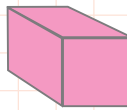


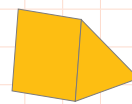


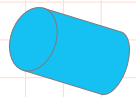
10. Karşılıklı yüzleri kare olan geometrik cisimlerin altındaki kutucuğu işaretleyelim.












Ad-Soyad:.....

No:.....



1. Aşağıdakilerden hangileri sağlık çalışanı olabilir? İşaretleyelim.



2. Aşağıdaki kurumlardan sağlıkla ilgili olanlarını boyayalım.

Lokanta

Okul

Postane

Sağlık Ocağı

Aile Sağlığı Merkezi

Eczane

Hastane

Market

3. Aşağıda verilenlerden doktorların görevi olanları işaretleyelim.

- Hastayı muayene etmek.
- Hastayı tedavisi konusunda bilgilendirmek.
- Hastanın yatağını yapmak ve ilaçlarını takip etmek.
- Gerekli olduğunda hastaları ameliyat etmek.
- Hastalara, tekrar hasta olmamaları için tavsiyelerde bulunmak.

4. Aşağıda verilenlerden eczacıların görevi olanları işaretleyelim.

- Hastanın rahatsızlığını teşhis etmek.
- Reçetede yazan hazır ilaçları hastaya vermek.
- Hastanın gözlerinin sağlıklı olup olmadığını kontrol etmek.
- İlaçların kullanımı hakkında hastayı bilgilendirmek.



5. Aşağıda verilenlerden diş hekimlerinin görevi olanları işaretleyelim.

- Ağız ve diş eti hastalıklarını tedavi etmek.
- Tıbbi malzemelerin tanıtımını yapmak.
- İnsanlara, ağız sağlığı ve temizliği konularında bilgi vermek.
- Hastanın şikayetlerini dinleyip, dişlerini muayene etmek.



6. Aşağıda verilenlerden hemşirelerin görevi olanları işaretleyelim.

- Hastanın tekrar sağlığına kavuşması için reçete yazmak.
- Gelen hastaları kabul edip, muayene için gerekli hazırlıkları yapmak.
- Hastaların yaralarını sarmak.
- Çocukları ve yetişkinleri hastalıklara karşı korumak.

