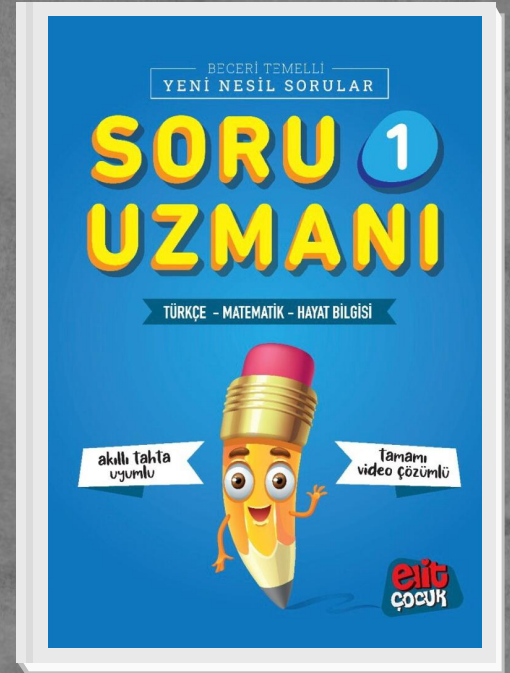


# ELİTÇOCUK

## 1.SINIF 2.DÖNEM SET (6 KİTAP)





1. SINIF

# ELİT TÜRKÇE DİL BİLGİSİ

HAFTA HAFTA  
(Toplam 36 Hafta)

Kazanım Odaklı

Özel Hazırlanmış Metinler

Dil Bilgisi Çalışmaları

Yeni Nesil Hazırlık

Yeni Nesil Sorular

Çek Koparlı

Akıllı Tahta Uyumlu

Kodlama Destekli Çalışmalar

yayıncılığa  
elit bir  
dokunuş

elit  
ÇOCUK

### **Temizlik Ne Güzel!**

Metin okuldan eve biraz geç gelince, servis şoförü annesine trafik yüzünden geciktiklerini söyledi. Metin çantasını atar atmaz yemek sofrasına oturdu. Annesi, "Dışarıdan eve gelir gelmez hemen ellerimizi yıkamalıyız. Yoksa ellerimizdeki mikroplar bizi hasta edebilir." diye uyardı Metin'i.

Metin, "Haklısın anne, okulda bu hafta bu konuyu öğrendik. Ayrıca kişisel bakımımıza da özen göstermeliymişiz. Sağlığımız ve temizliğimiz için haftada iki kez duş almalıyız. Sabah kalktığımızda, yemeklerden sonra ve yatmadan önce dişlerimizi mutlaka fırçalamalıyız. Tırnaklarımızı uzadıkça kesmeliyiz." dedi. Sonra koşarak ellerini yıkamaya gitti.

**Yukarıda verilen metne göre soruları cevaplayalım.**

1 Metin eve niçin geç kalmış?

2 Metin'i annesi neden uyarmış?

3 Sağlığımız için haftada kaç defa yıkanmalıyız?

4 Metin sağlıklı olmak için neler yapmalı?



Yukarıdaki grsele gre aŐađıdaki soruları cevaplayınız

Grselde ka makas vardır?

Erkek ocuđun kestiđi Őekil neye benzemektedir?


Grselde hangi renk kađıtlar vardır?

Masada bulunan nesnelerin adlarını yazınız.


Pembe renkli makas hangi ocuđun elindedir?




1. Aşağıdaki görsellere bakınca aklımıza gelen beş tane sözcük yazalım.




1. ....  
2. ....  
3. ....  
4. ....  
5. ....




1. ....  
2. ....  
3. ....  
4. ....  
5. ....




1. ....  
2. ....  
3. ....  
4. ....  
5. ....



1. ....  
2. ....  
3. ....  
4. ....  
5. ....



1. ....  
2. ....  
3. ....  
4. ....  
5. ....



1. ....  
2. ....  
3. ....  
4. ....  
5. ....

2. Kelime bulmacasında soldan sağa ve yukarıdan aşağıya 10 tane eşya ismi gizlenmiş Kelimeleri bulup boyayalım. Bulduğumuz sözcük ile cümle yazalım.

E	M	Ş	İ	Ş	E	C	T	R	U
P	N	K	O	L	Ç	V	Ü	Y	L
S	A	Y	N	A	E	Z	K	Ö	A
Ü	G	F	İ	N	C	A	N	İ	M
T	P	Z	Y	E	M	K	A	L	B
Ü	B	D	O	L	A	P	E	D	A
Ş	M	Ö	F	U	S	N	F	G	Y
E	Ç	İ	Y	T	A	B	A	K	T
V	A	Z	O	E	Ğ	A	J	R	Ş
D	Ü	H	F	K	F	I	R	I	N

→ İki şişe su içtim.

→ .....

→ .....

→ .....

→ .....

→ .....

→ .....

→ .....

→ .....

→ .....



**A.** Aşağıdaki soruları kısaca cevaplayalım. Boş kutuya cevabımızın resmini çizip boyayalım.

**1.** Evinizde hangi meyvenin yetişmesini isterdin?

.....  
.....

**2.** Gözlerin yüzünde olmasaydı nerede olmasını isterdin?

.....  
.....

**3.** Evde hangi hayvanı beslemek isterdin?

.....  
.....

**4.** Hangi taşıta binmeyi çok isterdin?

.....  
.....

**5.** Uçabilseydin nereye konmak isterdin?

.....  
.....

B. Aşağıdaki sevimli hayvanların sorularını kısaca cevaplayalım.



1. En sevdiğin çizgi filmin adı nedir?

.....  
.....



2. Sence en zor meslek hangisidir?

.....  
.....



3. Hangi yemeği seversin?

.....  
.....



4. En korktuğun şey nedir?

.....  
.....



5. Bir köpeğin olsaydı adını ne koyardın?

.....  
.....

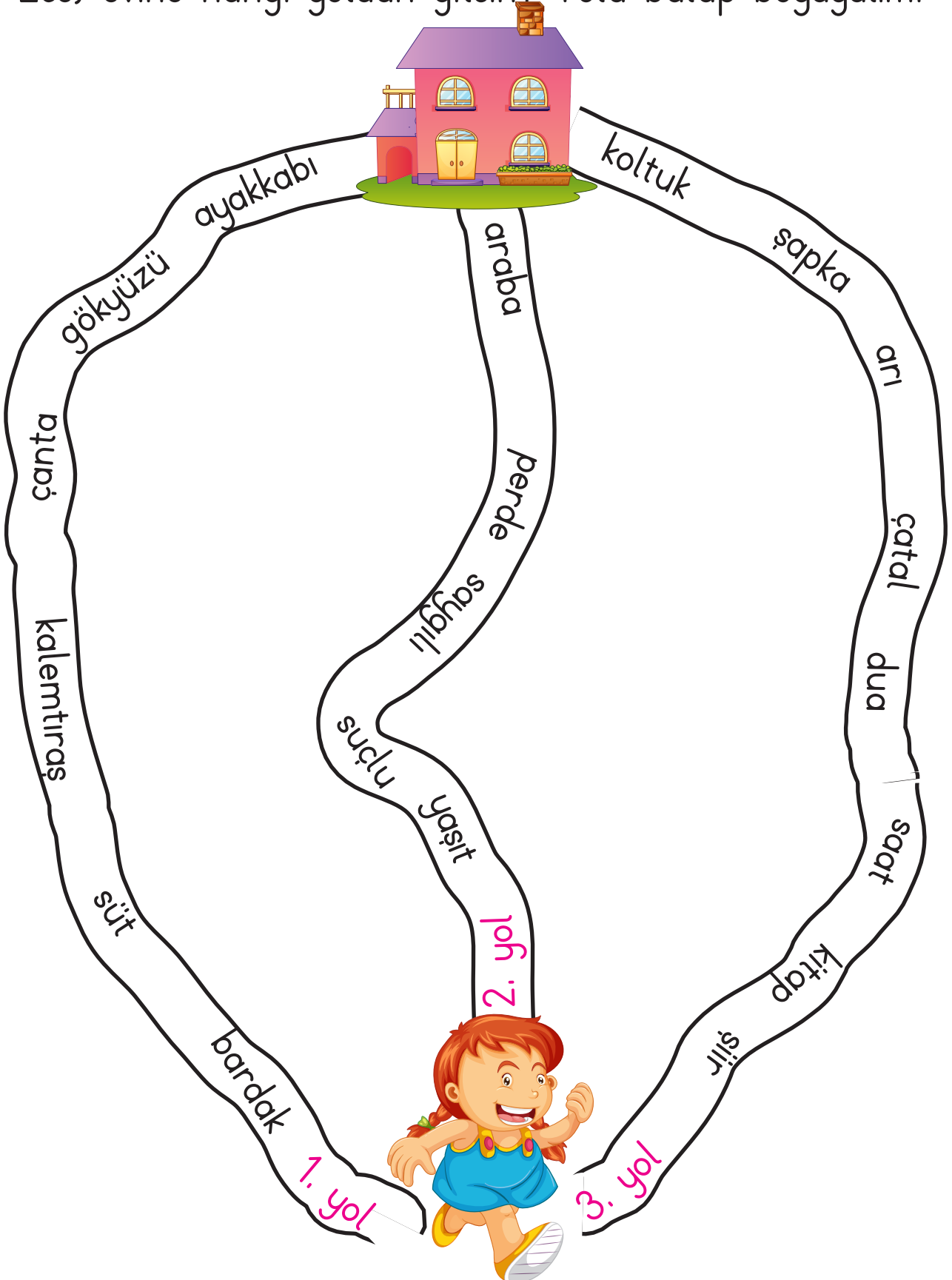


6. Tişörtünün önünde ne olsun isterdin?

.....  
.....



1. Ece'nin evine giden yolda iki heceli sözcükler yazıyormuş. Ece, evine hangi yoldan gitsin? Yolu bulup boyayalım.



Cevap: Ece, evine ..... yoldan gitmelidir.

## O Mu? Bu Mu?

Görsellerle ilgili soruları okuyarak cevaplarını yazalım.



Garaj mı, baraj mı?

**Cevap**



Çiftçi mi, çiftlik mi?

**Cevap**



Durak mı, duvar mı?

**Cevap**



Kutu mu, kuyu mu?

**Cevap**



Mandal mı, sandal mı?

**Cevap**



Tursil mi, turist mi?

**Cevap**



Yüzgeç mi, yengeç mi?

**Cevap**



# 1 ELİT MATEMATİK

Beceri Temelli Yeni Nesil Sorular

○ Aşama  
○ Aşama

🕒 Resfebe  
Destekli

□ Kodlama  
Destekli

📌 Kazanım  
Odaklı

▶ Tamamı Video  
Çözümlü

△ Çek  
Kopar

★ Akıllı Tahta  
Uygulaması



yayıncılığa  
elit bir  
dokunuş

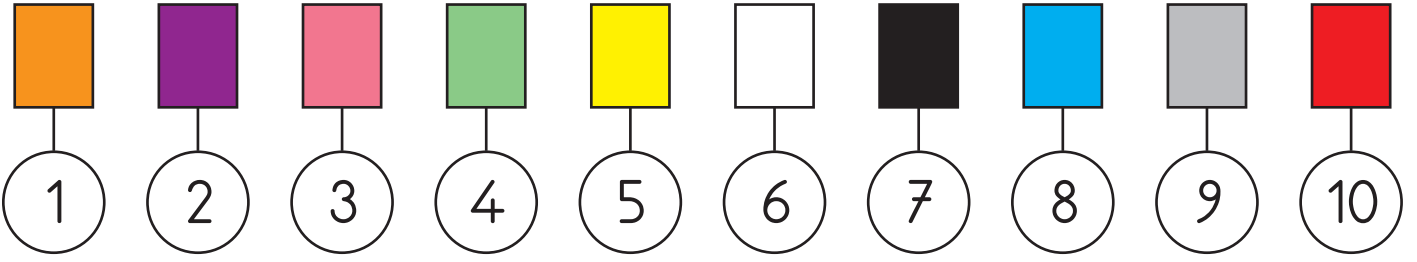
elit  
ÇOCUK

- Toplamı 20 olan sayı çiftlerinin damlacığını aynı renge boyayınız.





- Sayılarla renkleri eşleştirip toplamları bulalım.



$$\text{Yellow} + \text{Black} = 12$$

$$\text{Purple} + \text{White} = \dots$$

$$\text{Green} + \text{Blue} = \dots$$

$$\text{Green} + \text{Orange} = \dots$$

$$\text{Red} + \text{Purple} = \dots$$

$$\text{Pink} + \text{Grey} = \dots$$

$$\text{Black} + \text{Orange} = \dots$$

$$\text{White} + \text{Blue} = \dots$$

$$\text{White} + \text{White} = \dots$$

$$\text{Blue} + \text{Yellow} = \dots$$

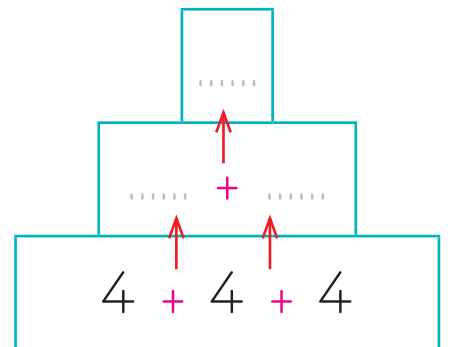
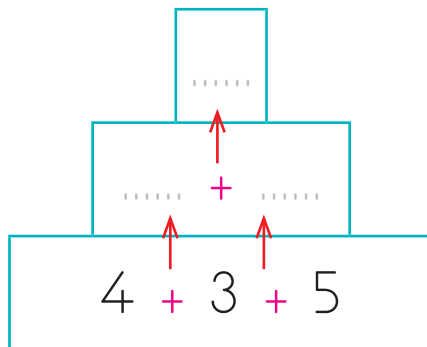
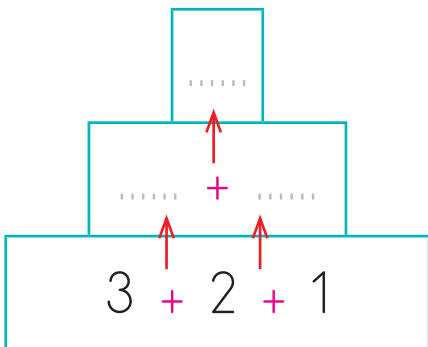
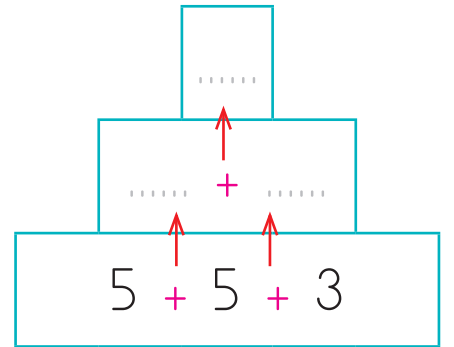
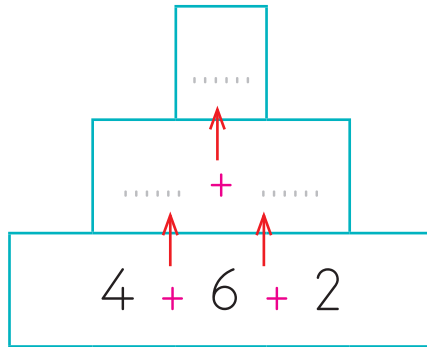
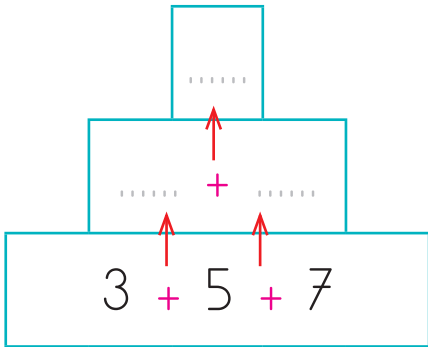
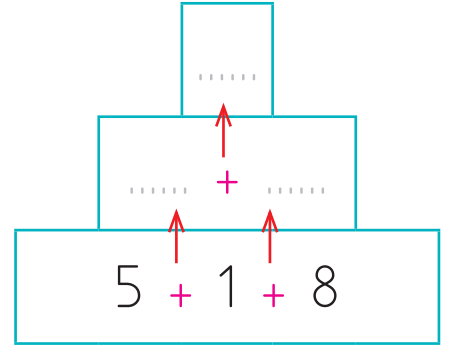
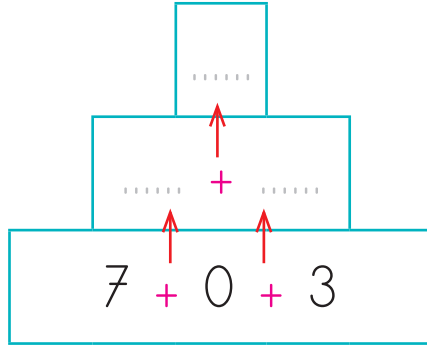
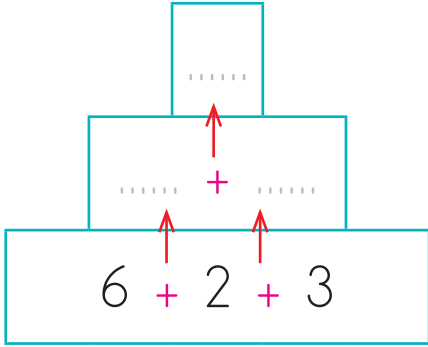
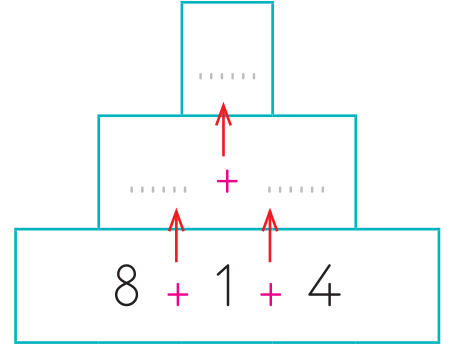
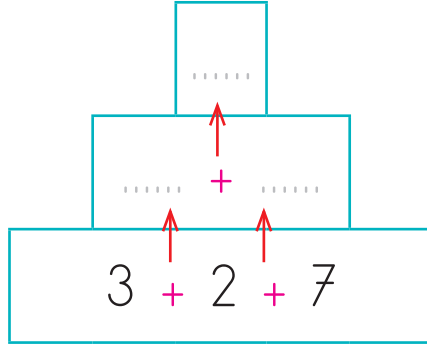
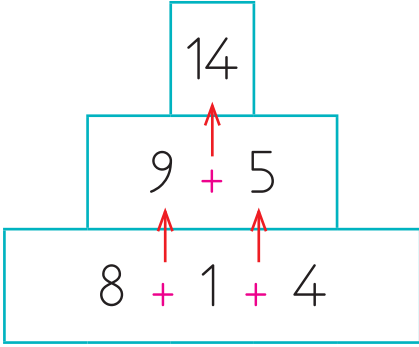
$$\text{Grey} + \text{Pink} = \dots$$

$$\text{Green} + \text{Green} = \dots$$

$$\text{Yellow} + \text{Yellow} = \dots$$

$$\text{Red} + \text{Purple} = \dots$$

- Sayıları yukarıya doğru toplayarak toplamı bulalım.



- Aşağıdaki toplama işlemlerini yapalım. Toplamı 15 olan işlemlerin kutucuğundaki harfleri sırasıyla yazarak şifreyi oluşturalım.

$$\begin{array}{r} 14 \\ + 4 \\ \hline \dots \end{array}$$

İ

$$\begin{array}{r} 10 \\ + 5 \\ \hline \dots \end{array}$$

M

$$\begin{array}{r} 12 \\ + 5 \\ \hline \dots \end{array}$$

P

$$\begin{array}{r} 8 \\ + 7 \\ \hline \dots \end{array}$$

A

$$\begin{array}{r} 14 \\ + 1 \\ \hline \dots \end{array}$$

T

$$\begin{array}{r} 7 \\ + 7 \\ \hline \dots \end{array}$$

R

$$\begin{array}{r} 9 \\ + 6 \\ \hline \dots \end{array}$$

E

$$\begin{array}{r} 14 \\ + 3 \\ \hline \dots \end{array}$$

S

$$\begin{array}{r} 12 \\ + 3 \\ \hline \dots \end{array}$$

M

$$\begin{array}{r} 15 \\ + 5 \\ \hline \dots \end{array}$$

N

$$\begin{array}{r} 15 \\ + 0 \\ \hline \dots \end{array}$$

A

$$\begin{array}{r} 13 \\ + 2 \\ \hline \dots \end{array}$$

T

$$\begin{array}{r} 13 \\ + 7 \\ \hline \dots \end{array}$$

Y

$$\begin{array}{r} 11 \\ + 4 \\ \hline \dots \end{array}$$

İ

$$\begin{array}{r} 7 \\ + 8 \\ \hline \dots \end{array}$$

K


$$\begin{array}{r} 10 \\ + 6 \\ \hline \dots \end{array}$$


O


Şifre:


--	--	--	--	--	--	--	--	--	--


- Aşağıdaki toplama işlemlerini yapalım. Toplamı 20 olan işlemlerin yıldızlarını maviye boyayalım.


**1.** 
$$\begin{array}{r} 9 \\ + 8 \\ \hline \end{array}$$
 ..... 


**2.** 
$$\begin{array}{r} 10 \\ + 10 \\ \hline \end{array}$$
 ..... 


**3.** 
$$\begin{array}{r} 16 \\ + 4 \\ \hline \end{array}$$
 ..... 


**4.** 
$$\begin{array}{r} 13 \\ + 5 \\ \hline \end{array}$$
 ..... 


**5.** 
$$\begin{array}{r} 15 \\ + 5 \\ \hline \end{array}$$
 ..... 


**6.** 
$$\begin{array}{r} 11 \\ + 6 \\ \hline \end{array}$$
 ..... 


**7.** 
$$\begin{array}{r} 8 \\ + 8 \\ \hline \end{array}$$
 ..... 


**8.** 
$$\begin{array}{r} 12 \\ + 8 \\ \hline \end{array}$$
 ..... 


**9.** 
$$\begin{array}{r} 7 \\ + 6 \\ \hline \end{array}$$
 ..... 


**10.** 
$$\begin{array}{r} 13 \\ + 3 \\ \hline \end{array}$$
 ..... 


**11.** 
$$\begin{array}{r} 18 \\ + 2 \\ \hline \end{array}$$
 ..... 

**12.** 
$$\begin{array}{r} 15 \\ + 2 \\ \hline \end{array}$$
 ..... 

**13.** 
$$\begin{array}{r} 19 \\ + 1 \\ \hline \end{array}$$
 ..... 

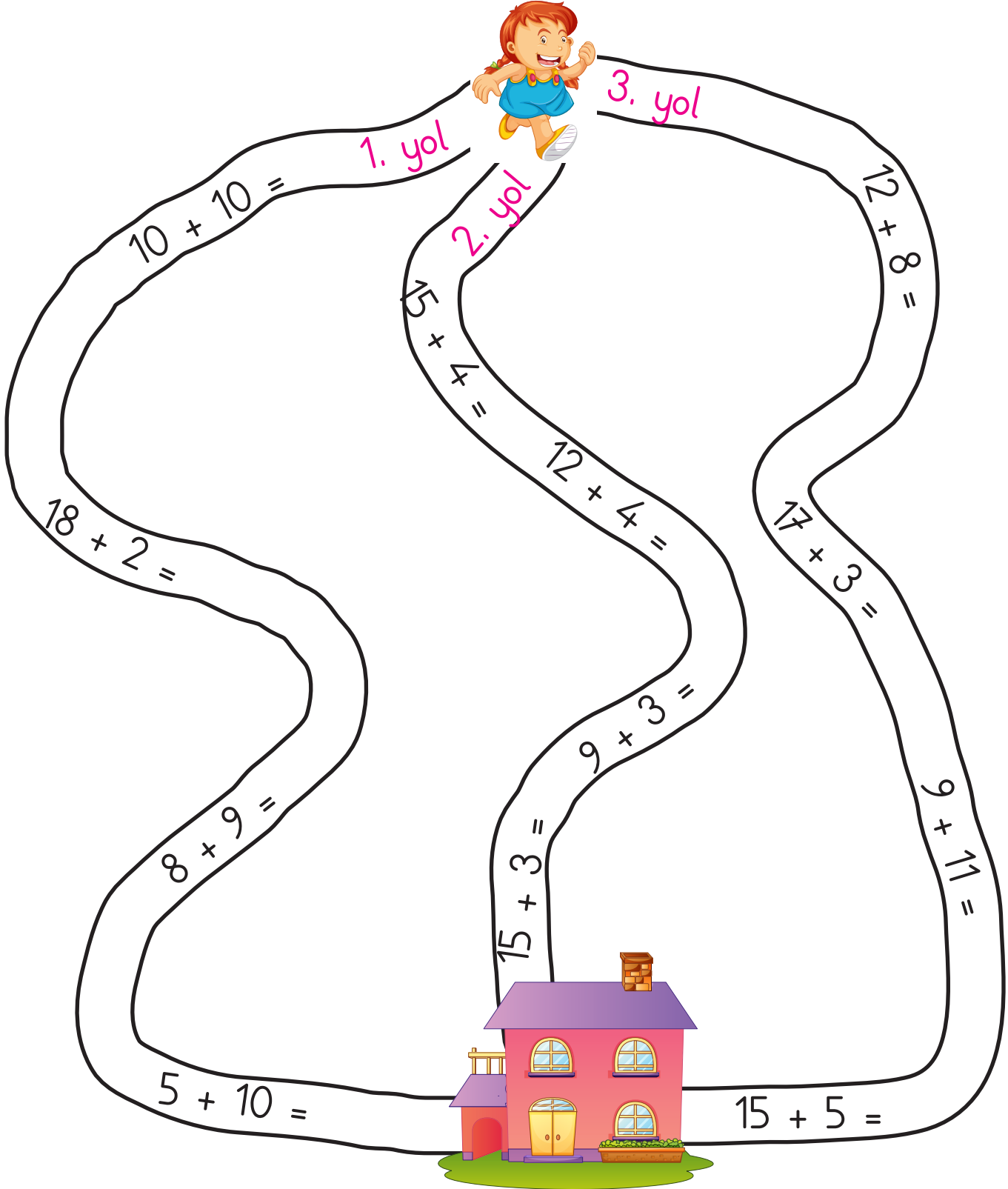
**14.** 
$$\begin{array}{r} 10 \\ + 7 \\ \hline \end{array}$$
 ..... 

**15.** 
$$\begin{array}{r} 6 \\ + 6 \\ \hline \end{array}$$
 ..... 

**16.** 
$$\begin{array}{r} 4 \\ + 4 \\ \hline \end{array}$$
 ..... 



- Ceren'in evine giden yoldaki toplama işlemlerinin hepsinin sonucu 20'dir. Ceren'in gideceği yolu toplama işlemlerini yaparak bulup boyayalım.



→ Ceren evine ..... yoldan gitmelidir.

- Problemleri dikkatli okuyup anladıktan sonra çözelim.

1. Zeynep dedesinin bahçesine 4 erik ağacı dikti. Ablası da 8 erik ağacı dikti. Bahçede toplam kaç erik ağacı oldu?

**Çözüm:**

3. Bir çiçekçi 3 gül, 8 karanfil ve 5 papatya ile buket oluşturuyor. Çiçekçi bir buket için kaç çiçek kullanmıştır?

**Çözüm:**


2. Beren 7 yaşındadır. Ablası Berra ondan 2 yaş büyüktür. Beren ve Betülün yaşları toplamı kaçtır?

**Çözüm:**

4. 1-F sınıfında 9 erkek, erkek öğrencilerden 2 fazla kız öğrenci vardır. 1-F sınıfında toplam kaç öğrenci vardır?

**Çözüm:**

- Problemleri dikkatli okuyup anladıktan sonra görsele göre çözelim.



1. Yere dökülmüş elmaların sayısı ile ağaçtaki elmaların sayısının toplamı kaçtır?

**Çözüm:**

3. Yere dökülmüş elma ve portakalların sayısının toplamı kaçtır?

**Çözüm:**

2. Kasalardaki portakal ve elmaların sayısının toplamı kaçtır?

**Çözüm:**

4. Görseldeki koyunların yanına 8 koyun daha gelirse toplam kaç koyun olur?

**Çözüm:**

1.SINIF

# HAYAT BİLGİSİ

*Yeni Nesil Hazırlık*

yayıncılığa  
elit bir  
dokunuş



**Bilgi**

Kutuları

**Eğlenceli**

Düşünme Etkinlikleri

**Konu**

Testleri

**Etkinlik**

Çalışmaları

**Akıllı Tahta**

Uygulaması

Hülya Vesile Aydın

Derya Çağırın






1. Aşağıdaki durumlarda istek veya ihtiyaçlarınızı nasıl ifade edeceğinizi yazınız.

İstek veya İhtiyaçlarınız	Nasıl Söylersiniz?
Annenizden kek yapmasını isteyeceksiniz.	
Ablanızdan müzik çaların kulaklığını isteyeceksiniz.	
Babanızın yakınındaki tuzluğu isteyeceksiniz.	
Kardeşinizin silgisini isteyeceksiniz.	
Annenizden ödevlerinize yardım etmesini isteyeceksiniz.	
Abinizden bisikletini isteyeceksiniz.	
Dedenizden sizi parka götürmesini isteyeceksiniz.	
Babanızdan size yeni bir ayakkabı almasını isteyeceksiniz.	

1. Aşağıdaki görsellerde hangi kaynaklar (elektrik, su, doğal gaz) yanlış tüketilmektedir? Görsellerin altına yazınız.



.....



.....



.....



.....



.....



.....

1. Aşağıdaki cümleleri uygun sözcüklerle tamamlayınız.

dengeli

haftalık

çalışma



Plansız

Başarılı

süredir

- ..... olmanın yolu zamanı planlamaktan geçer.
- Gün içerisinde birçok iş, etkinlik ve ..... yapılır.
- Plan yapılırken önemli olan, yapılan işlere ayrılacak .....
- ..... kişiler çoğu ne zaman ne yapacağını bilemez.
- Zamanımızı ayarlamalı, günlük ve ..... plan yapmalıyız.
- Ders, oyun ve dinlenme saatleri ..... bir şekilde ayarlanmalıdır.

2. Aşağıdaki davranışları okuyunuz. Size uygun olanları "X" ile işaretleyiniz.

Davranışlar		
Erken yatar, erken kalkarım.		
Kahvaltımı yapmadan okula gitmem.		
Ödevimi zamanında yaparım.		
Ders ve oyun saatlerimi dengelerim.		
Telefon, tablet kullanımına çok zaman ayırmam.		
Televizyon izleme sürem sınırlıdır.		
Derslerimi planlayarak çalışırım.		

1. Aşağıdaki etkinlikler için kendinize ne kadar zaman ayırdığınızı yazınız.



Süre: ..... saat



Süre: ..... saat



Süre: ..... saat



Süre: ..... saat



Süre: ..... saat



Süre: ..... saat



Süre: ..... saat



Süre: ..... saat



Süre: ..... saat