

Ad-Soyad:

No:

Okuma Anlama

MİMAR SİNAN

Ben Mimar Sinan. 1489 yılında Kayseri'de doğdum. Yani sizden çok uzun yıllar önce yaşadım. Sizlerin yaşındayken çok okur, çok çalışırdım. Resim yapmayı, geometrik şekilleri çok severdim.

Çalışkanlığımı duyan padişah beni saraya çağırttı ve eğitimime saraydaki okulda devam ettim. İyi bir mimar olmak istiyordum. Saraya geldikten sonra da azimle ve kararlılıkla çalışmaya devam ettim.

Çizimler yaptım, camiler, köprüler ve saraylara ait yapılar planladım. Yaşadığım zamanın en iyi mimarlarının yanında çalıştım. Başarılı çalışmalarımın sonucunda "Saray Başmimarlığı"na getirildim ve yaşamımın sonuna kadar bu görevde kaldım.

Yaşamım boyunca birçok eser yaptım. Edirne'de yaptığım Selimiye Camii benim ustalık eserimdir. Başarılı bir mimar olmayı çalışkanlığım ve kararlılığım borçluyum. Siz de benim gibi çalışıp insanlar için güzel işler yaparsanız, öldükten sonra bile unutulmazsınız.

Aşağıdaki soruları metne göre cevaplayalım.

1. Mimar Sinan nerede doğmuştur?

.....

2. Mimar Sinan'ı saraya kim çağırtmıştır?

.....

3. Mimar Sinan nasıl başarılı olmuştur?

.....

4. Mimar Sinan yaşamının sonuna kadar hangi görevde çalışmıştır?

.....

5. Aşağıdaki sözcükleri anlamlarıyla eşleştirelim.

1 mimar

Bir işteki engelleri yenme kararlılığı

2 padişah

Yapıların planını hazırlayıp bunların gerçekleşmesini sağlayan kimse

3 azim

Osmanlı Devleti'nde devlet başkanına verilen unvan, hükümdar, sultan

6. Aşağıda büyük harflerin kullanımı ile ilgili verilen kuralları cümlelerle eşleştirelim.

1 Hayvanlara verilen özel isimler büyük harfle başlar.

Selvi Hanım, bize uğramış.

2 Kurum ve kuruluş adları büyük harfle başlar.

19 Mayıs 1919'da Atatürk Kurtuluş Savaşını başlattı.

3 İnsanlara verilen özel isimler ve saygı ifadeleri büyük harfle başlar.

Arkadaşım Kiraz Sokakta oturuyor.

4 Özel tarihlerde aylar büyük harfle başlar.

Kuşumuz Limon, yeşil renktedir.

5 Cadde, sokak, yer isimleri büyük harfle başlar.

Babam Milli Eğitim Bakanlığında çalışıyor.

Ad-Soyad:.....

No:.....



1. Aşağıdaki kuralları örnekteki gibi cümlelerle eşleştirelim.

1. Özel tarih bildiren sözcükler büyük harfle başlar.

2. Bayram isimleri büyük harfle başlar.

3. Adreslerde mahalle, cadde, sokak isimleri büyük harfle başlar.

4. İnsan isimleri büyük harfle başlar.

5. Ülke, şehir, yer isimleri büyük harfle başlar.

Ramazan Bayramı'nda büyüklerimizi ziyarete gittik.

1 Cumhuriyet 29 Ekim 1923'te ilan edildi.

Ankara, Türkiye'nin başkentidir.

Arkadaşım Sancaktepe Mahallesi'nde oturuyor.

Metin ve Elif çok çalışkan çocuklardır.

1. Aşağıdaki ifadelerin doğru yazılışını örnekteki gibi altlarına yazalım.

ankaradan

Ankara'dan

türkiyenin

kemaller

türkçe

bursalı

endonezyada

martı sokak

zafer bayramı

30 ağustos

Halenin































hakim lisesi

taş mahallesi

3. Aşağıdaki cümlelerde yapılan yazım yanlışlarını bulalım ve örnekteki gibi altlarını çizelim.

- Ben meyvelerden muz'u severim, meriyem ise çileği sever.
- fatma teyzem'ler bize gelmedi.
- Kayserideki en yüksek dağ erciyes dağdır.
- Bir ay sonra ramazan bayramı gelecek.
- ingiltere çok yağış alan bir ülkedir.
- Antalya türkiyenin güneyinde bulunur.
- selimin doğum günü 2 mart 2015tir.

4. Aşağıda yanlış yazılmış olan sözcüklerin doğru yazılışını yanlarına yazalım.

Ad-Soyad:

No:

Uzunluk Ölçme - 3


1. Aşağıda verilenlerden gerçek uzunluğu 1 metreden uzun olanları yuvarlak içine alalım.



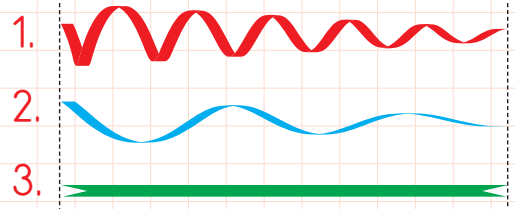
2. Aşağıda verilenlerden gerçek uzunluğu 1 metreden kısa olanları yuvarlak içine alalım.



3. Aşağıda uzunlukları verilen kalemleri uzundan kısaya doğru sıralayalım.

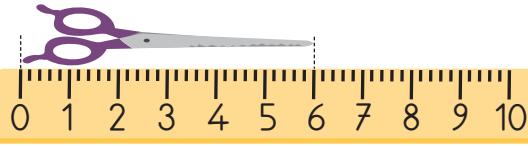


4. Aşağıdaki kurdeleleri inceleyelim. Kısdan uzuna doğru sıralayalım. Cümlelerdeki boşlukları dolduralım.

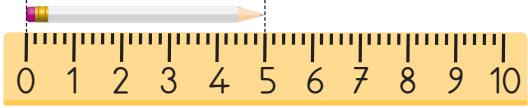


- ★ En uzun kurdele renklidir.
★ En kısa kurdele renklidir.

5. Aşağıdaki nesnelerin uzunluklarını örnekteki gibi altlarına yazalım.



6 santimetre



.....



.....



.....



.....



.....



.....

6. Aşağıdaki uzunlukları "daha uzundur", "daha kısadır", "eşittir" ifadelerini kullanarak karşılaştıralım.

15 cm, 18 cm'den

35 m, 12 cm'den

100 cm, 1 m'ye

24 cm, 26 m'den

65 cm, 67 cm'den

3 m, 3 cm'den

46 cm, 49 m'den

7. Her satırdaki uzunluklardan en uzun olanlarını boyyalım.

◇ 6 cm 3 m 12 cm

◇ 43 m 65 cm 87 cm

◇ 14 cm 5 cm 1 m

◇ 18 m 36 m 77 m

◇ 91 cm 36 m 67 cm

2. Aşağıdaki nesnelerin uzunluklarının kaç santimetre olduklarını tahmin edelim. Sonra cetvelle ölçerek gerçek uzunluklarını bulalım. Aralarındaki farkı yazarak tabloyu tamamlayalım.

	Tahmin	Ölçüm	Fark












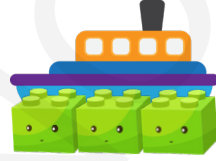
Ad-Soyad:

No:

1. Ali her biri 4 santimetre olan oyuncak bloklarını kullanarak diğer oyuncaklarının uzunluklarını ölçüyor. Oyuncakların uzunluklarının kaç cm olduğunu altlarına yazalım.



$$4 + 4 + 4 + 4 = 16 \text{ cm}$$

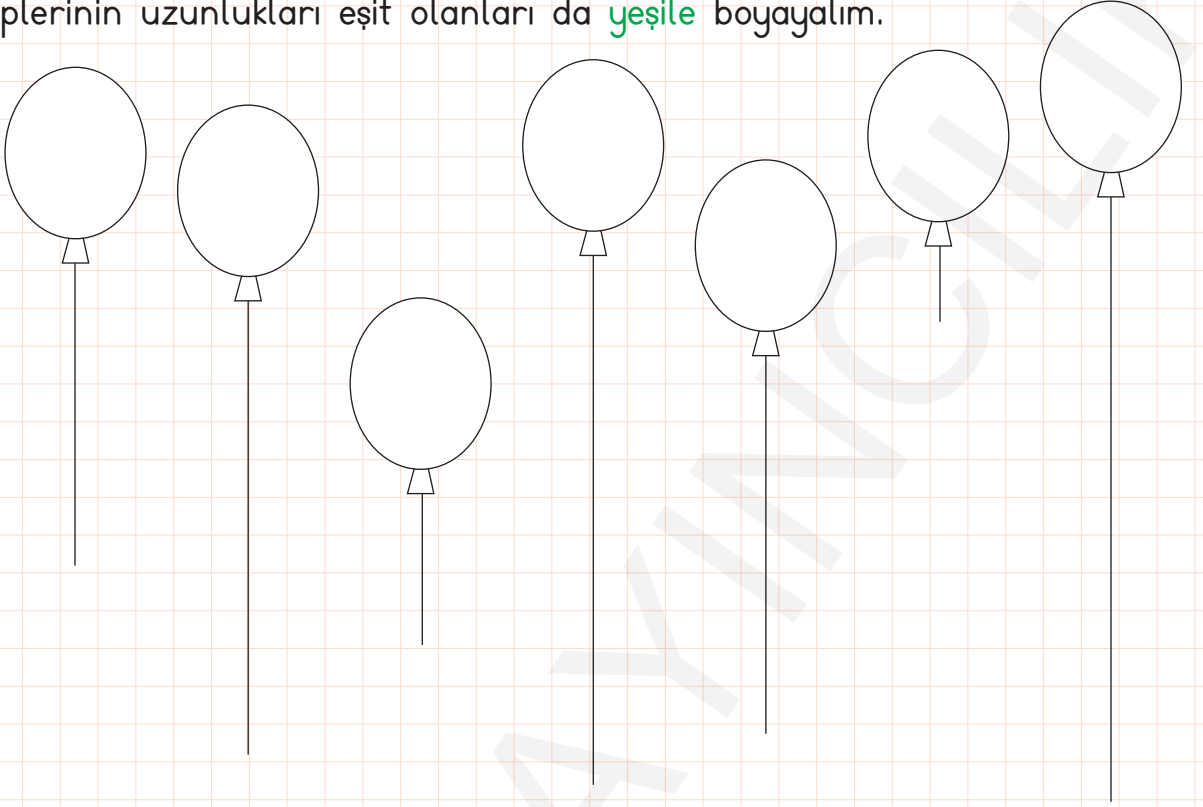


2. 10 cm uzunluğunda kağıt şeritler hazırlayalım. Aşağıdaki nesnelerin uzunluklarını bu kağıt şeritlerle ölçerek tabloyu dolduralım.

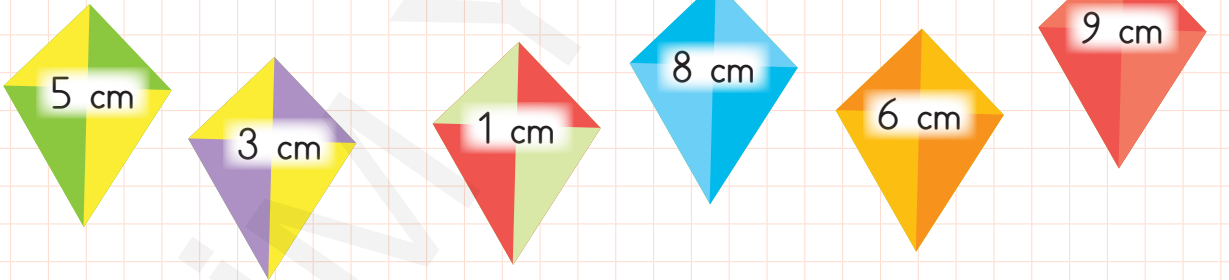
Nesne	Ölçüm
Kitap	
Masa	
Terlik	

Şerit	Ölçüm
Koltuk	
Çanta	
Pantolon	

3. Aşağıdaki balonların iplerini cetvel yardımı ile ölçelim ve sonuçları balonlara yazalım. İpi en uzun olan balonu **kırmızıya**, en kısa olanı **maviye**, iplerinin uzunlukları eşit olanları da **yeşile** boyayalım.



4. Aşağıdaki uçurtmalara üstlerinde yazan uzunlukta ipler çizelim.



Ad-Soyad:

No:

1. Doğal afetler can ve mal kaybına sebep olabilen doğa olaylarıdır. Aşağıdaki verilenlerden doğal afet olanları işaretleyelim.

Sel

Aşırı sıcaklık

Hortum

Deprem

Heyelan

Yağmur

Fırtına

Çiğ

2. Aşağıdaki doğal afetler ile anlamlarını eşleştirelim.

Sel

Dağın bir bölgesinden kopup yuvarlanan kar kümesidir.

Heyelan

Yağmur suları, eriyen kar sularının etkisiyle toprağın kayarak sürüklenmesidir.

Fırtına

Yağmur getiren ve kasırgaya dönüşebilecek olan çok güçlü rüzgârdır.

Deprem

Dondurma külâhı gibi yükseldikçe genişleyen güçlü bir rüzgar türüdür.

Hortum

Yer kabuğunun ani ve şiddetli sallanmasıdır.

Çiğ

Sürekli yağan yağmurdan, eriyen karlardan oluşan, geçtiği yerlere zarar veren taşkın su.

3. Ülkemizde en çok görülen doğal afetleri işaretleyelim.

- | | |
|----------------------------------|---|
| <input type="checkbox"/> Tsunami | <input type="checkbox"/> Deprem |
| <input type="checkbox"/> Sel | <input type="checkbox"/> Heyelan |
| <input type="checkbox"/> Hortum | <input type="checkbox"/> Yanardağ Patlaması |

4. Aşağıda verilenlerden depremin yol açabileceği zararları işaretleyelim.

- Sağlam yapılmamış binalar yıkılır.
- Evlerin çatıları uçar.
- Tarla ve bahçeler sular altında kalır.
- İnsanlar ve hayvanlar yıkıntılar altında kalır.

5. Depremin zararlarının azaltılması için yapılması gerekenleri işaretleyelim.

- Bina, köprü ve yolları sağlam yapmalıyız.
- Ağaçlandırma çalışmaları yapmalıyız.
- Eşyaları duvara sabitlemeliyiz.
- Depremin şiddetli olabileceği yerlere az katlı binalar yapmalıyız.

6. Deprem öncesi yapılması gerekenleri işaretleyelim.

- Evlerimizi sert zeminli ya da kayalık yerlere inşa etmek.
- Deprem çantası hazırlamak.
- Kullanmadığımız zamanlarda elektrik sigortasını ve su vanasını kapalı tutmak.

7. Deprem sırasında yapılması gerekenleri işaretleyelim.

- Merdivenler yerine asansörü kullanmak.
- Sakin olup, sağa sola koşmamak.
- Güvenli bir yerde durup, sarsıntının bitmesini beklemek.

8. Deprem sonrasında yapılması gerekenleri işaretleyelim.

- Hasarlı binalara girmemek.
- Enkaz altında isek, sessizce ekiplerin gelmesini beklemek.
- Önceden hazırladığımız deprem çantasıyla binayı hızlıca terk etmek.
- Depremden zarar görenler için Kızılay, AFAD gibi kurumlardan yardım istemek.