

1. SINIF

ELİT TÜRKÇE DİL BİLGİSİ

HAFTA HAFTA
(Toplam 36 Hafta)

Kazanım Odaklı

Özel Hazırlanmış Metinler

Dil Bilgisi Çalışmaları

Yeni Nesil Hazırlık

Yeni Nesil Sorular

Çek Koparlı

Akıllı Tahta Uyumlu

Kodlama Destekli Çalışmalar

yayıncılığa
elit bir
dokunuş

elit
ÇOCUK



Sokaktaki Dostlarımıza İyi Bakalım

Deniz'in bize bir mesajı var:

"Ben her kış apartman kapısını açarım. Sokaktaki kedileri ve köpekleri dışarıda üşümesinler diye içeri alırım. Yazın ise her zaman kapının dışına sokakta yaşayan kediler ve köpekler için bir kap mama için de su koyarım. Kuşlar için de pençerenin kenarına su koyarım. Çünkü kediler, köpekler, kuşlar yaz sıcaklığında su bulmakta zorlanırlar.

Yağmurlu günlerde yürüyüş yaparken yollarda çok fazla salyangoz olur. Yürürken yolumuza çıkan salyangozları da alıp kenara koymayı unutmamalıyız. Çünkü çoğu insan onlara dikkat etmeyip üstüne basıyor.

Sokakta yaşayan küçük dostlarımızı her zaman düşünmeliyiz. Eğer biz onlara su ve mama vermezsek aç ve susuz kalırlar."

Yukarıda verilen metne göre soruları cevaplayalım.

1 Deniz kışın apartman kapısını neden açıyor?

2 Deniz yazın neden kapının dışına su ve mama bırakıyor?

3 Neden sokaktaki dostlarımızı düşünmeliyiz?



Yukarıdaki görsele göre aşağıdaki soruları cevaplayınız

Soldaki sepetin içinde ne var?

Gözlüklü çocuğun önünde hangi meyveler var?

Beyaz gövdeli ağaçta hangi hayvan vardır?

Görselde bulunan hayvanların adlarını yazınız.

Elinde sepet olan çocuğun kıyafeti hangi renktir?

1. SINIF
T Ü R K Ç E**Karışık Kelimelerle**
Anamlı Cümle Yazıyorum

1. Kutucuklardaki kelimelerin yerleri karışmış. Kelimelerin yerlerini değiştirerek anlamlı cümleler yazalım. Doğru yazdığımız cümlenin yanındaki yıldızı boyayalım.


	düştü köpek suya

	ablam pembe almış ayakkabı

	yapar anılar bal

	çok yedi şeker Bade


	düştü elimden bardak

	topladım kırmızı çiçek bahçeden

2. Anlamlı ve kurallı yazdığımız cümlenin başındaki çiçeği turuncuya boyayalım.




anlattı bize teyzem masal




tuttu çok babam balık




çıkmam atkımı dışarı takmadan



süt her sabah içerim



bahçede oynuyor çocuklar top



iki elma aldım kilo

Karşılıklı verilen görseller arasındaki ilişkiyi bir cümle ile yazalım.



Arılar çiçeklerden bal toplar.



.....



.....



.....



.....



.....



.....





Ahmet, Serap, Pelin, Kenan, Yasemin ve Tolga bir oyun oynuyorlar. Çocuklar isimlerinin ilk harfiyle başlayan kelimeler söylüyorlar. Yapılan açıklamalara dikkat ederek bulutların içinden uygun kelimeyi seçip yazalım.

A

- ahtapot
- aslan
- ayı

K

- kavun
- kereviz
- kiraz

P

- pasta
- pilav
- pastırma

S

- soğan
- sarımsak
- sümbül

T

- terlik
- televizyon
- tabak

Y

- yastık
- yorgan
- yatak

**Ahmet**

"A" harfiyle başlar ve suda yaşar.

.....

**Pelin**

"P" harfiyle başlar ve tatlıdır.

.....

**Tolga**

"T" harfiyle başlar ve mutfak eşyasıdır.

.....

**Yasemin**

"Y" harfiyle başlar ve uyurken örtünürüz.

.....

**Kenan**

"K" harfiyle başlayan bir sebzedir.

.....

**Serap**

"S" harfiyle başlayan bir çiçek adıdır.

.....

Görseli Hangisi

Verilen cümleleri okuyarak cümleye ait görseli örnekteki gibi eşleştirelim.

Benim babam şoför.



Kitap okumayı seviyorum.



Annem bana tablet aldı.



Ceylin ile bisiklet sürdük.



Maçta üç gol attık.



Fidan dikmek önemlidir.



1 ELIT MATEMATİK

Beceri Temelli Yeni Nesil Sorular

○ Aşama
○ Aşama

🕒 Resfebe
Destekli

□ Kodlama
Destekli

📌 Kazanım
Odaklı

▶ Tamamı Video
Çözümlü

△ Çek
Kopar

★ Akıllı Tahta
Uygulaması



yayıncılığa
elit bir
dokunuş

elit
ÇOCUK

- Aşağıdaki çıkarma işlemlerini zihinden yapıp karşlarına yazalım. Kalplerin içinde verilen sonuçları bulup boyayalım.

1. 12 sayısının 5 eksiği kaçtır?

2. 10 boncuğun 2 eksiği kaçtır?

3. 9 yumurtanın 4 tanesi kırıldı. Sağlam yumurtalar kaç tanedir?



4. 8 cevizin 5 tanesini yedim. Kaç cevizim kaldı?

5. 16 sayfalık kitabın 7 sayfasını okudum. Geriye okunacak kaç sayfa kaldı?

6. Ablam 11 yaşında, ben 7 yaşındayım. Ablam ile aramızdaki yaş farkı kaçtır?

7. 15 liranın 4 lirasını harcarsam geriye kaç liram kalır?

8. Otobüste 18 yolcu vardı. İlk durakta 2 yolcu indi. Otobüste kaç yolcu kaldı?



- Aşağıdaki problemleri zihinden çözüp cevabını yazalım. Cevabın bulunduğu kutucuğu boyayalım.

1.	Mert 17 yaşındadır. Kardeşi ise Mert'ten 6 yaş küçüktür. Mert'in kardeşi kaç yaşındadır?
-----------	--	-------

2.	Kümeden 12 yumurta aldım. 5 tanesi ile omlet yaptık. Kaç yumurtamız kaldı?
-----------	--	-------

3.	Doğum günü pastama 8 tane mum diktik. Üfle-diğimde 5 mum söndü. Sönmeyen kaç mum kaldı?
-----------	---	-------

4.	Bahçemizde 13 tane elma ağacı var. Bu yaz 4 ağaç kurudu. Bahçemizde kaç tane elma ağacı kaldı?
-----------	--	-------

5.	Okul servisinde 10 öğrenci vardı. 6 öğrenci ev-lerinde indi. Serviste kaç öğrenci kaldı?
-----------	--	-------

3

8

11

4

9

7

6. Apartmanımızın otoparkında 9 tane araba var. Sabah 3 tanesi otoparktan ayrıldı. Otoparkta kaç araba kaldı?

.....

7. Sınıfımızın mevcudu 18 kişidir. Bugün 4 öğrenci gelmedi. Bugün sınıfımızda kaç öğrenci vardır?

.....

8. Ezgi sınıfımızı süslemek için 13 bayrak getirdi. Bayrakların 6 tanesini camlara astık. Geriye kaç bayrak kaldı?

.....

9. Mehmet 16 sayfalık kitabının 7 sayfasını okudu. Mehmet'in okumadığı kaç sayfa kaldı?

.....

10. Doruk'un 15 lirası vardı. 4 lirası ile simit aldı. Doruk'un ne kadar parası kalmıştır?

.....

14

6






11

4

9

7

- Aşağıdaki problemleri zihinden çözüp cevabı yazalım. Cevabın yazılı olduğu balonu sorunun çiçeği ile aynı renge boyayalım.

	Ağaçta 13 kuş var. 5 kuş daha dala kondu. Dalda toplam kaç kuş oldu?
	Pazardan 16 tane muz aldık. 4 tanesini yedik. Geriye kaç tane muz kaldı?
	Ben 8, kardeşim 3 yaşındadır. Kardeşim ile benim yaşlarımızın toplamı kaçtır?
	Marketteki 20 karpuzun 6 tanesi bugün satıldı. Markette kaç tane karpuz kaldı?
	Annem tabağa 8 tane mandalina, 7 tane erik koymuş. Meyve tabağında toplam kaç meyve var?

12

15

10

18

11

14



- Aşağıdaki soruları görsele göre zihinden çözüp cevabı karşılalarına yazalım.

1. İneklerin ve koyunların sayıları toplamı kaçtır?

2. Tavuklar, ineklerden kaç fazladır?

3. Toplam kaç hayvan vardır?

4. Tavukların hepsi kaçarsa geriye kaç hayvan kalır?

5. Dört ayaklı hayvanların toplamı kaçtır?

6. Tavukların ayakları toplamı kaçtır?

7. İki ayaklı hayvanların toplamı kaçtır?

8. Koyunların ayakları toplamı kaçtır?

9. İki ayaklı hayvanların toplamı, dört ayaklı hayvanların toplamından kaç fazladır?

- Hüseyin amca tablodaki kutucukları kullanarak markete ulaşmak istiyor. Aşağıdaki soruların cevaplarının olduğu kutucukları boyayarak yardımcı olalım.



1. satır	1	7	16	8	20	6	13	11
2. satır	14	5	4	15	12	3	10	0
3. satır	3	8	7	6	1	5	19	15
4. satır	18	1	2	14	13	7	20	3
5. satır	12	6	20	3	18	2	7	1
6. satır	7	13	11	9	10	8	1	4
7. satır	20	11	9	2	3	15	5	8
8. satır	5	9	3	1	15	19	4	2



1. satır: 13 sayısının 2 eksiği kaçtır?
2. satır: 6'ya 4 eklersek kaç olur?
3. satır: 8 ile 3'ün farkı kaçtır?
4. satır: 9 sayısının 4 fazlası kaçtır?
5. satır: 20 sayısının 2 eksiği kaçtır?
6. satır: 7'ye 2 eklersek kaç olur?
7. satır: 10 ile 7'nin farkı kaçtır?
8. satır: 15 sayısının 4 fazlası kaçtır?

1.SINIF

HAYAT BİLGİSİ

Yeni Nesil Hazırlık

yayıncılığa
elit bir
dokunuş



Bilgi

Kutuları

Eğlenceli

Düşünme Etkinlikleri

Konu

Testleri

Etkinlik

Çalışmaları

Akıllı Tahta

Uygulaması

Hülya Vesile Aydın
Derya Çağırın



1. Aşağıdaki tabloyu doldurunuz.

Tarih	Yaşanan Olay Neydi?	Kutlanan Bayramın Adı Nedir?
19 Mayıs 1919		
23 Nisan 1920		
30 Ağustos 1922		
29 Ekim 1923		

2. Aşağıdaki cümlelerde boş bırakılan yerleri verilen sözcüklerin uygun olanlarıyla tamamlayınız.

vatandaşlık

önem

saygılı

ülkemizi






değerlerimize

- Cumhuriyeti korumak ve güçlendirmek görevidir.
- Millî bağlı kalmalıyız.
- İnsan hak ve hürriyetlerine olmalıyız.
- sevmeliyiz.
- Bilim ve sanata vermeliyiz.

2. Aşağıdaki cümleleri okuyunuz. Cümleleri doğru ya da yanlış olarak "X" ile işaretleyiniz.

Cümleler	D	Y
Dinî bayramlarda büyüklerimizi ziyarete gideriz.		
Bayramlarda evde sadece ailemizle otururuz.		
Millî bayramlardan önce temizlik yapılır.		
Millî bayramlarda cadde ve sokaklara bayraklar asılır.		
Ramazan ayında oruç tutulur, sonunda bayram yapılır..		
Dinî bayramlarda tatile gideriz.		
Dinî bayramlarda büyükler, küçüklere bayram harçlığı verir.		
Bayramda evimize gelen misafirlerimize kolonya, şeker ve tatlı ikram ederiz.		
Bayramlarda toplumca dayanışma içinde oluruz.		
Bütün dinî bayramlarda kurban kesilir.		
Millî bayramlarda folklor gösterileri yapılır.		
Dinî bayramlarda küsler barışır.		
Bayramlar sevgi, barış, hoşgörü ve coşku içerisinde kutlanır.		
Millî bayramlarda akrabalar ziyarete gidilir.		

1. Aşağıdaki hayvanların adlarını yazınız.



1. Aşağıdaki görselleri inceleyiniz. Çevremizde yaşayan hayvanların numaralarını tablodaki uygun alanlara yazınız.

1		Orkinos	2		Kanarya	3		Kara kaplumbağası
4		Yılan	5		Çekirge	6		Keklik
7		Serçe	8		Uğur böceği	9		İnek
10		Güvercin	11		Karıncı	12		Sardalya
13		Kalamar	14		Karasinek	15		Karga
16		Tavuk	17		Solucan	18		Kedi

Böcekler	
Evcil Hayvanlar	
Balıklar	
Sürüngenler	