

Ad-Soyad:

No:

Okuma Anlama



YAVRU KEDİ

O gün okuldan geldiğinde Kerem bir ses işitti. Tam apartmanın önüne geldiğinde, aynı sesi bir daha duydu. Yardıma ihtiyacı olan bir kedinin sesi idi bu. Yavrusu apartmanın bodrum katının havalandırmasından içeri düşmüş, çıkamıyordu. Anne kedi, yavrusunu kurtarmak için çarpınıp duruyordu. Kerem önce ne yapacağını, nasıl yardım edebileceğini bilemedi. Sonra aklına büyüklerine haber vermek geldi.

Zile uzun uzun bastı. Apartman görevlisi Veli amca pencereden baktığında, ona telaşla kedilerin yardıma ihtiyacı olduğunu söyledi. Veli amca bodrum katın anahtarını alıp geldiğinde, Kerem kapının önünde sabırsızlıkla bir o tarafa, bir bu tarafa gezinip duruyordu. Kapıyı açıp yavru kediyi kucaklarına aldılar ve annesinin yanına götürdüler. Anne ve yavru kedinin sevinci görülmeye değerdi. Birbirlerine sokulmuş, Kerem'e ve Veli amcaya teşekkür eden gözlerle bakıyorlardı.



Kerem evine gittiğinde annesi ona niye geç kaldığını sordu. Kerem de başından geçenleri annesine bir bir anlattı. Annesi Kerem'in başını şefkatle okşadı. Böyle bir çocuk olduğu için gurur duyduğunu söyledi. Kerem çok güzel bir iş yapmıştı.

İlk dört soruyu metne göre cevaplayalım.

1. Kerem anne kedinin sesini ne zaman duymuş?

.....

2. Kerem kedilere nasıl yardım etmiş?

.....

3. Kerem evine döndüğünde annesi Kerem'e ne sormuş?

.....

4. Kerem'in yaptıklarını duyan annesi neden Kerem'le gurur duyduğunu söylemiş?

.....

5. Kerem'in yerinde siz olsaydınız nasıl davranırdınız? Aşağıya yazalım.

.....

6. Aşağıdaki cümlelerden, metne göre doğru olanlar için "D" kutucuğunu, yanlış olanlar için "Y" kutucuğunu boyayalım.

Kerem okula giderken yardıma ihtiyacı olan kedileri gördü.	D	Y
Kedinin yavrusu apartmanın bodrum katından çıkamıyordu.	D	Y
Kerem, yavru kedi ve annesine yardım edebilmek için büyüklerine haber verdi.	D	Y
Annesi eve geç kaldığı için Kerem'e çok kızdı.	D	Y
Kerem'in yaptığı iyilikten dolayı, annesi Kerem'le gurur duydu.	D	Y

7. Aşağıda metinde geçen bazı ifadeler verilmiştir. Sözcükleri alfabetik olarak sıralayalım ve cümle içinde kullanalım.

şefkat

ihtiyaç

sabırsız

bodrum

1. :

2. :

3. :

4. :

Ad-Soyad:

No:



1. Herkez bir şeylerden söz ediyor.

Yukarıdaki cümlede yanlış yazılmış sözcük aşağıdakilerden hangisidir?

- A) Herkez
B) Bir şey
C) söz ediyor

2. Aşağıda verilen sözcüklerden hangisinin yazımı doğrudur?

A) Bisküvü



B) Pembe



C) Şemşiye



3. Aşağıdaki cümlelerin hangisinde yazım yanlışı yapılmamıştır?

- A) İstanbul'da kuzenlerim var.
B) ahmet ilkokula gidemedi.
C) Tiren buraya uğramayacakmış.

4. Yazılıda yalnızlar doğruları götürüyormuş.

Yukarıdaki cümlede hangi sözcüğün yazımında yanlışlık yapılmıştır?

- A) Yazılıda
B) Yalnızlar
C) Doğruları

5. Aşağıda verilen sözcüklerden hangisinin yazımı yanlıştır?

A) Şevkat



B) Hoparlör



C) Kibrit



6. "valeybol" sözcüğündeki yazım yanlışlığı hangisi ile düzeltilir?

- A) "a" harfi yerine "o" harfi yazılarak
B) "y" harfi silinerek
C) "o" harfi yerine "a" harfi yazılarak

7. "Özel yer isimleri, mahalle, sokak, cadde isimleri büyük harfle başlar."

Yukarıdaki bilgiye göre aşağıdakilerden hangisi yanlış yazılmıştır?

- A) Kuşcağz Mahallesi
- B) Eşref Hoca Caddesi
- C) Güler sokak

- 8.
- | | |
|-----------|--------------|
| 1. sıcak | 2. sağıat |
| 3. buyday | 4. hissetmek |
| 5. spor | 6. tren |

Yukarıda numaralandırılmış sözcüklerden hangileri yanlış yazılmıştır?

- A) 2 - 3
- B) 4 - 5
- C) 1 - 6

9. Bu akşam istanbula gidiyorum.

Yukarıdaki cümledeki yazım yanlışı aşağıdaki seçeneklerin hangisiyle düzeltilebilir?

- A) "akşam" sözcüğünün ilk harfi büyük yazılmalı
- B) "istanbula" sözcüğü "İstanbul'a" biçiminde yazılmalı
- C) "gidiyorum" sözcüğü "gitmeliyim" şeklinde yazılmalı

Hakim Yayıncılık

10.



Yukarıda verilen sözcüklerden hangileri her zaman büyük harfle başlar?

- A) , ,
- B) , ,
- C) , ,

Ad-Soyad:

No:

1. Aşağıdakilerden hangisi kurallı bir cümle değildir?

- A) Kim top oynuyor?
- B) Sesini duymak istemiyorum.
- C) Almamış bana hediye.

2. "Yaramaz" sözcüğünün zıt anlamlısı aşağıdakilerden hangisidir?

- A) Kızgın
- B) Yumurcak
- C) Uslu

3. Aşağıdaki sözcüklerden hangisinin eş anlamlısı yoktur?

- A) Kara
- B) Pembe
- C) Beyaz

4. Aşağıdaki cümlelerin hangisinde büyük harflerin kullanımı ile ilgili bir yanlışlık yapılmıştır?

- A) 29 Mayıs 1453'te İstanbul fethedildi.
- B) Kaybolan çocuk Çamaltı sokakta oturduğunu söylüyor.
- C) Ankara'dan İstanbul'a beş saatte gittik.

5. Aşağıdaki sözcüklerden hangisi hecelerine yanlış ayrılmıştır?

- A) A - ba - küs
- B) Tür - ki - ye
- C) Tar - if - ler

6. İki heceden oluşan sözcükler hangi seçenekte doğru olarak verilmiştir?

- A) Pembe - kurt
- B) Sarı - lale
- C) Siyah - süt

7. Aşağıdaki cümlelerin hangisinin sonuna soru işareti gelmez?

- A) Aslı uçurtma aldın mı ()
 B) Yemek yemeyecek misin ()
 C) Çok üzgün olduğum için ağladım ()

8. Aşağıdakilerden hangisi beş sözcükten oluşan bir cümledir?

- A) Ne zaman yazı yazmayı bırakacaksın?
 B) Mavi balonum patlamış.
 C) Sürekli soru soruyor.

9. "Kapalı-açık" sözcükleri arasındaki anlam ilişkisi aşağıdakilerden hangisinde yoktur?

- A) Sade - temiz
 B) Sıcak - soğuk
 C) Kısa - uzun

10. Aşağıdaki sözcüklerden hangisi sözlük sırasına göre en sondadır?

- A) Asma
 B) Çınar
 C) Gürgen

11. Aşağıdaki sözcüklerden hangisi cümle başında olmadığı zamanlarda büyük harfle yazılmaz?

- A) İstanbul
 B) Kızgın
 C) Ayşe

12. Dışım yeşil, içim kırmızı, çekirdeklerim siyah, dilim dilim dilimlenirim, yazın herkesi serinletirim.

diyene meyve aşağıdakilerden hangisidir?

- A)  B)  C) 

Ad-Soyad:

No:



1. 1 kuş 2 kafeste
3 yeşil 4 sürekli
5 ötüyor

Yukarıdaki sözcüklerle anlamlı ve kurallı bir cümle oluşturduğunda sözcük sıralaması aşağıdakilerden hangisi olur?

- A) 5 - 2 - 3 - 1 - 4
 B) 4 - 3 - 2 - 5 - 1
 C) 3 - 1 - 2 - 4 - 5

2. Okuldan eve erken

Yukarıdaki cümlede noktalı yere aşağıdakilerden hangisi gelemez?

- A) döndü. B) geldi.
 C) oynadı.

3. Ben 26 haziran 2012de doğdum.

Yukarıda yazım yanlışı yapılmış olan cümle aşağıdakilerden hangisinde doğru yazılmıştır?

- A) Ben 26 haziran ikibinoniki de doğdum.
 B) Ben yirmialtı haziran 2012'de doğdum.
 C) Ben 26 Haziran 2012'de doğdum.

4. Aşağıdaki seçeneklerden hangisi sözcükleri sözlük sıralamasına göre sıralarsak doğru olur?

- A) Aydın - Ayna - Aba
 B) Balık - Bal - Balkon
 C) Ceyhan - Ceylan - Ceylin

5. Ay, parmağım çok acıdı ()

Yukarıdaki cümlede cümle sonuna hangi noktalama işareti getirilmiştir?

- A) Tırnak işareti
- B) Ünlem işareti
- C) Nokta

6. "Hızlı" sözcüğünün eş anlamlısı aşağıdakilerden hangisidir?

- A) Yavaş
- B) Süratli
- C) Sakin

7. ● Açmak
▲ İyileşmek
■ Kapamak
★ Susmak

Yukarıdaki sözcüklerden hangileri birbirleriyle zıt anlamlıdır?

- A) ● - ■
- B) ■ - ▲
- C) ● - ★

8. Yer isimleri her zaman büyük harfle başlar.

Aşağıdaki seçeneklerden hangisinde bu kurala uyulmamıştır?

- A) Bence abant dünyanın en güzel gölüdür.
- B) Bolu'da Yedi Göller vardır.
- C) Babam bizi Karabük'e götürdü.

9.

tarak

çocuk

eline

almış

Yukarıda verilen sözcüklerle anlamlı ve kurallı bir cümle kurulursa, doğru cümle hangisi olur?

- A) Çocuk tarak almış eline.
- B) Eline tarak almış çocuk.
- C) Çocuk eline tarak almış.

Ad-Soyad:

No:



1. Ali tahtanın uzunluğunu 4 kulaç, duvarın uzunluğunu 9 kulaç ölçmüştür. Duvarın uzunluğu, tahtanın uzunluğundan kaç kulaç fazladır?

2. Ayşe'nin sırasının kısa kenarı 12 silgi boyundadır. Sıranın uzun kenarının uzunluğu, kısa kenarından 19 silgi boyu fazladır. Sıranın kısa ve uzun kenarının toplamı kaçtır?

3. Meryem televizyonun uzunluğunu ölçmek için 5 santimetrelilik şeritler hazırlamıştır. Meryem, televizyonun boyunu 10 şeritle ölçebildiğine göre, televizyon kaç cm'dir?

4.



Ceyda makasının uzunluğunu ataşlarla, çantasının boyunu makaslarla ölçmüştür. Çantasını 3 makas boyunda ölçen Ceyda, çantasını ölçmek için ataş kullanmak isterse, kaç ataşa ihtiyacı olur?

5. Odamızdaki aynanın boyu 4 karıştır. Bir karışımın uzunluğu 9 cm olduğuna göre aynanın boyu kaç cm'dir?

6. Banu 98 cm boyundadır. Berk Banu'dan 29 cm kısadır. Berk kaç cm boyundadır?

7. Necip ekmek almak için bakkala gidecektir. Necip, evden çıkıp 18 metre yürüdüktan sonra biraz dinlenmiş, sonra 15 metre daha yürümüştür. Bakkal ile evin arası 53 metre olduğuna göre, Necip'in bakkala gidebilmesi için kaç metre daha yürümesi gerekir?

8. Esin'in kırmızı kalemı 17 cm uzunluğundadır. Mavi kalemı kırmızı kaleminden 5 cm kısadır. Yeşil kalemı de mavi kaleminden 3 cm kısadır. Yeşil kalemın uzunluğu kaç cm'dir?

9. 

Yukarıdaki üç kalemın uzunlukları toplamı kaçtır?

10. Derya'nın ayakkabısının uzunluğu 23 cm'dir. Ahmet'in ayakkabısının uzunluğu Derya'nın ayakkabısından 8 cm uzundur. Ahmet'in ayakkabısı kaç cm'dir?

11. Bir terzi elindeki 68 m kumaşın önce 27 metresini, sonra da 18 metresini kullanarak kıyafetler dikmiştir. Geriye kaç m kumaş kalmıştır?

12. Okulumuzun üst koridoru 14 m alt koridoru 16 m'dir. İki koridorun uzunluğu kaç metredir?

13. Yusuf'un yaptığı kule 51 cm, Ahmet'in yaptığı kule 70 cm uzunluğundadır. İkisinin kulelerinin uzunlukları arasındaki fark kaçtır?

Ad-Soyad:.....

No:.....




Matematik Çalışma Kağıdı

Uzunluk Ölçme İle İlgili Problemler - 2

1. Köpeğimin boyu 53 cm uzunluğundadır. Köpeğim en fazla 98 cm uzayabildiğine göre, köpeğim kaç cm daha uzayabilir?


4. Rukiye'nin çiçeği 31 cm, Gül'ün çiçeği 19 cm boyundadır. Rukiye'nin çiçeği, Gül'ün çiçeğinden kaç cm uzundur?

2. Arzu bir dakikada 24 m, Mehtap ise 33 m koşabiliyor. Mehtap bir dakikada Arzu'dan kaç metre fazla koşabiliyor?

5.  Yandaki tavşan her sıçrayışta 32 cm ilerliyor. Bu tavşan 3 sıçrayışta kaç cm uzağa gider?

3. Tuna'nın annesi 5. doğum gününde onun için bir fidan dikmiştir. Fidan her sene 7 cm uzamaktadır. Tuna 9 yaşına geldiğinde, fidan kaç cm uzunluğunda olur?



6.  Üç arkadaş ip atlamak için iplerini birleştiriyor. Üç ipin uzunluğu 95 cm oluyor. 2. ipin uzunluğu 28 cm, 3. ipin uzunluğu 43 cm ise, 1. ipin uzunluğu kaç cm'dir?

Ad-Soyad:

No:

1. Aşağıdaki cümleleri uygun ifadelerle tamamlayalım.

doğudan

batı

güneş

güney

dört

yönlerden

kuzey

➡ Nerede olduğumuzu bulmak veya aradığımız bir yeri bulmak için faydalanırız.

➡ tane ana yön vardır. Bunlar;,, doğu ve batıdır.

➡'in hareketlerine bakarak yönümüzü bulabiliriz.

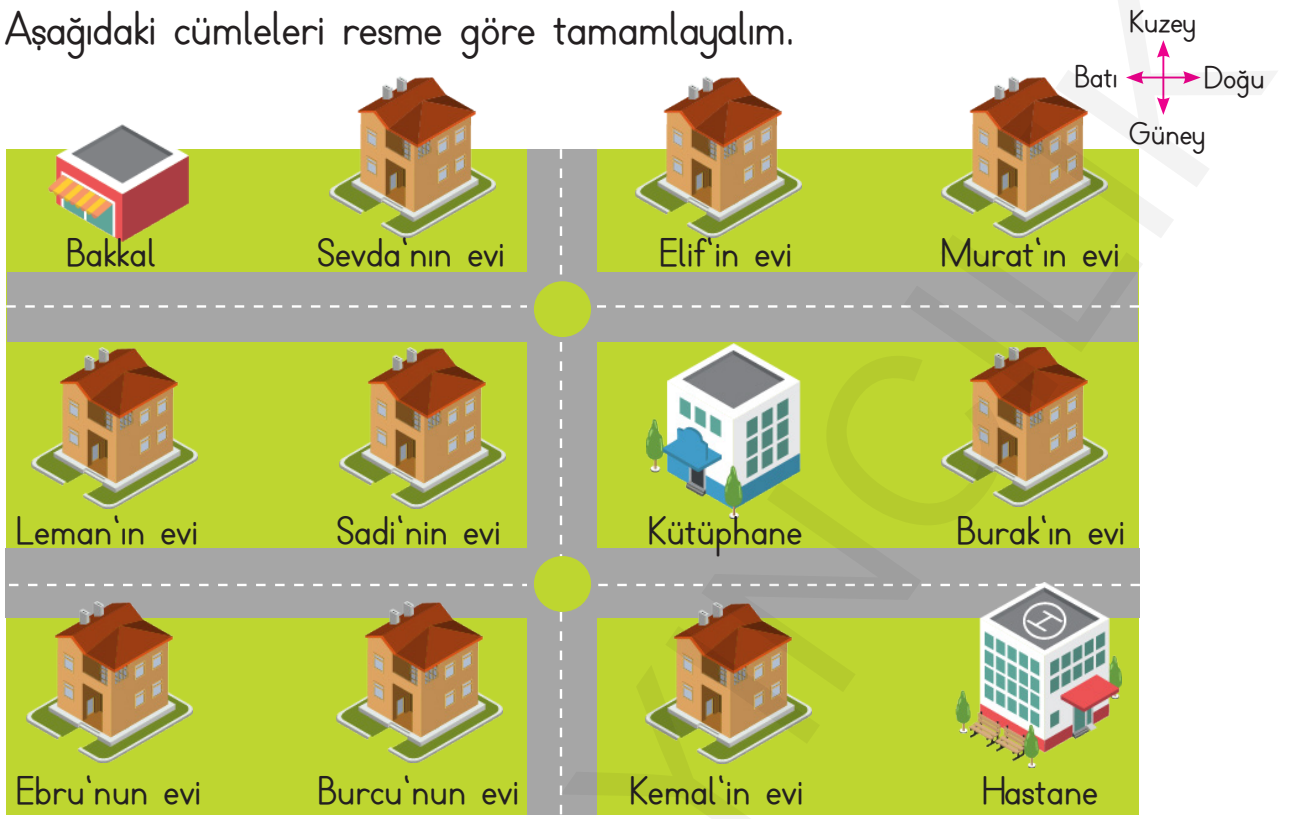
➡ Güneş doğar ve batıdan batar.

➡ Sabahleyin güneşi sağımıza aldığımızda solumuz olur.

2. Mehmet kamp alanında yönleri tespit etmek için sabah erkenden kalkmış, sağ kolunu güneşin olduğu tarafa gelecek şekilde açmıştır. Mehmet'e göre okların gösterdiği yönleri yazalım.



3. Aşağıdaki cümleleri resme göre tamamlayalım.



- a. Ebru'nun evinin kuzeyinde vardır.
- b. Kemal'in evinin doğusunda vardır.
- c. Sadi'nin evinin güneyinde vardır.
- ç. Kütüphane, Burak'ın evinin
- d. Sevda'nın evinin batısında vardır.
- e. Murat'ın evi, Elif'in evinin
- f. Hastane, Kemal'in evinin
- g. Kütüphanenin batısında evi, doğusunda evi vardır.
- h. Kütüphanenin güneyindeki ev, kuzeyindeki ev
- ı. Sadi'nin evi, Leman'ın evinin, kütüphanenin
- i. Sevda'nın evinin doğusunda evi, güneyinde evi vardır.
- j. Leman'ın evinin kuzeyinde, güneyinde evi vardır.