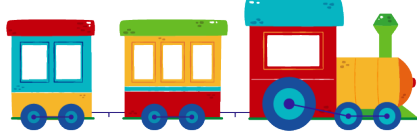


TÜRKÇE : Sözlük Sırası, Hece Bilgisi
MATEMATİK : İleriye ve Geriye Ritmik Sayma
HAYAT BİLGİSİ: Okula Hazırlanıyoruz, Görüşlerim Değerlidir

1



Görseli verilen aracın isminde aşağıdaki harflerden hangisi yoktur?

- A) n B) r C) i

2 Aşağıdaki sözcüklerden hangisinin hece sayısı diğerlerinden farklıdır?

- A) bilgisayar
 B) öğretmen
 C) çalışan

3 Aşağıdaki sözcüklerden hangisinde dört harfli bir hece vardır?

- A) hoşgörü
 B) cömert
 C) başkan

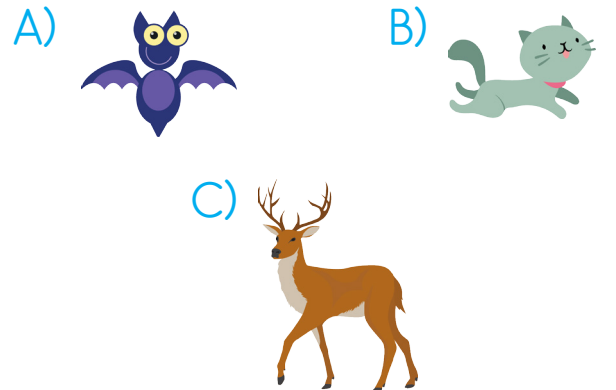
4

çömlekçi		kurbağa
	yoğurt	
baklavacı		imkansız

Yukarıdaki şekilde üç heceli olan sözcükler boyandığında boyanmamış kaç kutu kalır?

- A) 1 B) 2 C) 3

5 Aşağıdaki hayvanlardan hangisinin ismi sözlükte diğerlerinden sonra gelir?



6



Yukarıdaki sözcükler sözlük sırasına göre sıralandığında yıldızların renklerine göre dizilişi nasıl olur?

- A)
- B)
- C)

7

1.
2. çalışan
3. dernek
4.
5. hikâye

Yukarıdaki sözcükler alfabetik olarak sıralandığında noktalı yere hangi sözcük yazılamaz?

- A) balık
- B) çember
- C) garaj

8

Aşağıdaki sayılardan hangisinin basamak değerleri yanlış yazılmıştır?

- A)
- B)
- C)

9

6 birlik ve 9 onluktan oluşan sayının onlar basamağındaki sayının basamak değeri kaçtır?

- A) 60 B) 9 C) 90

10

Onlar Basamağı	Birler Basamağı
30	2

Tabloda basamak değerleri verilen sayı aşağıdakilerden hangisidir?

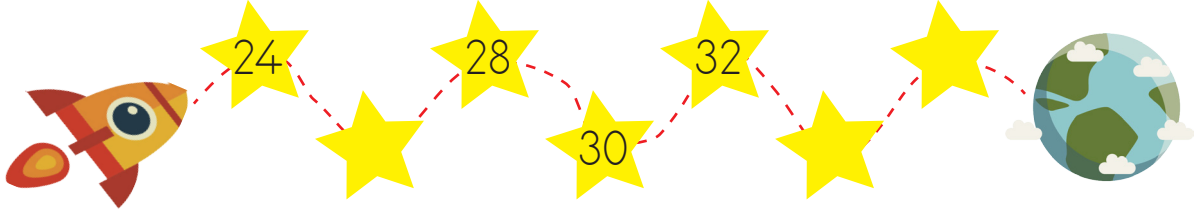
- A) 32 B) 33 C) 23

11

47 sayısının birler basamağındaki sayı "2" artırılırsa yeni sayı aşağıdakilerden hangisi olur?

- A) 27 B) 49 C) 67

12



Uzay aracı yıldızları ikişer ikişer sayarak dünyaya gidecektir. Ancak yıldızlardaki bazı sayılar eksiktir. Aşağıdakilerden hangisi bu eksik sayılardan biri değildir?

A) 26

B) 34

C) 38

13



33, _____, 12

Ayşe, 33'ten başlayıp 12'ye kadar (12 hariç) üçer ritmik sayma yaparken kaç sayı söylemiştir?

A) 4

B) 5

C) 7

14

12'den başlayıp ileriye dörder ritmik sayma yaparken aşağıdaki sayılardan hangisini söylemeyiz?

A) 20

B) 32

C) 38

16

Aşağıdaki öğrencilerden hangisi dörder ritmik sayma yaparken hata yapmıştır?

A)



20-24-26-30-34

B)



4 - 8 - 12 - 16 - 20

C)



32 - 28 - 24 - 20 - 16

15

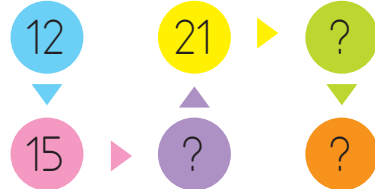
90'dan geriye (90 hariç) beşer ritmik sayma yaparken 9. saymada söylediğimiz sayı aşağıdakilerden hangisidir?

A) 45

B) 50

C) 55

17



Yukarıdaki ritmik saymada "?" olan yerlere hangi sayı yazılamaz?

A) 16

B) 24

C) 27



- 18
- | | |
|------------|-------------------|
| Salı | Akın'ın salı günü |
| Hayat Bil. | hangi araç gereci |
| Mat. | çantasına koyması |
| Mat. | <u>gerekmez?</u> |
| Türkçe | A) Flüt |
| Türkçe | B) Cetvel |
| Müzik | C) Fırça |

- 19
2. sınıf öğrencisi olan Ayşe, çarşamba günkü ders programına bakarak çantasına sadece ders kitaplarını ve boyalarını koymuştur. Buna göre, aşağıdakilerden hangisi Ayşe'nin cuma günkü derslerinden biri değildir?

- A) Matematik
B) Müzik
C) Görsel Sanatlar

- 20
- Aşağıdakilerden hangisi sınıfta uymamız gereken bir kural olamaz?
- A) Derse zamanında girip çıkmak
B) Ders sırasında sürekli ayakta beklemek
C) Sınıf eşyalarına zarar vermemek

- 21
- Aşağıdakilerden hangisi doğru bir davranıştır?



- 22
- Oy birliğiyle belirlenen sınıf kurallarıyla ilgili aşağıdaki bilgilerden hangisi doğrudur?

- A) Kurallara sadece o kurallara oy verenler uymalıdır.
B) Sınıf başkanları kurallara uymak zorunda değildir.
C) Kurallara uymak bütün öğrencilerin görevidir.