



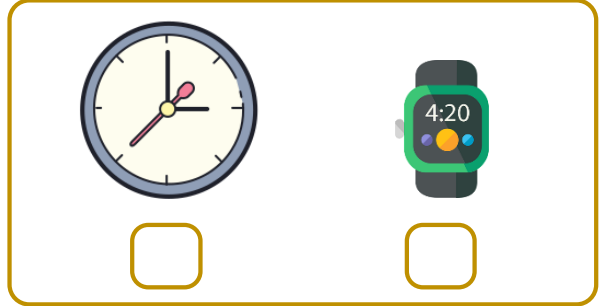


I. SINIF MATEMATİK

Tartma (Ağır-Hafif) - I






Adı Soyadı : Sınıfı : No :

★ Aşağıdaki görselleri öğrencimizle birlikte inceleyelim. Görsellerdeki varlık ikililerinden daha ağır olanın altındaki kutucuğu örnekteki gibi boyamasını isteyelim.



★ Aşağıdaki görselleri öğrencimizle birlikte inceleyelim. Görsellerdeki varlık ikililerinden daha hafif olanın altındaki kutucuğu boyamasını isteyelim.







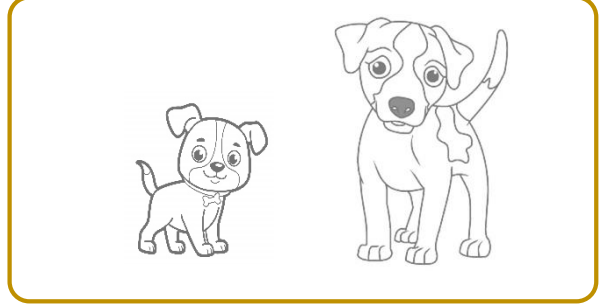

I. SINIF MATEMATİK

Tartma (Ağır-Hafif) - 2


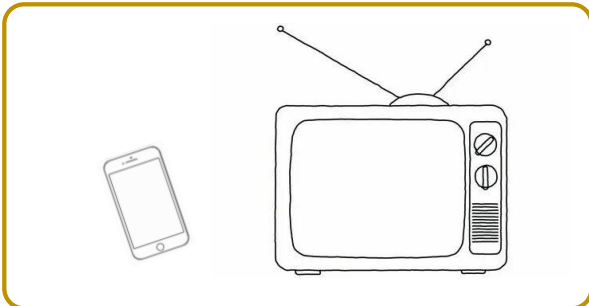




Adı Soyadı : Sınıfı : No :

★ Aşağıdaki görselleri öğrencimizle birlikte inceleyelim. Görsellerdeki varlık ikililerinden daha ağır olanı boyamasını isteyelim.



★ Aşağıdaki görselleri öğrencimizle birlikte inceleyelim. Görsellerdeki varlık ikililerinden daha hafif olanı boyamasını isteyelim.






I. SINIF MATEMATİK

Tartma (Ağır-Hafif) - 3



Adı Soyadı : Sınıfı : No :

★ Aşağıdaki görselleri öğrencimizle birlikte inceleyelim. Görsellerdeki varlıklardan **en ağır** olanın altındaki kutucuğu işaretlemesini isteyelim.




★ Aşağıdaki görselleri öğrencimizle birlikte inceleyelim. Görsellerdeki varlıklardan **en hafif** olanın altındaki kutucuğu işaretlemesini isteyelim.





Adı Soyadı : Sınıfı : No :

★ Aşağıdaki görselli öğrencimizle birlikte inceleyelim. Görseldeki kişilerin kimler olduğunu öğrencimize söyleyelim.



★ Aşağıdaki ifadeleri öğrencimize okuyalım. Doğru ifadelerin başındaki kutucuğu boyamasını isteyelim.

- Elanur'un ailesinde en ağır kişi babasıdır.
- Elanur'un ailesinde en hafif kişi Yunus Emre'dir.
- Elanur'un annesi, babasından daha hafiftir.
- Yunus Emre, annesinden daha ağırdır.
- Elanur'un ailesinde en hafif kişi Elanur'dur.
- Elanur, annesinden daha hafiftir.