



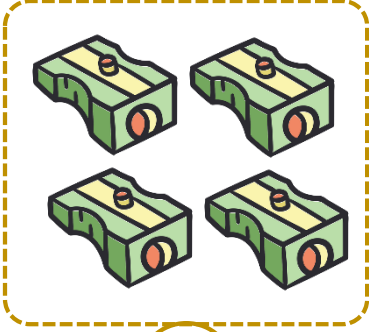
# I. SINIF MATEMATİK

## Sayıları Tanıyalım - I




Adı Soyadı : ..... Sınıfı : ..... No : .....

★ Aşağıdaki görselleri öğrencimizle birlikte inceleyelim. Öğrencimizden içinde 1 tane varlık olan kutucukları işaretlemesini isteyelim.



★ Öğrencimizden rakamı yazılış yönüne dikkat ederek yazmasını isteyelim.








# I. SINIF MATEMATİK

## Sayıları Tanıyalım - 2




Adı Soyadı : ..... Sınıfı : ..... No : .....

★ Öğrencimizden rakamı yazılış yönüne dikkat ederek yazmasını isteyelim.



★ Öğrencimizden aşağıdaki meyvelerden 1 tane olanı boyamasını isteyelim.








# I. SINIF MATEMATİK

## Sayıları Tanıyalım - 3

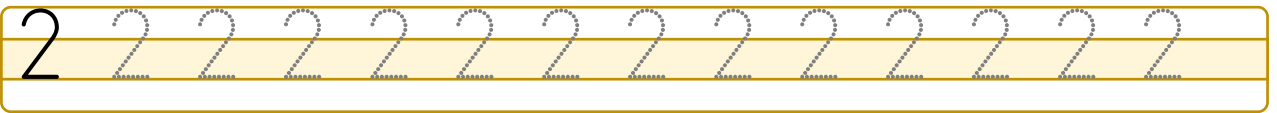
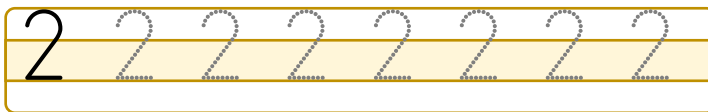
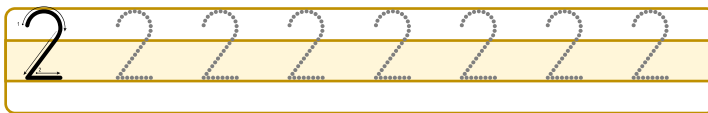


Adı Soyadı : ..... Sınıfı : ..... No : .....

★ Aşağıdaki görselleri öğrencimizle birlikte inceleyelim. Öğrencimizden içinde 2 tane varlık olan kutucukları işaretlemesini isteyelim.




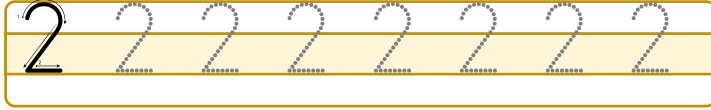
★ Öğrencimizden rakamı yazılış yönüne dikkat ederek yazmasını isteyelim.





Adı Soyadı : ..... Sınıfı : ..... No : .....

★ Öğrencimizden rakamı yazılış yönüne dikkat ederek yazmasını isteyelim.



★ Öğrencimizden aşağıdaki elmalardan 2 tanesini boyamasını isteyelim.







# I. SINIF MATEMATİK

## Sayıları Tanıyalım - 5

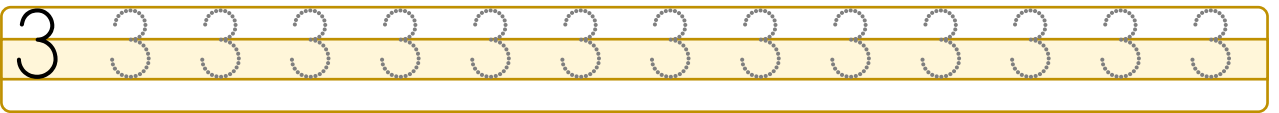
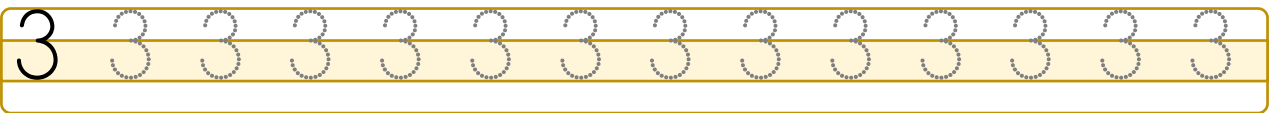
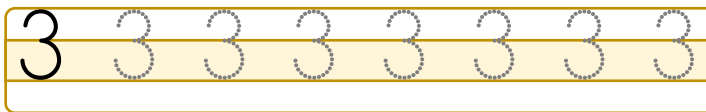
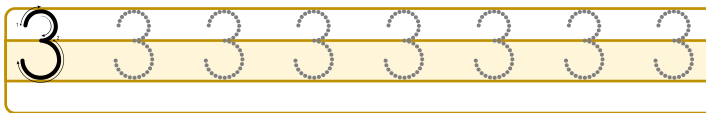


Adı Soyadı : ..... Sınıfı : ..... No : .....

★ Aşağıdaki görselleri öğrencimizle birlikte inceleyelim. Öğrencimizden içinde 3 tane varlık olan kutucukları işaretlemesini isteyelim.



★ Öğrencimizden rakamı yazılış yönüne dikkat ederek yazmasını isteyelim.





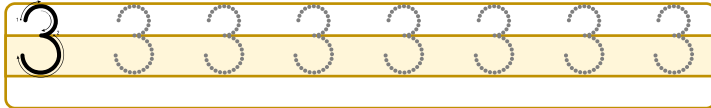
# I. SINIF MATEMATİK

## Sayıları Tanıyalım - 6




Adı Soyadı : ..... Sınıfı : ..... No : .....

★ Öğrencimizden rakamı yazılış yönüne dikkat ederek yazmasını isteyelim.



★ Öğrencimizden aşağıdaki armutlardan 3 tanesini boyamasını isteyelim.





# I. SINIF MATEMATİK

## Sayıları Tanıyalım - 7

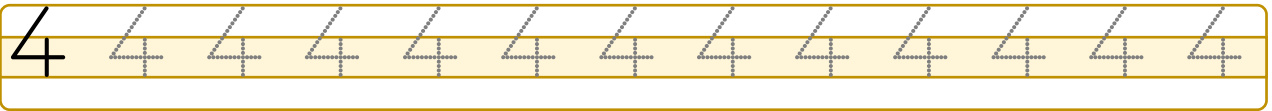
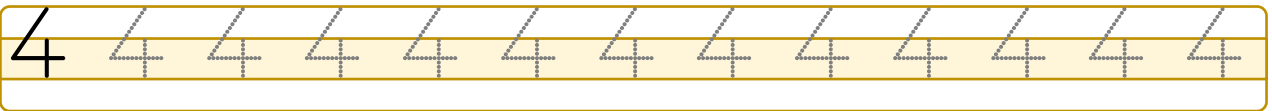
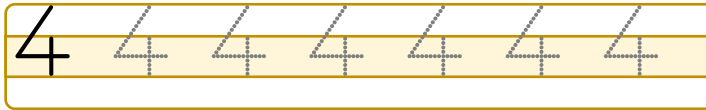
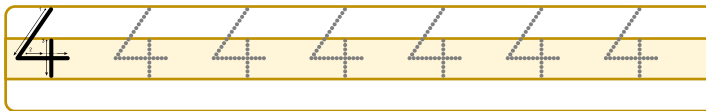



Adı Soyadı : ..... Sınıfı : ..... No : .....

★ Aşağıdaki görselleri öğrencimizle birlikte inceleyelim. Öğrencimizden içinde 4 tane varlık olan kutucukları işaretlemesini isteyelim.



★ Öğrencimizden rakamı yazılış yönüne dikkat ederek yazmasını isteyelim.





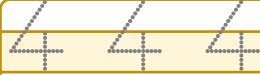
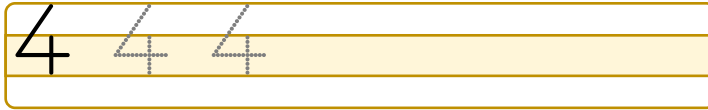
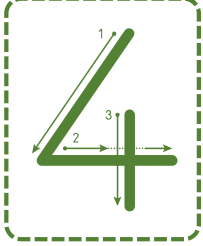
# I. SINIF MATEMATİK

## Sayıları Tanıyalım - 8



Adı Soyadı : ..... Sınıfı : ..... No : .....

★ Öğrencimizden rakamı yazılış yönüne dikkat ederek yazmasını isteyelim.



★ Öğrencimizden aşağıdaki ağaçlardan 4 tanesini yuvarlak içine almasını isteyelim.


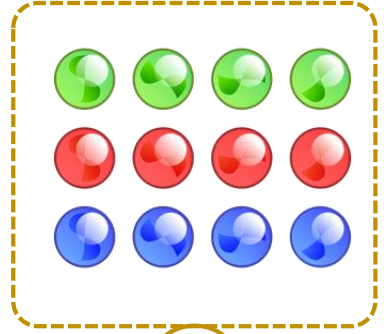






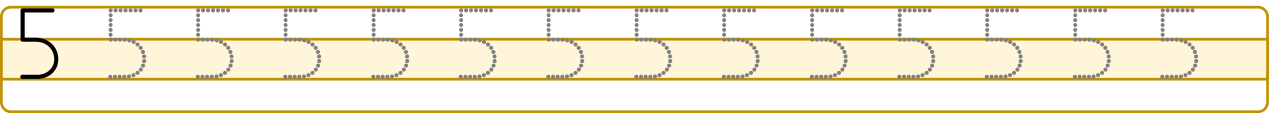
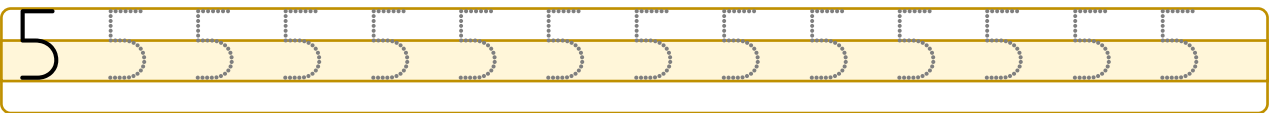
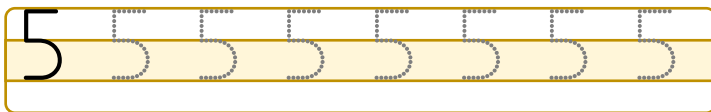
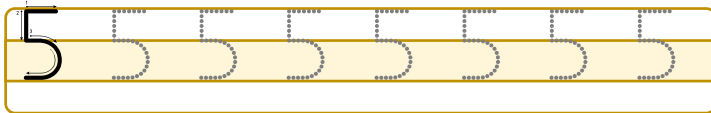



Adı Soyadı : ..... Sınıfı : ..... No : .....

★ Aşağıdaki görselleri öğrencimizle birlikte inceleyelim. Öğrencimizden içinde 5 tane varlık olan kutucukları işaretlemesini isteyelim.



★ Öğrencimizden rakamı yazılış yönüne dikkat ederek yazmasını isteyelim.





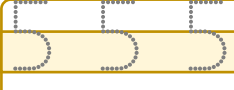

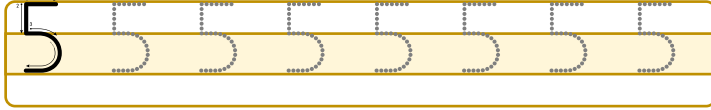

# I. SINIF MATEMATİK

## Sayıları Tanıyalım - 10



Adı Soyadı : ..... Sınıfı : ..... No : .....

★ Öğrencimizden rakamı yazılış yönüne dikkat ederek yazmasını isteyelim.



★ Öğrencimizden aşağıdaki çileklerden 5 tanesini boyamasını isteyelim.

