




I. SINIF MATEMATİK

Eşini Bulalım - I



Adı Soyadı : Sınıfı : No :

★ Aşağıdaki görselleri öğrencimizle birlikte inceleyelim. Görseldeki nesnelere eş olanları ok çizerek örnekteki gibi eşleştirmesini isteyelim.





I. SINIF MATEMATİK

Eşini Bulalım - 2



Adı Soyadı : Sınıfı : No :

★ Aşağıdaki çorap görsellerini öğrencimizle birlikte inceleyelim. Görsellerdeki çoraplardan eş olanları ok çizerek örnekteki gibi eşleştirmesini isteyelim.





I. SINIF MATEMATİK

Eşini Bulalım - 3



Adı Soyadı : Sınıfı : No :

★ Aşağıdaki okul araç gereçlerini öğrencimizle birlikte inceleyelim. Eş olanları aynı renge boyamasını isteyelim.







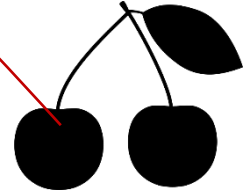


I. SINIF MATEMATİK

Eşini Bulalım - 4



Adı Soyadı : Sınıfı : No :

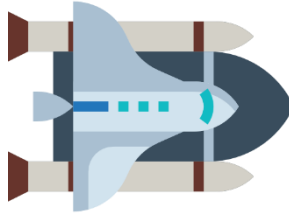


★ Aşağıdaki meyveleri öğrencimizle birlikte inceleyelim. Meyveleri gölgeleriyle örnekteki gibi eşleştirmesini isteyelim.





Adı Soyadı : Sınıfı : No :

★ Aşağıdaki görselleri öğrencimizle birlikte inceleyelim. Görsellerdeki varlıkların isimlerini söylemesini isteyelim.



★ Yönergeleri sıra ile okuyalım. Öğrencimizden yönergeleri yerine getirmesini isteyelim.

- 👉 Astronotun üstündeki uzay aracı ile eşini kırmızı boya kalemiyle yuvarlak içine alalım.
- 👉 Astronotun sağındaki uzay aracı ile eşini mavi boya kalemiyle yuvarlak içine alalım.
- 👉 Astronotun altındaki uzay aracı ile eşini yeşil boya kalemiyle yuvarlak içine alalım.
- 👉 Astronotun solundaki uzay aracı ile eşini pembe boya kalemiyle yuvarlak içine alalım.



I. SINIF MATEMATİK

Eşini Bulalım - 6



Adı Soyadı : Sınıfı : No :

★ Öğrencimizle birlikte evin içindeki varlık görsellerini inceleyelim.



★ Öğrencimizden aşağıdaki varlıkların eşlerinin evde buldukları yere göre uygun kutucuğu örnekteki gibi boyamasını isteyelim.

