

TÜRKÇE : Sözcük Bilgisi, Zıt Anımlı Sözcükler
MATEMATİK : Sayıları Karşılaştırma ve Sıralama
HAYAT BİLGİSİ: Özenli Kullanıyoruz, Birlikten Kuvvet Doğar

1 Aşağıda görselleri verilen varlıklardan hangisi iki heceden oluşmaktadır?



2

tek

ile

ben

veya

sırt

kek

Hangi renk kutularda yazılı sözcüklerin tek başına anlamı yoktur?



3 Yaramaz yengeç ve annesi kumsalda dinleniyorlardı.

Yukarıdaki cümlede altı çizili sözcüklerden hangisinin tek başına anlamı yoktur?

A) yaramaz

B) ve

C) annesi

4 Aşağıdakilerden hangisi tek başına anlamı olan bir sözcük değildir?

A) bal

B) sal

C) çünkü

5 Sen geldin...
Evimize neşe geldi,
Yüzlerimiz güldü,
Umutlarımız büyüdü.

Yukarıdaki şiir kaç sözcükten oluşmuştur?

A) 8

B) 9

C) 10

6 Aşağıdaki cümlelerden hangisinde "sığ" sözcüğünün zıt anlamlısı kullanılmıştır?

- A) Göçmen kuşlar sıcak ülkelere gitti.
- B) Ahtapotlar denizin derinliklerinde yaşarlar.
- C) Ali'nin topu masanın arkasına kaçtı.

7

bayat


Aşağıdaki cümlelerden hangisi yukarıdaki sözcüğün zıt anlamlısıyla kurulmuştur?

- A) Aldığım taze ekmeklerin hepsini yediler.
- B) Çürük elmaları çöpe attım.
- C) Sorunun çözümünü bulana kadar uyumadı.

8 "yüksek" kelimesinin zıt anlamlısı aşağıdakilerden hangisidir?

- A) doğru
- B) aşağı
- C) alçak

9



Tahtada yazılı olan sayılardan 35'ten büyük kaç sayı vardır?

- A) 3
- B) 4
- C) 5

10




Ortada yazılı olan sayıdan bir önce ve bir sonra gelen sayılar hangisinde verilmiştir?

- A) 71 - 76
- B) 73 - 75
- C) 75 - 76

11 Aşağıdaki seçeneklerden hangisinde sayılar büyükten küçüğe doğru sıralanmıştır?

- A) 38, 41, 47, 50
- B) 53, 49, 46, 41
- C) 25, 21, 23, 19

12



Yukarıdaki çocuklar kartlarında yazan sayıları küçükten büyüğe doğru sıralamaya çalışırken bir hata yapmışlardır. Sayıların doğru sıralanması için aşağıdakilerden hangisinin yapılması doğru olur?

- A) Yusuf ve Oğuz yer değiştirmelidir.
- B) Aysin sıranın başına geçmelidir.
- C) Yonca ve Yusuf yer değiştirmelidir.


13



Yukarıdaki sıralamada boş bırakılan yere aşağıdakilerden hangisini yazarsak sıralama bozulmuş olur?

- A) 49
- B) 53
- C) 62


14



Bulutun üzerinde yazılı olan en büyük ve en küçük sayılar hangisinde verilmiştir?

- A) 24 - 80
- B) 39 - 93
- C) 24 - 93

15






Yandaki sayılar aşağıdakilerden hangisinde küçükten büyüğe, doğru olarak sıralanmıştır?

- A) 59 - 57 - 53 - 48
- B) 53 - 57 - 48 - 59
- C) 48 - 53 - 57 - 59

16

Öğrencilerden hangisi sayıları doğru bir şekilde büyükten küçüğe doğru sıralayabilmiştir?

- A)  27 - 21 - 19 - 17
- B)  39 - 43 - 47 - 51
- C)  61 - 57 - 59 - 36

17 Aşağıdaki görsellerde verilen öğrencilerden hangisinin kaynakları doğru kullandığını söyleyebiliriz?

A)



B)



C)



19



Yaptığımız grup çalışmasında başarılı olduk çünkü

Yukarıdaki cümle aşağıdakilerden hangisi ile tamamlanırsa, yanlış olur?

- A) görevlerin hepsini tek bir kişi yaptı.
- B) iş bölümü yapıp sorumluluklarımızı yerine getirdik.
- C) gruptaki herkesin fikrine değer verdik.

18

- Gereksiz yere yanan lambaları kapatır.
- Sınıf dolabının kapısını sertçe örter.
- Ellerini yıkadıktan sonra suyu açık bırakmaz.

Yukarıda verilen davranışlar doğru ve yanlış olarak işaretlendiğinde hangisi doğru olur?

A) ✓

B) ✗

C) ✓

✗

✗

✗

✓

✓

✗

20

Aylin Öğretmen, "Enerji Tasarrufu Haftası" ile ilgili etkinlik yapmaları için öğrencileri gruplara ayırdı.

Aşağıdakilerden hangisi öğrencilerin grup çalışmasında başarılı olmaları için sahip olmaları gereken özelliklerden biri değildir?

- A) sorumluluk alma
- B) paylaşımcılık
- C) tembellik