





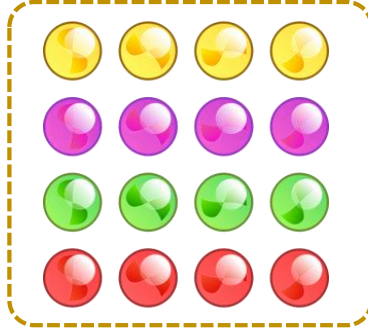
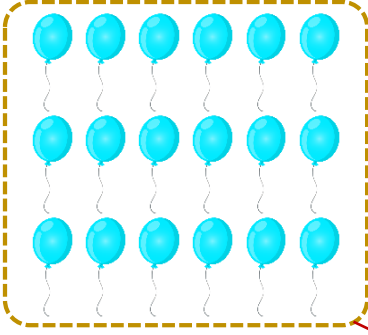
I. SINIF MATEMATİK

20'ye Kadar Sayalım - I




Adı Soyadı : Sınıfı : No :

★ Aşağıdaki görselleri öğrencimizle birlikte inceleyelim. Öğrencimizden kutulardaki nesnelere sayarak nesne miktarına karşılık gelen sayı ile örnekteki gibi eşleştirmesini isteyelim.



16 18




20 13



14 17



19 11



12 15







I. SINIF MATEMATİK

20'ye Kadar Sayalım - 2










Adı Soyadı : Sınıfı : No :

★ Öğrencimizden 1'den başlayarak 20'ye kadar boyayıp Nasreddin Hoca'yı Karakaçan'a ulaştırmasını isteyelim.

	1	8	5	7	9	14	15	16	18	
	2	4	6	8	10	13	19	17	20	
	1	2	9	10	11	12	20	18	7	
2	1	4	14	8	13	14	15	18	19	9
4	2	6	9	7	9	11	18	19	20	4
6	3	4	5	6	8	13	17			
8	13	5	8	9	7	15	16			
10	11	7	9	12	13	14	15			
12	8	10	12	14	16	18	20			

★ Öğrencimizden başta verilen sayı kadar yuvarlağı örnekteki gibi boyamasını isteyelim.







I. SINIF MATEMATİK

20'ye Kadar Sayalım - 3



Adı Soyadı : Sınıfı : No :

★ Öğrencimizden trenlerin vagonlarında eksik bırakılan sayıları sırasıyla yazmasını isteyelim.



★ Öğrencimizden çocukların yazdığı sayıların arasındaki sayıları örnekteki gibi yazmasını isteyelim.



★ Öğrencimizden verilen sayılardan önce ve sonra gelen sayıları örnekteki gibi yazmasını isteyelim.

