

TÜRKÇE : Zıt Anlamlı Sözcükler
MATEMATİK : En Yakın Onluğa Yuvarlama
HAYAT BİLGİSİ: İletişime Önem Veririz, Dinlemeyi Biliyoruz

1 Aşağıdaki sözcük ikililerinden hangisi zıt anlamlıdır?

- A) çürük - bozuk
- B) hızlı - yüksek
- C) öz - üvey

2 Aşağıdaki cümlelerden hangisinde zıt anlamlı sözcükler bir arada kullanılmıştır?

- A) Öğretmeninin uyarılarını dikkate almıyordu.
- B) Bayram sabahı erkenden kalkarak yeni elbisesini giydi.
- C) Uzaktan çok küçük görünüyordu ama yanına yaklaşınca büyük olduğunu anladı.

3



Bulutlarda yazılı sözcüklerin zıt anlamlılarını hangisinde doğru olarak verilmiştir?

- | | | |
|---------|-------|---------|
| 1 | 2 | 3 |
| A) yeni | ağır | katı |
| B) batı | çorak | eski |
| C) uzak | yaş | yumuşak |

4

Aşağıdaki cümlelerden hangisinde zıt anlamlı sözcükler bir arada kullanılmamıştır?

- A) Ucuza aldığı bisikletine pahalıya sattı.
- B) Hava soğuk olduğunda leylekler sıcak yerlere göç ederler.
- C) Yemeğini bitirir bitirmez ellerini yıkadı.

5 Aşağıdaki cümlelerden hangisinde "ince" sözcüğünün zıt anlamı kullanılmıştır?

- A) Zeynep kırmızı beyaz elbiseyle çok zarif görünüyor.
- B) Salıncağı daha kalın bir iple yapmalıyız.
- C) Bu ayakkabı artık bana küçük geliyor.

6 "Köydeki herkes adamın ne kadar cimri olduğunu biliyordu." cümlesinde altı çizili sözcüğün zıt anlamı aşağıdakilerden hangisidir?

- A) fakir
- B) zayıf
- C) cömert

7 "savaş - barış" sözcükleri arasındaki anlam ilişkisi aşağıdaki sözcük çiftlerinden hangisinde bulunmamaktadır?

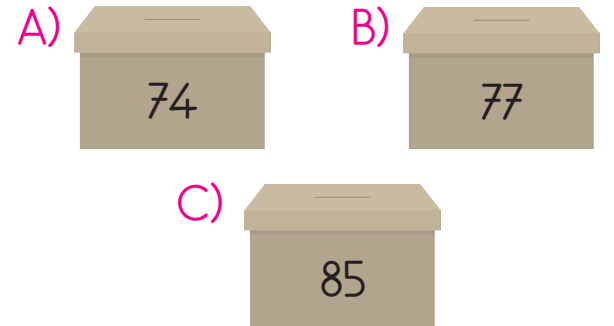
- A) güzel - çirkin
- B) kapalı - koyu
- C) dost - düşman

8 Ali defterine en yakın onluk olarak 70'e yuvarlanabilecek 3 sayı yazmıştır.


Hangi seçenekteki sayılar Ali'nin yazdığı sayılar olabilir?

- A) 63, 66, 75
- B) 68, 71, 74
- C) 65, 69, 77

9 Hakan'ın arabalarının sayısı yaklaşık olarak 80 tanedir. Buna göre hangi kutudaki arabalar Hakan'ın olabilir?



10 Aşağıdaki öğrencilerden hangisinin söylediği sayının en yakın olduğu onluk diğerlerinden farklıdır?



11

58	○	○	50
31	○	○	60
49	○	○	30

Yukarıdaki sayılar yuvarlanabilecekleri en yakın onlukla eşleştirildiğinde oluşan şekil aşağıdakilerden hangisi olur?

A)

B)

C)

12

★ 63 → 60	★ 85 → 80
★ 19 → 10	★ 24 → 30
★ 91 → 90	★ 37 → 40

Yukarıda verilen sayılardan hangileri yanlış onluğa yuvarlanmıştır?

- A) ★ - ★ - ★
 B) ★ - ★ - ★
 C) ★ - ★ - ★

13

Aşağıdaki sayı gruplarından hangisinin tamamının yuvarlanabileceği en yakın onluk 80'dir?

- A) 73 - 74 - 75 - 76 - 77
 B) 75 - 76 - 77 - 78 - 79
 C) 83 - 84 - 85 - 86 - 87

14

Bir sürahi suyla yaklaşık 20 bardak doldurulabilmektedir. Buna göre sürahiyle doldurulabilecek bardak sayısı en fazla kaçtır?

- A) 19 B) 21 C) 24

15

Aşağıdaki seçeneklerden hangisindeki sayıların hepsi 60'a yuvarlanabilir?

A)

54	63	59
58	65	

B)

56	57	63
61	55	

C)

53	56	62
65	69	

16 ★ Silgisini paylaşan arkadaşına "....." derim.

▲ Sınavda yüksek not alan arkadaşına "....." derim.

● Koşarken yanlışlıkla çarptığım arkadaşına "....." derim.

Yukarıdaki cümlelerde boş bırakılan yerlere aşağıdaki ifadelerden hangisi getirilemez?

- A) Teşekkür ederim.
- B) Tebrik ederim.
- C) Ellerine sağlık.

17 "Yasemin, bahçede koşarken yere düşmüş ve arkadaşlarından biri ona yardım etmiştir."

Bu olay üzerine Yasemin arkadaşına ne derse nazik davranmış olur?

- A) "Teşekkür ederim."
- B) "Artık, gidebilirsin."
- C) "Çekil, yanımdan!"

18 ★ Öğretmeninin sözünü kesmemelidir.


▲ Öğretmeninin gözüne bakarak onu dikkatlice dinlemelidir.


● Saygılı olmalıdır.


Ali derste öğretmenini dinlerken yukarıdakilerden hangilerine dikkat etmelidir?

- A) ★ - ▲
- B) ★ - ●
- C) ★ - ▲ - ●

19 Aşağıdaki ifadelere göre hangi çocuğun davranışı konuşma ve dinleme kurallarına uygun değildir?

A)  Öğretmenimi dinlerken sıramı düzenlerim.

B)  Bir soru sormak istediğimde konuşmanın bitmesini beklerim.

C)  Konuşmacıyı, gözünün içine bakarak, dikkatle dinlerim.