

TÜRKÇE : Sözlük Sırası, Hece Bilgisi

MATEMATİK : Sayı Örüntüleri

HAYAT BİLGİSİ: Okulumuzun Çevresi, Özenli Kullanıyoruz

1 Aşağıda heceleri karışık olarak verilen sözcüklerden hangisi meyve adıdır?

- A) kar - ma - na
B) da - na - man - li
C) zı - kır - mı

3 Aşağıdaki sözcüklerden hangisi tek hecelidir?




- A) martı
B) ders
C) ödül



Balonların üzerindeki sözcükler alfabetik olarak sıralandığında doğru sıralama nasıl olur?

- A) 2 - 1 - 5 - 4 - 3
B) 5 - 2 - 1 - 3 - 4
C) 5 - 1 - 2 - 4 - 3

4 Aşağıdaki varlıklardan hangisinin adı sözlük sıralamasına göre en sonda gelir?

- A)  B) 
C) 

5 "-kir" hecesinin başına aşağıdaki hecelerden hangisi getirilirse, anlamlı bir sözcük oluşturmaz?

- A) çe- B) be-
C) te-

6 "ya", "sa" ve "ra" hecelerini kullanarak aşağıdaki sözcüklerden hangisini yazamayız?

- A) yarasa
- B) arsa
- C) yara

7



Yukarıdaki hece aşağıdakilerden hangisinin başına getirilirse anlamlı bir sözcük olur?

- A) -tin
- B) -ve
- C) -ken

8 makine, zeytin, fabrika, pratik, çalışan, ihtiyar

Yukarıdaki sözcüklerden kaç tanesi üç hecelidir?

- A) 2
- B) 3
- C) 4

9



Aşağıdaki sayı örüntülerinden hangisinin kuralı yukarıdaki örüntü ile aynıdır?

- A) 19 - 16 - 13 - 10 - 7
- B) 19 - 22 - 25 - 28 - 31
- C) 17 - 19 - 21 - 23 - 25

10

Aşağıdaki örüntülerden hangisinin kuralı dörder azalma şeklindedir?

- A) 35 - 32 - 29 - 26 - 23
- B) 23 - 27 - 31 - 35 - 39
- C) 61 - 57 - 53 - 49 - 45

11



Yukarıdaki örüntünün kuralı hangisinde doğru olarak verilmiştir?

- A) Beşer azalan örüntüdür.
- B) Onar azalan örüntüdür.
- C) Beşer artan örüntüdür.

12 $\blacktriangle \rightarrow 14 - 19 - 24 - ? - 34$

$\blacksquare \rightarrow 31 - 34 - ? - 40 - 43$

$\bullet \rightarrow 61 - 59 - 57 - 55 - ?$

Yukarıdaki örüntülerde "?" olan yerlere hangi sayılar gelmelidir?

- | | \blacktriangle | \blacksquare | \bullet |
|----|------------------|----------------|-----------|
| A) | 25 | 36 | 51 |
| B) | 29 | 37 | 53 |
| C) | 31 | 38 | 54 |

13

38 - 34 - 30 - \blacktriangle - 22 - \bullet

Yukarıdaki örüntüde " \blacktriangle " ve " \bullet " ile gösterilen yerlere hangi sayılar gelmelidir?

- A) $\blacktriangle = 28$, $\bullet = 20$
 B) $\blacktriangle = 24$, $\bullet = 19$
 C) $\blacktriangle = 26$, $\bullet = 18$

14



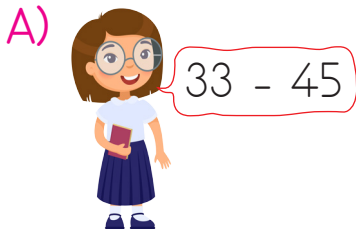


$\Rightarrow 25 - 29 - ? - 37 - 41 - ? - 49$

$\Rightarrow 97 - 92 - 87 - ? - 77 - ? - 67$

$\Rightarrow 59 - 56 - 53 - ? - ? - 44 - 41$

Mehmet Öğretmen tahtaya 3 örüntü yazmıştır. Öğrenciler sırasıyla bu örüntülerdeki "?" olan yerlere gelmesi gereken sayıları söylemişlerdir. Hangi öğrenci sayıyı söylerken hata yapmıştır?



15






Yukarıdaki krokiye göre aşağıdakilerden hangisi yanlıştır?

- A) Okul postanenin arkasındadır.
- B) Okulun yakınında bir hastane vardır.
- C) Okulun arkasında bakkal vardır.

16

Aşağıdaki ifadelere göre hangi çocuğun okuldaki kaynakları doğru kullandığını söyleyebiliriz?

- A)  Ellerimi yıkarken suyu ve sabunu yeterince kullanırım.
- B)  Başka arkadaşlarım da gireceği için lavabodan çıkınca ışıkları açık bırakırım.
- C)  Defterimi unuttuğum zaman sıranın üzerine not alırım.

17

Aşağıdakilerden hangisi okul kaynaklarını ve eşyalarını kullanırken özen gösteren bir öğrencinin davranışı olamaz?




- A) Gereksiz yere yanan lambaları kapatır.
- B) Sınıf dolabının kapısını sertçe kapatır.
- C) Ellerini yıkadıktan sonra suyu kapatır.

18



Okulda ve evde kaynaklarımızı verimli kullanmalıyız. Suyu ihtiyacımızdan fazla kullanırsak ne olur?

Halide Öğretmen'in sorusuna hangi öğrenci doğru cevap vermiştir?

- A)  Sınıfta karanlıkta kalınız.
- B)  Ellerimizi yıkamak için su bulamayız.
- C)  Sınıfımızdaki akıllı tahtayı kullanamayız.