

TÜRKÇE	: Eş Anlamlı, Zıt Anlamlı ve Eş Sesli Sözcükler
HAYAT BİLGİSİ	: İstek ve İhtiyaçlarımızı Söylerken
MATEMATİK	: Toplama İşlemi
FEN BİLİMLERİ	: Duyu Organlarının Sağlığı

1 Aşağıdaki atasözlerinden hangisinde zıt anlamlı sözcükler birlikte verilmiştir?

- A) Yiğit meydanda belli olur.
- B) Yel gibi gelen, sel gibi gider.
- C) Olacakla öleceğe çare bulunmaz.

2

“sınav” sözcüğünün eş anlamlısı nedir?

Ayşe: ödev

Mehmet: imtihan

Elif: ders

Öğretmenin sorduğu soruya öğrencilerden hangisi doğru cevap vermiştir?

- A) Ayşe
- B) Mehmet
- C) Elif

3 “arzu” sözcüğünün anlamdaşı aşağıdakilerden hangisinde kullanılmıştır?

- A) İhtiyaçlarımızı öncelik sırasına koymalıyız.
- B) En büyük isteği büyüyünce doktor olmaktı.
- C) Arkadaşı kitabı vermeyince küpelerine bindi.

4 Araba son sürat gidiyordu.

Arabaların şehir içinde fazla hız yapması yasaktır.

Yukarıdaki altı çizili kelimeler arasındaki anlam ilişkisi hangisinde verilmiştir?

- A) Eş anlamlıdır.
- B) Eş seslidir.
- C) Zıt anlamlıdır.

5 “Caner gereksiz yere harcama yapmayan tutumlu bir çocuktur.”

Verilen cümledeki altı çizili sözcüğün zıt anlamlısı aşağıdakilerden hangisidir?

- A) dürüst
- B) savurgan
- C) israf

6 Aşağıdakilerden hangisinde altı çizili sözcük cümleden çıkartıldığında cümlenin anlamı değişir?

- A) Kitaplığında hikaye, masal ve şiir kitapları vardı.
- B) Sıhhatli, sağlıklı olmak için kişisel temizliğimize özen göstermeliyiz.
- C) Tablodaki renkler çok ahenkli, uyumluydu.

7

tenha

kalabalık


Yukarıdaki sözcükler arasında verilen anlam ilişkisi hangi sözcükler arasında bulunmamaktadır?


- A) tutsak - özgür
- B) yaramaz - uslu
- C) hudut - sınır


8 Okula ilişkin istek ve ihtiyaçlarımızı okul yönetimine bildirmemiz için aşağıdakilerden hangisini kullanmamız doğru olur?

- A) Mektup
- B) Dilekçe
- C) Telgraf

9 Aşağıdakilerden hangisi okul yönetimine iletilmesi uygun bir şikayettir?

A)  Sınıftaki arkadaşlarımla sıramın üzerini karalamasını istemiyorum.


B)  Kantinde çikolata, şeker, jelibon gibi yiyeceklerin yerine meyve satılmasını istiyorum.

C)  Arkadaşlarımla saçımı çekmesini istemiyorum.

10 Okulda yeni bir laboratuvar kurulmasını isteyen Osman, öncelikle aşağıdakilerden hangisini yapmalıdır?

- A) Dilekçe yazarak isteğini okul yönetimine iletmelidir.
- B) Laboratuvar kurulması için gerekli parayı çalışarak kazanmalıdır.
- C) Bir bağış kutusu hazırlayıp, tüm öğrencilerden para toplamalıdır.

11



Emrah motosikletiyle yük taşımaktadır. Motosikletin yüksüz kütlesi verilmiştir. Motosiklete 136 kg yük yüklendiğine göre, motosikletin yüklü olduğu zamanki kütlesi kaç kilogramdır?

- A) 396 B) 404 C) 416

12

$$286 + 194 < ?$$

işleminde "?" olan yere aşağıdakilerden hangisi gelebilir?

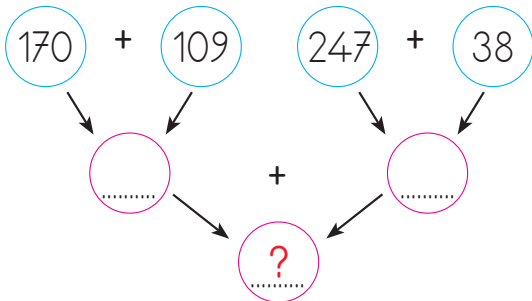
- A) 480 B) 470 C) 490

14

Toplananlarından biri 378, diğeri 236 olan bir toplama işleminde toplam kaçtır?

- A) 598 B) 614 C) 624

13



Yukarıda işlemlerde "?" olan yere aşağıdakilerden hangisi gelmelidir?

- A) 564 B) 614 C) 624

15

$$28 + 19 = 19 + \blacksquare$$

$$9 + 13 + 7 = \bullet$$

$$13 + 8 + \blacktriangle = 55 + 8 + 13$$

Yukarıdaki işlemlerde \blacksquare , \bullet , \blacktriangle yerine yazılacak sayıların toplamı kaçtır?

- A) 112 B) 92 C) 80

16 Aşağıdaki toplama işlemlerinden hangisinin sonucunun yuvarlanabileceği en yakın onluk 560'tır?

A)
$$\begin{array}{r} 347 \\ + 165 \\ \hline \end{array}$$

B)
$$\begin{array}{r} 294 \\ + 258 \\ \hline \end{array}$$

C)
$$\begin{array}{r} 232 \\ + 326 \\ \hline \end{array}$$

17 $73 + 18 = \blacktriangle$

$\blacktriangle + 64 = \blacksquare$

$\blacksquare + 44 = \bullet$

Yukarıdaki işlemlere göre hangisi yanlıştır?

- A) \bullet tek sayıdır.
 B) \blacktriangle ve \blacksquare birbirine eşittir.
 C) \blacksquare yuvarlanabileceği en yakın onluk 160'tır.

18 \blacksquare Bazı hayvanlar bizim duyamayacağımız sesleri duyabilir.

\blacktriangle Duymamız konuşmamızı da etkiler.

\bullet Kulağımızın işitebilmesi için gözlerimizin de sağlıklı olması gerekir.

Yukarıdaki bilgilerden hangileri doğrudur?

- A) $\blacksquare - \blacktriangle$ B) $\blacktriangle - \bullet$
 C) $\blacksquare - \bullet$

19 \rightarrow Kitapla aramıza 30-40 cm mesafe koyarak kitap okumalıyız.

\rightarrow Güneşli günlerde güneş gözlüğü takarak, güneşin zararlı etkilerinden korunmalıyız.

\rightarrow A vitamini içeren havuç gibi besinler tüketmeliyiz.

Yukarıda verilen uyarılara dikkat ederek hangi duyu organımızın sağlığını korumuş oluruz?

- A) Burun
 B) Deri
 C) Göz

20 Çok soğuk ve sıcak yiyecekler tüketmek hangi duyu organımıza zarar verir?

- A) Burun
 B) Deri
 C) Dil

21 Fazla gürültülü ortamlarda bulunmak hangi duyu organımızın sağlığının bozulmasına neden olur?

- A) Göz
 B) Kulak
 C) Burun