

<b>TÜRKÇE</b>	: Sözcükte Anlam
<b>SOSYAL BİLGİLER</b>	: Onun Yerinde Olsaydım
<b>MATEMATİK</b>	: Doğal Sayıları Sıralama
<b>FEN BİLİMLERİ</b>	: Dünya'nın Hareketlerinin Sonuçları

1 "Dolu" sözcüğü aşağıdaki cümlelerden hangisinde "bir yağış türü" anlamında kullanılmıştır?

- A) Bayram sonrasına kadar bütün otobüsler doluymuş.
- B) Masanın üzerindeki bardakların tamamı doluydu.
- C) Şişe ağzına kadar doluydu.
- D) Dün yağan dolu bütün ekinleri vurmuş.

2 Aşağıdaki sözcük çiftlerinden hangisinin arasında diğerlerinden farklı bir anlam ilişkisi vardır?

- A) uzak - yakın
- B) kapalı - açık
- C) mühim - önemli
- D) cesur - korkak

3 "Yüz" sözcüğü aşağıdaki cümlelerden hangisinde farklı anlamda kullanılmıştır?

- A) Yüze yüze kıyıya kadar ulaşmış.
- B) Uyanınca ilk işi yüzünü yıkamak oldu.
- C) Yüzmeyi bilmediği için denize gitmeyi istemiyordu.
- D) Havuzda yüzerken altın bir bileklik buldu.

4 Aşağıdaki cümlelerdeki altı çizili sözcük ikililerinden hangisi arasında farklı bir anlam ilişkisi vardır?

- A) Arkadaşlarıyla gizli saklı görüşüyordu.
- B) Güzel cirkin demeden herkesle görüşüyordu.
- C) Yaşadığı gel gitler yüzünden tedavi görüyordu.
- D) Bahçedeki inili ufaklı bütün taşları topladı.

5 ⇒ Ocaktaki yemeğin pişmesini bekliyordu.

⇒ Bu yıl ocak ayında çok kar yağacakmış.





Yukarıda verilen cümlelerdeki altı çizili sözcükler arasındaki anlam ilişkisi hangisinde verilmiştir?

- A) Zıt anlamlılık
- B) Eş seslilik
- C) Eş anlamlılık
- D) Terim anlamlılık

6 "Sinirli" sözcüğünün eş anlamlısı hangi cümlede bulunmaktadır?

- A) Tanıdığım en kabiliyetli insanlardan biriydi.
- B) Aydın şehri Ankara'dan epey uzaktaymış.
- C) Sakin olmanız gerektiğini kaç defa söyledim.
- D) Asabi bir insan olması, hayatını zorlaştırıyordu.

7 Aşağıdaki çocuklardan hangisi bir duygusunu belirtmiştir?

- A)  İnsanların farklılıklarına saygı duymalıyız.
- B)  Kerem'in hasta olmasına çok üzüldüm.
- C)  Köpeklerin koku alma duyuları çok gelişmiştir.
- D)  Bazı insanlar ülkelerinde yaşadıkları sorunlar nedeniyle göç etmek zorunda kalırlar.

8 Derya okula gitmek için aceleyle yürürken birden düşmüş ve bileğini burkmuştur.

Bu durumda Derya aşağıdakilerden hangisini hissediyor olabilir?

- A) Sevinç
- B) Üzüntü
- C) Heyecan
- D) Şaşkınlık

9 Aşağıdakilerden hangisi yanlış bir ifadedir?

- A) Farklılıklarımız bizi üstün kılar.
- B) Farklılıklara saygı duymalıyız.
- C) Farklılıkları olduğu gibi kabul etmeliyiz.
- D) İnsanlar fiziksel özellikleri, duygu ve düşünceleriyle diğer insanlardan farklı olabilirler.

10 Gülcihan güzel resim yapabilir, Nurreddin de çok anlamlı şiirler yazabilir.

İki kardeşin yukarıdaki özellikleri aşağıdakilerden hangisiyle ilgilidir?

- A) Farklı ilgi alanlarına sahip olmaları
- B) Yeteneklerinin farklı olması
- C) Yaşlarının farklı olması
- D) Cinsiyetlerinin farklı olması

## 4. HAFTA

11

415619  
I

98324  
II

560211  
III

507188  
IV


Yukarıdaki sayılar büyükten küçüğe sıralandığında 3. sıradaki sayı hangisi olur?

- A) IV                      B) III                      C) II                      D) I

12

$$39821 < \dots < 39928$$

Aşağıdaki öğrencilerden hangisi noktalı yere yazılabilecek bir sayı söylemiştir?

A)  39803

B)  39912

C)  39421

D)  39942

13

$$164809 > 164791 > 153220 > 159009 > 153147$$

Yukarıdaki sıralamada hangi sayı sıralamayı bozmuştur?

- A) 164809                      B) 164791                      C) 159009                      D) 153220

14

$$3472 < \blacksquare < 3518$$

$$516778 < \bullet < 529342$$

$$45760 < \blacktriangle < 45899$$

Yukarıdaki sıralamalara göre aşağıdakilerden hangisi sembollerin yerine yazılabilecek sayılardan biri değildir?

- A) 3498                      B) 529351                      C) 45814                      D) 523991

15

4 8 11 22 25

Aşağıdaki örüntülerden hangisinin kuralı yukarıdaki örüntünün kuralı ile aynıdır?

- A) 11 - 14 - 16 - 19 - 21
- B) 2 - 6 - 8 - 24 - 26
- C) 6 - 12 - 15 - 30 - 33
- D) 7 - 9 - 12 - 14 - 17

16

38 36 32 30 26 ..... ..

Yukarıdaki örüntünün 7. basamağındaki sayı kaçtır?

- A) 16
- B) 18
- C) 20
- D) 22

17

Aşağıda verilen bilgilerden hangisi yanlıştır?

- A) Dünya kendi eksenini etrafında dönerken Dünya'nın Güneş ışınlarını alan tarafları aydınlanır, almayan tarafları karanlıkta kalır.
- B) Gün içinde gece gündüzü takip eder.
- C) Dünya'nın kendi etrafında dönmesi nedeniyle cisimlerin gölge boyları gün içinde değişir.
- D) Dünya'nın kendi etrafında dönme süresi yazın daha uzundur.

18

Aşağıdakilerden hangisi Dünya'nın dolanma hareketinin bir sonucudur?

- A) Gece ve gündüzün oluşması
- B) Mevsimlerin oluşması
- C) Gün içinde Dünya'nın bir yüzünün karanlık, bir yüzünün aydınlık olması
- D) Gün içinde gölge boyunun değişmesi

19

Dünya'nın kendi eksenini etrafında dönüşüyle ilgili aşağıda verilen bilgilerden hangisi yanlıştır?

- A) Dönüş yönü doğudan batıya doğrudur.
- B) Dönüşünü 1 günde tamamlar.
- C) Gece ve gündüz arasında sıcaklık farkı oluşur.
- D) Gece ve gündüz oluşur.

20

Dünya'nın Güneş etrafında bir tam dolanmasını tamamladığı süre aşağıdakilerden hangisidir?

- A) Bir gün
- B) Bir hafta
- C) Bir ay
- D) Bir yıl