



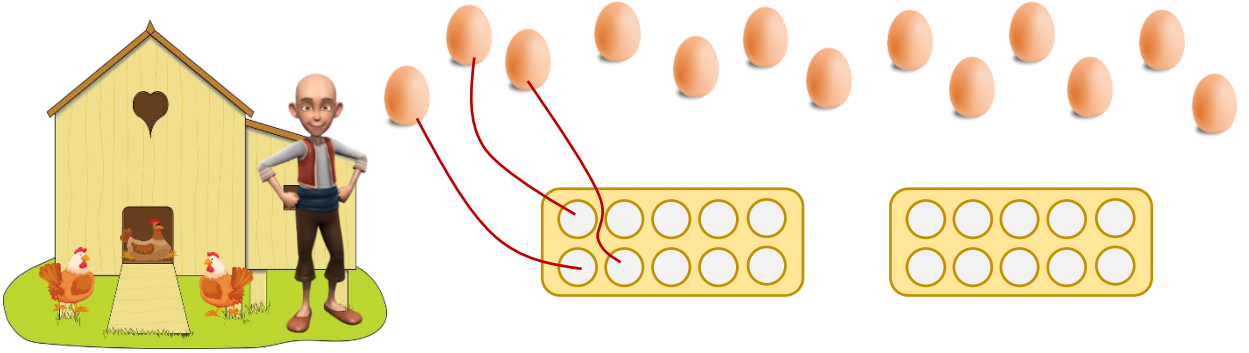
# I. SINIF MATEMATİK

## Onluk ve Birlikleri Tanıyalım - I



Adı Soyadı : ..... Sınıfı : ..... No : .....

★ Öğrencimizle birlikte aşağıdaki görseli inceleyelim. Keloğlanın kümeden topladığı yumurtaları sırası ile örnekteki gibi kutulara yerleştirip sayılarını altlarına yazmasını isteyelim.  
(Not: Birinci kutu dolmadan ikinci kutuya geçmeyelim.)



★ Öğrencimizden nesnelere sayarak 10 tanesini örnekteki gibi yuvarlak içine alıp nesne sayısını yazmasını isteyelim.

Varlık	Sayısı
	18

Varlık	Sayısı
	.....

Varlık	Sayısı
	.....



# I. SINIF MATEMATİK

## Onluk ve Birlikleri Tanıyalım - 2



Adı Soyadı : ..... Sınıfı : ..... No : .....

★ Öğrencimizden aşağıdaki varlıkları sayarak sayılarını örnekteki gibi onluk ve birlik olarak yazmasını isteyelim.

Varlık	Sayısı	
	17	
	Onluk	Birlik
	1	7

Varlık	Sayısı	
	.....	
	Onluk	Birlik
	.....	.....

Varlık	Sayısı	
	.....	
	Onluk	Birlik
	.....	.....

Varlık	Sayısı	
	.....	
	Onluk	Birlik
	.....	.....

Varlık	Sayısı	
	.....	
	Onluk	Birlik
	.....	.....




# I. SINIF MATEMATİK

## Onluk ve Birlikleri Tanıyalım - 3




Adı Soyadı : ..... Sınıfı : ..... No : .....

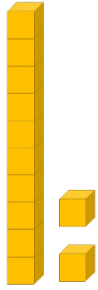
★ Öğrencimizden aşağıdaki taban blokları ile ifade edilen sayıları onluk ve birlik olarak örnekteki gibi yazmasını isteyelim.



Onluk	Birlik
1	5
Sayı	
15	




Onluk	Birlik
.....	.....
Sayı	
.....	




Onluk	Birlik
.....	.....
Sayı	
.....	




Onluk	Birlik
.....	.....
Sayı	
.....	



Onluk	Birlik
.....	.....
Sayı	
.....	



Onluk	Birlik
.....	.....
Sayı	
.....	



Onluk	Birlik
.....	.....
Sayı	
.....	



Onluk	Birlik
.....	.....
Sayı	
.....	



# I. SINIF MATEMATİK

## Onluk ve Birlikleri Tanıyalım - 4



Adı Soyadı : ..... Sınıfı : ..... No : .....

★ Öğrencimizden aşağıda verilen sayıları onluk ve birlik olarak örnekteki gibi yazmasını isteyelim.

Sayı	Onluk	Birlik
12	1	2

Sayı	Onluk	Birlik
16	.....	.....

Sayı	Onluk	Birlik
13	.....	.....

Sayı	Onluk	Birlik
17	.....	.....

Sayı	Onluk	Birlik
11	.....	.....

Sayı	Onluk	Birlik
19	.....	.....

Sayı	Onluk	Birlik
16	.....	.....

Sayı	Onluk	Birlik
18	.....	.....

Sayı	Onluk	Birlik
14	.....	.....

★ Öğrencimizden onluk ve birlik olarak verilen sayıları örnekteki gibi yazmasını isteyelim.

Onluk	Birlik	Sayı
1	4	14

Onluk	Birlik	Sayı
1	8	.....

Onluk	Birlik	Sayı
1	6	.....

Onluk	Birlik	Sayı
1	1	.....

Onluk	Birlik	Sayı
1	3	.....

Onluk	Birlik	Sayı
1	7	.....

Onluk	Birlik	Sayı
1	2	.....

Onluk	Birlik	Sayı
1	5	.....

Onluk	Birlik	Sayı
1	4	.....

Birlik	Onluk	Sayı
5	1	.....

Birlik	Onluk	Sayı
7	1	.....

Birlik	Onluk	Sayı
0	1	.....

Birlik	Onluk	Sayı
9	1	.....

Birlik	Onluk	Sayı
4	1	.....

Birlik	Onluk	Sayı
8	1	.....



# I. SINIF MATEMATİK

## Onluk ve Birlikleri Tanıyalım - 5



Adı Soyadı : ..... Sınıfı : ..... No : .....

★ Öğrencimize aşağıdaki soruları okuyarak cevabını verilen alana yazmasını isteyelim.

1 onluk ve 4 birlikten oluşan sayı kaçtır?

.....

1 onluk ve 7 birlikten oluşan sayı kaçtır?

.....

3 birlik ve 1 onluktan oluşan sayı kaçtır?

.....

0 birlik ve 1 onluktan oluşan sayı kaçtır?

.....

İleriye 1'er sayma yaparken 1 onluk ve 2 birlikten oluşan sayıdan sonra hangi sayıyı söyleriz?

.....

İleriye 5'er sayma yaparken 1 onluk ve 5 birlikten oluşan sayıdan önce hangi sayıyı söyleriz?

.....

İleriye 5'er sayma yaparken söylediğimiz üçüncü sayıda kaç birlik vardır?

.....

İleriye 2'şer sayma yaparken söylediğimiz yedinci sayıda kaç birlik vardır?

.....

Geriye 1'er sayma yaparken 1 onluk ve 8 birlikten oluşan sayıdan sonra hangi sayıyı söyleriz?

.....