






I. SINIF MATEMATİK

Az mı? Çok mu? - I





Adı Soyadı : Sınıfı : No :



★ Öğrencimizden aşağıdaki hayvanların sayılarını altlarındaki kutucuğa yazmasını isteyelim. Kedilerden az sayıda olan hayvanların kutucuğunu kırmızıya, kedilerden çok sayıda olan hayvanların kutucuğunu maviye boyamasını isteyelim.



★ Öğrencimizden aşağıdaki meyvelerin sayılarını altlarındaki kutucuğa yazmasını isteyelim. Elmalardan az sayıda olan meyvelerin kutucuğunu kırmızıya, elmalardan çok sayıda olan meyvelerin kutucuğunu maviye boyamasını isteyelim.



★ Öğrencimizden aşağıdaki çiçeklerin sayılarını altlarındaki kutucuğa yazmasını isteyelim. Papatyalardan az sayıda olan çiçeklerin kutucuğunu kırmızıya, papatyalardan çok sayıda olan çiçeklerin kutucuğunu maviye boyamasını isteyelim.





I. SINIF MATEMATİK

Az mı? Çok mu? - 2



Adı Soyadı : Sınıfı : No :

★ Öğrencimizden gökyüzüne yıldızlardan az sayıda kuş, yıldızlardan çok sayıda bulut çizmesini isteyelim.



★ Öğrencimizden bahçeye papatyalardan az sayıda ağaç, papatyalardan çok sayıda lale çizmesini isteyelim.



★ Öğrencimizden tabağa yumurtalardan az sayıda elma, saksıya yumurtalardan çok sayıda çiçek çizmesini isteyelim.





I. SINIF MATEMATİK

Az mı? Çok mu? - 3



Adı Soyadı : Sınıfı : No :

★ Öğrencimizden aşağıdaki varlıkların sayılarını altlarındaki kutucuklara yazmasını isteyelim. Sayısı 10'dan az olanların kutucuğunu kırmızıya, sayısı 10'dan fazla olanların kutucuğunu maviye boyamasını isteyelim.

