



I. SINIF MATEMATİK

Toplama İşlemini Tanıyalım - I



Adı Soyadı : Sınıfı : No :

★ Öğrencimizle birlikte aşağıdaki görselleri inceleyelim. Öğrencimize görsellerin altındaki cümleleri okuyarak cümlelerde bulunan boşlukları örnekteki gibi doldurmasını isteyelim.




... 3 ... elma



... 1 ... elma daha




... 4 ... elma eder.



..... ekmek



..... ekmek daha



..... ekmek eder.



..... karınca



..... karınca daha



..... karınca eder.



..... arı



..... arı daha



..... arı eder.



..... çiçek



..... çiçek daha



..... çiçek eder.



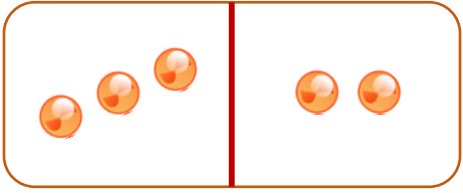
I. SINIF MATEMATİK

Toplama İşlemini Tanıyalım - 2

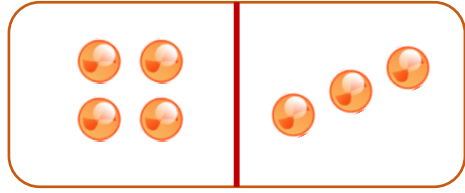


Adı Soyadı : Sınıfı : No :

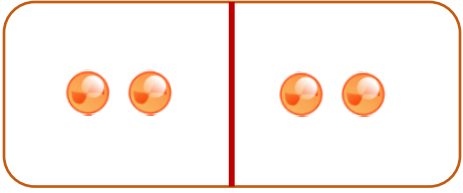
★ Öğrencimizle birlikte aşağıdaki işlemleri inceleyelim. Öğrencimize işlemlerin altındaki cümleleri okuyarak cümlelerde bulunan boşlukları örnekteki gibi doldurmasını isteyelim.



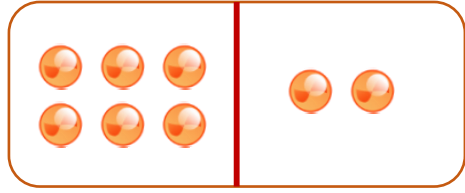
3 2 daha 5 eder.



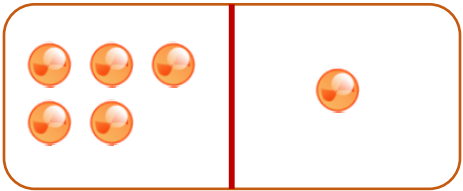
..... daha eder.



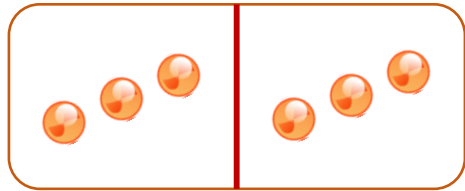
..... daha eder.



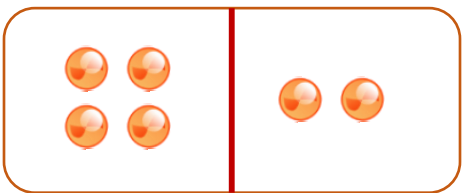
..... daha eder.



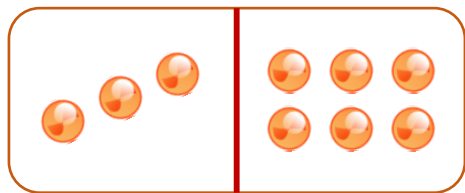
..... artı eder.




..... artı eder.



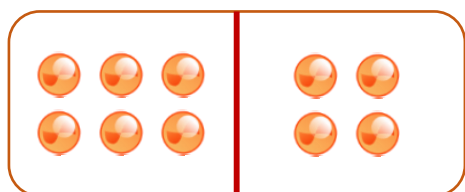
..... ile'yi toplarsak eder.



..... ile'yı toplarsak eder.



..... ile'nin toplamı'dir.



..... ile'ün toplamı'dur.