

2. SINIF

**DENEME
SINAVI**



A white rectangular box with two horizontal lines, intended for a student's name or class information.

BU KAMPANYA KAÇMAZ

Tatil Setimiz %50 İndirimli Sadece 25 Lira

2.Sınıf Kış Tatil Çalışma Yaprakları + Karne Kılıfı



Bu Fırsat

Kaçmaz



Gönderilen Karne Modellerimiz Görsellerdeki Modellerden Farklılık Gösterebilir.

İlk beş soruyu metne göre cevaplayalım.

Sonbahar gelmiş, hava soğumuş, leylekler göç etmeye hazırlanıyormuş. Kaplumbağa ise yakın arkadaşı olan iki leylekten ayrılmak istemediği için onlarla gitmek istiyormuş.

Kaplumbağa, arkadaşlarıyla gitmek için o kadar çok ısrar etmiş ki, leylekler kaplumbağayı yanlarına almaya karar vermişler. Uçarken hiç konuşmaması için de tembih etmişler.

Kaplumbağa bir dala ağızıyla asılmış, leylekler de dalı ayaklarıyla tutmuşlar ve uçmaya başlamışlar. Yoldan geçenler bu duruma çok şaşırıyormuş. Kaplumbağa aşağıdakilerin onlar hakkında konuşmasına dayanamamış ve açmış ağızını. Daha söze başlamadan yerde bulmuş kendini. Kaplumbağa söz dinlememenin cezasını canıyla ödemiş.

- Okuduğumuz metin hangi türdedir?
 - Masal
 - Şiir
 - Fıkra
- Okuduğumuz metnin başlığı aşağıdakilerden hangisi olabilir?
 - Kaplumbağanın Eğlenceli Yolculuğu
 - Kaplumbağanın Üzücü Sonu
 - Leyleklerin Göçü
- Kaplumbağa neden leyleklerle göç etmek istemiş?
 - Hava soğuduğu için
 - Leyleklerden ayrılmamak için
 - Gezmeyi çok sevdiği için
- Leylekler uçmadan önce kaplumbağaya ne söylemişler?
 - Fazla yemek yememesini
 - Yalan söylememesini
 - Konuşmamasını

5. ➔ d - e - f - g - ▲ - h
 ➔ a - b - c - ■ - d - e
 ➔ j - k - l - m - ★ - o

Yukarıda verilen sembollerin yerine hangi harfler gelmelidir?



- A) j ç r
 B) ğ ç n
 C) ı f s

6. hakim - halı - haber - hatıra

Yukarıdaki kelimelerin sözlük sırasına göre sıralanması için aşağıdakilerden hangisi yapılmalıdır?

- A) hakim ve hatıra kelimeleri yer değiştirmelidir.
 B) hakim kelimesi haber ve hatıra kelimelerinin arasına getirilmelidir.
 C) haber kelimesi en başa getirilmelidir.

7. gerçekleşmedi

Aşağıdakilerden hangisi yukarıdaki sözcüğün hecelerinden biri değildir?

- A) -çek B) -le C) -me

8. "öğretici" kelimesi satır sonuna geldiğinde hangisi gibi yazılırsa yanlış olur?

- A) öğre- tici B) öğret- ici
 C) öğ- retici

9. erken fakir gerçek

Aşağıdakilerden hangisi yukarıdaki kelimelerden birinin zıt anlamlısı değildir?

- A) sahte B) yoksul
 C) zengin

10. En sevdiği renk kırmızıdır.

Altı çizili kelimenin eş anlamlısı hangi cümlede kullanılmıştır?

- A) Aldığı bütün kitapları kitaplığına yerleştirdi.
- B) Utancından yanakları al al oldu.
- C) Gördüğü rüyayı hemen arkadaşına anlattı.

11.

meşhur - ünlü

Aşağıdaki kelime ikililerinden hangisinde yukarıdaki kelimeler arasındaki anlam ilişkisi vardır?

- A) müsait - uygun
- B) geniş - dar
- C) talebe - öğretmen

12. Aşağıdakilerden hangisi tek başına anlamı olan bir sözcük değildir?

- A) bal
- B) kaz
- C) dı

13. Aşağıdaki kelimelerden hangileri arasında "okul-öğretmen" kelimeleri arasındaki anlam ilişkisi vardır?


- A) Hastane - doktor
- B) Kitap - kalem
- C) Gömlek - düğme

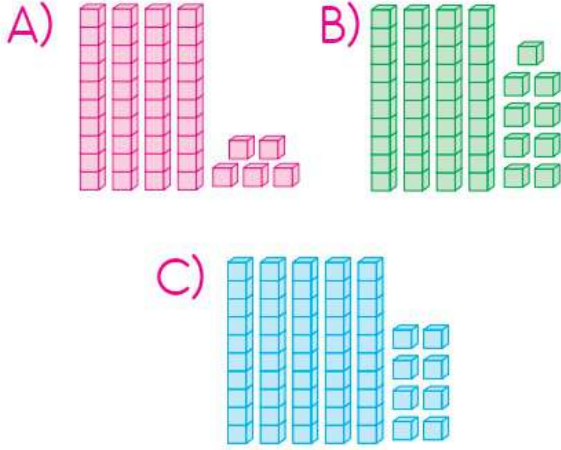
14. Aşağıdaki cümlelerden hangisinde özel ad yoktur?

- A) Büyük teyzem Mardin'de oturuyor.
- B) Yaren bu yıl 2. sınıfa gidiyor.
- C) Çiçeklerin kokusu tüm bahçeye yayılmıştı.

15. Aşağıdakilerden hangisi tür adıdır?

- A) İspanya
- B) Bursa
- C) Mahalle

1.  Yandaki sayının bloklarla gösterimi aşağıdakilerden hangisidir?



2. Aşağıdaki sayılardan hangisi onluk ve birliklerine doğru ayrılmıştır?

- A) $32 \Rightarrow 3$ onluk 3 birlik
 B) $71 \Rightarrow 1$ birlik 7 onluk
 C) $86 \Rightarrow 6$ onluk 8 birlik

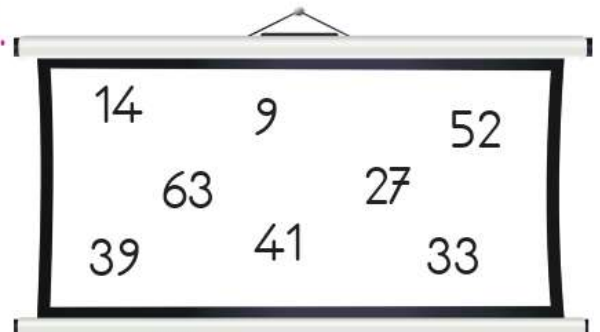
3.



Emre, yukarıdaki kalemlerin bir düzinesini kalemlğine koymuştur. Emre'nin kalemlğine koymadığı kalem sayısı kaçtır?

- A) 6 B) 7 C) 8

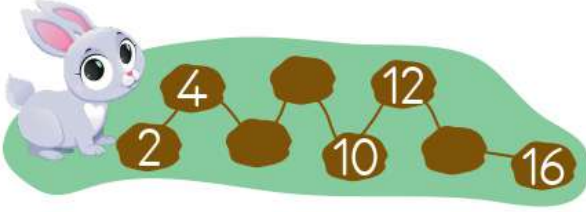
4.



Tahtada yazılı olan sayılardan kaç tanesi "35" sayısından büyüktür?

- A) 2 B) 3 C) 4

5.



Tavşan Tintin ileriye doğru ikişer ritmik sayarak zıplamaktadır. Zıpladığı taşlarda yazan sayılardan eksik olanlar aşağıdakilerden hangisi değildir?

- A) 6 B) 14 C) 18

6. ▲ → 13 - 23 - 33 - ? - 53

■ → 62 - 57 - ? - 47 - 42

● → 20 - 23 - 26 - 29 - ?

Yukarıdaki örüntülerde “?” olan yerlere hangi sayılar gelmelidir?

- | | ▲ | ■ | ● |
|----|----|----|----|
| A) | 43 | 52 | 32 |
| B) | 63 | 49 | 35 |
| C) | 45 | 56 | 30 |

7. Öğretmeni Veysel'den en yakın onluk olarak 50'ye yuvarlanabilecek 3 sayı söylemesini istemiştir.

Hangi seçenekteki sayılar Veysel'in söyledikleri olabilir?

- A) 43, 55, 56
B) 48, 51, 57
C) 45, 49, 54

8.



Ali



Metin

Ali ile Metin misketlerini birleştirip oyun oynayacaklardır. İkisinin toplam kaç misketi vardır?

- A) 45 B) 49 C) 54

9. Aşağıdaki toplama işlemlerinden hangilerinin sonucu birbirine eşit değildir?

- A) $14 + 53$ $29 + 12$
 B) $36 + 57$ $44 + 49$
 C) $67 + 29$ $58 + 38$

10.

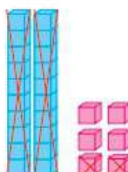
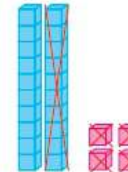
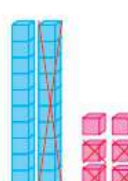
74
- 41
=

 Yanındaki çıkarma işleminde fark aşağıdakilerden hangisidir?

- A) 31 B) 33 C) 35

11. $26 - 14 = \underline{\quad}$

Yukarıda verilen işlem hangisinde doğru olarak modellenmiştir?

- A)  B) 
 C) 

12. $\blacktriangle 55 - 23 = \underline{\quad}$

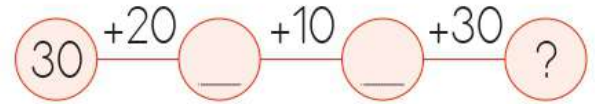
$\blacksquare 77 - 41 = \underline{\quad}$

$\bullet 69 - 40 = \underline{\quad}$

Yukarıdaki çıkarma işlemlerinin hangilerinin farkının en yakın olduğu onluk 30'dur?

- A) $\blacktriangle - \blacksquare$
 B) $\blacktriangle - \bullet$
 C) $\blacksquare - \bullet$

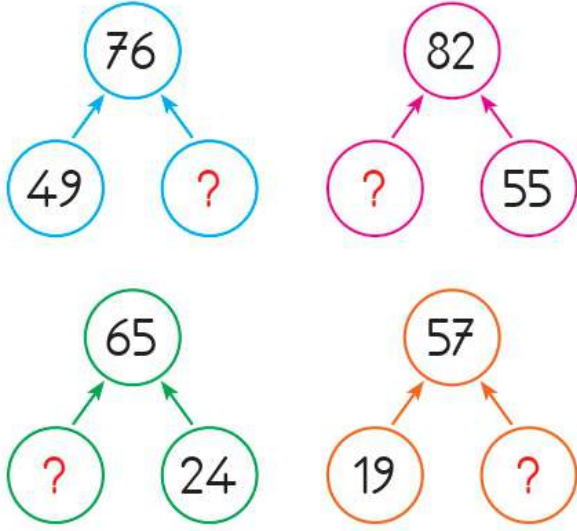
13.



Yukarıdaki işlemlerin sonucunda "?" olan yere hangisi yazılmalıdır?

- A) 100 B) 90 C) 80

14.



Yukarıda hangi renkli dairelerdeki verilmeyen toplanan 27'dir?

- A) Mavi - yeşil
- B) Yeşil - turuncu
- C) Pembe - mavi

15.

$$\begin{array}{r} 4 \blacksquare \\ + \blacktriangle 7 \\ \hline 63 \end{array}$$

Yandaki toplama işleminde sembollerin yerine gelmesi gereken sayılar hangisinde verilmiştir?

- A) $\blacktriangle = 2$, $\blacksquare = 7$
- B) $\blacktriangle = 1$, $\blacksquare = 6$
- C) $\blacktriangle = 1$, $\blacksquare = 5$

1. Aşağıdakilerden hangisi Kerem'in yapabildiği değil, sahip olduğu fiziksel bir özelliğidir?

- A) Kıyafetlerini dolaba asabilmesi
- B) Ayakkabısının bağcıklarını bağlayabilmesi
- C) Boyunun uzun olması

2. Cuma Serkan'ın cuma günü hangi araç gereci çantasına koyması gerekmez?

- | | |
|--------------|---|
| Cuma | Serkan'ın cuma günü hangi araç gereci çantasına koyması <u>gerekmez</u> ? |
| Hayat Bil. | |
| Mat. | |
| Mat. | |
| Türkçe | |
| Görsel | A) Flüt |
| San. | B) Cetvel |
| Fiziksel Et. | C) Türkçe Sözlük |

3. "Sema, arkadaşlarının farklılıklarına saygı duyan bir öğrencidir."

Buna göre, Sema'nın aşağıdaki davranışlardan hangisini göstermesi beklenmez?

- A) Arkadaşlarının farklı düşüncelerine saygı duyar.
- B) Sadece aynı şeylere ilgi duyduğu arkadaşlarıyla konuşur.
- C) Bedensel farklılıkları olan arkadaşlarına yardımcı olur.

4. Oy birliğiyle belirlenen sınıf kurallarıyla ilgili aşağıdaki bilgilerden hangisi doğrudur?

- A) Kurallara sadece o kurallara oy verenler uymalıdır.
- B) Sınıf başkanları kurallara uymak zorunda değildir.
- C) Kurallara uymak bütün öğrencilerin görevidir.

5. Aşağıdaki çocuklardan hangisinin kaynakları doğru kullandığını söyleyemeyiz?

A)



Sıramın üzerine güzel resimler yaparım.

B)



Sınıfımızdaki ders araç gereçlerini özenli kullanırım.

C)



Lavaboyu kullandıktan sonra musluğu kapatırım.

6. "Yasemin, bahçede koşarken yere düşmüş ve arkadaşlarından biri ona yardım etmiştir."

Bu olay üzerine Yasemin arkadaşına ne derse nazik davranmış olur?

A) "Teşekkür ederim."

B) "Artık, gidebilirsin."

C) "Çekil, yanımdan!"

7. Aşağıdakilerden hangisi 2. sınıfa giden bir öğrencinin okul ihtiyaçlarından değildir?

A) Silgi

B) Defter

C) Bisiklet

8. Aşağıdaki ifadelerden hangisinde noktalı yere "amca" yazılmalıdır?

A) Annemizin erkek kardeşine _____ deriz.

B) Babamızın annesine _____ deriz.

C) Babamızın erkek kardeşine _____ deriz.

9. Aşağıdakilerden hangisi akrabaları bir arada tutan değerlerden değildir?

A) Cimrilik

B) Saygı

C) Yardımlaşma

10. Tarık, memleketteki halasına mektup yazıp, zarfa koymuştur. Tarık zarfın üzerine adresini yazarken aşağıdaki bilgilerden hangisini kullanmamalıdır?

- A) Oturduğu mahallenin adı
- B) Yaşadığı il
- C) Telefon numarası

1.  Görseldeki varlığın ismindeki eksik harf hangisidir?
ballo_n

A) a B) o C) n

2. Görsele göre noktalı yere hangisi gelmelidir?



This's _____

A) pasta B) cake
C) salad

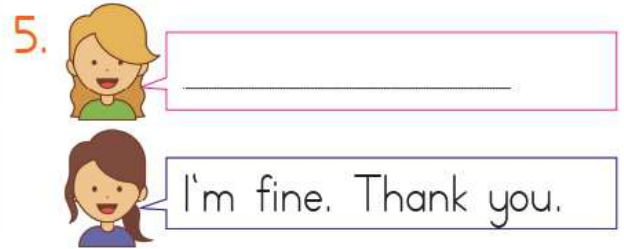


Görseldeki yer aşağıdakilerden hangisidir?

A) Cinema B) House
C) Stadium

4. Öğleden sonra derse giren Ayşe Öğretmen öğrencilerine hangi selamlaşma ifadesi ile seslenir?

A) Good morning!
B) Good afternoon!
C) Good bye!



Noktalı yere hangisi gelmelidir?

A) What's your name?
B) Good bye!
C) How are you?

CEVAP ANAHTARI

TÜRKÇE	1	2	3	4	5	6	7	8	9	10	11	12	13	14	15
	A	B	B	C	B	C	B	B	B	B	A	C	A	B	C
MATEMATİK	1	2	3	4	5	6	7	8	9	10	11	12	13	14	15
	B	B	C	C	C	A	C	C	A	B	C	B	B	C	B
HAYAT BİLGİSİ	1	2	3	4	5	6	7	8	9	10					
	C	A	B	C	A	A	C	C	A	C					
İNGİLİZCE	1	2	3	4	5										
	B	A	A	B	C										