

3. SINIF

DENEME
SINAVI

ABC



BU KAMPANYA KAÇMAZ

Tatil Setimiz %50 İndirimli Sadece 25 Lira

3.Sınıf Kış Tatil Çalışma Yaprakları + Karne Kılıfı



Bu Fırsat

Kaçmaz



Gönderilen Karne Modellerimiz Görsellerdeki Modellerden Farklılık Gösterebilir.

Geyiğin Boynuzları

Evel zaman içinde kendini çok beğenen bir geyik varmış. Ne zaman bir derenin kenarına gelse; suya bakar, boynuzlarını seyredermiş. Geyik boynuzlarını çok severmiş ama bacaklarından da şikayetçiymiş. Geyiğin boynuzları kocaman ve ihtişamlı, bacakları ise incecikmiş.

Geyik yine bir gün, su kenarında boynuzlarını seyrederken avcılar çıkagelmiş. Geyik başlamış ormanın derinliklerine doğru koşmaya. İncecik bacakları ile hızla koşup avcılardan uzaklaşıyor, boynuzları ağaçlara takıldığına da yavaşlıyormuş. Geyik sonunda avcılardan kurtulmuş ama çok da korkmuş.

Başına gelen bu kötü olayın sonunda geyik, hiçbir şeyle övünmemeyi hiçbir şeyi de küçük görmemeyi öğrenmiş.

İlk sekiz soruyu metne göre cevaplayalım.

- Okuduğumuz masala göre geyiğin nasıl bir hayvan olduğunu söyleyebiliriz?
 - Şakacı
 - Kibirli
 - Çalışkan
- Geyik bacaklarını neden beğenmiyormuş?
 - İnce oldukları için
 - Büyük oldukları için
 - Uzun oldukları için
- Avcılar ne zaman gelmiş?
 - Geyik uyurken
 - Geyik yemek yerken
 - Geyik su kenarında boynuzlarını seyrederken
- Avcılardan kaçarken geyik neden yavaşlıyormuş?
 - Yaşlı olduğu için
 - Boynuzları ağaçlara takıldığı için
 - Bacakları ince olduğu için

5. Masalın sonunda ne olmuş?
- A) Geyik avcılara yakalanmış
B) Geyik bacakları sayesinde avcılardan kurtulmuş.
C) Avcılar geyiği vurmuş.

6. Aşağıdakilerden hangisi masaldan çıkarabileceğimiz sonuçlardan değildir?
- A) Hiç bir şeyi küçük görmemeliyiz.
B) Sahip olduklarımızın kıymetini bilmeliyiz.
C) Her zaman çok çalışmalıyız.

7. Masalda anlatılan olay aşağıdakilerden hangisinde özetlenmiştir?
- A) Boynuzlarıyla övünen geyiğin avcılardan kaçarken boynuzları yüzünden sıkıntıya düşmesi
B) Bacakları sakat olan geyiğin avcılardan kaçarken yavaş koşması
C) Geyiğin kendisini kovalayan avcıları tuzağa düşürmesi

8. Aşağıdakilerden hangisi metindeki altı çizili kelimelerin zıt anlamlılarından biri değildir?
- A) iyi B) büyük C) minik

9. 

Yukarıdaki kelimeler alfabetik olarak sıralandığında hangisi 4. sırada gelir?

- A) efsane B) güney
C) sayı

10. Aşağıdaki kelimelerden hangisi hecelerine yanlış ayrılmıştır?
- A) sı-nır-la-ma
B) har-ca-ma-lar
C) öğ-ren-cil-iği-miz-de

11. Aşağıdaki cümlelerden hangisinde "bol" kelimesinin zıt anlamlısı kullanılmıştır?
- A) Pantolon o kadar dardı ki giymekte zorlanıyordu.
B) Arkasından konuşulanları duyunca çok üzüldü.
C) Geçtiği yollar neyse ki genişti.

12. Aşağıdaki cümlelerden hangisinde altı çizili sözcüğün yerine eş anlamlısı getirilemez?

- A) Verdiği yanıtların çoğu doğruydü.
- B) Kara haber tez duyulur.
- C) Kanunlara uymak vatandaşlık görevimizdir.

13. Aşağıdakilerden hangisinde "al" sözcüğü farklı anlamda kullanılmıştır?

- A) Aldığı elmaların yarısı çürüktü.
- B) Utancından yanakları al al olmuştu.
- C) Kardeşinin, tokasını izinsiz almasına kızdı.

14. ★ Kolundaki beni kaşıyarak kanatmış.

- Ben de sizinle geleyim mi?
- Yalnız kalınca beni arar mısın?
- ▲ Kaşının üstünde siyah bir ben vardı.

"Ben" kelimesi yukarıdaki cümlelerden hangisinde "vücuttaki kahverengi leke" anlamında kullanılmıştır?

- A) ★ - ■ B) ▲ - ●
- C) ★ - ▲

15. Aşağıdaki cümlelerden hangisinde "çok acıkmak" anlamında bir deyim kullanılmıştır?

- A) Problemi çözene kadar göbeği çatladı.
- B) Akşama kadar yemek yemediği için karnı zil çalıyordu.
- C) Uzun zaman sonra halasını göreceği için içi içine sığmıyordu.

1. \Rightarrow İki yüz yetmiş dokuz
 \Rightarrow Üç yüz altmış dokuz
 \Rightarrow İki yüz yetmiş beş

Aşağıdakilerden hangisi yukarıda okunuşu verilen sayılardan biri değildir?

- A) 396 B) 275 C) 279

2. \Rightarrow

278	288	298	?	318
-----	-----	-----	---	-----

- \Rightarrow

831	731	?	531	431
-----	-----	---	-----	-----

Yukarıdaki ritmik saymalarda "?" ile gösterilen yerlere hangi sayı gelemez?

- A) 308 B) 328 C) 631

3. $72 < \blacksquare < 81$

$812 < \bullet < 815$

$900 > \blacktriangle > 897$

Yukarıdaki sıralamalara göre sembollerin yerine hangi sayılar gelebilir?



- | | | |
|-------|-----|-----|
| A) 75 | 773 | 885 |
| B) 83 | 817 | 902 |
| C) 77 | 813 | 899 |

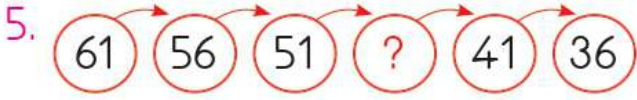
4.

7	14	21	28	35	▲
---	----	----	----	----	---



Hakan, yedişer ritmik sayma yaparken ▲ yerine hangi sayıyı yazmalıdır?

- A) 35 B) 42
C) 49



Yukarıdaki sayı örüntüsünde ? olan yere hangisi gelmelidir?

- A) 45 B) 46 C) 50

6. Aşağıdaki ifadelerden hangisi doğrudur?

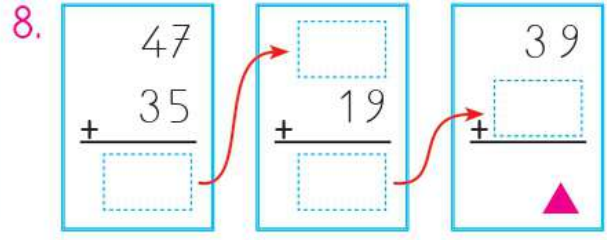
- A) 27 sayısına 5 eklersek elde edilen sayı tek sayı olur.
 B) 7 sayısının 2 fazlası çift sayıdır.
 C) 21'in çift sayı olması için en az 1 eklemeliyiz.

7.

17	■	9
13	8	19
▲	18	●

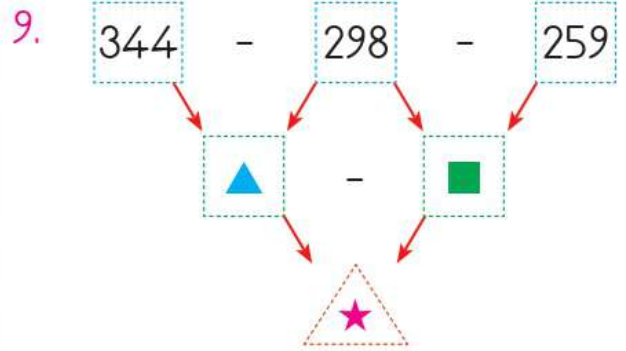
Yukarıdaki tabloda her satır ve sütunda verilen sayıların toplamı aynıdır. Buna göre ▲ + ■ + ● toplamı kaçtır?

- A) 25 B) 36 C) 43



Yukarıdaki sıralı toplama işlemlerine göre ▲ kaçtır?

- A) 130 B) 140 C) 150



Yukarıdaki çıkarma işlemleri ok yönünde yapıldığında ▲ + ■ + ★ kaç olur?

- A) 92 B) 87 C) 53

10. $318 - 149 > \blacktriangle$

Yukarıdaki işleme göre ▲ yerine yazılabilecek en büyük sayı kaçtır?

- A) 270 B) 189 C) 168

11.	$\begin{array}{r} 325 \\ + 182 \\ \hline \end{array}$	$\begin{array}{r} 248 \\ + 217 \\ \hline \end{array}$	$\begin{array}{r} 306 \\ + 172 \\ \hline \end{array}$
	▲	■	●

Yukarıdaki işlemlerin en yakın onluğa yuvarlanarak bulunan tahmini sonuçlarının küçükten büyüğe sıralaması hangisidir?

- A) ■ < ● < ▲
 B) ▲ < ■ < ●
 C) ● < ▲ < ■


12. Adana'dan İstanbul'a giden bir uçakta 85 kadın yolcu, kadınlardan 17 fazla da erkek yolcu vardır. Uçağa Ankara'da 43 yolcu daha binmiştir. Uçaktaki toplam yolcu sayısı kaçtır?

- A) 230 B) 250 C) 270

13.	$\begin{array}{r} 83 \\ 17 \\ \hline \end{array}$	$\begin{array}{r} 27 \\ 24 \\ \hline \end{array}$	$\begin{array}{r} 33 \\ \bullet \\ 42 \\ \hline \end{array}$
	▲	■	●
	$\begin{array}{r} 7 \\ \hline \end{array}$	$\begin{array}{r} 11 \\ \hline \end{array}$	$\begin{array}{r} 7 \\ \hline \end{array}$
	133	90	120

Yukarıdaki toplama işlemlerinde verilmeyen toplananlar aşağıdakilerden hangisinde doğru olarak verilmiştir?




- | | | | |
|----|----|----|----|
| | ▲ | ■ | ● |
| A) | 23 | 25 | 37 |
| B) | 22 | 30 | 44 |
| C) | 26 | 28 | 38 |












Yukarıda verilen bilgilere göre Emel, Esra ve Emin'in boylarının uzunlukları toplamı kaçtır?

- A) 412 B) 417 C) 419

15.

	$\begin{array}{r} 137 \\ - 89 \\ \hline \end{array}$		$\begin{array}{r} 342 \\ - 258 \\ \hline \end{array}$		$\begin{array}{r} 291 \\ - 265 \\ \hline \end{array}$
---	--	---	---	---	---

Yukarıdaki çıkarma işlemlerinin en yakın onluğa yuvarlanarak bulunan tahmini sonuçlarının büyükten küçüğe sıralaması hangisindeki gibidir?

- A)  >  > 
- B)  >  > 
- C)  >  > 

1. Dünya'nın şeklinin küreye benzediğini gösteren en önemli delil aşağıdakilerden hangisidir?
- A) Ay tutulması sırasında Dünya'nın üzerine düşen gölgesinin daire şeklinde olması
- B) Dünya'nın herhangi bir yerinden yola çıkarak hep aynı yönde giden bir aracın aynı yere geri gelmesi
- C) Dünya'nın uzaydan çekilen fotoğrafları

2. Hava katmanı ile ilgili aşağıdaki çocuklardan hangisinin verdiği bilgi yanlıştır?

A)



Birçok canlının solunum yaptığı oksijen hava katmanında bulunur.

B)



Toprakta ve suda hava bulunmaz.

C)



Hava katmanında yağmur, kar, dolu gibi hava olayları meydana gelir.

3.

Çevremizdeki sesleri işitmemizi sağlamak

Havayı temizlemek

Dengemizi sağlamak

Hangi renk kutucukta verilen bilgi kulağımızın görevlerinden değildir?

- A) Mor B) Sarı C) Yeşil

4.

Bazı duyu organlarımız birlikte çalışır. Bir duyu organımız zarar gördüğünde, diğeri onun yerini almaya çalışır.

Yukarıda verilen bilgiye göre görme engelli olan kişilerin görme duyularının yerine nesnelere tanımak için daha çok hangi duyu organlarını kullandığını söyleyebiliriz?

- A) Dokunma
B) Tatma
C) Koku alma

5.



Gözlerimiz kapalı olduğunda yukarıdaki varlıklardan hangisini sadece kokusundan faydalanarak tanıyamayız?

- A) ① B) ② C) ③

6.

Cansız varlıklar dışarıdan bir etki olmadan hareket edemezler.

Yukarıdaki bilgiye göre aşağıdaki varlıklardan hangisi hareket halindedir?

- A) Masanın üzerindeki bardak
B) Yürürken ayağımızda olan terlik
C) Çekmecedeki tarak

7.① Kaydıraftan kayan çocuğun hareketi

② Saatin akrep ve yelkovanının yaptığı hareket

③ Rüzgâr estiğinde rüzgar gülünün yaptığı hareket

④ Sallanan ata binen Meltem'in hareketi

⑤ Lunaparkta hareket halindeki gondol

Yukarıda verilen varlıkların yaptıkları hareketler ikiye gruplandırıldığında hangisi dışta kalır?

- A) ① B) ③ C) ④

8. Aşağıdakilerden hangisinde varlığı hareket ettirmek için çekme kuvveti uygulanmıştır?



9.



Serhat

Cemil

Yukarıdaki görsele göre aşağıda verilenlerden hangisi doğrudur?

- A) Cemil ve Serhat arabaya çekme kuvveti uyguluyor.
- B) Cemil el arabasını çekerken, Serhat itiyor.
- C) Serhat el arabasına çekme, Cemil itme kuvveti uyguluyor.

10. Aşağıdakilerden hangisinde varlık önce yavaşlamış sonra da hızlanmıştır?

- A) Yolcularını alıp pistten havalandıktan sonra, gideceği yere vardığında piste inen uçak
- B) İsttop oynayan çocukların topu yukarıya atması, sonra da topun aşağıya düşmesi
- C) Dağdan aşağıya doğru kayan kayakçının tekrar dağa tırmanması

1.



Merhaba ben Yasemin. Neşeli biriyim. Resim yapmayı da çok severim. Biraz fazla konuşurum. Bu özelliğim yüzünden bazen öğretmenim beni uyarır.

Yukarıda anlatıklarına göre aşağıdakilerden hangisi Yasemin'in güçlendirilmesi gereken yönüdür?

- A) Resim yapması
- B) Fazla konuşması
- C) Neşeli olması

2.

Düzenli
olmak



Yalan
söylemek



Anlayışlı
olmak



Sorumsuz
olmak



Yukarıda verilen davranışlardan hangi sembolle gösterilenler olumludur?

- A) ▲ - ■
- B) ■ - ●
- C) ▲ - ★

3.

Bir yerin kuş bakışı görünümünün kağıt üzerinde kabaca çizilmiş halidir.


Yukarıda tanımlanan kavram aşağıdakilerden hangisidir?


- A) Harita
- B) Kroki
- C) Resim

4. Okula ilişkin istek ve ihtiyaçlarımızı okul yönetimine bildirmemiz için aşağıdakilerden hangisini kullanmamız doğru olur?

- A) Mektup
- B) Dilekçe
- C) Telgraf


5. Aşağıdakilerden hangisi okul yönetimine iletilmesi uygun bir şikayettir?


A)  Sınıftaki arkadaşlarımın sıramın üzerini karalamasını istemiyorum.


B)  Kantinde çikolata, şeker, jelibon gibi yiyeceklerin yerine meyve satılmasını istiyorum.

C)  Arkadaşlarımın saçımı çekmesini istemiyorum.

6. Aşağıdaki çocuklardan hangisi komşusunu rahatsız edici bir davranışta bulunmuştur?

A)  Komşularımızı sık sık ziyaret ederim.

B)  Bir komşumuzla karşılaştığım zaman halini hatrını sorarım.

C)  Hoşlandığım şarkıları komşularımın da duyması için yüksek sesle dinlerim.

7. Mesleklerle ilgili aşağıda verilen bilgilerden hangisi yanlıştır?

A) Meslekler hayatımızı kolaylaştırır.

B) Yaptığımız mesleklerle geçimimizi sağlarız.

C) Bütün insanlar bir meslek sahibi olmak zorundadır.

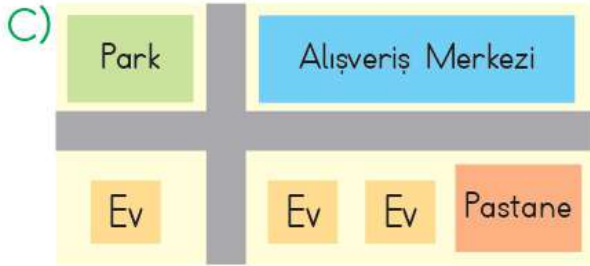
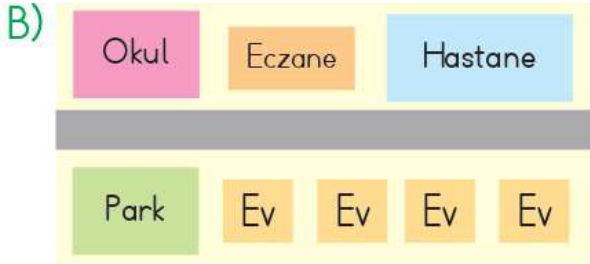
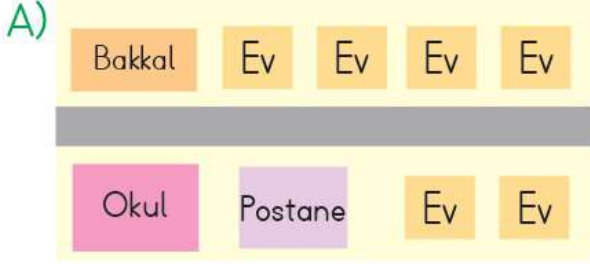
8. Sema, hafta sonu kendisini ziyarete gelecek olan arkadaşına evinin adresini doğru olarak vermiştir. Buna göre aşağıdakilerden hangisi Sema'nın verdiği adres olabilir?

A) Subaşı Mahallesi, Fırtına Apartmanı

B) Dergah Mahallesi, Gazi Caddesi, Gül Sokak, Numara:15, Daire No:5

C) Mihmandar Mahallesi, Gülbaşı Sokak, Daire No:4

9. Tuğrul, Kamu Caddesinde otur-
maktadır ve evlerinin yakınında bir
çocuk parkı vardır. Buna göre aşağı-
daki krokilerden hangisi Tuğrul'un
evine ait olamaz?



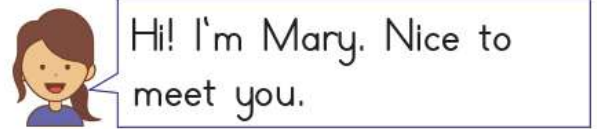
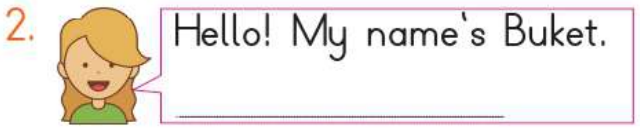
10. Ali, 8 yaşında, 3. sınıfa giden bir
öğrencidir. Buna göre aşağıdakiler-
den hangisi Ali'nin evdeki sorumlu-
luklarından biri olamaz?

- A) Ödevlerini zamanında yapmak
B) Okul kıyafetlerini ütülemek
C) Odasını temiz tutmak



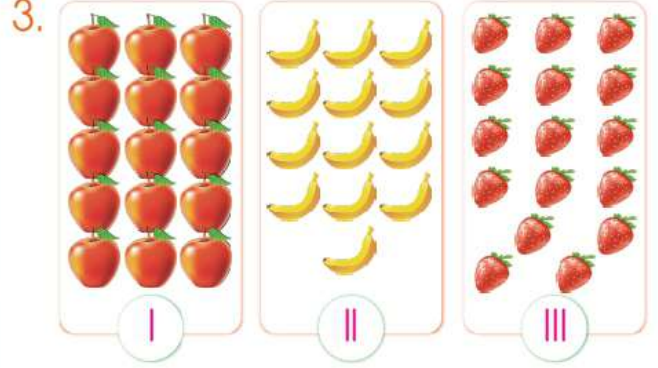
Yukarıdaki resimlere uygun olan ifadeler hangisinde sırasıyla verilmiştir?

- A) Good afternoon / Good night
 B) Good morning / Good night
 C) Good night / Good bye!



Yukarıdaki diyalogda noktalı yere hangisi gelmelidir?

- A) What's your name?
 B) How are you?
 C) How old are you?



Yukarıdaki meyvelerin sayısı hangisinde verilmiştir?

_____ | _____ || _____ ||| _____

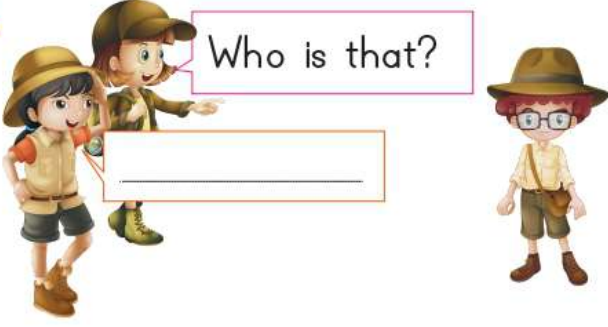
- A) five twenty sixteen
 B) fifteen thirteen sixteen
 C) eighteen eleven fifteen



Çocuğun yaptığı işi ifade eden kelime aşağıdakilerden hangisidir?

- A) listen B) count
 C) open

5.



Diyalogdaki konuşma balonuna hangisi gelmelidir?

- A) This is my sister.
- B) That is my aunt.
- C) That is my brother.

CEVAP ANAHTARI

TÜRKÇE	1	2	3	4	5	6	7	8	9	10	11	12	13	14	15
	B	A	C	B	B	C	A	C	C	C	A	A	B	C	B
MATEMATİK	1	2	3	4	5	6	7	8	9	10	11	12	13	14	15
	A	B	C	B	B	C	B	B	A	C	A	A	C	C	B
FEN BİLİMLERİ	1	2	3	4	5	6	7	8	9	10					
	C	B	C	A	A	B	A	C	C	B					
HAYAT BİLGİSİ	1	2	3	4	5	6	7	8	9	10					
	B	C	B	B	B	C	C	B	A	B					
İNGİLİZCE	1	2	3	4	5										
	B	A	B	B	C										