

4. SINIF

DENEME  
SINAVI



# BU KAMPANYA KAÇMAZ

Tatil Setimiz %50 İndirimli Sadece 25 Lira

4.Sınıf Kış Tatil Çalışma Yaprakları + Karne Kılıfı



Bu Fırsat

Kaçmaz



Gönderilen Karne Modellerimiz Görsellerdeki Modellerden Farklılık Gösterebilir.

İlk beş soruyu metne göre cevaplayalım.

### Canım Arkadaşım

O akşam babam eve geldiğinde çok mutlu görünüyordu. Bize vereceği güzel bir haberi vardı. Hepimiz heyecanla babamın vereceği haberi bekliyorduk. Babam da bizim meraklı bekleyişimize daha fazla dayanamadı ve açıkladı.

Yeni gelen müdür babamla uzun yıllar daha çalışmak istediğini söylemişti. Artık Manisa'ya taşınmamız gerekmiyordu. Çok mutlu olmuştum. Çok sevdiğim arkadaşlarımdan ayrılmak zorunda kalmayacaktım. Bu mutlu haberi canım arkadaşım Hülya'ya vermek için koşarak evden çıktım.

Hülya evlerinin bahçesinde üzgün üzgün oturuyordu. Benim gülererek ona koştuğumu görünce o da gülümsemeye başladı. "Müjde! Taşınmıyoruz." dediğimi duyunca bana öyle bir sarılışı vardı ki, aradan 40 yıl geçmesine rağmen hâlâ unutamıyorum.

O günden sonra 7 yıl daha Çorum'da oturduk. Sonra üniversiteyi kazanınca Ankara'ya taşındık. Bir daha da Çorum'a dönmedik. Hülya'yla farklı şehirlerde oturmamıza rağmen hep görüştük, hâlâ da görüşüyoruz. Her fırsatta birbirimizi ziyaret edip eski günleri yad ediyoruz.

1. Çocuğun babası eve geldiğinde neden mutluymuş?
  - A) Akşam olduğu için mutluymuş.
  - B) İş yerinden ayrılmadığı için mutluymuş.
  - C) Misafirlige gidecekleri için mutluymuş.
  - D) Eski bir arkadaşını gördüğü için mutluymuş.
2. Çocuk ve ailesi nereye taşınacaklarmış?
 

A) Ankara	B) Manisa
C) Çorum	D) Bursa
3. Çocuk taşınmayacakları haberini ilk olarak kiminle paylaşmış?
  - A) Anneannesiyile paylaşmış.
  - B) Dedesiyle paylaşmış.
  - C) Öğretmeniyle paylaşmış.
  - D) Arkadaşıyla paylaşmış.
4. Okuduğumuz metnin türü aşağıdakilerden hangisidir?
 

A) Anı	B) Şiir
C) Masal	D) Fıkra

5. Türkçe sözcüklerde "j" harfi bulunmaz.

Yukarıda verilen bilgiye göre aşağıdakilerden hangisinde Türkçe olmayan bir sözcük kullanılmıştır?

- A) Savurganlık yaparak kaynaklarımızı tüketmemeliyiz.  
 B) Yaz gelince havalar ısınıyor, günler uzuyor.  
 C) Çok yağmur yağınca bütün baraj kapaklarını açtılar.  
 D) Tedavisine bir ay içinde başlamaları gerekiyormuş.


6. Antalya'da yağın yağmur çok  
 I II III IV  
 şiddetliydi.  
 V

Yukarıdaki cümlede geçen altı çizili sözcükler sözlük sırasına göre sıralandığında hangisi 3. sırada gelir?

- A) V B) IV C) III D) II

7. Bir sözcüğün akla gelen ilk anlamına gerçek anlam denir.

Yukarıdaki tanıma göre "kırmak" sözcüğü hangi görselde gerçek anlamı dışında bir anlamı ifade etmektedir?



8. Aşağıdaki cümlelerden hangisinde kara sözcüğü mecaz anlamda kullanılmıştır?

- A) Minik eşek kara gözleriyle sanki bana bakıyordu.  
 B) Kara günler artık geride kaldı.  
 C) Aldığı oyuncak bebeğin saçları karaydı.  
 D) Timsahlar hem kara da hem de suda yaşayabilir.

9. Aşağıdaki cümlede geçen altı sözcüklerden hangisi terim anlamda kullanılmıştır?

- A) Sınıftaki öğrencilerin hepsi geziye gitti.  
 B) Çekmecedeki bütün çorapları yere döktü.  
 C) Hasta narkozun etkisinden çıkamamış.  
 D) On gün sonra okullar açılıyor.

10.	doğru	yalan
	geri	düzen
	ileri	eğri

Yukarıdaki tablodaki zıt anlamlı sözcüklerin olduğu kısımlar boyandığında tablo nasıl olur?

- A) 


 B) 

- C) 


 D) 


11. Sınavda yapılan her 3 yanlış 1 doğruyu götürüyormuş.

Yukarıdaki cümlede hangi sözcükler zıt anlamlıdır?

- A) sınav - yanlış  
 B) yanlış - doğru  
 C) sınav - götürmek  
 D) yapılan - her

12. Çocuklar bahçede mutlu mesut oyun oynuyorlardı.

Yukarıdaki cümledeki altı çizili sözcüklerle ilgili hangisi söylenebilir?

- A) Mecaz anlamda kullanılmıştır.  
 B) Zıt anlamlıdır.  
 C) Eş anlamlıdır.  
 D) Terim anlamlıdır.

13. "Dolu" sözcüğü aşağıdaki cümlelerden hangisinde "bir yağış türü" anlamında kullanılmıştır?

- A) Bayram sonrasına kadar bütün otobüsler doluymuş.
- B) Masanın üzerindeki bardakların tamamı doluydu.
- C) Şişe ağzına kadar doluydu.
- D) Dün yağın dolu bütün ekinleri vurmuş.

14. Aşağıdaki sözcük çiftlerinden hangisinin arasında diğerlerinden farklı bir anlam ilişkisi vardır?

- A) uzak - yakın
- B) kapalı - açık
- C) mühim - önemli
- D) cesur - korkak

15. Aşağıdakilerden hangisinde "bir şeye aşırı ilgi göstermek, önemle bakıp korumak" anlamında bir deyim kullanılmıştır?

- A) Yeni aldığı oyuncasını gözü gibi sakınıyordu.
- B) Elindeki kitaba göz gezdiyordu.
- C) Aldığı haberle birden gözleri parladı.
- D) Otobüse geç kalınca bileti yandı.

1.



Yukarıdaki sayılar kullanılarak yazılabilecek altı basamaklı en büyük doğal sayının okunuşu aşağıdakilerden hangisidir?

- A) Üç yüz kırk altı bin yedi yüz doksan dört
- B) Dokuz yüz dört bin altı yüz yetmiş üç
- C) Dokuz yüz yetmiş altı bin dört yüz otuz
- D) Yedi yüz dört bin dokuz yüz otuz altı

2.

Binler basamağı	= 9
Onbinler basamağı	= 3
Yüzler basamağı	= 0
Birler basamağı	= 0
Onlar basamağı	= 7
Yüzbinler basamağı	= 5

Yukarıda basamak adları ve sayı değerleri verilen sayı aşağıdakilerden hangisidir?

- A) 570 930
- B) 539 070
- C) 709 530
- D) 390 750

3.  $39821 < \underline{\hspace{2cm}} < 39928$ 

Aşağıdaki öğrencilerden hangisi noktalı yere yazılabilecek bir sayı söylemiştir?

A)  39803

B)  39912

C)  39421

D)  39942

4. Bir sayı örüntüsünün ilk terimi 4'tür. Örüntünün kuralı bir önceki sayının 2 katının 2 fazlası olduğuna göre bu örüntünün 6. terimi kaçtır?

- A) 382
- B) 190
- C) 94
- D) 46

5.

18		14
	22	
17		?

Yukarıdaki tablodaki sayılar soldan sağa ve yukarıdan aşağıya toplandığında toplam 51'dir. Buna göre "?" olan yere hangisi gelmelidir?

- A) 24    B) 26    C) 27    D) 31

6.

$$4574 + 2926$$

$$6300$$

$$6817 + 1283$$

$$5800$$

$$7500$$

$$3985 + 2315$$

$$8100$$

Yukarıdaki toplama işlemleri sonuçlarıyla eşleştirildiğinde hangisi açta kalır?

- A) 5800    B) 6300  
C) 7500    D) 8100

7.

$$(247 - \blacktriangle) + 73 = 183 + 57$$

Yukarıdaki eşitlikte  $\blacktriangle$  yerine hangi sayı yazılmalıdır?

- A) 70    B) 80    C) 90    D) 100

8.  $\blacktriangle < 1764 - 807$

$$\bullet > 3014 - 2608$$

Yukarıdaki eşitsizliklerde  $\blacktriangle$  yerine yazılabilecek en büyük sayı ile  $\bullet$  yerine yazılabilecek en küçük doğal sayının farkı kaçtır?

- A) 549    B) 577  
C) 591    D) 603

9.



Yukarıdaki ürünleri satın almak isteyen Sema yaklaşık kaç TL ödeme yapar?

- A) 860    B) 920  
C) 980    D) 1040



10.



Levent, bakkala gitmeden önce Ali'nin evine gitmiş, sonra birlikte bakkala giderek ekmek almışlardır. Ekmek aldıktan sonra eve dönen Levent, toplam kaç adım atmıştır?

- A) 2422                      B) 1925  
C) 1674                      D) 1211

11.

$$\begin{array}{r} 2a74 \\ 18b7 \\ + c423 \\ \hline 726d \end{array}$$

Yukarıdaki toplama işleminde a,b,c,d rakamlarının basamak değerleri toplamı kaçtır?

- A) 9246                      B) 2964  
C) 4269                      D) 6492

12.

$$\begin{array}{r} 576 \blacksquare \\ + 97 \blacksquare \\ \hline \blacktriangle 738 \end{array}$$

Yukarıdaki toplama işleminde sembollerin yerine yazılması gereken rakamların basamak değerleri toplamı kaçtır?

- A) 6200                      B) 6004  
C) 5020                      D) 5400




13. Bir okuldaki kız öğrenci sayısı, erkek öğrenci sayısından 48 fazladır. Bu okulda 817 kız öğrenci, 57 öğretmen vardır. 2 güvenlik görevlisi ve 7 hizmetlisiyle beraber okulda toplam kaç kişi vardır?

- A) 1639                      B) 1643  
C) 1648                      D) 1652

14. 3 toplananlı bir toplama işleminde toplananlardan ikisi birbirine eşittir. 3. sayı diğer sayılardan 38 fazladır. Bu toplama işleminin toplamı 119 olduğuna göre, büyük sayı kaçtır?

- A) 44                      B) 59  
C) 65                      D) 72

15. En çok 700 kg yük taşıyabilen bir asansöre; 63, 75, 78, 91, 118 ve 137 kg kütlesinde 6 kişi binmiştir. Asansöre en fazla 8 kişi binebileceğine göre, aşağıdakilerden hangisinde verilenler asansöre birlikte binemez?

- A)   
63kg 74 kg
- B)   
68 kg 75 kg
- C)   
83kg 39 kg
- D)   
33 kg 67 kg

1. Kayaçlarla ilgili aşağıda verilen bilgilerden hangisi yanlıştır?

- A) Kayaçlar çeşitli minerallerden ve organik maddelerden oluşur.
- B) Kayaçların hepsi aynı minerallerden oluşmuştur.
- C) Kayaçların tamamen ufalanması sonucu toprak oluşur.
- D) Madenler ekonomik değeri olan kayaçlardır.

2.  Aşağıdakilerden hangisi yandaki çelik tencerenin yapımında kullanılan bir madendir?



Altın



Kömür





Mermer




Krom

3. Aşağıdaki öğrencilerden hangisi fosil kavramını doğru olarak anlatmıştır?

A)  Geçmiş zamanlarda ağaç kabuklarının içinde ölmüş ve kalıplaşmış hayvanlardır.

B)  Magmanın kuruyup sertleşmesiyle oluşan yapılardır.

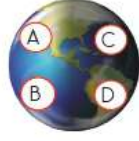
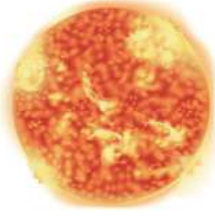
C)  Geçmiş zamanlarda yaşamış olan canlıların kayaçlar içinde taşlaşmış olarak bulunan kalıntı ve izleridir.

D)  Sıcaklık farkı, yağmur ve rüzgâr gibi etkenlerle aşınıp parçalanan kayaçlardır.

4. Aşağıda verilen bilgilerden hangisi yanlıştır?

- A) Dünya kendi eksenini etrafında dönerken Dünya'nın Güneş ışınlarını alan tarafları aydınlanır, almayan tarafları karanlıkta kalır.
- B) Gün içinde gece gündüzü takip eder.
- C) Dünya'nın kendi etrafında dönmesi nedeniyle cisimlerin gölge boyları gün içinde değişir.
- D) Dünya'nın kendi etrafında dönme süresi yazın daha uzundur.

5.



Yukarıdaki şekle göre hangi harfle gösterilen yerlerde gündüzdür?

- A) A ve B      B) A ve C  
C) B ve D      D) C ve D

6. I. Mevsimler arasındaki sıcaklık farkı

II. Gün içinde gölge boylarının değişmesi

III. Gece ve gündüzün oluşması

IV. Mevsimlerin oluşması

Yukarıdakilerden hangileri Dünya'nın Güneş'in etrafında dolanması sonucunda oluşur?

- A) I ve II      B) II ve III  
C) I ve IV      D) III ve IV

7. Besin içerikleri ve sağladıkları yararlar hangisinde yanlış eşleştirilmiştir?

- A) Karbohidratlar → Enerji verir.  
B) Proteinler → Yapıcı ve onarıcıdır.  
C) Yağlar → Şişmanlatır.  
D) Vitaminler → Düzenleyicidir.

8. Aşağıdakilerden hangisi olmadan bir canlının yaşamını sürdürmesi mümkün değildir?

- A) Su      B) Protein  
C) Yağ      D) Vitamin

9. I. Vitaminlerin en çok bulunduğu besinler sebze ve meyvelerdir.

II. Su tüm besinlerde bulunur.

III. Gün içinde ihtiyacımız olan bütün enerjiyi zeytinyağı, ayçiçeği yağı, mısır yağı gibi yağ çeşitlerinden elde ederiz.

IV. Zekâ ve kas gelişiminde, saç ve tırnakların uzamasında proteinler görevlidir.

Besinler ve içerikleriyle ilgili yukarıda verilen bilgilerden hangileri doğrudur?

- A) I ve II      B) I ve III  
C) I, II ve III      D) I, II ve IV


10. Vücudumuzun temel enerji verici besini olan ve günlük yaşam faaliyetlerimizi ilk olarak karşıladığımız besin grubu aşağıdakilerden hangisidir?


- A) Karbonhidratlar
- B) Proteinler
- C) Yağlar
- D) Mineraller


1. Kimlik kartlarında bulunan, aşağıdaki bilgilerden hangisi herkesin kimlik kartında farklı olmak zorundadır?


- A) Ad-soyad
- B) Doğum tarihi
- C) T.C. kimlik numarası
- D) Uyuşu

2. Aşağıdaki öğrencilerden hangisi "kronoloji" kavramını doğru olarak açıklamıştır?

A)  Fotoğrafların yer aldığı albümdür.

B)  Bir kimsenin gün içinde yaşadıklarını yazdığı defterdir.

C)  Olayların oluş sırasına göre sıraya konulmasıdır.

D)  Öğrencilerin otobüse indirimli olarak binmelerini sağlayan belgedir.

3.



Merhaba ben Fatma. Piyanoya çalmayı çok seviyorum. Haftada iki kere piyano öğretmenimle birlikte çalışma yapıyorum. İyi bir piyanist olduğumda okulumda konser vermek istiyorum. İleride doktor olsam bile piyanoya çalmayı bırakmayı düşünmüyorum.

Fatma'nın kendisiyle ilgili verdiği bilgilerden faydalanarak aşağıdakilerden hangisini söyleyemeyiz?

- A) Fatma piyanoya çalmaktadır.
- B) Fatma'nın en sevdiği ders müzik dersidir.
- C) Fatma ileride konser vermek istemektedir.
- D) Fatma doktor olduğunda da piyanoya çalmayı düşünmektedir.

4. Aşağıdakilerden hangisinde bir yetenekten bahsedilmiştir?

- A) Oyun programlarının nasıl yazıldığını çok merak ediyorum.
- B) Duyduğum ya da okuduğum bir şeyi hemen ezberleyebiliyorum.
- C) Sofrayı kurarken anneme hep yardım ediyorum.
- D) Kardeşimle birlikte her pazar basketbol oynamaya gidiyoruz.

5. Aşağıdakilerden hangisi farklılıklara saygılı olan bir bireyin yapması gereken davranışlardan değildir?

- A) Bedensel engelli kişilerin spor yapmasına engel olması
- B) Farklı kültürlerdeki insanlarla arkadaşlık kurması
- C) Hatalı davranan arkadaşlarına anlayış göstermesi
- D) İşitme sorunu yaşayan arkadaşına yardımcı olması

6.

Millî Kültür Öğelerimiz		
Düğün törenleri	Sünnet düğünleri	
		Gölge oyunu

Aşağıdakilerden hangisi yukarıdaki tablodaki boşluklara yazılabilecek öğelerden değildir?

- A) Yılbaşı eğlenceleri
- B) Sema gösterisi
- C) Tarihi eserlerimiz
- D) Halk oyunlarımız

7. ★ Dedemizin askerdeyken yazdığı mektuplar

- Aile büyüklerimizin çocukluk fotoğrafları
- ▲ Babaannemizin eski kıyafetlerinden bazıları
- Anneannemizin su doldurmak için kullandığı toprak testi

Yukarıdakilerden hangileri aile tarihimizi oluştururken aile büyüklerimizle yaptığımız söyleşiyi destekleyici materyallerdendir?

- A) ★ - ▲
- B) ● - ■
- C) ▲ - ■ - ●
- D) ★ - ● - ▲ - ■

8. Selma dedesinden geçmişte arkadaşlarıyla oynadığı oyunlardan bahsetmesini istemiştir.

Aşağıdakilerden hangisi Selma'nın dedesinin bahsettiği oyunlardan biri olamaz?

- A) Topaç çevirme
- B) Atari oyunları
- C) Saklambaç
- D) Çelik çomak

9. Aşağıdakilerden hangisi yurdumuzun işgallerden kurtarılması için yapılanlardan biri değildir?

- A) Türk halkının işgallere karşı kadın, erkek, genç, yaşlı demeden mücadele etmeleri
- B) Kuvayimillîye birliklerinin kurulması
- C) Mustafa Kemal ve arkadaşlarının Anadolu'da millî bilinci uyandırmak için çalışmalar yapması
- D) I. Dünya Savaşı'nın başlatılması

10. Aşağıdakilerden hangisinin Millî Mücadele sırasında kadın, erkek, genç, yaşlı demeden mücadele eden halkımızın ortak özelliği olduğunu söyleyebiliriz?

- A) İyi silah kullanabilmeleri
- B) Fransızlara karşı savaşmaları
- C) Vatanlarını çok sevmeleri
- D) Çok güçlü olmaları



1. Student: May I come in?

Teacher: \_\_\_\_\_


Yukarıdaki diyalogda noktalı yere hangisi gelmelidir?

- A) Here you are.
- B) Look at the board, please.
- C) Please come in.
- D) Open the window, please.

2. Aşağıdaki eşleştirmelerden hangisi yanlıştır?

A)  ⇒ look at the board.

B)  ⇒ be quiet

C)  ⇒ Close the door.

D)  ⇒ Clean the board

3. \_\_\_\_\_ the window.

Noktalı yere hangisi gelmelidir?

- A) come
- B) look
- C) close
- D) back


4.



Tahtadaki sayının okunuşu hangisidir?

- A) thirty-five
- B) forty-five
- C) forty-seven
- D) twenty-five

5.  Are you \_\_\_\_\_?

 No, I am not. I am French.

Yukarıdaki diyalogda noktalı yere hangisi gelmelidir?

- A) from France
- B) British
- C) a student
- D) from

## CEVAP ANAHTARI

TÜRKÇE	1	2	3	4	5	6	7	8	9	10	11	12	13	14	15
	B	B	D	A	C	D	C	B	C	C	B	C	D	C	A
MATEMATİK	1	2	3	4	5	6	7	8	9	10	11	12	13	14	15
	C	B	B	B	A	A	B	A	D	A	B	B	D	C	B
FEN BİLİMLERİ	1	2	3	4	5	6	7	8	9	10					
	B	D	C	D	A	C	C	A	D	A					
SOSYAL BİLGİLER	1	2	3	4	5	6	7	8	9	10					
	C	C	B	B	A	A	D	B	D	C					
İNGİLİZCE	1	2	3	4	5										
	C	D	C	B	B										