



AKILLIM 2. SINIF

1. HAFTA (9-13 EYLÜL)

TÜM DERSLER

ETKİNLİK SAYFALARI

BAĞLANTI İÇİN İLGİLİ PARMAK İZİNE TIKLAYINIZ



SETİ İNCELE



SİTEDEN SİPARİŞ



WHATSAPP İLETİŞİM



OKUL DA BİZİM EVİMİZ

Okulun ilk günüydü. Çok heyecanlıydım. Annemden ve babamdan ayrı geçireceğim ilk gündü. Öğretmenimi çok sevmiştim. Ama önünde heyecandan kayıp düştüm. Çok utanmışım. Öğretmenim hemen yanıma geldi ve beni yerden kaldırdı. Dizim kanamıştı. Öğretmenim beni revire götürdü. Hemşire dizime pansuman yapıp bant yapıştırdı. Çok güler yüzlüydü.



Öğretmenim bana sarıldı, "Eğer tekrar yaralanırsan ve ben yakınında değilsem buraya gelebilirsin. Ya da başka bir şeye ihtiyacın olursa, nöbetçi öğretmenlerden de yardım isteyebilirsin. Unutma okul da senin evin. Burada yalnız değilsin!" dedi.

Yukarıda verilen metne göre soruları cevaplayalım.

1 Çocuk neden düşmüş?

2 Çocuk yere düşünce kim onu kaldırdı?

3 Öğretmen çocuğu nereye götürdü?

4 Çocuk okulda başka kimlerden yardım isteyebilir?



Yukarıdaki görsele göre aşağıdaki soruları cevaplayınız

Salıncakta oynayan çocukların adlarını yazar mısın?

Hulahop çeviren çocukların adlarını yazar mısın?

Görseldeki çocuklar nerede oynuyorlar?

Meriç'in elindeki balonlar hangi renktedir?

Parkta bulunan oyun araçlarının adlarını yazar mısın?

ELİT BİLGİ

HARF BİLGİSİ

Ağzımızdan çıkan sesleri gösteren işaretlere **harf** denir.

1. Aşağıdaki tabloda eksik kalan harfleri yazınız.



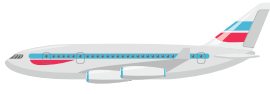








A			Ç				Ğ	
			K				Ö	
		Ş					Z	

2. Aşağıdaki görsellerin adlarını ve harf sayısını örnekteki gibi kutucuklara yazınız.



Çiçek

5



Dilimizde "Ğ" harfiyle başlayan sözcük yoktur.

3. Aşağıdaki sözcüklerin son harfini kırmızı kalemınız ile yuvarlak içine alınız. Yuvarlak içine aldığınız harf ile başlayan sözcük yazınız. Yazdığınız sözcüğün son harfi ile başlayan 3. sözcüğü oluşturunuz.

1. Sözcük	2. Sözcük	3. Sözcük
kalem	masa	ayakkabı
lale		
kelebek		
ağaç		
kitap		
mısır		
uzay		
gemi		

4. Tabloya istenen harf sayısına uygun sözcükler yazınız.

2 Harfli Sözcük	3 Harfli Sözcük	4 Harfli Sözcük	5 Harfli Sözcük
at	kuş	anne	balon

SİNCABIN YALNIZLIĞI



Masal masal içinde, kalbur saman içinde, zamanın birinde parlak mı parlak tüyleri olan güzel bir sincap yaşarmış. Sincap kendini öyle çok beğenirmiş ki başka kimseleri beğenmezmiş. Bu yüzden de kimse sincapla arkadaşlık etmek istemezmiş. Günün birinde sincap tek başına yemek aramaya çıkmış. Ortalıkta hiç kimseyi görememiş. Bütün orman halkı birlikte eğlence düzenlemiş.

1. Aşağıdaki soruları masala göre cevaplayınız.

- Masalda aynı harf ile başlayan cümleleri yazalım.

.....

.....

- Masalın başlığında kaç tane harf vardır?

.....

- Masalda harf sayısı en fazla olan sözcük hangisidir?

.....

- Masalda geçen üç harfli sözcükler hangileridir?

.....

- Masalda harf sayısı en fazla olan cümle kaçınıcı cümledir?

.....

2. Aşağıdaki cümlede eksik bırakılan harfleri masaldan bularak yazınız.

- Gü...ün birinde ...in...ap ...ek ba...ına ...e...ek aramaya çık...ı.....

BİLMECE - BİLDİRMECE

Ceviz, fındık ile beslenir.

Tüylü, kıvrık kuyruğuyla










Ağaç kavuğunda gizlenir.

CEVAP

--	--	--	--	--	--	--

Ğ ile sözcük başlamaz		
		
		

Verilen görseller arasında bağlantı bulunmaktadır. Örnekteki gibi tablodan bağlantılı olan görseli bulunuz. Görseli ve harf sayısını yazınız. Görsele ulaşmak için robotun izlemesi gereken yolu yazınız.

			<p>İzlemesi Gereken Yol 2 kare yukarı, 1 kare sağa 2 ↑ 1 →</p>
Kalem	Makas	Saat	
5	5	4	
			
			
			

ELİT BİLGİ

Dildeki sesi gösteren ve alfabe oluşturulan işaretlerin her birine harf (ses) denir. Alfabemizde 29 harf vardır.

1. Alfabedeki eksik harfleri tamamlayalım.

A	D	Ğ
a	d	ğ
.....	İ	N
.....	i	n
.....	Ş	Y
.....	ş	y

2. Alfabedeki eksik harfleri tamamlayalım.

a	c
---	-------	---	-------	-------	-------

f	h
---	-------	-------	---	-------	-------

k	l
---	---	-------	-------	-------	-------

ş	u
---	-------	---	-------	-------	-------

3. Aşağıdaki varlıkların adını yazın. İstenen harfi yazalım.



Bilgisayar


5. harfi:s.....



3. harfi:



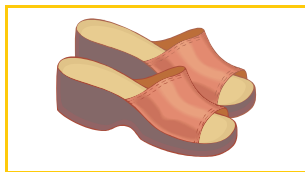
2. harfi:



5. harfi:



6. harfi:



4. harfi:



5. harfi:



6. harfi:

OKULUM

Seni bana sevdiren,
Nedir diye sorsalar.
Defter, kitap, kalemim,
Melek öğretmenim derim.

Her gün sana koşarım,
Neşe, bilgi verirsin.
Öğrettiğin şeylerle,
Hayatta yükselirim

Işıklı yollarından,
Yürüyoruz hepimiz,
Okulum sen olmasan
Ulusça gerileriz.

Arife HANCI



Aşağıdaki soruları şiire göre yanıtlayalım.

1. Şiire göre şaire okulu sevdiren nedir?

.....

.....

2. Şiire göre şair hayatta nasıl yükseliyor?

.....

.....

3. Şaire göre okul olmasa ne olur?

.....

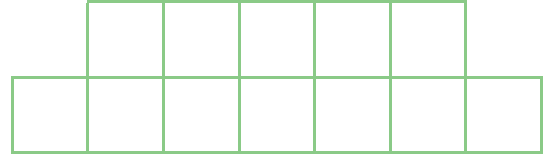
.....

Rakamları Hatırlayalım

Bulmacada gizlenmiş olan rakamları bularak boyayalım. Kalan harfleri sırası ile yazarak gizli sözcükleri bulalım.

D	O	D	O	K	U	Z	Ğ	A	S
A	B	İ	R	Ü	Ç	L	D	İ	E
L	S	İ	F	İ	R	S	Ö	K	K
T	A	Y	B	E	Ş	İ	R	İ	İ
İ	L	Y	E	D	İ	A	T	R	Z

GİZLİ SÖZCÜKLER




ELİT BİLGİ

Bir topluluktaki varlıkların miktarını belirlemek için sayıları kullanırız. Sıfırdan başlayarak sonsuza kadar giden sayılara **doğal sayılar** denir.

Aşağıdaki nesnelerin sayılarını, rakamla yazılışlarını ve sayıların okunuşlarını inceleyelim.

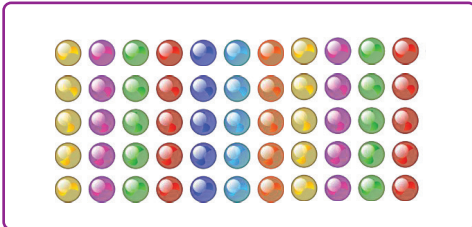


14 On Dört





Yirmi Bir 21


Aşağıdaki nesnelerin sayılarını ve okunuşlarını yazalım.





1. Verilen nesnelerin sayılarını noktalı alanlara yazalım.














2. Verilen sayılardan önce ve sonra gelen sayıları yazalım.

	2	
--	---	--

	4	
--	---	--

	7	
--	---	--

	9	
--	---	--

	13	
--	----	--

	15	
--	----	--

	17	
--	----	--

	19	
--	----	--

	20	
--	----	--

1. Verilen sayıları okunuşları ile eşleştirelim.

19	•	•	on sekiz	10	•	•	on altı
17	•	•	on dokuz	12	•	•	on iki
18	•	•	on beş	13	•	•	on
15	•	•	on yedi	16	•	•	on üç


2. Sayıların okunuşlarını altlarındaki boş alanlara yazalım.

10	20	30	40
50	60	70	
80	90	100	

3. 20'den büyük olan sayıları boyyalım.


35	78	12	35	37	55	4	95	71	58
1	56	2	87	15	92	11	53	5	33
8	51	13	71	10	25	16	94	7	83
14	53	9	53	3	56	16	37	6	95
18	96	19	46	40	66	20	63	88	75

4. Nesnelerle sayıları eşleştirelim.




25

28



36

39



5. Verilen sayıların okunuşlarını yazalım.

64:

74:

58:

82:

91:

39:

18:

71:

47:

66:

99:

75:

3. Aşağıdaki soruları cevaplayalım.

- 79 ile 81 arasındaki sayı kaçtır?
- İki basamaklı en büyük sayı kaçtır?
- 46'dan sonraki sayı, hangi sayıdan önce gelir?


4. Verilen sayılardan önceki ve sonraki sayıları yazalım.


	78			61			32			29	
	35			70			49			38	
	46			57			63			36	


5. Yüzlük tabloda boş bırakılan sayıları tamamlayalım.

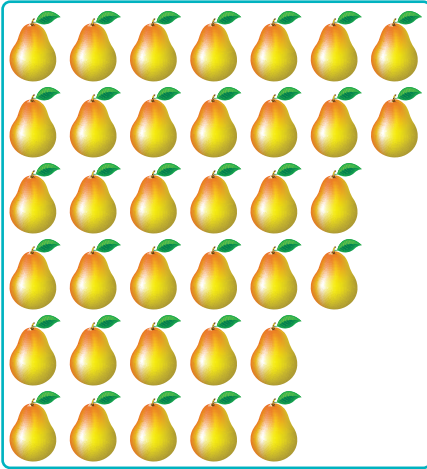
	2	3	4		6	7	8	9	
11		13	14	15		17	18		20
21	22		24		26	27		29	30
31	32	33		35			38	39	40
	42		44				48		50
51		53				57		59	
61	62	63					68	69	70
71	72		74	75		77		79	80
81		83	84		86	87	88		90
	92	93	94	95		97	98	99	


Aşağıdaki meyvelerin sayılarını altlarındaki kutucuklara yazalım. Meyve-lerle ilgili cümleleri uygun ifadelerle tamamlayalım.














- Muzların sayısı'dir.
- Sayısı 36 tane olan meyvetur.
- Eriklerin sayısı şeklinde okunur.
- Karpuzların sayısı'dir.
- Sayısı 25 tane olan meyvedır.
- Çileklerin sayısı şeklinde okunur.

1. Aşağıdaki çocukları ok çizerek almak istedikleri oyuncaklarla eşleştirelim.

Altmış beş liralık bir
oyuncak alacağım.



65 TL



Kırk
sekiz
lira


Yirmi beş liralık bir
oyuncak alacağım.



On dokuz liralık bir
oyuncak alacağım.



19 TL



Yetmiş
dokuz
lira


48 liralık bir oyun-
cak alacağım.



79 liralık bir oyun-
cak alacağım.



Otuz
dokuz
lira



25 TL

39 liralık bir oyun-
cak alacağım.



Ada Duru'nun sayılar ile okunuşlarını eşleştirmesine yardımcı olur musun?
Sayılar ile eşleşen renkleri tabloda boyayalım.

Yirmi sekiz	33	28	Kırk beş
Yetmiş üç	14	56	Altmış beş
Elli altı	73	84	Doksan yedi
Seksen dört	39	97	On dört
Otuz dokuz	65	45	Otuz üç




65	65	65	65	65	33	65	65	65	65
65	65	65	65	28	33	33	65	65	65
65	65	65	65	28	33	33	33	65	65
65	65	65	65	28	84	65	65	65	65
65	65	65	65	65	33	65	65	65	65
65	65	65	65	65	84	65	65	65	65
65	33	84	33	84	33	65	65	65	65
65	65	33	84	33	84	65	65	65	65
65	65	84	65	65	33	65	65	65	65
56	56	28	56	56	28	56	56	56	56


1. Tablodaki hayvanların yerine hangi sayılar yazılmalıdır?


1		3	4	5	6	7	8	9	10
11	12	13	14	15	16		18	19	20
	22	23	24		26	27	28	29	30
31	32		34	35	36	37	38	39	40
41	42	43		45	46	47	48		50
51	52	53	54	55		57	58	59	60
61	62		64	65	66	67	68		70
	72	73	74	75	76	77		79	80
81	82	83	84	85		87	88	89	90
91		93	94	95	96	97	98	99	





2. Balıkları sayalım ve balık sayılarını altlarına yazalım.














3. Aşağıdaki sayıların okunuşlarını yazalım.

12

29

73

51

81

95

ELİT BİLGİ

Saç rengi, şekli, göz rengi, boy, kilo gibi dışarıdan bakınca görülebilen özelliklerimiz fiziksel özelliklerdir.

Çalışkan olmak, resim yapabilmek gibi dışarıdan bakınca görülemeyen duygular ve yeteneklerimize de kişisel özellikler deriz.

İnsanların yetenekleri, becerileri ve ilgileri farklı olabilir. Bireylerdeki bu farklılıklar doğaldır. Farklılıklarımız bizi eşsiz ve özel yapar.

1. Aşağıdaki çocukların adlarını fiziksel özelliklerini okuyarak bulur musun?



--	--	--	--	--

Mehmet	Uzun boylu, kumral ve zayıfım. Gözlük kullanıyorum.
Sıla	Kısa boylu ve kiloluyum. Saçlarım kırmızı ve uzun.
Tuna	Sarı saçlı ve biraz kiloluyum. Boyum normal.
Ezgi	Kısa ve sarı saçlıyım. Uzun boyluyum. Kilom normal.
Deniz	Sarı saçlı ve normal boydayım. Gözlük kullanıyorum.

2. Aşağıdaki özellikleri kendinize ve arkadaşınıza göre tamamlayınız.

Benim

Fiziksel özelliklerim

.....

.....

Kişisel özelliklerim

.....

.....

Arkadaşımın

Fiziksel özelliklerim

.....

.....

Kişisel özelliklerim

.....

.....

3. Aşağıdaki özelliklerden fiziksel olanları yeşile, kişisel olanları maviye boyayın.

mavi gözlü olmak

hayvansever olmak

keman çalmak

kıvrık saçlı olmak

satranç oynamak

çalışkan olmak

uzun boylu olmak

zayıf olmak



Sarı saçlı,
kısa boyluyum.

Murat



Kıvrık saçlı,
esmerim.

Fatma



Futbol oynamayı çok
severim.

Kaan

1. Yukarıdaki çocuklardan hangileri fiziksel özelliklerinden bahsetmiştir?

A. Fatma - Kaan

B. Murat - Fatma

C. Murat - Kaan

2. Farklılıklara saygı duymak neden önemlidir?

A. Çünkü bütün insanlar değerlidir.

B. Çünkü bazı insanlar değerli değildir.

C. Çünkü bazı insanlar değerlidir.

3. Aşağıdaki özelliklerden hangisi zamanla değişmez?

A. Boyumuz

B. Kilomuz

C. Göz rengimiz

BEN KİMİM?

Benim adım:

Doğduğum yer:

Doğduğum tarih:

Annemin adı:

Babamın adı:

Kardeşlerimin adı:

.....

En iyi arkadaşlarım



.....
.....
.....

En sevdiğim oyunlar



.....
.....
.....

En sevdiğim hayvan



.....
.....

En sevdiğim yemek



.....
.....

Yapmaktan hoşlandıklarım



.....
.....
.....

Yapmaktan hoşlanmadıklarım

.....
.....
.....

Fotoğrafım (İstersen sen çiz)

.....

Boyum:

Kilom:

Saç rengim:

Göz rengim:

En sevdiğim kitap



.....
.....

1. Fiziksel özellikleri kırmızı, kişisel özellikleri yeşil boyayalım.

Saç rengi

İyimser olmak

Göz rengi

Çalışkan olmak

Boy

Düzenli olmak

Temiz olmak

Kilo

Hayvanseverlik



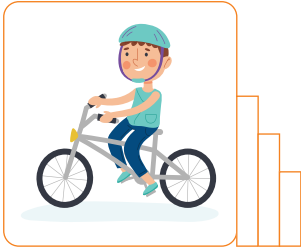


Yardımseverlik

Saç şekli

Yüz şekli

2. Aşağıda verilen etkinliklerde kendini ne kadar yeterli hissediyorsun?

Yeterli hissettiğin kadarını boya.



3. Aşağıdaki tabloya fiziksel ve kişisel özelliklerinizi yazın.

Fiziksel Özelliklerim

.....

.....

.....

.....

Kişisel Özelliklerim

.....

.....

.....

.....

1. Aşağıda fiziksel özelliklerin belirtildiği kutuyu sarıya, kişisel özelliklerin belirtildiği kutuyu maviye boyayalım.

Çok hızlı koşarım.

Yeşil gözlüyüm.

Kedileri çok severim.

Resimlerimi herkes beğenir.

Beyaz tenliyim.

Uzun boyluyum.

Saçlarım kıvrıktır.

Tiyatro gösterisinde görev aldım.

Zayıfım.

Gözlüklüyüm.

Basketbol takımındayım.

Şiir yazıyorum.

Hayvanları çok severim.

Gitar çalıyorum.

Saçlarım kısadır.

2. Aşağıdaki soruları arkadaşınızla birlikte yanıtlayın.

Benim Özelliklerim

.....

.....

.....



Arkadaşımın Özellikleri

.....

.....

.....



Benzer Özelliklerimiz

.....

.....

.....



Farklı Özelliklerimiz

.....

.....

.....



TÜRKÇE

: Harf Bilgisi

MATEMATİK

: Nesne Sayısını Belirleme, Onluk ve Birliklerine Ayırma

HAYAT BİLGİSİ:

Kendimizi Tanıtıyoruz, Bireysel Farklılıklarımız

1 → b - c - ç - d - ▲ - f

→ r - s - ş - ■ - u - ü

→ l - m - n - o - ★ - p

Yukarıda verilen sembollerin yerine hangi harfler gelmelidir?



A) g v r

B) e t ö

C) h p k

2 Alfabemizdeki harflerle ilgili aşağıda verilen bilgilerden hangisi yanlıştır?

A) Alfabemizin son harfi "z" dir.

B) Alfabemizde 8 ünlü harf vardır.

C) Türkçe'de "j" harfi ile başlayan sözcük yoktur.

3



Yukarıdaki sözcükler sözlük sırasına göre sıralandığında hangisi 3. sırada olur?

A) cam

B) ceviz

C) çark

4



Yukarıdaki sözcükler sözlük sırasına göre sıralandığında hangisi son sırada olur?

A) 2

B) 3

C) 5

5



Aşağıdakilerden hangisi trenin vagonlarında eksik olan harflerden biri değildir?

- A) R B) U C) Y

6

“uçurtma” sözcüğü sözlükte aşağıdaki hangi sözcükler arasında yer alır?

- A) şeker - tekne
B) uyku - ülke
C) tufan - uçurum


7

masal - mendil - muhabir -
mermer

Yukarıdaki sözcüklerin sözlük sırasına göre sıralanması için aşağıdakilerden hangisi yapılmalıdır?

- A) Muhabir ve mermer sözcükleri yer değiştirmelidir.
B) Mendil sözcüğü muhabir ve mermer sözcüklerinin arasına getirilmelidir.
C) Mermer sözcüğü en başa getirilmelidir.

8



Akvaryumlardaki toplam balık sayısının yazılışı ve okunuşu hangisidir?

- A) 13 → on üç
B) 15 → on beş
C) 16 → on altı

9



Kalemliklerdeki kalemlerin toplam sayısının okunuşu aşağıdakilerden hangisidir?

- A) on sekiz
B) yirmi bir
C) yirmi iki

1. HAFTA

10



Sincabın topladığı meşe palamudu sayısının okunuşu aşağıdakilerden hangisidir?

A) Yirmi iki

B) Yirmi dört


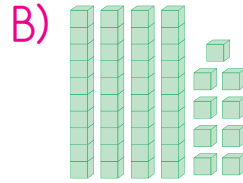
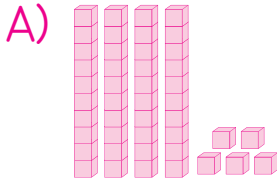
C) Yirmi beş

11



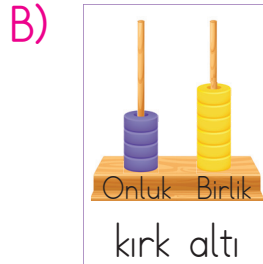
Benim aklımdan tuttuğum sayı 4 des-
teden beş fazladır.

Sami'nin aklından tuttuğu sayının blok-
larla gösterimi aşağıdakilerden hangi-
sidir?



12

Abaküslerde verilen sayılardan hangisinin okunuşu yanlış yazılmıştır?



13

Aşağıdaki ifadelerden hangisi doğrudur?

A) 2 deste, 2 düzineden fazladır.

B) 3 deste, 2 düzineden 6 fazladır.

C) 3 düzinede 3 onluk 4 birlik vardır.

14 2. sınıfa yeni başlayan bir öğrenci sınıftaki arkadaşlarıyla tanışırken ilk önce hangisini söylemelidir?

- A) Babasının adını
- B) Adını ve soyadını
- C) Doğum yerini

15 Aşağıdakilerden hangisi fiziksel özelliğimiz değildir?

- A) Saçımızın uzunluğu
- B) Saç rengimiz
- C) Sevdiğimiz yemek

16 Bazı fiziksel özelliklerimiz arkadaşlarımıza benzese de, ilgi ve yeteneklerimiz arkadaşlarımızdan farklı olabilir.

Aşağıdakilerden hangisinde bir yetenekten bahsedilmiştir?

- A) Gözlerimin rengi yeşildir.
- B) Boyum arkadaşlarıma göre daha kısadır.
- C) Çok iyi bisiklet sürerim.

17 Aşağıdakilerden hangisinde bir ilgi alanından bahsedilmektedir?

- A) Müzik dinlemeyi severim.
- B) Takı eşyaları yapabilirim.
- C) Ayakkabılarımı kolayca bağlayabiliyorum.

18



Erkan

Saçlarım portakal rengi ve kısadır.



Burak

Yatmadan önce kitap okumayı çok severim.



Suat

Çiçek yetiştirmekten hoşlanırım.

Yukarıdaki çocuklardan hangisi kendisini farklı bir özelliğiyle tanıtmıştır?

- A) Erkan
- B) Burak
- C) Suat