



Kıymetli meslektaşlarım, velilerim;

Değerlendirme sınavının konuları 7-8 Kasım tarihlerinde uygulanacak şekilde hazırlanmıştır. Daha çok öğrencimize ulaşması için erkenden paylaşıyoruz. Sizler de dilediğiniz gibi paylaşabilirsiniz.

Faydalı olması dileğiyle, güle güle kullanın...

Hasan Yıldırım



Kasım Ara Tatil Çalışma Kitapları



1.SINIF



2.SINIF



3.SINIF



4.SINIF



SİTEDEN SİPARİŞ



WHATSAPP SİPARİŞ



2. SINIF GENEL DEĞERLENDİRME SINAVI - I

7-8 Kasım 2024



Adı Soyadı : Sınıfı : No :

Atatürk

Atatürk, Selânik'te doğmuştur. Annesinin adı Zübeyde Hanım, babasının adı Ali Rıza Bey'dir. Küçük yaşta babasını kaybedince annesi Zübeyde Hanım ve kız kardeşi Makbule Hanım ile birlikte dayısının çiftliğine yerleşmiştir. Çiftlikte dayısı ona ve kız kardeşine mısır tarlasında bekçilik görevi vermiştir.



(İlk 3 soruyu metne göre cevaplayalım.)

1- Atatürk nerede doğmuştur?

A) Selânik B) Ankara C) İstanbul

2- Aşağıdakilerden hangisi Atatürk'ün aile bireylerinden biri değildir?

A) Ali Rıza Bey
B) Rümeyza Hanım
C) Zübeyde Hanım

3- Çiftlikte dayısı Atatürk'e ve kız kardeşine hangi görevi vermiştir?

A) Aşçılık B) Bekçilik C) Çobanlık

4- Aşağıdaki sözcüklerden hangisinde ünlü ve ünsüz harf sayısı birbirine eşittir?

A) Masa B) Sehpa C) Tahta

5- Alfabemizle ilgili verilen ifadelerden hangisi yanlıştır?

A) Alfabemizde 29 harf vardır.
B) Alfabemizdeki ünlü harf sayısı 21'dir.
C) 'ğ' harfi ile başlayan sözcük yoktur.

6- ★ İsmi 3 hecelidir.

★ İsminde sadece kalın ünlüler var.

Yukarıda verilen özellikler görseldeki hayvanlardan hangisine aittir?

A)  B)  C) 

7- Aşağıdaki sözcüklerden hangisi satır sonuna doğru bir şekilde yazılmıştır?

A) cumhu-
riyet B) cöm-
ert C) t-
raktör



2. SINIF GENEL DEĞERLENDİRME SINAVI - I




7-8 Kasım 2024




8- Hangi cümlenin sözcük sayısı diğerlerinden farklıdır?

- A) Havalar soğumaya başladı.
B) Göçmen kuşlar göç etti.
C) Yakında sobaları yakarız.

9- Hangi varlığın adı sözlükte diğerlerinden önce yer alır?

- A)  B)  C) 

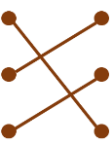


10- Hangisi görseldeki varlığın çağrışım yaptığı bir sözcük **değildir**?



- A) Deniz
B) Kaptan
C) Orman

- 11- 27 ● ● elli
50 ● ● yetmiş üç
73 ● ● yirmi yedi

Yukarıdaki sayılarla okunuşları hangi seçenekte doğru eşleştirilmiştir?

- A)  B)  C) 

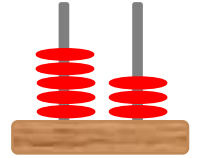
12- 2 deste kuru boyam, 1 düzine pastel boyam var.



Verdiği bilgiye göre Ragad'ın boya kalemi sayısı hangi seçenekte **doğru** olarak verilmiştir?

- A) 24 kuru boya, 10 pastel boya
B) 20 kuru boya, 12 pastel boya
C) 20 kuru boya 10 pastel boya

13- Yandaki abaküste soldaki çubuktan 2 boncuk alıp sağdaki çubuğa taktığımızda hangi sayı oluşur?



- A) 35 B) 53 C) 71

14- Hangi sayının basamak değerleri **yanlış** verilmiştir?

- A)

33
30 3

 B)

50
5 0

 C)

87
80 7

15- Aşağıdaki ritmik saymalardan hangisinde **yanlışlık** yapılmıştır?

- A) 42-40-38-36-34-32
B) 15-18-21-24-27-30
C) 40-36-31-28-24-20



2. SINIF GENEL DEĞERLENDİRME SINAVI - I

7-8 Kasım 2024



16- 5'ten başlayıp ileriye doğru 3'er ritmik sayma örüntüsü

Yukarıdaki kural hangi örüntüye aittir?

- A) 5-8-11-14-17-20
B) 5-9-13-17-21-25
C) 5-10-15-20-25-30

17- 80 52 9 69 17

Yukarıdaki sayılar küçükten büyüğe doğru sıralandığında hangi sayı en ortada yer alır?

- A) 17 B) 52 C) 69

18- Hangi sayının yakın olduğu onluk **yanlış** verilmiştir?

- A) 28→30 B) 44→50 C) 65→70

19- Aşağıdaki toplama işlemlerinden hangisinde toplamın en yakın olduğu onluk 90'dır?

- A) $\begin{array}{r} 35 \\ + 36 \\ \hline \end{array}$ B) $\begin{array}{r} 37 \\ + 38 \\ \hline \end{array}$ C) $\begin{array}{r} 48 \\ + 39 \\ \hline \end{array}$

20- Aşağıdaki çıkarma işlemlerinden hangisinin sonucu **yanlıştır**?

- A) $\begin{array}{r} 84 \\ - 66 \\ \hline 22 \end{array}$ B) $\begin{array}{r} 70 \\ - 43 \\ \hline 27 \end{array}$ C) $\begin{array}{r} 94 \\ - 69 \\ \hline 25 \end{array}$

21- Aşağıdaki cümlelerden hangisinde fiziksel özellikten bahsedilmiştir?

- A) Asafın saç rengi siyahtır.
B) Ümran futbol oynamayı sever.
C) Rabia çok güzel resim yapar.

22- Sınıfımıza yeni gelen Suriyeli arkadaşımız hiç Türkçe bilmiyor.



Verdiği bilgiye göre Yusuf hangisini yaparsa yeni arkadaşına yardımcı olmuş olur?

- A) Sadece Suriyeli arkadaşlarıyla oynamasını istemeli
B) Teneffüslerde onunla vakit geçirerek Türkçe öğrenmesine yardımcı olmalı
C) Türkçe öğrenmezse onunla oynamayacağını söylemeli

23- Hangisi çantamızı ders programına göre **hazırlamadığımız** zaman oluşabilecek sorunlardan biridir?

- A) Çantamızda gereksiz araçlar olur.
B) Derse hazırlıklı gelmiş oluruz.
C) Çantamızda aradığımızı kolayca buluruz.



2. SINIF GENEL DEĞERLENDİRME SINAVI - I

7-8 Kasım 2024



- 24- ▲ Öğrenci
■ Öğretmen
● Müdür

Yukarıdakilerden hangileri sınıf içinde kararlar alınırken söz hakkına sahiptir?

- A) ▲ ■ B) ▲ ● C) ■ ●

25- Okulumuzun yerini tarif etmek için okulumuzla ilgili hangi bilgiye ihtiyacımız **yoktur**?

- A) Bulunduğu sokak
B) Çevresindeki yapılar
C) Öğrenci sayısı

26- Temizlikte yanındayım,
Mikropları kovalarım,
Gereksiz harcama beni,
Güzel güzel kokarım.

Yukarıdaki dörtlük okulda kullandığımız hangi kaynağa aittir?

- A)  B)  C) 




27- Hangisi grup çalışması yapan bir öğrencide bulunması gereken özelliklerden biri **değildir**?

- A) İş birliği içinde olmak
B) Kıskanç olmak
C) Nezaket kurallarına uymak

28- Hangi seçenekte nezaket kurallarına uygun olmayan bir ifade vardır?

- A) Kalemimi kullanabilir miyim?
B) Özür dilerim, yanlışlıkla oldu.
C) Bana yardım edeceksin!

29- Aşağıdakilerden hangisi yaşamımızı sürdürürebilmek için karşılanması gereken ihtiyaçlarımızdan biri **değildir**?

- A)  B)  C) 

30- Akrabalık isimleri ile ilgili verilen eşleştirmelerden hangisi doğrudur?

- A) Annemizin kız kardeşi → yenge
B) Babamızın kız kardeşi → hala
C) Babamızın erkek kardeşi → dayı

Sınav bitmiştir.
Cevaplarımızı kontrol edelim.





2. SINIF GENEL DEĞERLENDİRME SINAVI - I

7-8 Kasım 2024



Adı Soyadı : Sınıfı : No :

- | | | |
|-----------------|-----------------|-----------------|
| 1- (A) (B) (C) | 11- (A) (B) (C) | 21- (A) (B) (C) |
| 2- (A) (B) (C) | 12- (A) (B) (C) | 22- (A) (B) (C) |
| 3- (A) (B) (C) | 13- (A) (B) (C) | 23- (A) (B) (C) |
| 4- (A) (B) (C) | 14- (A) (B) (C) | 24- (A) (B) (C) |
| 5- (A) (B) (C) | 15- (A) (B) (C) | 25- (A) (B) (C) |
| 6- (A) (B) (C) | 16- (A) (B) (C) | 26- (A) (B) (C) |
| 7- (A) (B) (C) | 17- (A) (B) (C) | 27- (A) (B) (C) |
| 8- (A) (B) (C) | 18- (A) (B) (C) | 28- (A) (B) (C) |
| 9- (A) (B) (C) | 19- (A) (B) (C) | 29- (A) (B) (C) |
| 10- (A) (B) (C) | 20- (A) (B) (C) | 30- (A) (B) (C) |

Sonuç Doğru: Yanlış: Boş: Puan:

Telegram kanalımız için görsele tıklayınız.

HER ŞEY YARINLARIMIZ İÇİN

HASAN YILDIRIM



2. SINIF GENEL DEĞERLENDİRME SINAVI - I

7-8 Kasım 2024



Adı Soyadı : Sınıfı : No :

- | | | |
|-----------------|-----------------|-----------------|
| 1- (A) (B) (C) | 11- (A) (B) (C) | 21- (A) (B) (C) |
| 2- (A) (B) (C) | 12- (A) (B) (C) | 22- (A) (B) (C) |
| 3- (A) (B) (C) | 13- (A) (B) (C) | 23- (A) (B) (C) |
| 4- (A) (B) (C) | 14- (A) (B) (C) | 24- (A) (B) (C) |
| 5- (A) (B) (C) | 15- (A) (B) (C) | 25- (A) (B) (C) |
| 6- (A) (B) (C) | 16- (A) (B) (C) | 26- (A) (B) (C) |
| 7- (A) (B) (C) | 17- (A) (B) (C) | 27- (A) (B) (C) |
| 8- (A) (B) (C) | 18- (A) (B) (C) | 28- (A) (B) (C) |
| 9- (A) (B) (C) | 19- (A) (B) (C) | 29- (A) (B) (C) |
| 10- (A) (B) (C) | 20- (A) (B) (C) | 30- (A) (B) (C) |

Sonuç Doğru: Yanlış: Boş: Puan:

Telegram kanalımız için görsele tıklayınız.

HER ŞEY YARINLARIMIZ İÇİN

HASAN YILDIRIM



2. SINIF GENEL DEĞERLENDİRME SINAVI - I

7-8 Kasım 2024



CEVAP ANAHTARI

SORU	CEVAP	DERS	KONU
1	A	TÜRKÇE	Okuma-Anlama
2	B	TÜRKÇE	Okuma-Anlama
3	B	TÜRKÇE	Okuma-Anlama
4	A	TÜRKÇE	Harf Bilgisi
5	B	TÜRKÇE	Alfabemiz
6	C	TÜRKÇE	Hece Bilgisi ve Ünlü Harfler
7	A	TÜRKÇE	Satır Sonuna Sığmayan Sözcükler
8	B	TÜRKÇE	Sözcük Bilgisi
9	C	TÜRKÇE	Sözlük Sırası
10	C	TÜRKÇE	Sözcüklerin Çağrışımları
11	A	MATEMATİK	Doğal Sayılar
12	B	MATEMATİK	Deste ve Düzine
13	A	MATEMATİK	Onluk ve Birlik
14	B	MATEMATİK	Basamak Değeri
15	C	MATEMATİK	Ritmik Sayma
16	A	MATEMATİK	Sayı Örüntüleri
17	B	MATEMATİK	Karşılaştırma ve Sıralama
18	B	MATEMATİK	Onluğa Yuvarlama
19	C	MATEMATİK	Toplama İşlemi
20	A	MATEMATİK	Çıkarma İşlemi
21	A	HAYAT BİLGİSİ	Aynaya Bakıyorum
22	B	HAYAT BİLGİSİ	Farklılıklar Güzeldir
23	A	HAYAT BİLGİSİ	Ders Araç Gereçlerim
24	A	HAYAT BİLGİSİ	Benim de Fikrim Var
25	C	HAYAT BİLGİSİ	Okul Yolu
26	A	HAYAT BİLGİSİ	Kaynaklar Tükenmesin
27	B	HAYAT BİLGİSİ	Birlikte Yaşıyoruz
28	C	HAYAT BİLGİSİ	Nezaket Kuralları
29	C	HAYAT BİLGİSİ	Tutumlu Olmak
30	B	HAYAT BİLGİSİ	Aile Albümlerimiz